

**แนวข้อสอบ**  
**นายสิบตำรวจ**  
**1,500 ข้อ**  
**พร้อมเฉลย**

# กระดาษคำตอบ

# NINE100.COM

## คำแนะนำ

- ใช้ดินสอดำ 2B ขึ้นไป ระบายวงกลมทุกวงที่ต้องการให้คำตอบ
- ถ้าต้องการแก้ไข ให้ใช้ยางลบลบให้สะอาดก่อน จึงระบายวงใหม่
- ห้ามขีดเขียนสิ่งอื่นใดนอกเหนือจากที่ระบุไว้

## ตัวอย่าง

- 1  2  3  4 ← ถูกวิธี  
 1  2  3  4 ← ผิดวิธี  
 1  2  3  4 ← ผิดวิธี  
 1  2  3  4 ← ผิดวิธี

- |    |   |   |   |   |    |   |   |   |   |    |   |   |   |   |     |   |   |   |   |     |   |   |   |   |     |   |   |   |   |
|----|---|---|---|---|----|---|---|---|---|----|---|---|---|---|-----|---|---|---|---|-----|---|---|---|---|-----|---|---|---|---|
| 1  | ① | ② | ③ | ④ | 26 | ① | ② | ③ | ④ | 51 | ① | ② | ③ | ④ | 76  | ① | ② | ③ | ④ | 101 | ① | ② | ③ | ④ | 126 | ① | ② | ③ | ④ |
| 2  | ① | ② | ③ | ④ | 27 | ① | ② | ③ | ④ | 52 | ① | ② | ③ | ④ | 77  | ① | ② | ③ | ④ | 102 | ① | ② | ③ | ④ | 127 | ① | ② | ③ | ④ |
| 3  | ① | ② | ③ | ④ | 28 | ① | ② | ③ | ④ | 53 | ① | ② | ③ | ④ | 78  | ① | ② | ③ | ④ | 103 | ① | ② | ③ | ④ | 128 | ① | ② | ③ | ④ |
| 4  | ① | ② | ③ | ④ | 29 | ① | ② | ③ | ④ | 54 | ① | ② | ③ | ④ | 79  | ① | ② | ③ | ④ | 104 | ① | ② | ③ | ④ | 129 | ① | ② | ③ | ④ |
| 5  | ① | ② | ③ | ④ | 30 | ① | ② | ③ | ④ | 55 | ① | ② | ③ | ④ | 80  | ① | ② | ③ | ④ | 105 | ① | ② | ③ | ④ | 130 | ① | ② | ③ | ④ |
| 6  | ① | ② | ③ | ④ | 31 | ① | ② | ③ | ④ | 56 | ① | ② | ③ | ④ | 81  | ① | ② | ③ | ④ | 106 | ① | ② | ③ | ④ | 131 | ① | ② | ③ | ④ |
| 7  | ① | ② | ③ | ④ | 32 | ① | ② | ③ | ④ | 57 | ① | ② | ③ | ④ | 82  | ① | ② | ③ | ④ | 107 | ① | ② | ③ | ④ | 132 | ① | ② | ③ | ④ |
| 8  | ① | ② | ③ | ④ | 33 | ① | ② | ③ | ④ | 58 | ① | ② | ③ | ④ | 83  | ① | ② | ③ | ④ | 108 | ① | ② | ③ | ④ | 133 | ① | ② | ③ | ④ |
| 9  | ① | ② | ③ | ④ | 34 | ① | ② | ③ | ④ | 59 | ① | ② | ③ | ④ | 84  | ① | ② | ③ | ④ | 109 | ① | ② | ③ | ④ | 134 | ① | ② | ③ | ④ |
| 10 | ① | ② | ③ | ④ | 35 | ① | ② | ③ | ④ | 60 | ① | ② | ③ | ④ | 85  | ① | ② | ③ | ④ | 110 | ① | ② | ③ | ④ | 135 | ① | ② | ③ | ④ |
| 11 | ① | ② | ③ | ④ | 36 | ① | ② | ③ | ④ | 61 | ① | ② | ③ | ④ | 86  | ① | ② | ③ | ④ | 111 | ① | ② | ③ | ④ | 136 | ① | ② | ③ | ④ |
| 12 | ① | ② | ③ | ④ | 37 | ① | ② | ③ | ④ | 62 | ① | ② | ③ | ④ | 87  | ① | ② | ③ | ④ | 112 | ① | ② | ③ | ④ | 137 | ① | ② | ③ | ④ |
| 13 | ① | ② | ③ | ④ | 38 | ① | ② | ③ | ④ | 63 | ① | ② | ③ | ④ | 88  | ① | ② | ③ | ④ | 113 | ① | ② | ③ | ④ | 138 | ① | ② | ③ | ④ |
| 14 | ① | ② | ③ | ④ | 39 | ① | ② | ③ | ④ | 64 | ① | ② | ③ | ④ | 89  | ① | ② | ③ | ④ | 114 | ① | ② | ③ | ④ | 139 | ① | ② | ③ | ④ |
| 15 | ① | ② | ③ | ④ | 40 | ① | ② | ③ | ④ | 65 | ① | ② | ③ | ④ | 90  | ① | ② | ③ | ④ | 115 | ① | ② | ③ | ④ | 140 | ① | ② | ③ | ④ |
| 16 | ① | ② | ③ | ④ | 41 | ① | ② | ③ | ④ | 66 | ① | ② | ③ | ④ | 91  | ① | ② | ③ | ④ | 116 | ① | ② | ③ | ④ | 141 | ① | ② | ③ | ④ |
| 17 | ① | ② | ③ | ④ | 42 | ① | ② | ③ | ④ | 67 | ① | ② | ③ | ④ | 92  | ① | ② | ③ | ④ | 117 | ① | ② | ③ | ④ | 142 | ① | ② | ③ | ④ |
| 18 | ① | ② | ③ | ④ | 43 | ① | ② | ③ | ④ | 68 | ① | ② | ③ | ④ | 93  | ① | ② | ③ | ④ | 118 | ① | ② | ③ | ④ | 143 | ① | ② | ③ | ④ |
| 19 | ① | ② | ③ | ④ | 44 | ① | ② | ③ | ④ | 69 | ① | ② | ③ | ④ | 94  | ① | ② | ③ | ④ | 119 | ① | ② | ③ | ④ | 144 | ① | ② | ③ | ④ |
| 20 | ① | ② | ③ | ④ | 45 | ① | ② | ③ | ④ | 70 | ① | ② | ③ | ④ | 95  | ① | ② | ③ | ④ | 120 | ① | ② | ③ | ④ | 145 | ① | ② | ③ | ④ |
| 21 | ① | ② | ③ | ④ | 46 | ① | ② | ③ | ④ | 71 | ① | ② | ③ | ④ | 96  | ① | ② | ③ | ④ | 121 | ① | ② | ③ | ④ | 146 | ① | ② | ③ | ④ |
| 22 | ① | ② | ③ | ④ | 47 | ① | ② | ③ | ④ | 72 | ① | ② | ③ | ④ | 97  | ① | ② | ③ | ④ | 122 | ① | ② | ③ | ④ | 147 | ① | ② | ③ | ④ |
| 23 | ① | ② | ③ | ④ | 48 | ① | ② | ③ | ④ | 73 | ① | ② | ③ | ④ | 98  | ① | ② | ③ | ④ | 123 | ① | ② | ③ | ④ | 148 | ① | ② | ③ | ④ |
| 24 | ① | ② | ③ | ④ | 49 | ① | ② | ③ | ④ | 74 | ① | ② | ③ | ④ | 99  | ① | ② | ③ | ④ | 124 | ① | ② | ③ | ④ | 149 | ① | ② | ③ | ④ |
| 25 | ① | ② | ③ | ④ | 50 | ① | ② | ③ | ④ | 75 | ① | ② | ③ | ④ | 100 | ① | ② | ③ | ④ | 125 | ① | ② | ③ | ④ | 150 | ① | ② | ③ | ④ |

## NINE100.COM

ทดสอบความรู้ความสามารถ ด้วยวิธีสอบข้อเขียน ข้อสอบปรนัย 4 ตัวเลือก

1.  $1+2+3+4+\dots+50 = ?$

1. 1200

2. 1225

3. 1250

4. 1275

2.  $50+51+52+\dots+100 = ?$

1. 3820

2. 3825

3. 3845

4. 3875

3. A มีเงิน  $\frac{3}{4}$  ของ B และ C มีเงิน  $\frac{4}{7}$  ของ A ถ้า B มีเงินมากกว่า C อยู่ 36 บาท แล้ว A มีเงินกี่บาท

1. 27.50

2. 36

3. 47.25

4. 63

4. จำนวน 2 จำนวน มีค่าต่างกันเท่ากับ 2 และมีผลรวมเท่ากับ 30 สองเท่าของจำนวนที่มีค่าน้อยตรงกับข้อใด

1. 26

2. 28

3. 30

4. 32

5. ปี พ.ศ.2554 แม่ค้าขายขนมสอดไส้ในราคา 3 ห่อ 10 บาท ต่อมาปี พ.ศ.2555 แม่ค้าขายขนมสอดไส้ในราคา 4 ห่อ 20 บาท แม่ค้าขึ้นราคาขนมสอดไส้กี่เปอร์เซ็นต์

1. 30%

2. 40%

3. 50%

4. 60%

6. ห้องสมุดแห่งหนึ่ง มีหนังสือประเภทนวนิยายคิดเป็น 28% ของหนังสือทั้งหมด ที่เหลือจะเป็นหนังสือประเภทอื่นที่ไม่ใช่นวนิยาย ถ้าห้องสมุดแห่งนี้มีหนังสือประเภทอื่นที่ไม่ใช่นวนิยายมากกว่านวนิยายอยู่ 1,980 เล่ม ห้องสมุดแห่งนี้มีหนังสือทั้งหมดกี่เล่ม

1. 3,600

2. 4,000

3. 4,500

4. 5,400

7. รูปสี่เหลี่ยมเหลี่ยม จะมีเส้นทแยงมุมกี่เส้น

1. 10 เส้น

2. 26 เส้น

3. 50 เส้น

4. 65 เส้น

8. นายเม้นมีเงินเดือน 4X จ่ายค่าเช่าบ้าน X เหลือเงิน 30,000 จงหาค่า X

- |           |           |
|-----------|-----------|
| 1. 40,000 | 2. 30,000 |
| 3. 20,000 | 4. 10,000 |

9. ผลรวมของเลขจำนวนเต็ม 7 ตัว เรียงกันมีค่า 1365 อยากทราบว่าจำนวนที่มากที่สุดคือ

- |        |        |
|--------|--------|
| 1. 199 | 2. 198 |
| 3. 197 | 4. 196 |

10. ถ้า  $4*2 = 3$

และ  $5*1 = 3$

แล้ว  $2*6 = ?$

- |      |      |
|------|------|
| 1. 4 | 2. 6 |
| 3. 2 | 4. 8 |

11. สี่เหลี่ยมผืนผ้าความกว้าง 20.5 นิ้ว ความยาว 42.75 นิ้ว ถ้าความกว้างเพิ่มขึ้น 10% แต่ความยาวลดลง 10% พื้นที่จะเป็นอย่างไร

- |             |                 |
|-------------|-----------------|
| 1. เท่าเดิม | 2. เพิ่มขึ้น 1% |
| 3. ลดลง 1%  | 4. ลดลง 4%      |

12. พ่อมีเงิน 1,400 บาท แบ่งให้พี่คนโต 7 ส่วน ให้ลูกคนกลางและคนเล็ก 7 ส่วน โดยคนกลางได้มากกว่าคนเล็ก 300 บาท อยากทราบว่าลูกคนเล็กได้เงินกี่บาท

- |            |            |            |            |
|------------|------------|------------|------------|
| 1. 200 บาท | 2. 300 บาท | 3. 400 บาท | 4. 500 บาท |
|------------|------------|------------|------------|

13. นายปรีชา ได้รับดอกเบี้ยจากธนาคาร 500 บาท อัตราดอกเบี้ย 5% ต่อปีเป็นเวลา 1 ปี อยากทราบว่านายปรีชา นำเงินไปฝากธนาคารเท่าไร

- |           |           |
|-----------|-----------|
| 1. 8,000  | 2. 10,000 |
| 3. 12,000 | 4. 15,000 |

14. ครอบครัวหนึ่งมีสมาชิก 6 คน ถ้าครอบครัวนี้มีอายุเฉลี่ย 27 ปี แล้วอีก 4 ปีข้างหน้าครอบครัวนี้จะมีอายุเฉลี่ยเท่ากับเท่าใด

- |          |          |
|----------|----------|
| 1. 27 ปี | 2. 29 ปี |
| 3. 31 ปี | 4. 33 ปี |

15. ซื้อส้มมา 1 เข่งๆละ 250 บาท ขายได้ 10 กิโลกรัม หากขายส้มกิโลกรัมละ 45 บาท จะได้อะไรกี่เปอร์เซ็นต์

- 1. 20%
- 2. 40%
- 3. 60%
- 4. 80%

16. เลข 2 จำนวน มี ห.ร.ม. เป็น 45 ค.ร.น. เป็น 1,080 โดยเลขจำนวนหนึ่งเป็น 360 จงหาเลขอีกจำนวนเป็นเท่าไร

- 1. 135
- 2. 225
- 3. 225
- 4. 270

17. นักเรียน 10 คนจับมือกันทุกคนนับรวมกันจะได้ทั้งหมดกี่ครั้ง

- 1. 50 ครั้ง
- 2. 45 ครั้ง
- 3. 90 ครั้ง
- 4. 95 ครั้ง

18. ถ้าอัตราเร็วของจักรยานเป็น  $\frac{3}{7}$  เท่าของอัตราเร็วของมอเตอร์ไซค์ เมื่อจักรยานแล่นได้ระยะทาง 7.5

กิโลเมตร อยากทราบว่ามอเตอร์ไซค์จะแล่นได้ระยะทางมากกว่าจักรยานกี่กิโลเมตร

- 1. 7
- 2. 10
- 3. 12.5
- 4. 17.5

19. ปัจจุบัน เด็กมีอายุ 5 ปี ต่อกมีอายุอ่อนกว่าตัว 13 ปี เมื่อปีที่แล้วอายุของตัวเป็น 2 เท่าของผลบวกของอายุของต๊อกและเด็ก ปัจจุบันต๊อกอายุกี่ปี

- 1. 3
- 2. 5
- 3. 6
- 4. 7

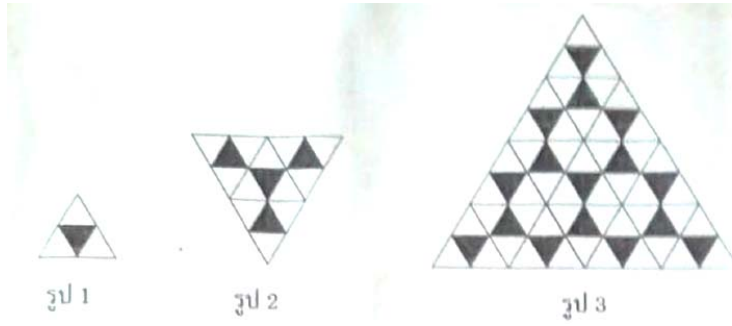
20. รูปสี่เหลี่ยมมุมฉากรูปหนึ่ง มีพื้นที่ 270 ตารางเมตร ถ้ารูปสี่เหลี่ยมมุมฉากนี้มีความยาว 18 เมตร แล้วความยาวรอบรูปของสี่เหลี่ยมมุมฉากนี้เป็นเท่าไร

- 1. 33 เมตร
- 2. 60 เมตร
- 3. 66 เมตร
- 4. 72 เมตร

21. ชุดเครื่องเท้าคู่นึงราคา 1,000 บาท ถ้าชุดต้องการขายรองเท้าคู่นี้ให้ได้กำไรร้อยละ 10 แล้วชุดจะต้องขายรองเท้าคู่นี้ไปในราคาเท่าไหร่

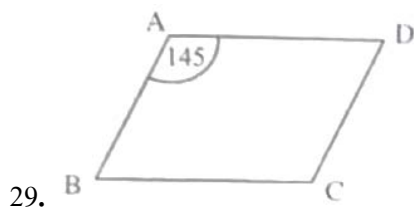
- 1. 1,100
- 2. 1,200
- 3. 1,300
- 4. 1,400





28. จากรูปดังกล่าว พิจารณาว่า รูปที่ 6 จะมี  ทั้งหมดกี่รูป

- |              |              |
|--------------|--------------|
| 1. 768 รูป   | 2. 1,024 รูป |
| 3. 2,244 รูป | 4. 3,072 รูป |



29. จากรูป ABCD เป็นรูปสี่เหลี่ยมด้านขนาน จงหา  $\angle C$

- |               |               |
|---------------|---------------|
| 1. $25^\circ$ | 2. $35^\circ$ |
| 3. $40^\circ$ | 4. $45^\circ$ |

30. ในการแข่งขันฟุตบอลจำนวนครั้งที่ชนะต่อจำนวนครั้งที่ลงแข่งขันเป็น 3 ต่อ 4 ถ้าลงแข่ง 32 ครั้ง ผลการแข่งขันที่แพ้เป็นเท่าใด

- |       |       |
|-------|-------|
| 1. 1  | 2. 8  |
| 3. 10 | 4. 12 |

31. ถ้า  $x:y:z = 11:3:1$  และ  $x-y+z = 45$  แล้ว  $x+y+z$  มีค่าเท่าใด

- |       |       |
|-------|-------|
| 1. 60 | 2. 65 |
| 3. 70 | 4. 75 |

32. ลูกเสือหมู่หนึ่งยื่นเข้าแถวเรียงเป็นรูปสามเหลี่ยมโดยให้ แถวที่ 1 มี 1 คน แถวต่อมาเพิ่มขึ้นแถวละ 1 คน ปรากฏว่าแถวสุดท้ายมี 15 คน อยากทราบว่าลูกเสือมีทั้งหมดกี่คน

- |           |           |
|-----------|-----------|
| 1. 120 คน | 2. 125 คน |
| 3. 130 คน | 4. 135 คน |

33. ก่อตั้งสี่เหลี่ยมจัตุรัสมีความยาวของเส้นขอบทุกเส้นรวมกันเท่ากับ 60 นิ้ว ถ้ามว่ากล่องใบดังกล่าวมีปริมาตรเท่ากับลูกบาศก์นิ้ว

- |        |        |
|--------|--------|
| 1. 64  | 2. 125 |
| 3. 216 | 4. 512 |

34. 30% ของ 120 ต่างจาก 25% ของ 200 เท่าไร

- |       |       |       |       |
|-------|-------|-------|-------|
| 1. 10 | 2. 12 | 3. 14 | 4. 16 |
|-------|-------|-------|-------|

35. นักเรียนห้องหนึ่งมี 52 คน เลือกเรียนวิชาภาษาอังกฤษ 30 คน เลือกเรียนวิชาคณิตศาสตร์และวิชาภาษาอังกฤษ 17 คน และนักเรียนทุกคนเลือกเรียนอย่างน้อย 1 วิชา มีนักเรียนกี่คนที่เลือกเรียนวิชาคณิตศาสตร์

- |          |          |          |          |
|----------|----------|----------|----------|
| 1. 22 คน | 2. 35 คน | 3. 39 คน | 4. 41 คน |
|----------|----------|----------|----------|

36. นักเรียน 12 คน ใส่แว่นตา 8 คน ใส่นาฬิกา 6 คน จงหาว่ามีนักเรียนกี่คนที่ใส่ทั้งแว่นตาและนาฬิกา

- |      |      |
|------|------|
| 1. 1 | 2. 2 |
| 3. 3 | 4. 4 |

37. ลูกเต๋าลูกหนึ่งมีความยาวขอบ ทุกด้านรวมกันเป็น 72 เซนติเมตร อยากทราบว่ามีปริมาตรของลูกเต๋านี้เป็นเท่าใด

- |               |               |
|---------------|---------------|
| 1. 125 ลบ.ซม. | 2. 216 ลบ.ซม. |
| 3. 343 ลบ.ซม. | 4. 512 ลบ.ซม. |

38. เลขใดมีค่ามากที่สุด

- |              |              |
|--------------|--------------|
| 1. $2^{125}$ | 2. $8^{60}$  |
| 3. $4^{75}$  | 4. $16^{40}$ |

39. ถ้า  $|2x+4| = |x-5|$  แล้ว  $x$  มีค่าเท่าใด

- |                          |                           |
|--------------------------|---------------------------|
| 1. -9 หรือ $\frac{1}{3}$ | 2. 9 หรือ $\frac{1}{3}$   |
| 3. 9 หรือ $-\frac{1}{3}$ | 4. -9 หรือ $-\frac{1}{3}$ |



40. ถ้า  $3*4 = 11$

และ  $4*1 = 6$

แล้ว  $4*3 = ?$

1. 10

2. 11

3. 12

4. 16

41. ข้อใดเป็นคำซ้อนเพื่อความหมายทุกคำ

1. ไหญ่โต โยววย

2. โซเซ อับจน

3. ผลักไส โหวกเหวก

4. กักขัง ดึงดัน

42. ข้อใดเป็นคำมูลทั้งหมด

1. ช้างเผือก น้ำตาล อร่อย

2. จระเข้ กะละมัง อากาศ

3. จำปี จำปา จำไ้

4. ทวีป ดาวตก นาฬิกา

43. ข้อใดใช้คำกระชับ

1. ฉันมองดวงดาวบนท้องฟ้ายามราตรีทุกคำกั้นเมื่อฟ้ามีดลงปราศจากแสงอื่น

2. บางคืนฉันอาจมองเห็นดวงดาวมากมายหลากหลาย ต่างชนิดต่างขนาด

3. ในวันนี้จะมีการมอบรางวัลสุพรรณหงส์ทองคำที่โรงละครแห่งชาติ

4. รางวัลลูกโลกทองคำเป็นรางวัลที่ดารารหลายคนหมายปองมุ่งหวังจะครอบครอง

44. ข้อใดสื่อภาพและเสียงได้เด่นชัดที่สุด

1. กบกระโดดโยกเยกอย่างทุกอย่างเดิน เขยื้อนเขินชอบขวยขวยขวยกาย

2. เจื่อมดลิ่งจิ้งจามตระหง่านยอด ระกะกอดเกะกะกิ้งไสว

3. ยามกระสอบกรอบแกรบกระไกรกริก กลักพริกพลิกแพลงตะแคงหงาย

4. ทั้งจากที่จากคลองเป็นสองซ้อ ยังจากจากอนันท์ขึ้นในครองขวาง

45. ข้อใดเป็นความหมายของคำประสม

1. นำคำที่ไม่มีมีความหมายมารวมกัน

2. นำคำที่มีความหมายต่างกันมารวมกัน

3. นำคำที่มีความหมายเหมือนกันมารวมกัน

4. นำคำที่มีความหมายตรงกันข้ามกันมารวมกัน

46. ข้อใดเป็นคำเป็นทุกคำ

1. แต่อย่างย้ายทรายฝุ่นขย่นยุบ
2. ยิ่งเหยียบฟุบขาแข็งให้แข็งจึง
3. ยิ่งจวนเย็นเส้นตายให้ตายตั้ง
4. คูเหมือนหนึ่งเหยียบ โคลนให้โอนเอน

47. ข้อใดใช้คำสำนวนบอกความสัมพันธ์ของประโยคแตกต่างจากข้ออื่น

1. ฉัน ไปรอเธอตั้งนานก็ไม่เห็นมา เลยกลับบ้าน
2. สักดาหนี่ไม่ว่างต้องไปเมืองเพชรฯ จึงต้องลาออกจากงาน
3. เขาต้องดูแลพ่อที่ป่วยหนัก จึงต้องลาออกจากงาน
4. แม่ทำงานหนักมาตั้งแต่เด็ก จนไม่มีเวลาดูแลสุขภาพตัวเอง

48. ข้อใดใช้สำนวนไม่ถูกต้อง

1. นายตำรวจ 2 นายเข้ากันได้เป็นปีเป็นขลุ่ย
2. เพื่อให้เกิดความกระจ่างชัดลึงตุ้แจ่งสี่เบี้ยแก่นักข่าว
3. เรื่องนี้เธอตะกระไดพลอยโจนไปกับเขาด้วย ทั้งๆที่ไม่มีเจตนาทำผิด
4. การทำความดีแบบคงเส้นคงวาแสดงถึงคุณภาพความคิดและจิตใจของผู้กระทำ

49. “ดอกนมแมว” คำสุภาพคือ

- |                |                 |
|----------------|-----------------|
| 1. ดอกก้นพาร์  | 2. ดอกช่อนกลิ่น |
| 3. ดอกผักสามหา | 4. ดอกมณฑาขาว   |

50. “ผักปอด” คำสุภาพ คือ

- |                |              |
|----------------|--------------|
| 1. ผักบ๊วยผาสะ | 2. ผักตบ     |
| 3. ผักกระเฉด   | 4. ผักนางรีน |

51. ชื่อกีฬาประเภทใดเป็นคำที่มาจากภาษาอังกฤษ

- |              |           |
|--------------|-----------|
| 1. ยูโด      | 2. กรีฑา  |
| 3. บาสเกตบอล | 4. ตะกร้อ |

52. คำประพันธ์ต่อไปนี้ไม่ใช่กลวิธีตามข้อใด

“พระคุณดวงเพียบพื้น ภูวดล

เต็มดรดลดแหล่งบน บ่อนใต้

พระเกิดพระก่อชนม์ ชุบชีพ มานา

เกรงบ่ทันลูกได้ กลับเต้าตอบสนอง”

- |              |                  |
|--------------|------------------|
| 1. บุคคลวัต  | 2. อติพจน์       |
| 3. แผลงศัพท์ | 4. สัมผัสพยัญชนะ |

53. ข้อใดเหมาะสมที่จะเติมในช่องว่างที่กำหนดให้

นุช : แนน เสาร์นี้เธอทำอะไรรีป่าวจะ ไปเดินห้างกันไหม

แนน : .....

นุช : ก็ได้จะ ดีเหมือนกัน เราไม่ค่อยได้ไป เจอกัน 10 โมงนะ

1. ไม่ชอบเลยห้าง ขวนขวายป่านไปเถอะ
2. ไปทำไมกันห้าง ถ้าไปที่อื่นค่อน่าสนใจหน่อย
3. ไปห้างอีกแล้วหรอ มีแต่ของซ้ำๆ ไปตลาดน้ำดีกว่า
4. ว่าจะไปซื้อของสักหน่อย ตอนค่ำ จะมีงานเลี้ยงที่บ้าน

54. บทประพันธ์ต่อไปนี้ข้อใดมีการใช้โวหารแบบสัญลักษณ์

- |                           |                                 |
|---------------------------|---------------------------------|
| 1. โอ้แต่อกวันทองเอ๋ย     | 2. ไม่ควรเลยที่จะแหลกลเป็นผุยผง |
| 3. จะครองตัวไว้โยให้คืนคง | 4. เสมือนหงส์ปีกหักลงปลัดดม     |

55. คำซ้ำในข้อใดแสดงความเป็นพหูพจน์

- |                             |                        |
|-----------------------------|------------------------|
| 1. เอาหนังสือไปวางเป็นชั้นๆ | 2. เด็กๆไปเรียนหนังสือ |
| 3. เขาพูดได้งูๆปลาๆ         | 4. เราไม่ทานอาหารพื้นๆ |

56. ข้อใดใช้ลักษณะนามไม่ถูกต้อง

1. วนอุทยานแห่งชาติภาคกลางมีจำนวน 10 แห่ง
2. สามเณรองค์นี้บรรพชามาตั้งแต่ต้นปีเป็นผู้ปฏิบัติดีปฏิบัติชอบ
3. มีด จอบ เสียมและกรรไกรทุกเล่มเป็นของมีคมต้องใช้อย่างระมัดระวัง
4. คุณเจน ญาณติบ นั่งสมาธิแล้วบอกว่ามีดวงวิญญาณหลายดวงรอรับบุญกุศลอยู่

57. ความสุขไม่ได้หมายถึงเสวยฉันทหรือราชบัลลังก์ ตรงกันข้ามศิระะใครมีมังกุญครอบศิระะนั้นนั้น ไม่มี  
ความสุขเลยชนิดเดียว ศิลปะในการครองชีพอย่างมีความสุขมีแต่เพียงว่าข้อใดไม่ใช่ทรศนะเกี่ยวกับความสุข  
ของผู้เขียน

1. อำนาจวาสนาไม่ได้ทำให้คนมีความสุข
2. ความสุขมีอยู่ทั่วไป แต่ไม่ใช่สิ่งที่หายาก
3. ความสุขหาง่าย แต่ต้องคอยเวลาและโอกาส
4. เมื่อมีโอกาสต้องรีบตัดดวงความสุข

58. ข้อใดเป็นภาษาระดับทางการทุกคำ

1. ออกบัตรเชิญ – รคน้ำแต่งงาน – คู่สมรส
2. รถประจำทาง – คนใช้รถใช้ถนน – ช่องเดินรถประจำทาง
3. ประธานในพิธี – องค์ปาฐก – สถิติเกียรติคุณ
4. จบการศึกษา – สัมฤทธิ์ผล – ประสาทปริญญาบัตร

59. ข้อใดเป็นคำสุภาพ

- |                 |               |
|-----------------|---------------|
| 1. มะเขืองาช้าง | 2. ต้นทองกวาว |
| 3. ขนมหี่หนู    | 4. ขนมหาด     |

60. ข้อใดใช้ถ้อยคำฟุ่มเฟือย

1. การจรรยาจรติดขัดมาก เพราะเป็นวันเปิดภาคเรียน
2. ตำรวจเข้าทำการจับกุมผู้ต้องกาลติปลันทรัพย์หลังทำการติดตามมานาน
3. อดีตข้าราชการชั้นผู้ใหญ่ร่วมมือกับเจ้าของบริษัทก่อสร้างก้วานซื้อที่ดินของชวานา
4. ผู้อำนวยการสำนักผังเมืองชี้แจงถึงความก้าวหน้าในการจัดสร้าง “สวนนคราภิรมย์”

61. ข้อใดกล่าวถึงข้อสังเกตลักษณะของคำที่มาจากภาษาเขมรได้ถูกต้อง

1. เป็นคำที่สะกดตรงตามมาตรา
2. มักมีคำควบกล้ำ
3. มีวรรณยุกต์หลากหลาย
4. ส่วนใหญ่มักจะเป็นคำราชาศัพท์

62. “ในกาแฟมีสารเคมีชื่อคาเฟอีน ซึ่งมีคุณสมบัติกระตุ้นทั้งด้านจิตใจและด้านประสาทร่างกายทำให้เกิดความสดชื่น คล่องแคล่ว ว่องไว ไม่ง่วงซึม ไม่ง่วงเหงาหาวนอน แต่สภาพดังกล่าวก็เป็นเพียงชั่วคราว บางคนดื่มกาแฟแล้วถึงกับนอนไม่กลับ เกิดอาการปวดศีรษะและระบบย่อยอาหารไม่ดี”

ประเด็นสำคัญกล่าวถึงเรื่องใด

1. ส่วนประกอบของกาแฟ
2. คุณและโทษของกาแฟ
3. สภาพร่างกายคนที่ดื่มกาแฟ
4. คุณสมบัติของกาแฟ

63. ข้อใดใช้ภาษาในการสื่อสารได้เหมาะสมที่สุด

1. “อาจารย์ฯ วันนี้อาจารย์แต่งตัวเก๋มากค่ะ” นักเรียนพูดกับครูเมื่อเข้าห้องสอน
2. “คุณแม่คะ วันเกิดปีนี้ลูกขอไปเดินกับเพื่อนๆ นะคะ” ลูกพูดกับแม่
3. “หัวหน้าครับ วันนี้ผมขอลาหยุดเพราะภรรยาผมป่วย” ลูกน้องพูดกับผู้บังคับบัญชา
4. “หนังเรื่องนี้ไม่น่าดูเลย ฉากก็ไม่ได้เรื่อง เนื้อหาที่ไร้สาระ” นักเรียนพูดรายงานหน้าชั้นให้เพื่อนๆ

และครูฟัง

64. ข้อใดไม่ใช่จุดเด่นของคำประพันธ์ต่อไปนี้

อันว่าโกสุมสโรชกีโรยราย่วงรสถมณุนวลผกาเกสร

หม่อมแมลงมาศภมรกีมีวมาเอาชาติละอองอันละเอียด

เสียดแทรกไซร์สร้อยเสาวคนธ์ขจร

หึ่งหึ่งบินวะวู้ออนร้อนรื่องอยู่โคจรอบขอบจตุรสระศรีมัน

1. การสรรหาคำ
2. ภาพชัดเจน
3. เสียงไพเราะ
4. เนื้อความลึกซึ้ง

65. ปัญหาของแรงงานในภาคธุรกิจอสังหาริมทรัพย์ไม่ใช่อยู่ที่การขาดแคลนแรงงานหรือค่าจ้างสูงเท่านั้น แต่อยู่ที่การพึ่งประสิทธิภาพของแรงงานมากกว่า ในอดีตนั้นแรงงานในการก่อสร้างไม่สามารถพัฒนาประเทศจำเป็นต้องมีการพัฒนาคนในงานส่วนนี้ต้องมีการจัดทรัพยากรบุคคลใหม่ ให้มีทักษะและต้องบำรุงคนเหล่านี้ไว้ให้ได้”

ข้อความข้างต้นใช้กลวิธีใดในการอธิบาย

1. การอธิบายตามลำดับขั้นตอน
2. การใช้ตัวอย่าง
3. การชี้สาเหตุและผลลัพธ์ที่สัมพันธ์กัน
4. การกล่าวซ้ำด้วยถ้อยคำที่แปลกออกไป

66. Whenever the old woman hears a sad story, she \_\_\_\_\_

- |               |              |
|---------------|--------------|
| 1. weeps      | 2. will weep |
| 3. is working | 4. has wept  |

67. I know the he \_\_\_\_\_ in the library at this moment.

- |               |                |
|---------------|----------------|
| 1. works      | 2. has worked  |
| 3. is working | 4. was working |

68. “Did Mary come here and visit?”

“She \_\_\_\_\_ twice since March 1974”

- |                 |                 |
|-----------------|-----------------|
| 1. visited here | 2. was visiting |
| 3. has visited  | 4. visited      |

69. A : I'll pick you up at the airport tonight.

B : \_\_\_\_\_

- |                        |                    |
|------------------------|--------------------|
| 1. Thank you very much | 2. Oh, my goodness |
| 3. Not at all          | 4. Absolutely      |

70. A : It's warm in here. Do you mind if I open the window?

B : \_\_\_\_\_

- |              |              |
|--------------|--------------|
| 1. I'm sorry | 2. Go ahead. |
| 3. Yes, I do | 4. Thank you |

71. You want to borrow your friend's dictionary. You ask, " \_\_\_\_\_ "

1. Can I lend you a dictionary
2. May I borrow your dictionary
3. May I borrow a dictionary
4. Can I lend your dictionary

72. We hunted for the pirate's buried \_\_\_\_\_

- |             |               |
|-------------|---------------|
| 1. treasure | 2. gloom      |
| 3. brood    | 4. abhorrence |

73. He \_\_\_\_\_ great treasures.

- |             |              |
|-------------|--------------|
| 1. forced   | 2. amassed   |
| 3. inferred | 4. initiated |

74. An encyclopedia has a \_\_\_\_\_ of information

- |                |             |
|----------------|-------------|
| 1. wealth      | 2. newborn  |
| 3. intelligent | 4. obstacle |

75. According to Yingluck's speech, the OIL price will be increased

- |         |         |
|---------|---------|
| 1. harm | 2. fule |
| 3. gas  | 4. film |

76. You should hand in your exercise now. It \_\_\_\_\_ an hour ago.

1. could have been done
2. should I do
3. should have been done
4. could do

77. One should take care of \_\_\_\_\_ if \_\_\_\_\_ can.

- |                      |                  |
|----------------------|------------------|
| 1. himself , one     | 2. herself , she |
| 3. themselves , they | 4. oneself , one |

78. Nowadays, the police \_\_\_\_\_ very strict because the traffic in Bangkok \_\_\_\_\_ complicate4.

- |             |               |
|-------------|---------------|
| 1. is, is   | 2. was , were |
| 3. are , is | 4. was , was  |

79. Anyone who does not do \_\_\_\_\_ work carefully will be in trouble.

- |          |           |
|----------|-----------|
| 1. his   | 2. theirs |
| 3. their | 4. one's  |

80. I stop ..... cigarette.

- |            |             |           |               |
|------------|-------------|-----------|---------------|
| 1. smoking | 2. to smoke | 3. smokes | 4. has smoked |
|------------|-------------|-----------|---------------|

81. I stop everything ..... golf tomorrow.

- |         |            |          |               |
|---------|------------|----------|---------------|
| 1. play | 2. to play | 3. plays | 4. has played |
|---------|------------|----------|---------------|

82. They \_\_\_\_\_ breakfast at seven o'clock.

- |             |               |
|-------------|---------------|
| 1. have not | 2. don't have |
| 3. have no  | 4. haven't    |

83. A: I would like some toast, please.

B: \_\_\_\_\_

- |                          |                              |
|--------------------------|------------------------------|
| 1. Get it yourself       | 2. Don't you eat it tomorrow |
| 3. How about a toad too? | 4. In a minute, sir          |

84. If you want to GAIN more money, you should work more and more.

- |           |           |          |             |
|-----------|-----------|----------|-------------|
| 1. ontain | 2. object | 3. obese | 4. obedient |
|-----------|-----------|----------|-------------|

85. Last night, I saw a car SMASH in fornt of my home.

- |              |              |
|--------------|--------------|
| 1. cooperate | 2. cocoon    |
| 3. collision | 4. co-worker |

86. It is IMPOETANT that you should listen to he lecture wisely.

- |              |          |
|--------------|----------|
| 1. good      | 2. worth |
| 3. necessary | 4. well  |

87. Stephen Gerrade is the best soccer player ..... I admire the most.

- |        |         |         |          |
|--------|---------|---------|----------|
| 1. who | 2. whom | 3. that | 4. which |
|--------|---------|---------|----------|

88. Obama is the man ..... American people feel like will be next president of USA.

- |        |         |         |          |
|--------|---------|---------|----------|
| 1. who | 2. whom | 3. that | 4. which |
|--------|---------|---------|----------|



89. A: Did you hear that the Pope is coming to town?

B: .....

1. Yes, I can hear about pipe on the radio.
2. Yes, I heard that on the news today.
3. No, I haven't know so much about him.
4. No, I could see him on Facebook.

90. A:.....?

B: Oh, Rick and I do way back. We studied nursing together.

1. Have you tried Rick's punch yet
2. Why aren't you dancing with Rick
3. How are you knowing Rick.
4. Did you hear that Rick is coming to town?

91. A: How do you find Rebacca?

B: I'm not used \_\_\_\_\_ novels.

- |               |            |
|---------------|------------|
| 1. be reading | 2. to read |
| 3. to reading | 4. read    |

92. You made me ..... everyday

- |           |           |        |              |
|-----------|-----------|--------|--------------|
| 1. to cry | 2. crying | 3. cry | 4. had cried |
|-----------|-----------|--------|--------------|

93. This book is too difficult .....

- |                  |               |              |               |
|------------------|---------------|--------------|---------------|
| 1. to understand | 2. understand | 3. ndersting | 4. understood |
|------------------|---------------|--------------|---------------|

94. .... is my favorite hobby.

- |            |         |            |               |
|------------|---------|------------|---------------|
| 1. To sing | 2. Sing | 3. Be sign | 4. Being sign |
|------------|---------|------------|---------------|

95..... is good for your health

- |        |            |         |          |
|--------|------------|---------|----------|
| 1. Jog | 2. Jogging | 3. Walk | 4. Swing |
|--------|------------|---------|----------|

96. Mr.Tawee is very kind,he always donates to .....

- |         |           |             |          |
|---------|-----------|-------------|----------|
| 1. poor | 2. a poor | 3. the poor | 4. poors |
|---------|-----------|-------------|----------|

97. The traffic jam prevented me from ..... to the class

1. to come                      2. come                      3. coming                      4. came

98. He thanks me for ..... after his son.

1. look                      2. to look                      3. looking                      4. looked

99. I get used to ..... up late

1. staying                      2. to stay                      3. stay                      4. has stay

100. You are thirst. You say to your friend ; .....

1. Do you have something to eat
2. Would you mind if I ask for some water?
3. I want some cake.
4. Why don't you give me some soft drinks?

101. You want to know what your British friend thinks of Thailand. You say .....

1. Have you ever been to Thailand?
2. How many times have you visited Thailand?
3. What do you think about Thailand?
4. Did you visit Thailand?

102. What can be inferred from the passage above?

1. You can dream of something.
2. If you can't dream it , you can't do it.
3. You can do everything you dream of.
4. If you can do it, you can dream it.

103. What can be inferred from the passage above.

1. You should try to be a rainbow after the rain.
2. You should try to be outstanding for someone
3. You could make a rainbow
4. You could make a cloud and rainbow with someone.

ข้อ 104 - 105

Scientists have known for a long time that vitamin D is essential for humans.

If children have a vitamin D or calcium deficiency, they can develop rickets, a softening of

The bones. New studies are showing that people of all ages need vitamin D to help them fight off diseases by keeping their immune systems strong.

104. If something is essential, it is \_\_\_\_\_.

- |             |              |
|-------------|--------------|
| 1. harmful  | 2. expensive |
| 3. dreadful | 4. needed    |

105. When you have a deficiency of something, you \_\_\_\_\_.

- |                      |                       |
|----------------------|-----------------------|
| 1. have all you need | 2. do not have enough |
| 3. have you need     | 4. do have enough     |

106. OS ย่อมาจากอะไร ในเรื่องระบบปฏิบัติการ

- |                      |                       |
|----------------------|-----------------------|
| 1. Operating system  | 2. Open system        |
| 3. Off – line system | 4. Opportunity System |

107. RAM คือหน่วยความจำที่เข้าถึงได้โดยสุ่ม ถ้ามว่า RAM ย่อมาจากอะไร

- |                       |                                  |
|-----------------------|----------------------------------|
| 1. Read access Memory | 2. Random Access Memory          |
| 3. Real Action Method | 4. Random Accumulate Measurement |

108. ข้อใดกล่าวถึงระบบสนับสนุนการตัดสินใจ (Decision Support System : DSS) ได้ถูกต้อง

- |                                    |  |
|------------------------------------|--|
| 1. ใช้โมเดลในการวิเคราะห์          | 2. เป็นระบบที่พัฒนามาจาก TPS           |
| 3. นำเสนอเฉพาะยอดรวมของสิ่งที่สนใจ | 4. ช่วยตัดสินใจขั้นสุดท้ายได้แทนผู้ใช้ |

109. ข้อใดคือภาษาเครื่อง

- |                      |          |
|----------------------|----------|
| 1. Machine language  | 2. BASIC |
| 3. Assembly language | 4. COBOL |

110. ข้อใดเป็นโปรแกรมแปลงภาษาคอมพิวเตอร์ให้เป็นภาษาเครื่อง

- |             |                     |
|-------------|---------------------|
| 1. Compiler | 2. Machine language |
| 3. BASIC    | 4. COBOL            |

111. E-mail Address คืออะไร

1. สมาชิกในกลุ่มส่งข้อมูล
2. ผู้หรือที่อยู่ที่ใช้เก็บเอกสารหรือข้อมูลที่ใช้ในการรับส่ง
3. รหัสในการแนบไฟล์
4. โปรแกรมการทำงาน

112. การส่งไฟล์หรือเอกสาร ไปกับ E-mail คือ

1. สมัครสมาชิกเพื่อมี E-mail address
2. การพิมพ์จดหมาย
3. การบันทึกไฟล์
4. การแนบไฟล์

113. การเชื่อมต่อเครือข่ายระหว่างเครื่องคอมพิวเตอร์ 2 เครื่อง ใช้อุปกรณ์ดังนี้ ยกเว้นข้อใด

1. สายสัญญาณ
2. หัวต่อสายสัญญาณ
3. การ์ดเครือข่าย
4. สวิตซ์ฮับ

114. เมาส์ (Mouse) เป็นอุปกรณ์ประเภทใด

1. Input
2. Output
3. Storage
4. Processing

115. ส่วนใดของคอมพิวเตอร์ทำหน้าที่ป้อนข้อมูล

1. Printer
2. Main Board
3. Keyboard
4. Speaker

116. สื่อที่เก็บข้อมูลข้อใดมีความจุมากที่สุด

1. CD
2. Hard Disk
3. Mouse
4. Floppy Disk

117. ซอฟต์แวร์ในข้อใด ไม่ใช่ระบบปฏิบัติการ

1. Linux
2. UNIX
3. Windows 2000
4. Microsoft Word

118. ข้อใดคือความหมายของคอมพิวเตอร์

1. เครื่องคำนวณอัตโนมัติ
2. เครื่องใช้สำนักงานอัตโนมัติรุ่นใหม่
3. อุปกรณ์อิเล็กทรอนิกส์อย่างหนึ่ง
4. เป็นแผงวงจรอิเล็กทรอนิกส์อย่างหนึ่ง

119. ระบบสารสนเทศที่มีการใช้ทั้งจดหมาย บันทึกข้อความ รูปภาพกราฟิก และควรเป็นรายงานสรุป ( Summary Reports ) กล่าวถึงระบบใด

1. ระบบสารสนเทศเพื่อการจัดการ
2. ระบบสารสนเทศสำหรับผู้บริหารระดับสูง
3. ระบบสนับสนุนการจัดสินใจ
4. ระบบการจัดการความรู้

120. เครือข่ายระดับต่อไปนี้ สามารถติดต่อส่งข้อมูลระหว่างเครื่องได้มากที่สุด

1. เครือข่าย MAN
2. เครือข่าย WAN
3. เครือข่าย LAN
4. เครือข่ายแบบ Star

จ. ทุกๆเครือข่ายสามารถส่งข้อมูลได้ไกลเหมือนกัน ซึ่งอยู่ที่สัญญาณ

121. Toner ของเครื่องพิมพ์เลเซอร์คืออะไร

1. ปืนเลเซอร์ ประสิทธิภาพต่ำ
2. หมึกพิมพ์ของเครื่องเลเซอร์
3. แทนป้อนกระดาษอัตโนมัติ
4. อุปกรณ์สร้างความร้อนชนิดพิเศษ

121. การตั้งค่าหน้าแรกในการเปิดเว็บไซต์เรียกว่าอะไร

- |               |            |
|---------------|------------|
| 1. First site | 2. History |
| 3.Home        | 4. Refresh |

123. ข้อมูล 8 บิตมีกี่ไบต์

- |           |           |
|-----------|-----------|
| 1. 1 ไบต์ | 2. 2 ไบต์ |
| 3. 3 ไบต์ | 4. 4 ไบต์ |

124. ข้อใดจัดเป็นข้อมูลทั้งหมด

1. รูปภาพดารา กระเป๋าทะเปลง
2. เกรดเฉลี่ย นามบัตร รายชื่อนักเรียน
3. กระดาษสี ป้ายโฆษณา แผ่นซีดีเพลง
4. หนังสือการ์ตูน รายชื่อผู้สมัคร สส. ใบเสร็จรับเงิน

125. ข้อใดไม่ใช่ลักษณะที่สำคัญของสารสนเทศ

1. รวดเร็วและทันต่อการใช้งาน
2. มีความถูกต้องตามลักษณะงานที่นำไปใช้
3. สามารถนำเสนอรูปแบบตามที่ใช้ต้องการได้เพียงรูปแบบเดียว
4. มีรายละเอียดที่จำเป็นมากพอในการตัดสินใจ

126. GUI คืออะไร ย่อมาจากอะไร

1. การติดต่อกับผู้ใช้ในแบบ Graphic (Graphic User Interface)
2. องค์กรควบคุมมาตรฐาน Graphic (Graphic Unique Information)
3. หน่วยงานต่อต้านภาพที่ไม่ได้มาตรฐาน (Graphic Undo International)
4. สมาคมควบคุมมาตรฐานภาพ (Graphic Universal International)

127. ข้อใดไม่ใช่อุปกรณ์เครือข่ายคอมพิวเตอร์

1. โพรคัพท์
2. สายสัญญาณ
3. เครื่องคอมพิวเตอร์
4. การ์ดเครือข่าย

128. การส่งสัญญาณแบบมีสัญญาณแบบใดที่มีความเร็วสูงสุด

1. สายโคแอกเชียล
2. สายคู่บิดเกลียว
3. สายใยแก้วนำแสง
4. สายแกนนำโลหะ

129. จากข้อต่อไปนี้เป็นข้อใดเป็นข้อดีในการใช้ฐานข้อมูลร่วมกันมากที่สุด

1. ลดความขัดข้องของข้อมูลและลดความซ้ำซ้อนในการเก็บข้อมูล
2. เพิ่มการออกแบบส่วนงานและโครงสร้างการควบคุมในตัว
3. ฐานข้อมูลมีคุณสมบัติเป็นสารสนเทศที่ดี
4. รวบรวมข้อมูลต่างๆ ได้ง่าย

130. ข้อใดเป็นระบบที่รวบรวมข้อมูลโดยอ้างอิงพิกัดภูมิศาสตร์ ช่วยในการแสดงผลและเรียกค้นข้อมูลได้รวดเร็ว

1. TPS
2. MIS
3. EIS
4. GIS

131. คนไร้ความสามารถทำนิติกรรมในข้อใดได้ หากผู้อนุญาตยินยอม

1. นิติกรรมที่เป็นการเฉพาะตัว
2. นิติกรรมที่เกี่ยวกับอสังหาริมทรัพย์
3. นิติกรรมที่ได้ไปซึ่งสิทธิ
4. นิติกรรมใดๆ ก็ได้ทั้งสิ้น

132. ต่อไปนี้คดีใดไม่อยู่ในอำนาจศาลปกครอง

1. การดำเนินการเกี่ยวกับวินัยทหาร
2. การดำเนินการของคณะกรรมการตุลาการกฎหมายว่าด้วยระเบียบของข้าราชการตุลาการ
3. คดีภาษีอากร
4. ถูกทุกข้อ

133. ผู้ใดกระทำชำเราผู้อื่น คำว่า “ผู้อื่น” หมายถึงใคร

- |                          |              |
|--------------------------|--------------|
| 1. ผู้หญิง               | 2. ผู้ชาย    |
| 3. ผู้ที่เบี่ยงเบนทางเพศ | 4. ถูกทุกข้อ |

134. นายดอนอายุ 18 ปี หมั้นกับนางสาวกีก้ออายุ 16 ปี โดยบิดามารดาของนางสาวกีก้อให้ความยินยอม เช่นนี้ การหมั้นของนางสาวกีก้อกับนายดอนจะมีผลอย่างไร

- |                |                              |
|----------------|------------------------------|
| 1. มีผลสมบูรณ์ | 2. มีผลโมฆียะ                |
| 3. มีผลโมฆะ    | 4. ขึ้นอยู่กับดุลพินิจของศาล |

135. ผู้ใดมีสิทธิแจ้งเกิดกรณีคนเกิดในบ้าน

- |                 |                |
|-----------------|----------------|
| 1. เจ้าบ้าน     | 2. บิดาของเด็ก |
| 3. มารดาของเด็ก | 4. ถูกทุกข้อ   |

136. ข้อใดที่ทำให้เกิดกฎหมายขึ้นได้

- |          |                 |            |                    |
|----------|-----------------|------------|--------------------|
| 1. ศาสนา | 2. จารีตประเพณี | 3. ศิลธรรม | 4. ผู้ปกครองประเทศ |
|----------|-----------------|------------|--------------------|

137. ข้อใดจัดเป็นกฎหมายสูงสุด

- |               |                 |
|---------------|-----------------|
| 1. กฎหมายแพ่ง | 2. กฎหมายอาญา   |
| 3. รัฐธรรมนูญ | 4. กฎหมายปกครอง |

138. นายดำรงเป็นลุงเขยของส้มโอ เมื่อป้าของน้ำสาวส้มโอดาย นายดำรงจึงจดทะเบียนสมรสกับนางสาวส้มโอ เช่นนี้การสมรสนั้นมีผลทางกฎหมายอย่างไร

- |                |                              |
|----------------|------------------------------|
| 1. มีผลสมบูรณ์ | 2. มีผลโมฆียะ                |
| 3. มีผลโมฆะ    | 4. ขึ้นอยู่กับดุลพินิจของศาล |

139. กฎหมายในข้อใดเป็นกฎหมายเกี่ยวข้องกับสิทธิ หน้าที่

- |               |                         |
|---------------|-------------------------|
| 1. กฎหมายแพ่ง | 2. กฎหมายปกครอง         |
| 3. กฎหมายอาญา | 4. กฎหมายแพ่งและพาณิชย์ |

140. กฎหมายที่กำหนดสิทธิ หน้าที่ และความรับผิดชอบของบุคคลเอาไว้ คือกฎหมายในข้อใด

- |                       |                     |
|-----------------------|---------------------|
| 1. กฎหมายเอกชน        | 2. กฎหมายมหาชน      |
| 3. กฎหมายวิธีสบัญญัติ | 4. กฎหมายสารบัญญัติ |

141. ในคริสต์ศตวรรษ 21 สังคมไทยมีแนวโน้มที่จะเป็นเช่นใด

1. จำนวนประชากรที่เป็นผู้สูงอายุจะน้อยลง
2. ค่านิยมของผู้ที่อาศัยอยู่ในเขตชนบทกับเขตเมืองจะแตกต่างกันน้อยลง
3. ครอบครัวแบบขยายจะมีจำนวนเพิ่มมากขึ้นทั้งในเขตชนบทและเขตเมือง
4. การย้ายถิ่นจากเมืองสู่ชนบทจะมีมากขึ้นเนื่องจากปัญหาของเมืองมีมากเกินไป

142. ข้อใดไม่จัดเป็นปัญหาสังคม

- |             |                    |              |             |
|-------------|--------------------|--------------|-------------|
| 1. โรคเอดส์ | 2. โรคทางเดินอาหาร | 3. ความยากจน | 4. ยาเสพติด |
|-------------|--------------------|--------------|-------------|

143. ปัญหาใดไม่เกี่ยวข้องกับศีลธรรม

- |                    |                             |
|--------------------|-----------------------------|
| 1. ปัญหาอาชญากรรม  | 2. ปัญหาการฉ้อราษฎร์บังหลวง |
| 3. ปัญหาการว่างงาน | 4. ปัญหาการประท้วงหยุดงาน   |

144. พ่อแม่ต้องมีเมตตา กรุณา มุทิตา อุเบกขาต่อลูกๆ แสดงว่าพ่อแม่ต้องปฏิบัติตามหลักธรรมข้อใด

- |                |                 |
|----------------|-----------------|
| 1. อิทธิบาท 4  | 2. สังคหวัตถุ 4 |
| 3. พรหมวิหาร 4 | 4. ฌราวาสธรรม 4 |



145. กลุ่มคนที่จะมีชีวิตคู่ยืนยาว เป็นคู่สร้างคู่สม ต้องยึดหลักธรรมข้อใดเป็นแนวทางในการปฏิบัติตน

1. มีเมตตา กรุณา มุทิตา และอุเบกขา
2. ซื่อสัตย์ รู้จักข่มใจ อุดทน และเสียสละ
3. มีความรักใคร่ ขยัน เอาใจใส่ และคิดใคร่ครวญ
4. มีความเชื่อ ความประพฤติ ความเอื้อเฟื้อเผื่อแผ่และความรู้สึมนอกกัน

146. ประเทศที่มีรายได้เฉลี่ยต่อคน เป็นอันดับ 1 ในอาเซียนและอันดับ 15 ของโลก

- |             |                |
|-------------|----------------|
| 1. กัมพูชา  | 2. พม่า        |
| 3. สิงคโปร์ | 4. อินโดนีเซีย |

147. ประเทศที่มีรายได้เฉลี่ยต่อคน เป็นอันดับ 2 ในอาเซียนและอันดับ 26 ของโลก

- |             |                |
|-------------|----------------|
| 1. บรูไน    | 2. มาเลเซีย    |
| 3. สิงคโปร์ | 4. อินโดนีเซีย |

148. ข้อใดเป็นดอกไม้ประจำประเทศสิงคโปร์

- |              |                      |
|--------------|----------------------|
| 1. ดอกลิลลี่ | 2. ดอกกล้วยไม้แวนด้า |
| 3. ดอกทิวลิป | 4. ดอกคาร์เนชั่น     |

149. ประเทศใดขนาดเศรษฐกิจใหญ่ที่สุดในเอเชียตะวันออกเฉียงใต้

- |             |                |
|-------------|----------------|
| 1. เวียดนาม | 2. ไทย         |
| 3. สิงคโปร์ | 4. อินโดนีเซีย |

150. องค์ประกอบของประมวลจริยธรรมและจรรยาบรรณของตำรวจ

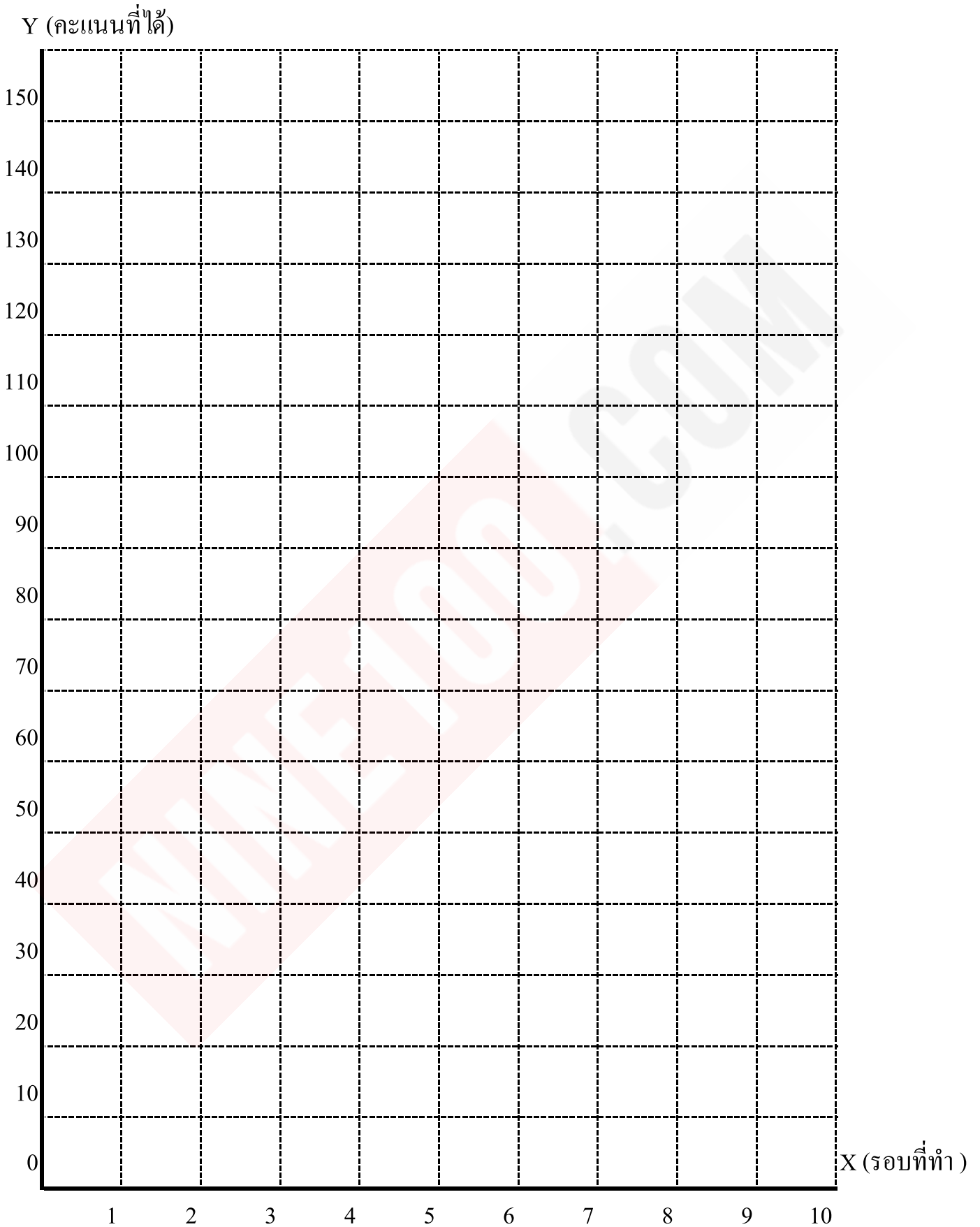
1. คุณธรรม ค่านิยมหลัก และอุดมคติของตำรวจ
2. คุณธรรม ค่านิยมหลัก และอุดมคติของตำรวจ, จริยธรรมของตำรวจ
3. คุณธรรม ค่านิยมหลัก และอุดมคติของตำรวจ, จริยธรรมของตำรวจ, จรรยาบรรณของตำรวจ
4. คุณธรรม ค่านิยมหลัก และอุดมคติของตำรวจ, จริยธรรมของตำรวจ, หลักธรรมของตำรวจ

## แบบประเมินตนเอง สายปราบปราม

วิชา	ข้อ	ทำได้	คิดเป็นเปอร์เซ็นต์	หมายเหตุ
1. ความสามารถทั่วไป	40		$\frac{\quad}{40} \times 100 = \underline{\quad}$	
2. ภาษาไทย	25		$\frac{\quad}{25} \times 100 = \underline{\quad}$	
3. ภาษาต่างประเทศ (ภาษาอังกฤษ)	40		$\frac{\quad}{40} \times 100 = \underline{\quad}$	
4. เทคโนโลยีสารสนเทศ	25		$\frac{\quad}{25} \times 100 = \underline{\quad}$	
5. กฎหมายที่ประชาชนควรรู้	10		$\frac{\quad}{10} \times 100 = \underline{\quad}$	
6. สังคม วัฒนธรรม จริยธรรม	10		$\frac{\quad}{10} \times 100 = \underline{\quad}$	
รวม	150		$\frac{\quad}{150} \times 100 = \underline{\quad}$	

# แบบประเมินตนเอง สายปรามปราบ

## แบบเชิงเส้น



## NINE100.COM

ทดสอบความรู้ความสามารถ ด้วยวิธีสอบข้อเขียน ข้อสอบปรนัย 4 ตัวเลือก

## เฉลยข้อสอบชุดที่ 1

1	4.	26	1.	51	3.	76	3.	101	3.	126	1.
2	2.	27	2.	52	1.	77	4.	102	3.	127	1.
3	3.	28	4.	53	3.	78	1.	103	2.	128	2.
4	2.	29	2.	54	4.	79	1.	104	4.	129	1.
5	3.	30	2.	55	2.	80	1.	105	2.	130	4.
6	3.	31	4.	56	2.	81	2.	106	1.	131	4.
7	4.	32	1.	57	3.	82	1.	107	2.	132	4.
8	4.	33	2.	58	3.	83	4.	108	1.	133	4.
9	2.	34	3.	59	1.	84	1.	109	1.	134	3.
10	1.	35	3.	60	2.	85	3.	110	1.	135	4.
11	3.	36	2.	61	4.	86	3.	111	2.	136	4.
12	1.	37	2.	62	2.	87	2.	112	4.	137	3.
13	2.	38	2.	63	3.	88	1.	113	4.	138	1.
14	3.	39	1.	64	2.	89	2.	114	1.	139	1.
15	4.	40	1.	65	3.	90	3.	115	3.	140	4.
16	1.	41	4.	66	1.	91	3.	116	2.	141	4.
17	2.	42	1.	67	3.	92	3.	117	4.	142	2.
18	2.	43	3.	68	3.	93	1.	118	1.	143	3.
19	3.	44	1.	69	1.	94	1.	119	2.	144	3.
20	3.	45	2.	70	2.	95	2.	120	2.	145	2.
21	1.	46	3.	71	2.	96	3.	121	2.	146	3.
22	3.	47	4.	72	1.	97	3.	122	3.	147	1.
23	4.	48	2.	73	2.	98	3.	123	1.	148	2.
24	3.	49	1.	74	1.	99	1.	124	1.	149	4.
25	1.	50	1.	75	2.	100	2.	125	3.	150	3.

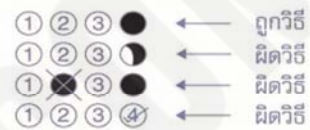
# กระดาษคำตอบ

**NINE100.COM**

## คำแนะนำ

- ใช้ดินสอดำ 2B ขึ้นไป ระบายวงกลมทุกวงที่ต้องการให้ดำเต็มวง
- ถ้าต้องการแก้ไข ให้ใช้ยางลบลบให้สะอาดก่อน จึงระบายวงใหม่
- ห้ามขีดเขียนสิ่งอื่นใดนอกเหนือจากที่ระบุไว้

## ตัวอย่าง



1 ① ② ③ ④	26 ① ② ③ ④	51 ① ② ③ ④	76 ① ② ③ ④	101 ① ② ③ ④	126 ① ② ③ ④
2 ① ② ③ ④	27 ① ② ③ ④	52 ① ② ③ ④	77 ① ② ③ ④	102 ① ② ③ ④	127 ① ② ③ ④
3 ① ② ③ ④	28 ① ② ③ ④	53 ① ② ③ ④	78 ① ② ③ ④	103 ① ② ③ ④	128 ① ② ③ ④
4 ① ② ③ ④	29 ① ② ③ ④	54 ① ② ③ ④	79 ① ② ③ ④	104 ① ② ③ ④	129 ① ② ③ ④
5 ① ② ③ ④	30 ① ② ③ ④	55 ① ② ③ ④	80 ① ② ③ ④	105 ① ② ③ ④	130 ① ② ③ ④
6 ① ② ③ ④	31 ① ② ③ ④	56 ① ② ③ ④	81 ① ② ③ ④	106 ① ② ③ ④	131 ① ② ③ ④
7 ① ② ③ ④	32 ① ② ③ ④	57 ① ② ③ ④	82 ① ② ③ ④	107 ① ② ③ ④	132 ① ② ③ ④
8 ① ② ③ ④	33 ① ② ③ ④	58 ① ② ③ ④	83 ① ② ③ ④	108 ① ② ③ ④	133 ① ② ③ ④
9 ① ② ③ ④	34 ① ② ③ ④	59 ① ② ③ ④	84 ① ② ③ ④	109 ① ② ③ ④	134 ① ② ③ ④
10 ① ② ③ ④	35 ① ② ③ ④	60 ① ② ③ ④	85 ① ② ③ ④	110 ① ② ③ ④	135 ① ② ③ ④
11 ① ② ③ ④	36 ① ② ③ ④	61 ① ② ③ ④	86 ① ② ③ ④	111 ① ② ③ ④	136 ① ② ③ ④
12 ① ② ③ ④	37 ① ② ③ ④	62 ① ② ③ ④	87 ① ② ③ ④	112 ① ② ③ ④	137 ① ② ③ ④
13 ① ② ③ ④	38 ① ② ③ ④	63 ① ② ③ ④	88 ① ② ③ ④	113 ① ② ③ ④	138 ① ② ③ ④
14 ① ② ③ ④	39 ① ② ③ ④	64 ① ② ③ ④	89 ① ② ③ ④	114 ① ② ③ ④	139 ① ② ③ ④
15 ① ② ③ ④	40 ① ② ③ ④	65 ① ② ③ ④	90 ① ② ③ ④	115 ① ② ③ ④	140 ① ② ③ ④
16 ① ② ③ ④	41 ① ② ③ ④	66 ① ② ③ ④	91 ① ② ③ ④	116 ① ② ③ ④	141 ① ② ③ ④
17 ① ② ③ ④	42 ① ② ③ ④	67 ① ② ③ ④	92 ① ② ③ ④	117 ① ② ③ ④	142 ① ② ③ ④
18 ① ② ③ ④	43 ① ② ③ ④	68 ① ② ③ ④	93 ① ② ③ ④	118 ① ② ③ ④	143 ① ② ③ ④
19 ① ② ③ ④	44 ① ② ③ ④	69 ① ② ③ ④	94 ① ② ③ ④	119 ① ② ③ ④	144 ① ② ③ ④
20 ① ② ③ ④	45 ① ② ③ ④	70 ① ② ③ ④	95 ① ② ③ ④	120 ① ② ③ ④	145 ① ② ③ ④
21 ① ② ③ ④	46 ① ② ③ ④	71 ① ② ③ ④	96 ① ② ③ ④	121 ① ② ③ ④	146 ① ② ③ ④
22 ① ② ③ ④	47 ① ② ③ ④	72 ① ② ③ ④	97 ① ② ③ ④	122 ① ② ③ ④	147 ① ② ③ ④
23 ① ② ③ ④	48 ① ② ③ ④	73 ① ② ③ ④	98 ① ② ③ ④	123 ① ② ③ ④	148 ① ② ③ ④
24 ① ② ③ ④	49 ① ② ③ ④	74 ① ② ③ ④	99 ① ② ③ ④	124 ① ② ③ ④	149 ① ② ③ ④
25 ① ② ③ ④	50 ① ② ③ ④	75 ① ② ③ ④	100 ① ② ③ ④	125 ① ② ③ ④	150 ① ② ③ ④



10. แจกเงินจำนวนหนึ่งให้แก่เด็กคนละ 50 บาท ยังขาดเงินอยู่ 100 บาท หากแจกคนละ 45 บาท จะเหลือเงิน 50 บาท มีเงินแจกเด็กกี่บาท

1. 1,000 บาท                      2. 1,200 บาท                      3. 1,400 บาท                      4. 1,600 บาท

11. ถ้าค่าความจริงของ  $\sim p \rightarrow \sim q$  เป็นเท็จ และ  $q \wedge r$  เป็นจริง ข้อใดต่อไปนี้มีค่าความจริงเป็นเท็จ

1.  $\sim p \wedge (q \rightarrow r)$                       2.  $(p \vee q) \rightarrow r$                       3.  $(q \leftrightarrow p) \wedge \sim r$                       4.  $(p \wedge \sim q) \leftrightarrow \sim r$

12. ในคริสต์มาสนักเรียนแต่ละคนจะได้ส่งบัตรอวยพรให้เพื่อนทุกคน ถ้ามีนักเรียนอยู่ 52 คน จะมีบัตรอวยพรทั้งหมดเท่าไร

1. 2,704 ใบ                      2. 2,652 ใบ                      3. 2,740 ใบ                      4. 1,326 ใบ

13. ชาย 4 คน ช่วยกันทำงานจะเสร็จใน 5 วัน แต่ถ้าให้หญิง 4 คน ทำงานอย่างเดียวกัน จะสามารถทำเสร็จใน 10 วัน ถ้าให้ชาย 2 คนและหญิง 1 คน ช่วยกันทำงานจะต้องใช้เวลากี่วัน

1. 5 วัน                      2. 6 วัน                      3. 7 วัน                      4. 8 วัน

14. ตำรวจ 8 คน ไปประชุม โดยจัดให้เข้าห้องพัก 3 ห้อง โดยพักห้องละ 3 คน 2 ห้อง และ ห้องละ 2 คน อีก 1 ห้อง จะมีวิธีการจัดเข้าห้องพักกี่แบบ

1. 600 แบบ                      2. 560 แบบ                      3. 480 แบบ                      4. 360 แบบ

15. กำแพงบ้านหลังหนึ่งสูง 3 เมตร และมีเงาทอดยาวไปทางทิศตะวันตก 4 เมตร ในขณะเดียวกันเงาของบ้านหลังนี้ทอดยาวไปทางทิศตะวันตก 28 เมตร บ้านหลังนี้สูงเท่าไร

1. 7 เมตร                      2. 12 เมตร                      3. 21 เมตร                      4. 27 เมตร

16. บันไดยาว 8 เมตร พาดอยู่กับกำแพงสูง 4 เมตร ช่างทาสีเดินขึ้นบันไดไปได้ 2 เมตร ช่างทาสีอยู่สูงจากพื้นดินเท่าไร

1. 1 เมตร                      2. 2 เมตร                      3. 3 เมตร                      4. 4 เมตร

17. เมื่อ 8 ปีที่แล้ว สมชายมีอายุเป็นหนึ่งในสามของสมศรี ถ้าปัจจุบันสมชายอายุ 24 ปี จงหาอายุของสมศรีในปัจจุบัน

1. 32 ปี                      2. 56 ปี                      3. 58 ปี                      4. 65 ปี

18. ปกป้องยื่นห่างจากเสาธง 16 เมตร มองเห็นยอดเสาธงที่อยู่ระดับเดียวกับยอดตึก ถ้าตึกสูง 96 เมตร และเสาธงสูง 32 เมตร ระยะระหว่างเสาธงกับตึกเป็นเท่าไร

1. 28 เมตร                      2. 29 เมตร                      3. 40 เมตร                      4. 48 เมตร

19. กำหนดให้  $a$  เป็นค่าของตัวเลขในหลักหน่วยของ  $3^{1000}$  และ  $b$  เป็นค่าของตัวเลขในหลักหน่วยของ  $7^{1000}$  แล้ว  $a + b$  เท่ากับเท่าใด

1. 2                                      2. 6                                      3. 10                                      4. 18

20. ถ้า  $a : b : c = 2 : 3 : 5$  และ  $3a - 2b + c = 10$  แล้ว  $a + b + c$  มีค่าเท่าใด

1. 15                                      2. 20                                      3. 30                                      4. 35

21. ของผสมชนิดหนึ่งมีส่วนผสมของแอลกอฮอล์ 15% จะต้องใช้ของผสมนี้กี่แกลลอนผสมกับแอลกอฮอล์ เพื่อให้ได้ของผสมใหม่ 8.5 แกลลอน และเป็นของผสมที่มีแอลกอฮอล์ 60%

1. 3.5                                      2. 4                                      3. 4.5                                      4. 5

22. ครอบครัวหนึ่งมีพ่อ แม่ ลูกสาว และลูกชาย รวม 4 คน ถ้าต้องการยื่นเข้าแถวถ่ายรูปเป็นแนวเส้นตรง โดยให้พ่อแม่ยืนติดกัน อยากทราบว่าจัดได้กี่แบบที่แตกต่างกัน

1. 8                                      2. 12                                      3. 16                                      4. 24

23. ถ้าจัดนักเรียน 5 คน ให้นั่งเรียงกันรอบโต๊ะกลมจะจัดที่นั่งโดยไม่ซ้ำกันได้ทั้งหมดกี่วิธี

1. 5 วิธี                                      2. 24 วิธี                                      3. 120 วิธี                                      4. 124 วิธี

24. จำนวนเต็ม 3 จำนวน มีค่าเฉลี่ยเลขคณิตเท่ากับ 36 มีพิสัยเท่ากับ 12 และมีค่ามัธยฐานเท่ากับ 34 อยากทราบว่าจำนวนที่มากที่สุดในกลุ่มคือจำนวนใด

1. 40                                      2. 41                                      3. 42                                      4. 43

25. ถ้า 
$$\begin{array}{r} C \quad D \\ \times \\ \hline C \quad D \\ E \quad D \\ \hline C \quad D \end{array}$$

แล้ว  $F$  มีค่าเท่าใด

1. 1                                      2. 2                                      3. 5                                      4. 6

26. นักเรียนห้องหนึ่งมี 20 คน ต่างนำของขวัญมาแจกให้เพื่อนๆ ในห้องจนครบทุกคน ดังนั้น จะมีของขวัญทั้งหมดกี่ชิ้น

1. 20 ชิ้น                                      2. 40 ชิ้น                                      3. 120 ชิ้น                                      4. 380 ชิ้น



27. ถ้า ด้านทั้งสามของรูปสามเหลี่ยม เป็นดังนี้ คือ  $7 - x$ ,  $x + 10$ ,  $15 - x$  แล้ว  $x$  ควรีค่าเท่าใด จึงจะทำให้รูปสามเหลี่ยมรูปนี้ เป็นรูปสามเหลี่ยมมุมฉาก

1. 0                                      2. 1                                      3. 2                                      4. 3

28. ทำขนม 3 ชิ้น เสร็จใน 8 วัน ถ้าทำขนม 171 ชิ้น จะเสร็จในกี่วัน

1. 456                                      2. 464                                      3. 472                                      4. 480

29. กล่องใบหนึ่งบรรจุลูกบอลสีขาว 10 ลูก และสีด้าอีกจำนวนหนึ่ง ถ้าความน่าจะเป็นที่หยิบลูกบอลลูกหนึ่งเป็นสีด้าเท่ากับ  $\frac{3}{5}$  แล้วจะมีลูกบอลในกล่องสีด้าในกล่องใบนี้จำนวนเท่าใด

1. 15 ลูก                                      2. 12 ลูก                                      3. 8 ลูก                                      4. 5 ลูก

30. กำหนด  $A = \{1,2,3,4,5\}$ ,  $B = \{2,4,5,6\}$ ,  $C = \{3,4,6,7,8\}$

จงหา  $(A \cap B) - C$

1.  $\{2,4,5\}$                                       2.  $\{2,4\}$   
 3.  $\{2,5\}$                                       4.  $\{4,5\}$

31. 23 53 32 62 41 .....?.....

1. 32                                      2. 62                                      3. 71                                      4. 92

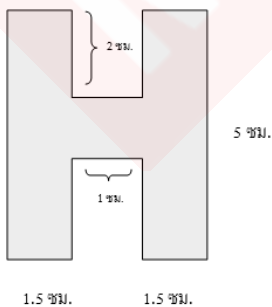
32. แมว 5 ตัว จับหนู 5 ตัว ได้ใน 5 นาที ถ้าหนู 100 ตัว ใช้เวลา 100 นาที จะต้องมีแมวกี่ตัว

1. 5                                      2. 20                                      3. 50                                      4. 100

33. กล่องใบหนึ่งมีลูกบอล 10 ลูก ประกอบด้วยสีแดง 4 ลูก สีขาว 3 ลูก และสีน้ำเงิน 3 ลูก ถ้าหยิบลูกบอล 5 ลูก จากกล่องใบนี้ จงหาจำนวนวิธีที่จะหยิบได้สีแดง 2 ลูก สีขาว 1 ลูก และสีน้ำเงิน 2 ลูก

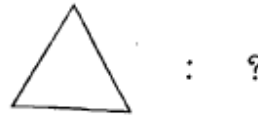
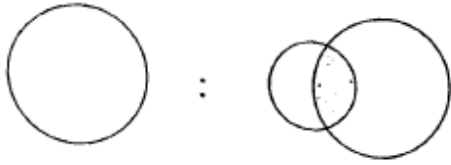
1. 36 วิธี                                      2. 54 วิธี                                      3. 108 วิธี                                      4. 120 วิธี

34. จากรูปที่กำหนดให้ พื้นที่ส่วนที่แรเงาเท่ากับกี่ตารางเซนติเมตร



1. 16                                      2. 17  
 3. 18                                      4. 20

35.



36. โยนเหรียญ 1 เหรียญ 3 ครั้ง ความน่าจะเป็นที่จะออกหัว 1 ครั้ง เป็นเท่าใด

1.  $\frac{1}{2}$

2.  $\frac{1}{4}$

3.  $\frac{3}{4}$

4.  $\frac{3}{8}$

37. ก่องใบหนึ่งมีลูกบอลสีแดง 2 ลูก สีขาว 4 ลูก สีฟ้า 6 ลูก สุ่มหยิบขึ้นมา 1 ลูก ความน่าจะเป็นที่จะได้ลูกบอลสีแดงหรือสีฟ้าเป็นเท่าใด

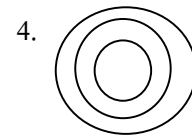
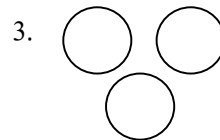
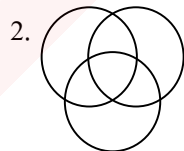
1.  $\frac{2}{3}$

2.  $\frac{3}{4}$

3.  $\frac{4}{5}$

4.  $\frac{5}{6}$

38. พีช มะม่วง แมว สามารถเขียนความสัมพันธ์โดยใช้แผนภาพได้ตรงข้อใด



39. เส้น : จุด                      พื้นที่ : ?

1. ระยะ

2. เส้น

3. พื้นดิน

4. คณิตศาสตร์

40.  $9999 \times 9999 = ?$

1. 99998001

2. 99980001

3. 9988001

4. 98989891

41. ประโยคในข้อใดมีความบกพร่องในด้านการใช้ภาษา

1. กว่าจะคั่งงาให้สุกก็ใช้เวลาเพียง 2 นาทีเท่านั้น
2. การทำความดีย่อมส่งผลให้ผู้กระทำได้รับผลดีตอบแทน
3. พระสงฆ์ทรงสมณศักดิ์ 9 รูป ร่วมในพิธีพระราชทานปริญญาบัตร
4. แม้ตำรวจจะพยายามในการเจรจาเท่าใดคนร้ายก็ไม่ยอมจำนน

42. ข้อใดใช้ลักษณนามไม่ถูกต้อง

1. การประชุมต้องใช้เก้าอี้จำนวน 250 ตัว
2. เลื่อยแต่ละปิ่นที่จะนำมาใช้ต้องมีคุณภาพ
3. ซ้ำทรงของพระราชพระองค์นี้มีจำนวน 20 เซือก
4. เครื่องอัฐบริวารทุกชุดจะต้องใหม่ มีคุณภาพและราคาไม่แพง

43. ข้อใดมีคำแระสมที่ประกอบด้วยคำกริยาและคำนาม

1. กินนอน
2. กินข้าว
3. กินใจ
4. คาวเทียม

44. ข้อใดไม่ใช่คำประสม

1. น้ำตา
2. บ้านเรือน
3. บ้านแตก
4. หัวสูง

45. ข้อใดมีคำตายมากที่สุด

1. ตะวันคล้อยหน้อยถึงบางพระ
2. คุระยะบ้านนั้นก็แน่นหนา
3. พอพบเรือนเพื่อนชายชื่อนายมา
4. เขาโอภาต้อนรับให้หลับนอน

46. ข้อใดไม่ใช่คำสมาส

1. พระขรรค์ พระจันทร์
2. พระบาท พระชงฆ์
3. พระสลา พระเขนย
4. พระเนตร พระพักตร์

47. ข้อใดใช้คำราชาศัพท์ไม่ถูกต้อง

1. พระบาทสมเด็จพระเจ้าอยู่หัวทรงพระปรีชาสามารถทางด้านดนตรีเป็นอย่างยิ่ง
2. โครงการนี้เป็นโครงการในพระราชดำริพระเจ้าหลานเธอพระองค์เจ้าพัชรกิติยาภา
3. สมาคมนี้อยู่ในพระบรมราชินูปถัมภ์สมเด็จพระนางเจ้าฯพระบรมราชินีนาถ
4. สมเด็จพระบรมโอรสาธิราชฯ สยามมกุฎราชกุมารทรงโปรดการขับเครื่องบินมาก

48. คำประพันธ์ในข้อใดกล่าวถึงเสียงและการเคลื่อนไหว

1. ผีเสื้อเต็มสี่ที่กลีบแก้ม ชมพูเข้มแดงระยับสลับม่วง
2. หางนกยูงระย้าเรียกลอเคลียน้ำ แพนดาคอกนำช้อยช่อรววิจิตร
3. จำเรียงรักษ์อักษรผ่านกลอนกาพย์ เพราะซึ่งชาวรสกวีศรีสยาม
4. แผลลึงลึงลอดไม้ ลางลึง

49. ข้อใดเป็นสำนวนทุกตัว

1. แก่เฟ็ด แก่มือ แก่ไข แก่เกี่ยว แก่ล่า
2. คู่ปรับ คู่หู คู่มือ คู่ควร คู่ใจ
3. มือปิ่น มือมิด มือขวา มืออ่อน มือรอง
4. หน้าม้า หน้าแดง หน้าปิ่น หน้าเลือด หน้าบาง

50. สำนวนในข้อใดมีความหมายคล้ายกับ “แกว่งเท้าหาเสี้ยน”

1. เอามือชุกหีบ
2. เอาทองไปรู้กระเบื้อง
3. เอาไม้ซุงไปจัดไม้ซุง
4. เอาเนื้อหมูไปปะเนื้อช้าง

51. ข้อความต่อไปนี้ตรงกับสำนวนข้อใด

คนที่รู้อะไรด้านเดียวแล้วเข้าใจว่าสิ่งนั้นเป็นอย่างนั้น

1. ตาบอดตาใส
2. ตาบอดได้แว่น
3. ตาบอดคลำช้าง
4. ตาบอดสอดตาเห็น

52. ตีใหญ่ทราบว่าจะตำรวจได้มาแล้วเพื่อจับกุมเขาบริเวณคู้้งน้ำหน้าบ้าน เขาจึง ..... อยู่ได้  
แผ่นกระดานหลังบ้าน จนกองกำลังเจ้าหน้าที่แยกย้ายกันกลับไปหมด

1. หลบซ่อน
2. หลบเลี้ยง
3. กบดาน
4. หลีกหนี

53. คำประพันธ์ต่อไปนี้ตรงกับสำนวนในข้อใดมากที่สุด

“ยิ้มหวานน้ำตาลอวย มคมลายเหมือนต้องมนต์

ในยิ้มที่แยบยล อาจซ่อนเขี้ยวจะเคี้ยวคุณ”

1. ปากอย่างใจอย่าง
2. ปากหวานก้นเปรี้ยว
3. ปากว่าตาขยิบ
4. ปากปราศรัยน้ำใจเชือดคอ

54. ข้อใดไม่มีน้ำเสียงประชด

1. หม่อมฉันมิบังอาจนั่งร่วมบัลลังก์อาสน์กับสมเด็จพระอัยกาได้ เพราะหม่อมฉันเป็นเพียงสามัญชน
2. ถึงทีจะรุ่งเรืองไปเบื้องหน้า ก็ไม่พึงวาสนาย่าวดอ้าง ดีแต่จะมาพานรณทาง ไม่อดศูใจบ้างหรือ  
อย่างไร
3. จึงออกมาว่ากับลูกสาว ช่างทำความงามฉาวอีกคนชั่ว เสียยศเสียศักดิ์ไม่รักตัวเลือกผู้ได้จะเห็น  
เหมาะใจ
4. อันผู้ที่ดีเหลือเป็นเนื้อหน่อ เห็นต่อจะบุญหนักศักดิ์ใหญ่ รูปร่างน้อยจ้อยอร่อยใจ จงกอดไว้เถิดคะ  
อย่าละวาง

55. ข้อใดมีคำสะกดถูกต้องทุกคำ

1. ดำรง ประการัง เปอร์เซนต์
2. กว๊ายเดี่ยวราดหน้า ลาดพรรม ผัดไท
3. เดียดฉันท์ สันโศษ สापแข่ง
4. เลือดกลบปาก ซาลาเปา วังผลัด

56. ข้อใดใช้ภาษากระชับที่สุด

1. คนไทยนิยมกินน้ำพริก ไม่ใช่เพราะรสชาติถูกปาก น้ำพริกยังมีคุณภาพอีกด้วย
2. อาหารมื้อสำคัญที่เป็นประโยชน์ต่อร่างกายคืออาหารเช้าและมื้อกลางวัน
3. การกินบะหมี่สำเร็จรูปนั้นง่ายมาก หลังจากเทบะหมี่ใส่ซามแล้วก็กคนน้ำร้อนเทใส่
4. กะปิที่ดีที่สุดคือกะปิที่ทำจากเคย ในจังหวัดสมุทรสงครามจะมีชื่อเสียงในการทำกะปิจากเคย

57. “การปกครองระบบรัฐธรรมนูญแบ่งอำนาจเป็น 3 ประเภท..... อำนาจนิติบัญญัติ อำนาจบริหาร และอำนาจตุลาการ แต่ละอำนาจย่อมมีอำนาจ..... และกำกับควบคุมกันอยู่ ซึ่งเป็นหลักประกันในความมั่นคง”

1. ได้แก่ บคบัง
2. ได้แก่ คูแล
3. คือ ยับยั้ง
4. คือ บังคับ

58. จงเรียงข้อความต่อไปนี้ให้เป็นภาษาที่สละสลวยและต่อเนื่อง

- (1) ศิลปะลีลาในการขีดหนังสือใหญ่อยู่ที่ตัวบุคคลผู้ขีด
- (2) หนังสือเป็นศิลปะไทยที่มีมาตั้งแต่ครั้งกรุงศรีอยุธยา
- (3) หนังสือมี 2 ชนิด คือ หนังสือกลางคืนและหนังสือกลางวัน
- (4) ไข่ขีด โดยให้เห็นเงาดำเด่นหน้าจอ

1. (3) (2) (1) (4)

2. (3) (4) (2) (1)

3. (2) (4) (1) (3)

4. (2) (1) (3) (4)

59. ข้อใดไม่อาจอนุมานได้ว่าเป็นบุคลิกภาพของผู้พูดข้อความต่อไปนี้

หากเรากลัวการกระทำผิด เราจะทำอะไรไม่เป็นเลย การทำผิดเป็นส่วนสำคัญของการเจริญเติบโตของปัญหา หากเราไม่ทำอะไรเลยเพราะกลัวทำผิดก็จะพลาดโอกาสได้พบสิ่งที่จำเป็นสำหรับการเจริญเติบโตของชีวิตอย่างหนึ่ง

1. รักการเรียนรู้

2. มองการณ์ไกล

3. กล้าได้กล้าเสีย

4. มีความรอบคอบ

60. คำที่มีความหมายใกล้เคียงกัน ซึ่งมีความหมายต่างกัน ไปบ้าง ไม่มากก็น้อย แต่ผู้ใช้งานบางคนไม่สนใจจึงทำให้สื่อสารผิดพลาดหรือใช้สับสน”

ข้อใดกล่าวไม่ถูกต้องตามข้อความดังกล่าว

1. การสื่อสารความหมายของภาษาที่ผิดพลาดปัญหาอาจมาจากการไม่สนใจของผู้ใช้

2. ภาษาไทยมีความหมายหลายอย่าง จึงทำให้ผู้ใช้อาจผิดพลาดในการใช้ภาษา

3. ผู้จะใช้ภาษาไทยจะต้องมีความรู้ความเข้าใจในภาษาโดยเฉพาะการใช้คำและประโยค

4. ความหมายของภาษาไทยมีความหลากหลายผู้ใช้จะต้องดูประโยคใกล้เคียงในการสื่อความหมาย

61. ข้อใดตีความได้ถูกต้อง

ข้อใดตีความได้ถูกต้อง

1. ประเทศไทยมีคำในภาษาที่ร่ำรวยกว่าประเทศอื่น จึงทำให้เกิดการใช้ภาษาอย่างฟุ่มเฟือย
2. การใช้ภาษาไทยนั้นนอกจากผู้ใช้จะมีความรู้ในหลักภาษาแล้วผู้ใช้จะต้องมีจินตนาการในการใช้คำและการเรียงความหมายของประโยค
3. ความหมายโดยตรงและความหมายโดยนัยเป็นความหมายที่ผู้ใช้จะต้องมีความรู้ความเข้าใจเกี่ยวกับการผูกประโยคหรือเรียงคำในประโยค
4. การสื่อสารความเข้าใจของภาษาไทยให้ตรงกันผู้ส่งสารและผู้รับสารจะต้องมีความเข้าใจตรงกันด้วยจะสามารถสื่อสารให้บรรลุตามเป้าหมายได้

62. สำนวนใดสะท้อนค่านิยม

1. ใจดีสู้เสือ
2. มากหมอมากความ
3. ขยผ้าเอาหน้ารอด
4. ลางเนื้อชอบลางยา

63. สำนวนใดเหมาะสมที่จะเติมในช่องว่างของข้อความต่อไปนี้

เราควรนึกถึงความชอบ ความถนัด และความสามารถของเราก่อนจะเลือกเรียนสาขาใด สาขาหนึ่ง อย่า.....เลือกเพราะความนิยมหรือเพราะเพื่อนเลือก

1. จับปลาสองมือ
2. ตกกระไดพลอยโจน
3. เขี่ยบเรือสองแคว
4. เห็นช้างขี้ ขี้ตามช้าง

64. สมศักดิ์ชอบนำทรัพย์สินของบริษัทกลับไปใช้ที่บ้านเป็นประจำโดยที่เจ้านายไม่เคยนึก.....  
....แต่อย่างไร

1. แหนงใจ
2. เคลือบแคลง
3. ระวัง
4. กังวล

65. ข้อใดไม่จำเป็นต้องใช้คำภาษาอังกฤษ

1. สมาร์ทโฟนยี่ห้อนี้ราคาไม่แพงมาก
2. คนร้ายใช้เทปปิดหน้ากล้องวงจรปิด
3. เขาเสนอโปรเจกต์ใหม่ให้ผู้บริหารแล้ว
4. ข้าวไข่เจียวหมูสับราคาซอสฟริกอร่อยมาก

66. The man who wrote this book must very proud of it.

The underlined part means \_\_\_\_\_.

- |              |               |
|--------------|---------------|
| 1. author    | 2. editor     |
| 3. announcer | 4. journalist |

67. These wealthy people are very generous. The underlined word means \_\_\_\_\_.

- |           |         |
|-----------|---------|
| 1. famous | 2. poor |
| 3. kind   | 4. rich |

68. The first warning of Tsunami was given and everybody began to panid.

The underlined part means \_\_\_\_\_.

- |                 |              |
|-----------------|--------------|
| 1. call         | 2. alarm     |
| 3. warning sign | 4. spokesman |

69. What they are doing ..... wrong.

- |       |        |         |          |
|-------|--------|---------|----------|
| 1. is | 2. are | 3. have | 4. which |
|-------|--------|---------|----------|

70. That group of readers..... coming to our town.

- |       |        |         |        |
|-------|--------|---------|--------|
| 1. is | 2. are | 3. have | 4. has |
|-------|--------|---------|--------|

71. This news..... very important for us.

- |       |        |         |        |
|-------|--------|---------|--------|
| 1. is | 2. are | 3. have | 4. has |
|-------|--------|---------|--------|



72. What can be inferred from the passage above?

1. You should learn from history, spend life and a dream for tomorrow.
2. You should learn from the lesson, live in a house and hope in God.
3. You should learn from the school, live in downtown and hope in faith.
4. You should learn from your parents, live in a house and hope in your dream.

73. If I \_\_\_\_\_ harder, I would have passed the exam.

- |                |                  |
|----------------|------------------|
| 1. studied     | 2. had studied   |
| 3. would study | 4. were studying |

74. \_\_\_\_\_ for a walk is a good exercise.

- |          |          |
|----------|----------|
| 1. To go | 2. Going |
| 3. Goes  | 4. Go    |

75. He is your friend, \_\_\_\_\_?

- |             |              |
|-------------|--------------|
| 1. isn't he | 2. will you  |
| 3. is he    | 4. don't you |

76. A desert is a ..... Region.

- |            |             |
|------------|-------------|
| 1. genetic | 2. flexible |
| 3. die     | 4. barren   |

77. There's a girl in my class who ..... constantly about her new clothes.

- |            |            |
|------------|------------|
| 1. elegant | 2. brags   |
| 3. destroy | 4. convert |

78. The policeman showed great ..... in the face of danger.

- |              |                |
|--------------|----------------|
| 1. scenery   | 2. bravery     |
| 3. criticism | 4. elimination |

79. Did you \_\_\_\_\_ about his feeling?

- |             |            |
|-------------|------------|
| 1. thinking | 2. thinks  |
| 3. think    | 4. thought |

80. I \_\_\_\_\_ to America once.

- |         |              |
|---------|--------------|
| 1. went | 2. have been |
| 3. go   | 4. going     |

81. I \_\_\_\_\_ to Terminal 21 with my couple last night.

- |             |         |
|-------------|---------|
| 1. goes     | 2. go   |
| 3. had gone | 4. went |

การใช้ Helping Verb

82. I ..... Like rice and curry, please.

- |        |          |          |        |
|--------|----------|----------|--------|
| 1. may | 2. could | 3. would | 4. can |
|--------|----------|----------|--------|

83. You ..... go home at 9. 00 this morning .

- |               |          |        |        |
|---------------|----------|--------|--------|
| 1. be able to | 2. ought | 3. has | 4. may |
|---------------|----------|--------|--------|

การใช้ Non finite verb ทำหน้าที่เป็นคำนามและส่วนเติมเต็ม

84. .... is good for your health.

- |         |             |           |            |
|---------|-------------|-----------|------------|
| 1. Walk | 2. to build | 3. Walked | 4. A waljk |
|---------|-------------|-----------|------------|

85. The best project is ..... a condominium.

- |              |             |          |             |
|--------------|-------------|----------|-------------|
| 1. has build | 2. to build | 3. built | 4. be build |
|--------------|-------------|----------|-------------|

86. His friend \_\_\_\_\_ French for six years now.

- |                |                |
|----------------|----------------|
| 1. has studied | 2. studies     |
| 3. will study  | 4. had studied |

87. “Does it rain only in July?”

“No, it \_\_\_\_\_ almost everyday .”

- |               |                     |
|---------------|---------------------|
| 1. rains      | 2. rained           |
| 3. is raining | 4. had been raining |

88. Two police officers were seriously injured during the fight against drug traffickers.

- |            |             |
|------------|-------------|
| 1. wounded | 2. rescued  |
| 3. secured | 4. assisted |

89. On Wan Pra, many people \_\_\_\_\_ to the temple.

- |         |          |
|---------|----------|
| 1. go   | 2. went  |
| 3. gone | 4. going |

90. It \_\_\_\_\_ every day so far this week.

- |                     |           |
|---------------------|-----------|
| 1. has been raining | 2. rained |
| 3. is raining       | 4. rains  |

91. Tom was accused of murdering his own wife.

- |                 |             |
|-----------------|-------------|
| 1. charged with | 2. judged   |
| 3. sentenced    | 4. Detained |

92. A : Excuse me, I'm going to the medical center\_\_\_\_\_.

B : You can take a bus or walk about 200 meters.

- |                              |                          |
|------------------------------|--------------------------|
| 1. I wonder how to get there | 2. Where can I take out? |
| 3. Can I take a train?       | 4. How do I get off      |

93. A : It's been a pleasure \_\_\_\_\_.

B : I'm sure we will both make money soon.

- |                              |                            |
|------------------------------|----------------------------|
| 1. having a meeting with you | 2. doing business with you |
| 2. talking with you          | 4. helping find a good job |

94. Hurry up! the train\_\_\_\_\_.

- |              |         |
|--------------|---------|
| 1. comes     | 2. came |
| 3. is coming | 4. come |

95. Please hurry, Noi We \_\_\_\_\_ late.

- |         |              |
|---------|--------------|
| 1. will | 2. will come |
| 3. are  | 4. will be   |

96. Situation : In the library

A : Do you mind if I sit down here?

B : .....

- |                |                |
|----------------|----------------|
| 1. Yes, I mind | 2. Not at all  |
| 3. Yes, I do   | 4. No, do you? |

97. A student : would you mind if I answer the phone, Miss?

A teacher : ..... Everyone is reading.

- |                   |                  |
|-------------------|------------------|
| 1. Certainly not  | 2. Never mind    |
| 3. Yes, of course | 4. Are you okay? |

98. The room is so dark. I can't see \_\_\_\_\_.

- |            |              |
|------------|--------------|
| 1. clearly | 2. carefully |
| 3. well    | 4. brightly  |

99. The police came to \_\_\_\_\_ the cause of the fire.

- |            |                |
|------------|----------------|
| 1. ask for | 2. search      |
| 3. report  | 4. investigate |

100. There \_\_\_\_\_ water left in that glass.

- |                  |                 |
|------------------|-----------------|
| 1. is, a few     | 2. is, a little |
| 3. are, a little | 4. are, a few   |

101. If you want to get a bill from the restaurant, you say "\_\_\_\_\_".

- |                                   |                        |
|-----------------------------------|------------------------|
| 1. Bill, please                   | 2. Take a bill, please |
| 3. Can I have a look at the bill? | 4. Check bill!         |

102. I want to \_\_\_\_\_ for a job.

- |           |          |
|-----------|----------|
| 1. apply  | 2. reply |
| 3. comply | 4. imply |

103. Can you \_\_\_\_\_ me some salt please?

1. part
2. path
3. pass
4. pat



Resource : <http://lagos-lagos.advertise.com>

104. What does the article advertise?

1. SAT, GMAT, TOEFL, GRE and ACT test to study abroad
2. SAT, GMAT, TOEFL, GRE and ACT course with guaranteed score
3. SAT, GMAT, TOEFL, GRE and ACT pre-test with mini course
4. SAT, GMAT, TOEFL, GRE and ACT higher score guaranteed

105. What is true in the ad?

1. There is a higher score guarantee.
2. For further details you can send an email.
3. This product is for student only.
4. Alex recommends the product.

106. ROM คืออะไร

1. หน่วยความจำถาวรที่ติดตั้งมาพร้อมกับแผงเมนบอร์ด
2. หน่วยความจำเสมือน
3. หน่วยความจำจำลองที่ทำงานแทนเมนบอร์ด
4. หน่วยความจำชั่วคราวที่สามารถอ่านและเขียนข้อมูลได้

107. Wireless LAN หมายถึงข้อใด

1. เครือข่าย LAN ที่ใช้สาย UTP ในการเชื่อมต่อ
2. เครือข่าย LAN ที่ใช้สาย Coaxial ในการเชื่อมต่อ
3. เครือข่าย LAN ที่ใช้สาย Fiber Optic ในการเชื่อมต่อ
4. เครือข่ายที่ไม่ใช้สายในการเชื่อมต่อแต่ใช้คลื่นวิทยุแทน

108. การทำงานของคอมพิวเตอร์หน่วยใดถือว่าเป็นหัวใจของคอมพิวเตอร์

1. หน่วยรับข้อมูล
2. หน่วยประมวลผล
3. หน่วยความจำ
4. หน่วยแสดงผล

109. ข้อใดเป็นความหมายของระบบปฏิบัติการคอมพิวเตอร์

1. โปรแกรมควบคุมเครื่องคอมพิวเตอร์
2. โปรแกรมพิมพ์เอกสาร
3. โปรแกรมกำจัดไวรัส
4. อุปกรณ์คอมพิวเตอร์

110. ข้อใดเป็นลักษณะของระบบปฏิบัติการที่ใช้อยู่ในปัจจุบัน

1. Single Operating System
2. Batch Operating System
3. Network Operating System
4. Plug Board

111. การพาณิชย์อิเล็กทรอนิกส์ (E- Commerce) หมายถึงข้อใด

1. กานขนถ่ายข้อมูลจากเครื่องหนึ่งไปยังอีกเครื่องหนึ่งในอินเทอร์เน็ต
2. การรับส่งข้อความผ่านทางอินเทอร์เน็ต
3. การซื้อขายสินค้าผ่านทางอินเทอร์เน็ต
4. การทำธุรกรรมผ่านทางระบบเครือข่าย

112. หน่วยรับข้อมูลเรียกอีกอย่างว่า

- |           |           |
|-----------|-----------|
| 1. Input  | 2. CPU    |
| 3. Output | 4. Memory |

113. การนำเอาเครื่องคอมพิวเตอร์ส่วนบุคคลมาต่อเชื่อมกันเรียกว่า

1. การต่อเชื่อม
2. เครื่องเครือข่าย
3. เครือข่ายท้องถิ่นหรือเครือข่ายแลน
4. อินเทอร์เน็ต

114. ข้อใดต่อไปนี้เป็น การส่งข้อมูลแบบสองทิศทางสลับกัน

- |                 |             |
|-----------------|-------------|
| 1. โทรทัศน์     | 2. โทรศัพท์ |
| 3. วิทยุสื่อสาร | 4. วิทยุ FM |

115. จดหมายที่ร่างแล้วทำการบันทึกจะถูกจัดเก็บไว้ที่ใด

- |                |           |
|----------------|-----------|
| 1. Inbox       | 2. Outbox |
| 3. Delete Item | 4. Drafts |

116. กล่องเก็บจดหมายที่เคยส่งออกไป เก็บไว้ที่ใด

- |                |           |
|----------------|-----------|
| 1. Inbox       | 2. Outbox |
| 3. Delete Item | 4. Drafts |

117. ตัวกลางที่ทำหน้าที่ในการ Interface ระหว่างผู้ใช้กับเครื่องคอมพิวเตอร์คือข้อใด

- |                        |                     |
|------------------------|---------------------|
| 1. CPU                 | 2. Memory           |
| 3. Application Program | 4. Operating system |

118. ข้อใดกล่าวถึง IEEE ได้ถูกต้องที่สุด

1. เป็นสถาบันกำหนดมาตรฐานของโปรโตคอลที่ใช้เชื่อมต่อ LAN
2. วิธีการเชื่อมต่อเครือข่ายคอมพิวเตอร์กับเครือข่ายคอมพิวเตอร์
3. สมาคมเพื่อการติดต่อแลกเปลี่ยนข้อมูลบนระบบเครือข่ายคอมพิวเตอร์
4. องค์การระหว่างประเทศเพื่อกำหนดระดับของเครือข่าย

119. การเรียกคำสั่งที่ยกเลิกกลับมาแล้วต้องใช้คำสั่งใด

1. Redo      2. Undo      3. Repeat      4. Ring

120. หน่วยประมวลผลทำหน้าที่อะไรถูกต้องที่สุด

1. คำนวณ      2. ประมวลผล  
3. แสดงผล      4. ควบคุม คำนวณ และตรรกะ

121. หน่วยรับข้อมูลสามารถรับข้อมูลอะไรบ้างเข้าสู่หน่วยประมวลผล

1. ข้อความและอักขระ      2. ข้อความเสียง  
3. ภาพและภาพเคลื่อนไหว      4. ถูกต้องทั้งหมด

122. การลบข้อความจะต้องใช้ปุ่มใดบนคีย์บอร์ด

1. Delete      2. Shift      3. Insert      4. Alt

123. ระบบเครือข่ายคอมพิวเตอร์แบ่งออกเป็นที่ประเภทอะไรบ้าง

1. 1 ประเภทคือ LAN      2. 2 ประเภทคือ LAN, MAN  
3. 3 ประเภทคือ LAN, MAN, WAN      4. 4 ประเภทคือ LAN, MAN, WAN, ONLINE

124. ข้อมูลสารสนเทศ คืออะไร

1. ข้อมูลที่ได้รับการกรอง และเรียบเรียง ที่สามารถนำไปใช้งานได้  
2. ความเป็นจริงที่ยังเป็นข้อมูลดิบซึ่งไม่ได้ผ่านการประมวลผลใดๆ  
3. ข้อมูลที่ประมวลผลแล้ว  
4. ผลลัพธ์ของการทำงาน

125. ข้อใดกล่าวไม่ถูกต้องเกี่ยวกับการสื่อสารข้อมูลสมัยใหม่

1. มีรากฐานมาจากการพยายามในการเชื่อมต่อระหว่างคอมพิวเตอร์กับคอมพิวเตอร์  
2. การเชื่อมต่อระหว่างคอมพิวเตอร์จะอาศัยระบบสื่อสารที่มีอยู่แล้ว เช่น โทรศัพท์  
3. การสื่อสารข้อมูลสมัยใหม่สามารถเชื่อมต่อคอมพิวเตอร์ได้ 2 ตัวเท่านั้น  
4. การติดต่อระหว่างคอมพิวเตอร์เรียกว่าระบบเครือข่าย (Network)



126. ข้อใดเป็นความสามารถของคอมพิวเตอร์ที่เรียกว่า Multiprocessing

1. สามารถเปิดใช้คอมพิวเตอร์ได้ทีละหลายๆเครื่อง
  2. สามารถใช้โปรแกรมคอมพิวเตอร์ได้ทีละหลายๆโปรแกรม
  3. สามารถใช้คอมพิวเตอร์ทำงานได้ทีละหลายๆงาน
  4. สามารถใช้คอมพิวเตอร์เครื่องเดียวพร้อมๆกัน และใช้โปรแกรมได้ทีละหลายๆโปรแกรม
- จ. หนึ่งคนสามารถใช้งานคอมพิวเตอร์ได้หลายเรื่อง

127. ระบบเครือข่ายประเภทใดในปัจจุบันเป็นที่นิยมมากที่สุด

1. LAN
2. WAN
3. MAN
4. SAN

128. อุปกรณ์ที่เก็บข้อมูลได้เป็นจำนวนมากและสามารถเก็บข้อมูลได้ถาวร แม้ปิดเครื่องข้อมูลก็จะไม่หายไป คือคุณสมบัติของข้อใด

1. RAM
2. ROM
3. Hard Disk
4. Desktop

129. คอมพิวเตอร์ที่มีขนาดใหญ่สุดรุ่นแรกสร้างในปี 3. ศ. 1960 ที่องค์การทหารของสหรัฐอเมริกาสร้างสามารถประมวลผลได้กว่า 100 ล้านคำสั่งต่อวินาที หมายถึงข้อใด

1. มินิคอมพิวเตอร์
2. สถานีงานวิศวกรรม
3. ซูเปอร์คอมพิวเตอร์
4. เมนเฟรมคอมพิวเตอร์

130. เมื่อกด Ctrl – ESC จะเกิดอะไรขึ้น ระบบปฏิบัติการ Windows

1. ปิดโปรแกรมทั้งหมดอัตโนมัติ
2. ปิดเครื่องทันที
3. เปิดเมนูของ Start เสมือนใช้ Mouse คลิกที่ปุ่ม Start
4. เปิดโปรแกรมทั้งหมดในห้อง Program ยกเว้นโปรแกรมที่ถูกซ่อนไว้

131. ผู้ต้องหาที่จำเลยแตกต่างกันอย่างไร

1. ผู้ต้องหา หมายถึง บุคคลที่ถูกกล่าวหาว่ากระทำความผิดแต่ยังมิได้ถูกฟ้องศาล
2. ผู้ต้องหา หมายถึง ผู้ที่ภายใต้การควบคุมโดยตำรวจ ส่วนถูกควบคุมขังภายในเรือนจำ
3. จำเลย หมายถึง บุคคลซึ่งถูกฟ้องศาลแจ้งข้อหาว่าได้กระทำความผิด
4. ข้อ ก และ ข้อ ค ถูก

132. ข้อใดไม่ใช่กฎหมายสารบัญญัติ

1. ประมวลกฎหมายอาญา
2. ประมวลกฎหมายแพ่งและพาณิชย์
3. ประมวลกฎหมายวิธีพิจารณาความอาญา
4. รัฐธรรมนูญ

133. หน่วยงานใดมีหน้าที่บริหารงานบุคคลและพัฒนาเจ้าหน้าที่ของรัฐ

1. สำนักงานงบประมาณ
2. สำนักงานปลัดกระทรวง
3. สำนักงานคณะกรรมการข้าราชการพลเรือน หรือ กพ.
4. สำนักงานกฤษฎีกา

134. บุคคลจะทำพินัยกรรมได้เมื่อมีอายุกี่ปี

1. 15 ปี
2. 17 ปี
3. 20 ปี
4. 25 ปี

135. ข้อใดคือลักษณะสำคัญของกฎหมายมหาชน

1. ใช้กับคนทุกคนในประเทศ
2. ต้องผ่านสภาผู้แทนราษฎร
3. ความสัมพันธ์ของรัฐอยู่เหนือประชาชน
4. ต้องใช้กับคนในประเทศของตนเท่านั้น

136. ข้อใดถือเป็นการสิ้นสภาพบุคคล

1. การสาบสูญ
2. จิตฟั่นเฟือน
3. ต้องคำพิพากษาถึงที่สุดให้จำคุก
4. พิกار

137. ข้อใดไม่ใช่การแบ่งประเภทของกฎหมาย

1. แบ่งตามลักษณะการบังคับ
2. แบ่งตามระบบกฎหมาย
3. การแบ่งแยกตามลักษณะแห่งการใช้
4. การแบ่งแยกตามลักษณะของความสัมพันธ์ของกลุ่มหรือตามข้อความของกฎหมาย

138. ข้อใดไม่ใช่นิติบุคคล

1. ชมรม
2. สมาคม
3. จังหวัด
4. พรรคการเมือง

139. ข้อใดไม่ใช่ลักษณะคดีลหุโทษ

1. แม้ไม่เจตนา ก็มี ความผิด
2. ขอมความได้
3. โทษปรับไม่เกิน 10,000 บาท
4. โทษจำคุกไม่เกิน 1 เดือน

140. ข้อใดกล่าวไม่ถูกต้องเกี่ยวกับภูมิลำเนา

1. ภูมิลำเนาของเด็กจะอยู่กับพ่อแม่เท่านั้น
2. ไม่สามารถมีภูมิลำเนามากกว่า 1 แห่ง
3. ภูมิลำเนาต้องได้รับการรับรองจากทางราชการ
4. ถูกทุกข้อ

141. ปรัชญาหลักเศรษฐกิจพอเพียงตามแนวพระราชดำริเหมาะสมกับกลุ่มใดในการดำเนินชีวิต

1. ข้าราชการ นักการเมือง
2. นักเรียน นักศึกษา
3. นักธุรกิจ นักการธนาคาร
4. ประชาชนทุกคน

142. การเกิดเหตุการณ์ในข้อใดในประเทศไทยที่เป็นต้นเหตุให้นำวิธีการดำเนินชีวิตตามหลักเศรษฐกิจพอเพียงมาใช้

1. การปฏิวัติรัฐประหารในปี 2516
2. เกิดสภาวะเศรษฐกิจตกต่ำปี 2540
3. เกิดภัยธรรมชาติน้ำท่วมปี 2526
4. เกิดคลื่นยักษ์ถล่มฝั่งทะเลอันดามันปี 2547

143. แหล่งชุมชนแออัดเกิดจากสาเหตุใด

1. การศึกษาไม่ดี
2. การมีสุขภาพไม่ดี
3. การอพยพของประชากรในชนบท
4. ชุมชนมีการศึกษาน้อย

144. ข้อใดมีผลทำให้โครงสร้างสังคมเมืองกับชนบทแตกต่างกัน

1. การเมือง
2. การศึกษา
3. ครอบครัว
4. ประชากร

145. การเปลี่ยนฐานะจากชนบทเป็นเมืองทำได้โดยวิธีใด

1. ให้ความรู้ที่ทันสมัย
2. เปลี่ยนวัฒนธรรม
3. ผู้มีอำนาจสั่งเปลี่ยน
4. แจกเงินให้มีฐานะร่ำรวย

146. การเกิดขึ้นของพระพุทธศาสนามีผลต่อการปฏิรูปสังคมชมพูทวีปโดยตรงและโดยอ้อมอย่างไร

1. การล่มสลายของชั้นวรรณะ
2. การล่มสลายของศาสนาอื่น
3. การเชื่อในอเทวนิยมคือ ไม่เชื่อเรื่องพระเจ้า
4. การไม่แบ่งชั้นวรรณะ การแก้ไขความทุกข์ของสังคม การช่วยเหลือให้สังคมเกิดความสันติสุข

147. ข้อใดจัดว่าเป็นค่านิยมของค่านิยม

1. ความเชื่อหรือความคิดเห็นของศาสนา การเมือง ประเพณี
2. ความไว้วางใจ ความมั่นใจ ความเห็นชอบต่อสิ่งใดสิ่งหนึ่งพร้อมปฏิบัติตาม
3. การปกครองจิตใจตนเอง การควบคุมตนเอง เตือนตนและรับผิดชอบต่อตนเอง
4. สิ่งในกลุ่มบุคคลเชื่อและยึดถือสำหรับการตัดสินใจและกำหนดการกระทำของตนเอง

148. สิ่งที่ยับยั้งปัญหาสังคมคือข้อใด

1. นักวิชาการเห็นว่าเป็นปัญหาควรแก้ไข
2. สถานการณ์ใดก็ตามที่เป็นปัญหาทำให้แต่ละบุคคลเดือดร้อน
3. รัฐบาลระบุว่าปัญหาที่กำหนดไว้ในแผนพัฒนาประเทศ
4. คนจำนวนมากในสังคมเห็นพ้องกันว่าเป็นปัญหาควรแก้ไข

149. ในสังคมเองไทยปัจจุบัน รอบครัวส่วนใหญ่เป็นแบบใด

1. ครอบครัวบุพการีเดี่ยว
2. ครอบครัวเดี่ยว
3. ครอบครัวขยาย
4. ครอบครัวร่วม

150. เทพเจ้าองค์ใดในศาสนาฮินดูมีหน้าที่ปกป้องรักษามนุษย์โลก

1. พระอิศวร
2. พระนารายณ์
3. พระพิฆเนศ
4. พระแม่อุมาเทวี

### แบบประเมินตนเอง สายปราบปราม

วิชา	ข้อ	ทำได้	คิดเป็นเปอร์เซ็นต์	หมายเหตุ
1. ความสามารถทั่วไป	40		$\frac{\quad}{40} \times 100 = \underline{\quad}$	
2. ภาษาไทย	25		$\frac{\quad}{25} \times 100 = \underline{\quad}$	
3. ภาษาต่างประเทศ (ภาษาอังกฤษ)	40		$\frac{\quad}{40} \times 100 = \underline{\quad}$	
4. เทคโนโลยีสารสนเทศ	25		$\frac{\quad}{25} \times 100 = \underline{\quad}$	
5. กฎหมายที่ประชาชนควรรู้	10		$\frac{\quad}{10} \times 100 = \underline{\quad}$	
6. สังคม วัฒนธรรม จริยธรรม	10		$\frac{\quad}{10} \times 100 = \underline{\quad}$	
รวม	150		$\frac{\quad}{150} \times 100 = \underline{\quad}$	



NINE100.COM

ทดสอบความรู้ความสามารถ ด้วยวิธีสอบข้อเขียน ข้อสอบปรนัย 4 ตัวเลือก

เฉลยข้อสอบชุดที่ 2

1	2.	26	4.	51	3.	76	4.	101	1.	126	3.
2	3.	27	3.	52	3.	77	2.	102	1.	127	1.
3	1.	28	1.	53	4.	78	2.	103	3.	128	3.
4	1.	29	1.	54	2.	79	3.	104	2.	129	3.
5	2.	30	3.	55	1.	80	2.	105	1.	130	3.
6	4.	31	3.	56	1.	81	4.	106	4.	131	4.
7	3.	32	1.	57	3.	82	3.	107	4.	132	3.
8	3.	33	2.	58	3.	83	4.	108	2.	133	3.
9	3.	34	1.	59	4.	84	2.	109	1.	134	1.
10	3.	35	1.	60	4.	85	2.	110	1.	135	3.
11	3.	36	4.	61	4.	86	1.	111	4.	136	1.
12	2.	37	1.	62	4.	87	1.	112	1.	137	1.
13	4.	38	1.	63	4.	88	1.	113	3.	138	1.
14	2.	39	2.	64	2.	89	1.	114	3.	139	2.
15	3.	40	2.	65	3.	90	1.	115	4.	140	4.
16	1.	41	1.	66	1.	91	1.	116	2.	141	4.
17	2.	42	3.	67	4.	92	1.	117	4.	142	2.
18	4.	43	3.	68	2.	93	2.	118	4.	143	3.
19	1.	44	2.	69	1.	94	3.	119	1.	144	2.
20	2.	45	2.	70	1.	95	4.	120	4.	145	1.
21	2.	46	3.	71	1.	96	2.	121	4.	146	4.
22	2.	47	4.	72	1.	97	1.	122	1.	147	4.
23	2.	48	2.	73	2.	98	1.	123	3.	148	4.
24	4.	49	3.	74	2.	99	4.	124	1.	149	2.
25	2.	50	1.	75	1.	100	2.	125	3.	150	2.

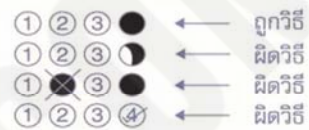
# กระดาษคำตอบ

**NINE100.COM**

## คำแนะนำ

- ใช้ดินสอดำ 2B ขึ้นไป ระบายวงกลมทุกวงที่ต้องการให้ดำเต็มวง
- ถ้าต้องการแก้ไข ให้ใช้ยางลบลบให้สะอาดก่อน จึงระบายวงใหม่
- ห้ามขีดเขียนสิ่งอื่นใดนอกเหนือจากที่ระบุไว้

## ตัวอย่าง



1 ① ② ③ ④	26 ① ② ③ ④	51 ① ② ③ ④	76 ① ② ③ ④	101 ① ② ③ ④	126 ① ② ③ ④
2 ① ② ③ ④	27 ① ② ③ ④	52 ① ② ③ ④	77 ① ② ③ ④	102 ① ② ③ ④	127 ① ② ③ ④
3 ① ② ③ ④	28 ① ② ③ ④	53 ① ② ③ ④	78 ① ② ③ ④	103 ① ② ③ ④	128 ① ② ③ ④
4 ① ② ③ ④	29 ① ② ③ ④	54 ① ② ③ ④	79 ① ② ③ ④	104 ① ② ③ ④	129 ① ② ③ ④
5 ① ② ③ ④	30 ① ② ③ ④	55 ① ② ③ ④	80 ① ② ③ ④	105 ① ② ③ ④	130 ① ② ③ ④
6 ① ② ③ ④	31 ① ② ③ ④	56 ① ② ③ ④	81 ① ② ③ ④	106 ① ② ③ ④	131 ① ② ③ ④
7 ① ② ③ ④	32 ① ② ③ ④	57 ① ② ③ ④	82 ① ② ③ ④	107 ① ② ③ ④	132 ① ② ③ ④
8 ① ② ③ ④	33 ① ② ③ ④	58 ① ② ③ ④	83 ① ② ③ ④	108 ① ② ③ ④	133 ① ② ③ ④
9 ① ② ③ ④	34 ① ② ③ ④	59 ① ② ③ ④	84 ① ② ③ ④	109 ① ② ③ ④	134 ① ② ③ ④
10 ① ② ③ ④	35 ① ② ③ ④	60 ① ② ③ ④	85 ① ② ③ ④	110 ① ② ③ ④	135 ① ② ③ ④
11 ① ② ③ ④	36 ① ② ③ ④	61 ① ② ③ ④	86 ① ② ③ ④	111 ① ② ③ ④	136 ① ② ③ ④
12 ① ② ③ ④	37 ① ② ③ ④	62 ① ② ③ ④	87 ① ② ③ ④	112 ① ② ③ ④	137 ① ② ③ ④
13 ① ② ③ ④	38 ① ② ③ ④	63 ① ② ③ ④	88 ① ② ③ ④	113 ① ② ③ ④	138 ① ② ③ ④
14 ① ② ③ ④	39 ① ② ③ ④	64 ① ② ③ ④	89 ① ② ③ ④	114 ① ② ③ ④	139 ① ② ③ ④
15 ① ② ③ ④	40 ① ② ③ ④	65 ① ② ③ ④	90 ① ② ③ ④	115 ① ② ③ ④	140 ① ② ③ ④
16 ① ② ③ ④	41 ① ② ③ ④	66 ① ② ③ ④	91 ① ② ③ ④	116 ① ② ③ ④	141 ① ② ③ ④
17 ① ② ③ ④	42 ① ② ③ ④	67 ① ② ③ ④	92 ① ② ③ ④	117 ① ② ③ ④	142 ① ② ③ ④
18 ① ② ③ ④	43 ① ② ③ ④	68 ① ② ③ ④	93 ① ② ③ ④	118 ① ② ③ ④	143 ① ② ③ ④
19 ① ② ③ ④	44 ① ② ③ ④	69 ① ② ③ ④	94 ① ② ③ ④	119 ① ② ③ ④	144 ① ② ③ ④
20 ① ② ③ ④	45 ① ② ③ ④	70 ① ② ③ ④	95 ① ② ③ ④	120 ① ② ③ ④	145 ① ② ③ ④
21 ① ② ③ ④	46 ① ② ③ ④	71 ① ② ③ ④	96 ① ② ③ ④	121 ① ② ③ ④	146 ① ② ③ ④
22 ① ② ③ ④	47 ① ② ③ ④	72 ① ② ③ ④	97 ① ② ③ ④	122 ① ② ③ ④	147 ① ② ③ ④
23 ① ② ③ ④	48 ① ② ③ ④	73 ① ② ③ ④	98 ① ② ③ ④	123 ① ② ③ ④	148 ① ② ③ ④
24 ① ② ③ ④	49 ① ② ③ ④	74 ① ② ③ ④	99 ① ② ③ ④	124 ① ② ③ ④	149 ① ② ③ ④
25 ① ② ③ ④	50 ① ② ③ ④	75 ① ② ③ ④	100 ① ② ③ ④	125 ① ② ③ ④	150 ① ② ③ ④



NINE100.COM

ทดสอบความรู้ความสามารถ ด้วยวิธีสอบข้อเขียน ข้อสอบปรนัย 4 ตัวเลือก

1. ผลรวมของเลขจำนวนเต็ม 7 ตัว เรียงกันมีค่า 1365 อยากทราบว่า จำนวนที่มากที่สุดคือ

- 1. 199
- 2. 198
- 3. 197
- 4. 196

2. ระหว่าง 10 – 300 มีจำนวนเต็มกี่จำนวนที่หารด้วย 7 ลงตัว

- 1. 40
- 2. 41
- 3. 42
- 4. 44

3. จงหาค่า A + B

- 15	4	A	23	-42
30	-15	45	B	105

- 1. -60
- 2. -79
- 3. -19
- 4. 79

4. เลข 4 จำนวนเรียงกัน รวมกันได้ 162 จงหาเลขจำนวนที่ 3

- 1. 40
- 2. 41
- 3. 42
- 4. 43

5. ถ้า  $\frac{X}{2} + 8 = 18$  จงหาค่า X

- 1. 18
- 2. 20
- 3. 22
- 4. 24

6. ถ้า  $A : B = 2 : 5$  ,  $A : C = 4 : 7$  ,  $A : D = 3 : 7$  แล้วค่าต่ำที่สุดของ  $A + B + C + D$  คือ

- 1. 51
- 2. 61
- 3. 81
- 4. 91

7. ถ้า  $s + t = 12$  และ  $\frac{1}{s} + \frac{1}{t} = 24$  แล้ว  $st$  มีค่าเท่าใด

- 1.  $\frac{1}{2}$
- 2.  $\frac{2}{3}$
- 3. 36
- 4. 48

8. 2500      625      250      175      160 ...

1. 125

2. 139

3. 145

4. 157

9. จงหาค่าของ  $\frac{1}{2} + \frac{1}{6} + \frac{1}{12} + \frac{1}{20} + \dots + \frac{1}{90} = ?$

1. 1

2.  $\frac{9}{10}$

3.  $\frac{1}{2}$

4. 10

10. จำนวน 2 จำนวนรวมกันเท่ากับ 56 ผลต่างเท่ากับ 22 จำนวนที่มีค่าน้อยคือข้อใด

1. 17

2. 18

3. 19

4. 20

11. ถ้า  $a = 4$ ,  $b = 6$ ,  $abc = 48$  และ  $ad + bc = 40$  อยากทราบว่า  $d$  มีค่าเท่าไร

1. 3

2. 5

3. 7

4. 9

12. สุรีต้องการติดตั้งเสาไฟรอบที่ดินรูปสี่เหลี่ยมผืนผ้ากว้าง 27 เมตร 50 เซนติเมตร และยาว 35 เมตร โดยที่เสาไฟฟ้าทุกต้นจะต้องมีระยะห่างกันมากที่สุดและเท่าๆ กัน จำนวนเสาไฟที่ใช้ทั้งหมดกี่ต้น

1. 25

2. 26

3. 50

4. 51

13. ถ้า 479, A84 ทหารด้วย 9 ลงตัวแล้ว A คือ

1. 2

2. 3

3. 4

4. 5

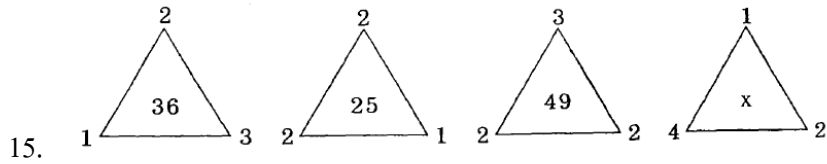
14. กำหนดให้  $A = \{ 1, 2, \{ 3, 4 \}, \{ 5 \} . 6 \}$  แล้วเซต A มีสมาชิกทั้งหมดกี่ตัว

1. 3 ตัว

2. 4 ตัว

3. 5 ตัว

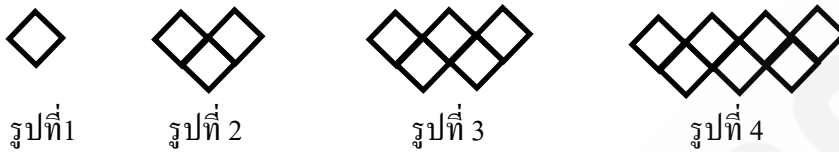
4. 6 ตัว



x มีค่าเท่าใด

1. 36
2. 49
3. 27
4. 25

16. จากรูปดังกล่าวพิจารณาว่า รูปที่เท่าใด จะมี  ทั้งหมด 201 รูป



1. รูปที่ 99
2. รูปที่ 100
3. รูปที่ 101
4. รูปที่ 102

17. 36 เป็น 12% ของจำนวนใด

1. 300
2. 280
3. 275
4. 250

18. กำหนด  $A = \{0, \{1\}, \emptyset\}$  แล้วข้อใดถูก

1.  $\emptyset \in A$
2.  $\emptyset \subset A$
3.  $\{\{1\}\} \in P(A)$
4. ถูกทุกข้อ

19. 7% ของ 20% ของเงิน 10,000 บาท เป็น 5% ของเงินกี่บาท

1. 5,400
2. 4,200
3. 2,800
4. 1,240

20. โต๊ะรูปสี่เหลี่ยมผืนผ้ากว้าง 3 เมตร ยาว 5 เมตร อัตราส่วนของด้านยาวต่อความยาวรอบรูปเท่ากับเท่าใด

1. 3 : 5
2. 5 : 3
3. 3 : 16
4. 5 : 16

21. กำหนด  $A = B, B \neq C, C = D$  ข้อใดถูกต้อง

1.  $A \neq C$
2.  $A > D$
3.  $C \neq D$
4.  $B > D$

22. กำหนดให้  $p, q, r$  และ  $s$  เป็นประพจน์ใดๆ โดยที่  $(p \vee q) \rightarrow (q \vee s)$  เป็นเท็จ และ  $p \rightarrow q$  เป็นจริง  
ประพจน์ในข้อใดต่อไปนี้มีค่าความจริงเป็นเท็จ

1.  $p \rightarrow s$

2.  $q \rightarrow s$

3.  $r \rightarrow s$

4.  $q \rightarrow r$

23. กำหนดเหตุให้ดังต่อไปนี้

เหตุ 1. ทุกจังหวัดที่อยู่ไกลจากกรุงเทพฯ เป็นจังหวัดที่มีอากาศดี

2. เชียงใหม่เป็นจังหวัดที่อากาศไม่ดี

ข้อสรุปใดต่อไปนี้มีสมเหตุสมผล

1. เชียงใหม่เป็นจังหวัดที่อยู่ไม่ไกลจากกรุงเทพฯ

2. นราธิวาสเป็นจังหวัดที่อยู่ไม่ไกลจากกรุงเทพฯ

3. เชียงใหม่เป็นจังหวัดที่อยู่ไกลจากกรุงเทพฯ

4. นราธิวาสเป็นจังหวัดที่อยู่ไกลจากกรุงเทพฯ

24. 20 % ของเลขจำนวนใดมีค่าเท่ากับ 30% ของ 1,750

1. 1,750

2. 2,545

3. 2,625

4. 2,850

25. น้ำผสมแอลกอฮอล์ จำนวน 6 ลิตร มีความเข้มข้น 20% ผสมกับของเหลวอย่างเดียวกันจำนวน 4 ลิตร  
ความเข้มข้น 60% อยากทราบว่าของผสมใหม่มีความเข้มข้นกี่เปอร์เซ็นต์

1. 30%

2. 35%

3. 36%

4. 40%

26. ข้าวสารจำนวนหนึ่งสามารถเลี้ยงทหารได้ 500 คน ได้นาน 42 วัน ถ้าทหารเพิ่มขึ้นอีก 100 คน และลด

อาหารลง  $\frac{2}{7}$  ของที่มีอยู่ จะสามารถเลี้ยงทหารได้นานกี่วัน

1. 25 วัน

2. 42 วัน

3. 49 วัน

4. 54 วัน

27. นาย ก ฝากเงิน 100,000 บาท อัตราดอกเบี้ย 10% นาย ข ฝากเงิน 100,000 บาท อัตราดอกเบี้ย 12% แต่  
ต้องเสียภาษี 15% ถามว่าเมื่อสิ้นปี ใครได้เงินมากกว่ากัน

1. นาย ข มากกว่า 100

2. นาย ข มากกว่า 200

3. นาย ก มากกว่า 100

4. นาย ก มากกว่า 200

28. ต้องเติมน้ำลงไปอีกเท่าใด จึงทำให้สารละลายเกลือความเข้มข้น 10% จำนวน 20 ลิตร มีความเข้มข้นลดลงเหลือ 8%

- |           |            |
|-----------|------------|
| 1. 2 ลิตร | 2. 4 ลิตร  |
| 3. 5 ลิตร | 4. 10 ลิตร |

29. ฝากเงิน 4,000 บาท ได้ดอกเบี้ย 100 บาท อัตราดอกเบี้ย 5% จงหาระยะเวลาที่ฝาก

- |         |            |
|---------|------------|
| 1. 1 ปี | 2. 2 ปี    |
| 3. ½ ปี | 4. 3 เดือน |

30. ชายกลุ่มหนึ่งเดินมา ปรากฏว่ามีคนสวมหมวก 6 คน มีคนใส่แว่น 3 คน ในจำนวนนี้มีคนที่ทั้งสวมหมวกและใส่แว่น 2 คน อยากทราบว่าคนที่สวมหมวกแต่ไม่ใส่แว่นมีกี่คน

- |         |         |
|---------|---------|
| 1. 1 คน | 2. 2 คน |
| 3. 3 คน | 4. 4 คน |

31. ในการสำรวจกลุ่มคน 30 คน มีฟังเพลงลูกทุ่ง 20 คนฟังเพลงสากล 7 คน ไม่ฟังเพลงใดเลย 8 คน อยากทราบว่ามีกี่คนที่ฟังทั้ง 2 แบบ

- |          |          |
|----------|----------|
| 1. 20 คน | 2. 12 คน |
| 3. 5 คน  | 4. 4 คน  |

32. เอน้ำตาลแดง 4 กก. ราคา กก. ละ 5 บาท ผสมกับน้ำตาลขาว 6 กก. ราคา กก. ละ 7.50 บาท น้ำตาลผสมราคา กก. ละกี่บาท

- |             |             |
|-------------|-------------|
| 1. 5.25 บาท | 2. 5.50 บาท |
| 3. 6.25 บาท | 4. 6.50 บาท |

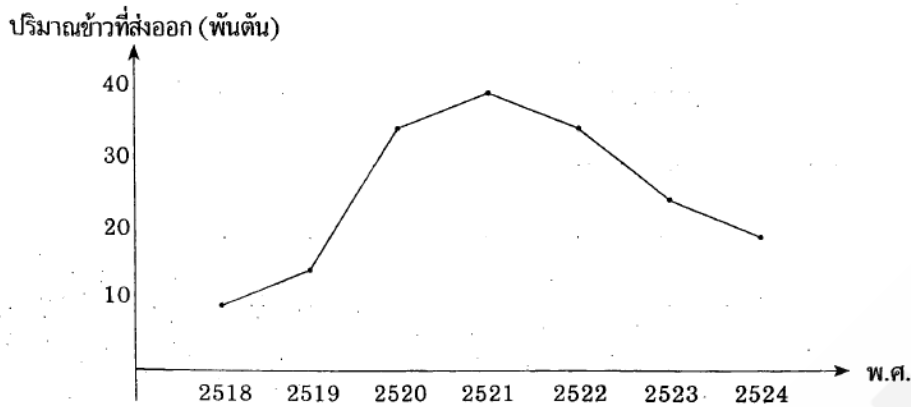
33. คนงาน 6 คน สร้างห้องเก็บของเสร็จภายในเวลา 12 ชั่วโมง แล้วถ้ามีคนงานแค่ 2 คน จะต้องใช้ระยะเวลาเท่าใด ในการสร้างห้องเก็บของ

- |               |               |
|---------------|---------------|
| 1. 25 ชั่วโมง | 2. 30 ชั่วโมง |
| 3. 34 ชั่วโมง | 4. 36 ชั่วโมง |

34. ในการสอบเลขครึ่งหนึ่งผลคะแนนสอบเฉลี่ยของ 3 คน คือ A, B, C มีค่าเป็น 10 แต่เมื่อนำผลของคะแนนของนักเรียน 6 คน คือ A, B, C, D, E และ F มาเฉลี่ย พบว่าได้คะแนนเฉลี่ย 21 จงหาคะแนนเฉลี่ยของนักเรียน 3 คน คือ D, E, F

- |       |       |
|-------|-------|
| 1. 18 | 2. 24 |
| 3. 32 | 4. 96 |

กราฟ แสดงปริมาณการส่งออกข้าวตั้งแต่ปี 2518 – 2524



35. ปริมาณการส่งออกในปี 2521 เป็นกี่เท่าของปี 2518

- |      |        |
|------|--------|
| 1. 3 | 2. 3.5 |
| 3. 4 | 4. 4.5 |

36. ปริมาณการส่งข้าวออกในปี 2524 ลดลงจากปี 2523 กี่เปอร์เซ็นต์

- |           |           |
|-----------|-----------|
| 1. 0.80 % | 2. 20 %   |
| 3. 80 %   | 4. 0.20 % |

37. พื้นที่ผิวข้างของทรงกระบอกเป็น 1,000 ตารางเซนติเมตร และมีเส้นผ่านศูนย์กลางที่ฐานยาว 20 เซนติเมตร จะมีปริมาตรเท่าไร

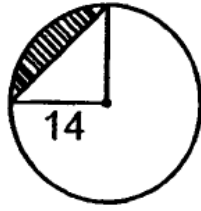
- |                 |                 |
|-----------------|-----------------|
| 1. 5,500 ลบ.ซม. | 2. 5,000 ลบ.ซม. |
| 3. 2,500 ลบ.ซม. | 4. 2,000 ลบ.ซม. |

38. รูปสี่เหลี่ยมจัตุรัสที่มีด้านยาว  $a$  หน่วย มีพื้นที่ 15 ตารางหน่วย รูปสี่เหลี่ยมจัตุรัสที่มีด้านยาว  $2a$  หน่วย จะมีพื้นที่เท่าไร

- |                  |                  |
|------------------|------------------|
| 1. 30 ตารางหน่วย | 2. 40 ตารางหน่วย |
| 3. 60 ตารางหน่วย | 4. 80 ตารางหน่วย |

39. สนามรูปสี่เหลี่ยมจัตุรัสแห่งหนึ่ง มีเส้นทแยงมุม = 60 เมตร จะมีพื้นที่กี่ตารางเมตร

- |                    |                    |
|--------------------|--------------------|
| 1. 1,600 ตารางเมตร | 2. 1,700 ตารางเมตร |
| 3. 1,800 ตารางเมตร | 4. 1,900 ตารางเมตร |



40. จงหาพื้นที่แรเงา

- |                  |                  |
|------------------|------------------|
| 1. 52 ตารางหน่วย | 2. 54 ตารางหน่วย |
| 3. 56 ตารางหน่วย | 4. 58 ตารางหน่วย |

41. ข้อใดมีรูปวรรณยุกต์และเสียงวรรณยุกต์ตรงกัน

- |        |         |         |         |
|--------|---------|---------|---------|
| 1. ปาก | 2. กล้า | 3. เร้า | 4. มั่น |
|--------|---------|---------|---------|

42. ข้อใดจำเป็นต้องใช้คำต่างประเทศ

1. ราคาน้ำมันดีเซลและเบนซินขึ้นๆ ลงๆ ตามกลไกการตลาด
2. รัฐบาลประกาศจำกัดคอร์รัปชันให้หมดไปจากประเทศไทย
3. ยักษ์ใหญ่มือถือหุ้มโปร โมชั่นใหม่ๆ เนียนกันดูเด็ด
4. เวลาขับรถต้องคาดเซฟตี้เบลต์ทุกครั้ง

43. ข้อใดมีคำที่อ่านผิดปรากฏอยู่

- |           |              |         |        |
|-----------|--------------|---------|--------|
| 1. แถง    | ละ-แหง       | 2. ไถง  | ไถ-งะ  |
| 3. ทานบตี | ทาน-นะ-บอ-ตี | 4. ทิจู | ทิด-ถิ |

44. ข้อใดใช้ถ้อยคำภาษาถูกต้อง

1. ดวงใจร้องไห้กระซิกกระซืออยู่ในห้อง
2. ตำรวจกำลังสืบสวนผู้ต้องหาคนสำคัญ
3. เธอซัดจีนจึงถูกคนร้ายทำร้ายร่างกาย
4. ฝนเริ่มตกประปรายเมื่อย่างเข้าสู่ฤดูมรสุม

45. ข้อใดใช้สำนวนถูกต้อง

1. รีบรวบรัดตัดความเข้าจนจะหมดเวลาอภิปรายแล้ว
2. ก้องฟ้าที่ชายในไส้ของก้องสมุทรจะขึ้นชิงแชมป์โลก
3. คราวนี้มาดูเรื่องต้นทุนการผลิตที่ยังเถียงกันไม่ตกปาก
4. ชาวสวนนำผลไม้มาประกวดประชันกันอย่างมากมายในงานวันนี้

46. “ พระตรีโลกนาถแผ้ว เผล็จมาร  
แจกพระราชสมภาร พี่น้อง ”

ข้อความนี้เป็นโวหารชนิดใด

1. อุปลักษณ์                      2. สัทพจน์                      3. บุคคลวัต                      4. อุปมา

47. การเขียนเรียงความข้อใดไม่ถูกต้อง

1. การเขียนด้วยลายมือที่อ่านง่าย สะกดถูกต้อง  
2. ต้องมีย่อหน้ามากๆ เพื่อให้มีรายละเอียด  
3. ชื่อเรื่องอยู่กึ่งกลางหน้ากระดาษ  
4. ต้องมี คำนำ เนื้อเรื่อง และสรุปจดจำได้ง่าย

48. ข้อใดกล่าวถูกต้องเกี่ยวกับประโยคความรวม

1. ประโยคที่มีใจความเดียวเท่านั้น      2. ประโยคที่มีคำสันธานทำหน้าที่เชื่อมประโยค  
3. ประโยคที่มีใจความสำคัญมากที่สุด      4. ประโยคที่มีประโยคหลักและประโยคย่อย

49. คำเป็นมีตัวสะกดในมาตราใด

1. กง กน กม เกย เกอว                      2. กก กค กบ เกย เกอว  
3. กง กค กบ กม กก                      4. เกย เกอว กค กง กม

50. ข้อใดมีคำที่อ่านผิดปรากฏอยู่

1. ประมินทร์      ประ-ระ-มิน, ปอ-ระ-มิน  
2. ปฤษฎางค์      ประ-ริด-สะ-ดาง  
3. ปรั๊ก      ประ-หรั๊ก  
4. ปุณทริก      ปุณ-คะ-ริก, ปุณ-ทะ-ริก

51. ข้อใดเป็นคำที่มาจากภาษาเขมร

1. ถนน                      2. สบู่                      3. ราชการ                      4. ขี้เถ้า

52. “ ” เรียกว่าเครื่องหมายอะไร

1. อัญประกาศ                      2. สัญลักษณ์                      3. บุพสัญลักษณ์                      4. ยัติภังค์

53. ข้อใดมีโครงสร้างเหมือนประโยคซ้อนต่อไปนี “ช่างซ่อมแอร์ที่เป็นตำนาน”



1. เงินวางอยู่บนโต๊ะหายไปไหน
2. นางเอกที่ป่วยกำลังไปโรงพยาบาล
3. เขาชมการประกวดเวทีสำคัญ
4. พ่อเช่าภาพยนตร์ที่ทุกคนชอบ

54. “เขาเป็นว่าใครอยากดูของดี สินค้าโอท็อปไทย ให้แวะไปริมคลองผดุง เขาขนสินค้าจากทั่วประเทศมาออกร้านงานนี้ อย่าลืมพกเงินไปเยอะๆ นะครับ” คำกล่าวนี้มีลักษณะในข้อใด

1. แนะนำ
2. บอกกล่าว
3. ชักชวน
4. โฆษณา

55. ข้อใดคำลักษณะนามไม่ถูกต้อง

1. พระพุทธเจ้าทุกพระองค์สอนให้ละชั่ว ทำดี ทำจิตใจให้ผ่องใส
2. สมศรีทำงานมบ้นขลิปได้หลายตัวแล้วนำมารับประทานกับเพื่อนๆ
3. โฉนดที่ดินทุกฉบับที่เจ้าพนักงานออกให้นั้นจะต้องลงลายมือชื่อกำกับด้วย
4. สถานีตำรวจภูธรเพชรบุรีมีเจ้าหน้าที่ระดับสัญญาบัตรจำนวน 10 ราย

56. คำในข้อใดมีคำตายทุกคำ

1. เลือก แบบ นิด
2. อย่า เพิ่ง เปื่อ
3. เกลือ ไทย ดี
4. ทุก สิ่ง ขาย

57. “ลูกสุนัขกำพร้าหมดทั้ง \_\_\_\_\_ เพราะแม่สุนัขถูกไฟ \_\_\_\_\_ ตาย” ควรเติมคำตามข้อใด

1. ครอก, ครอก
2. ครอก, คลอก
3. คลอก, คลอก
4. คลอก, ครอก

58. ข้อใดไม่อาจอนุมานได้จากข้อความนี้

“ผมไม่เคยเขียนงานอะไรมาก่อนเลยแต่ก็ไม่รู้สึกมีปัญหาอะไรเพราะชอบวิชาภาษาไทยอยู่แล้ว เพียงแต่อาจจะฝืนนิดหน่อยกว่าที่จะเสร็จแต่ละชิ้น บางทีลงพิมพ์แค่หน้าสองหน้า แต่เขียนเป็นวันเพราะเราไม่ชำนาญทางด้านเขียน แต่ก็ต้องขึ้นเรื่อยๆ และเป็นงานที่สนุกดี”

1. ผู้เขียนเป็นนักเขียน
2. ผู้เขียนพอใจงานของตน
3. ผู้เขียนเพิ่งเริ่มงานเขียนได้ไม่นานนัก
4. ผู้เขียนใช้ความรู้ด้านภาษาไทยช่วยในการเขียน

59. ข้อใดใช้ภาษาแบบแผน

1. ทางบริษัททุ่มงบประมาณในโครงการนี้อย่างเต็มที่
2. ทางกระทรวงเดินทางพัฒนาหน่วยงานอย่างต่อเนื่อง

3. ทางโรงเรียนได้รับทุนสนับสนุนกิจกรรมดังกล่าวจากภาคเอกชน
4. ทางสมาคมแจ้งเหตุผลอย่างละเอียดเป็นที่เข้าใจตรงกันในหมู่สมาชิก

60. เหตุใดต้องรักษามารยาทในการเขียนจดหมาย

1. เพราะจดหมายเป็นเครื่องแสดงความรู้สึกและอุปนิสัยของผู้เขียน
2. เพราะเป็นการติดต่อสื่อสารที่เป็นลายลักษณ์อักษร
3. เพราะจดหมายเป็นเครื่องมือวัดความเจริญทางการศึกษา
4. เพราะจดหมายเป็นตัวแทนของบุคคลที่ไม่คุ้นเคยกัน

61. ประโยคในข้อใดเป็นอุปมาโวหาร

1. สมศักดิ์สูงเหมือนเสาไฟฟ้า
2. ทำดีได้ดี ทำชั่วได้ชั่ว
3. ตู๊กเป็นสาวร่างอวบ ผิวขาว ไม่มีดั่ง
4. บรรยากาศยามเย็นริมทะเลมีนกกบินว่อนไปทั่ว

62. ข้อใดมีคำที่เขียนผิดปรากฏอยู่

1. ผ้าบังสุกุลใช้ในพิธีพระราชทานเพลิงศพ
2. เชนี่เจอเรื่องร้ายไม่หยุดหย่อนเข้าทำนองผีซ้ำด้าพลอย
3. ครุควงสมรดีใจที่ได้รับพระราชทานเครื่องราชอิสริยาภรณ์
4. จะทำอะไรก็รีบทำไม่ต้องพิธีรีตองอะไรให้มากเรื่องนั้ด

63. ข้อใดเป็นสระแท้ทุกคำ

1. สุกร์สิบสาม
2. ร่วมด้วยช่วยกัน
3. ธรรมะปราบคนชั่ว
4. กรุณานัดล่วงหน้า

64. คำใดสลับย้ายตำแหน่งกันแล้วยังมีความหมายคงเดิม

1. ทักทาย-ทายทัก
2. ติดตาม-ตามติด
3. ไถ่ถาม-ถามไถ่
4. โต้ตอบ-ตอบโต้

65. ข้อใดคือหลักการทำงานของคอมพิวเตอร์

1. แสดงผลข้อมูล รับข้อมูล จัดเก็บข้อมูล
2. รับข้อมูล ประมวลผลข้อมูล แสดงผลข้อมูล
3. จัดเก็บข้อมูล รับข้อมูล ประมวลผลข้อมูล
4. รับข้อมูล แสดงผลข้อมูล ประมวลผลข้อมูล

66. I've been in Bangkok \_\_\_\_\_

- |                     |                       |
|---------------------|-----------------------|
| 1. two months ago   | 2. for two months     |
| 3. since two months | 4. for two months ago |

67. I \_\_\_\_\_ many stories but nobody \_\_\_\_\_ to read them.

- |                        |                     |
|------------------------|---------------------|
| 1. wrote, wanting      | 2. write, wanted    |
| 3. have written, wants | 4. writing, wanting |

68. I \_\_\_\_\_ that story before.

- |               |               |
|---------------|---------------|
| 1. hear       | 2. had heard  |
| 3. am hearing | 4. have heard |

69. I read the newspaper while David \_\_\_\_\_ ready to leave.

- |                |            |
|----------------|------------|
| 1. gets        | 2. got     |
| 3. was getting | 4. had got |

70. If I know his address, I \_\_\_\_\_

- |                       |                      |
|-----------------------|----------------------|
| 1. will write         | 2. will have written |
| 3. would have written | 4. would write       |

71. If I \_\_\_\_\_ the truth, I would have told you.

- |             |               |
|-------------|---------------|
| 1. had know | 2. knew       |
| 3. know     | 4. would know |

72. Situation: In the class room or meeting room.

You want to leave the room. You say, " \_\_\_\_\_ "

- |                            |                         |
|----------------------------|-------------------------|
| 1. Will I go out?          | 2. May I go out?        |
| 3. Shall I leave the room? | 4. Do I leave the room? |

73. Situation: In the bus or BTS sky train.

You are looking for a seat. You say, " \_\_\_\_\_ "

- |                      |                       |
|----------------------|-----------------------|
| 1. Can you sit down? | 2. Will you sit here? |
| 3. Shall I sit here? | 4. May I sit here?    |

74. You want to borrow some money from your friend. You say, “ \_\_\_\_\_ ”

- |                                     |  |
|-------------------------------------|--|
| 1. Do you lend me 100 Baht, please? | 2. I want to borrow 100 Baht from you. |
| 3. Can you lend me 100 Baht?        | 4. Can I borrow 100 Baht?              |

75. I do not mind \_\_\_\_\_ for you.

- |         |            |          |            |
|---------|------------|----------|------------|
| 1. wait | 2. waiting | 3. waits | 4. to wait |
|---------|------------|----------|------------|

76. Let me \_\_\_\_\_ home with you.

- |       |          |          |         |
|-------|----------|----------|---------|
| 1. go | 2. to go | 3. going | 4. goes |
|-------|----------|----------|---------|

77. A: I'm sorry I can't come to your party.

B: \_\_\_\_\_

- |                      |                     |
|----------------------|---------------------|
| 1. That's all right. | 2. How bad you are. |
| 3. You are welcome.  | 4. That's great.    |

78. A: Hello. Can I speak to the manager, please?

B: \_\_\_\_\_

A: I'm George Clark, the computer salesperson.

- |                           |                               |
|---------------------------|-------------------------------|
| 1. Where is that from?    | 2. Who are you?               |
| 3. Who's calling, please? | 4. Yes, but I don't know you. |

79. Situation: At the hotel

Receptionist: Hello. Laithong Hotel.

B: \_\_\_\_\_

Receptionist: Yes, please wait a minute.

1. Could you put me through to room 232, please?
2. Could you put the line to room 232, please?
3. Can you call room 232, please?
4. Can you call room 232, please?

80. He \_\_\_\_\_ from the editorship of the school paper.

- |              |             |
|--------------|-------------|
| 1. deviated  | 2. expired  |
| 3. comprised | 4. resigned |

81. The landlords were \_\_\_\_\_ to surrender their privileges after the land reform.

- |            |              |
|------------|--------------|
| 1. ignored | 2. remised   |
| 3. omitted | 4. compelled |

82. Maggy is \_\_\_\_\_ attractive than Mary.

- |              |              |
|--------------|--------------|
| 1. much more | 2. very much |
| 3. the more  | 4. too much  |

83. This man is \_\_\_\_\_ to succeed in business.

- |              |             |
|--------------|-------------|
| 1. so lazy   | 2. too lazy |
| 3. more lazy | 4. as lazy  |

84. The weather is \_\_\_\_\_ for swimming.

- |           |             |
|-----------|-------------|
| 1. cloudy | 2. suitable |
| 3. sunny  | 4. hot      |

85. A carpenter can work best when he uses the \_\_\_\_\_ tool.

- |            |                |
|------------|----------------|
| 1. proper  | 2. proactive   |
| 3. pro tem | 4. probabilism |

86. I have both a brother and sister but my friend, John, has \_\_\_\_\_

- |           |            |
|-----------|------------|
| 1. either | 2. neither |
| 3. none   | 4. any     |

87. There are a lot of books in this library, but \_\_\_\_\_ that he really likes.

- |                         |                      |
|-------------------------|----------------------|
| 1. have very few        | 2. have little       |
| 3. there are only a few | 4. there is a little |

88. Every student says \_\_\_\_\_ will do \_\_\_\_\_ best.

- |                |              |
|----------------|--------------|
| 1. they, their | 2. they, his |
| 3. he, his     | 4. he, their |



98. The manager \_\_\_\_\_ us two this afternoon.

- |              |                |
|--------------|----------------|
| 1. see       | 2. will see    |
| 3. is seeing | 4. will seeing |

99. \_\_\_\_\_ kind of cars do you like? I like CNG car

- |         |          |         |          |
|---------|----------|---------|----------|
| 1. What | 2. Which | 3. That | 4. Whose |
|---------|----------|---------|----------|

100. Mr. Choowy. "Would you like to order cake or pancake?"

Mr. Choosak. "No thanks, \_\_\_\_\_ of the dessert is delicious."

- |         |        |            |           |
|---------|--------|------------|-----------|
| 1. each | 2. any | 3. neither | 4. either |
|---------|--------|------------|-----------|

101. Mr. Black is a car dealer; he \_\_\_\_\_ in new and used car.

- |              |             |
|--------------|-------------|
| 1. depresses | 2. evades   |
| 3. deals     | 4. bereaves |

102. \_\_\_\_\_ driving causes accidents.

- |              |             |
|--------------|-------------|
| 1. Effective | 2. Reckless |
| 3. Efficient | 4. Effort   |

103. The class \_\_\_\_\_ you to speak for us in the meeting.

- |          |            |
|----------|------------|
| 1. erase | 2. entire  |
| 3. heed  | 4. elected |

104. The cast on her foot \_\_\_\_\_ her movement.

- |              |               |
|--------------|---------------|
| 1. restrains | 2. diminutive |
| 3. great     | 4. ignorant   |

105. Where can you see this sign?



1. Construction Zone
2. Restroom
3. Canteen
4. Library

106. โปรแกรมใดเป็น Browser ของบริษัท Microsoft

1. Opera
2. Netscape
3. Neoplanet
4. Internet Explorer

107. Time sharing คืออะไร

1. ยี่ห้อคอมพิวเตอร์ที่ทำให้ยานอวกาศเดินทางได้เร็วกว่าแสง หรือเทียบเท่า
2. ระบบคอมพิวเตอร์ที่ทำให้ผู้ใช้หลายคนสามารถแบ่งใช้หน่วยประมวลผลกลางเครื่องเดียวกัน
3. ระบบ Internet ที่ใช้เวลาในการตัดสินใจเข้าถึงข้อมูล จาก ISP คนละจุด
4. ชื่อ CPU รุ่นใหม่ที่ออกแบบ โดย Intel Corporation

108. โปรแกรม NOTEPAD ถือเป็นโปรแกรมประเภทใด

1. ซอฟต์แวร์จัดการระบบฐานข้อมูล (Database management software)
2. ซอฟต์แวร์จัดพิมพ์เอกสาร (Word processing software)
3. ซอฟต์แวร์ทำการคำนวณ (Calculation software)
4. ซอฟต์แวร์ทางกราฟฟิก (Graphic software)

109. Server computer คืออะไร

1. คอมพิวเตอร์เครื่องที่ให้บริการ และมีเครื่องลูกขอติดต่อเข้าใช้บริการ
2. คอมพิวเตอร์ที่ทำหน้าที่ตรวจสอบไวรัส
3. คอมพิวเตอร์ที่ตั้งให้บริการตามจุดขายใน supermarket
4. คอมพิวเตอร์เป็น 10 ที่ตั้งเรียงกันให้บริการใน Cyber net



110. เครื่องคอมพิวเตอร์ที่มีการคำนวณโดยการนับจำนวนโดยตรง ข้อมูลที่นับได้จะเก็บเป็นรหัส ตัวเลขฐาน 2 คือ มีเลข 0 กับเลข 1 หมายถึงข้อใด

1. ดิจิตอลคอมพิวเตอร์
2. ไฮบริดคอมพิวเตอร์
3. อนาล็อกคอมพิวเตอร์
4. ถูกทุกข้อ

111. หากจะนำเสนอข้อมูลควรงานโปรแกรมใด

1. Microsoft Word
2. Microsoft Office
3. Microsoft PowerPoint
4. Winrar

112. ข้อมูลที่เก็บจะหายเมื่อปิดไฟเครื่อง เป็นคุณสมบัติของอะไร

1. DRAM
2. SRAM
3. ROM
4. RAM

113. หน่วยของข้อมูลที่เกิดจากการนำบิตมารวมกัน คือ

1. Field
2. Byte
3. File
4. Database

114. ข้อมูล คืออะไร

1. ข้อมูลที่ได้รับการกรอง และเรียบเรียง ที่สามารถนำไปใช้งานได้
2. ความเป็นจริงที่ยังเป็นข้อมูลดิบซึ่งไม่ได้ผ่านการประมวลผลใดๆ
3. ข้อมูลที่ประมวลผลแล้ว
4. ผลลัพธ์ของการทำงาน

115. อินเทอร์เน็ตเข้าสู่ประเทศไทยเมื่อปี พ.ศ. ไດ

1. 2520
2. 2525
3. 2530
4. 2535

116. WWW หรือ World Wild Web หมายถึงอะไร

1. การนำคอมพิวเตอร์มาต่อพ่วงกัน
2. Network ที่มีการเชื่อมต่อกันไปทั่วโลก
3. การติดต่อสื่อสารกัน โดยใช้เครือข่าย
4. เทคโนโลยีสารสนเทศที่อาศัยเครือข่าย

117. โดเมนเนม นามสกุล .net มีความหมายคืออะไร

1. สำหรับกลุ่มองค์กรให้บริการเครือข่าย
2. สำหรับกลุ่มองค์กรค้า
3. สำหรับกลุ่มองค์กรทหาร
4. สำหรับกลุ่มองค์กรรัฐบาล

118. โดเมนเนม นามสกุล .gov มีความหมายคืออะไร

1. สำหรับกลุ่มองค์กรบริหาร
2. สำหรับกลุ่มองค์กรค้า
3. สำหรับกลุ่มองค์กรทหาร
4. สำหรับกลุ่มองค์กรรัฐบาล

119. รูปแบบเครือข่ายแบบดาวมีข้อเสียอย่างไร

1. วิเคราะห์จุดเสียบากมาก
2. สิ้นเปลืองสายสัญญาณมาก
3. ใช้อุปกรณ์มากกว่าแบบอื่น
4. ความเร็วของสัญญาณน้อยกว่า

120. ข้อใดกล่าวถึง Ram ได้ถูกต้องมากที่สุด

1. Ram คือ หน่วยความจำอ่านอย่างเดียว เป็นหน่วยความจำชั่วคราว
2. Ram คือ หน่วยความจำเข้าถึงโดยสุ่ม เป็นหน่วยความจำชั่วคราว
3. Ram คือ หน่วยความจำที่มีปริมาณความจุต่อชิป
4. ถูกทุกข้อที่กล่าวมา

121. ข้อใดเป็นลักษณะสำคัญของเครือข่ายแลน (LAN)

1. มีความเร็วในการส่งข้อมูลต่ำ
2. มีรัศมีครอบคลุมพื้นที่ในรัศมี 2,000 ฟุต
3. มีรัศมีครอบคลุมพื้นที่ประมาณ 10 กิโลเมตร
4. ใช้เชื่อมโยงเครื่องคอมพิวเตอร์ไม่เกิน 10 เครื่อง

122. ซีพียู (CPU) มีลักษณะการทำงานโดยอาศัยระบบเชื่อมต่อทางอิเล็กทรอนิกส์ที่เรียกว่า

1. บัส (Bus)
2. สล็อตส่วนขยาย (Expansion slot)
3. พอร์ต (Port)
4. ฮาร์ดดิสก์ (Harddisk)

123. ข้อใดคือ Output Unit

1. จอภาพหรือมอนิเตอร์
2. ลำโพงและหูฟัง
3. เครื่องพิมพ์และเครื่องแอลซีดีโปรเจกเตอร์
4. ถูกทุกข้อ

124. ไอพีแอดเดรสมีไว้เพื่อทำอะไร

1. ใช้กำหนดให้เครื่องบันทึกข้อมูลต่างๆ ของผู้ใช้
2. ใช้สร้างความแตกต่างของเว็บตนเอง เพื่อเรียกความสนใจผู้เข้าชมเว็บ
3. ใช้สร้างระบบเครือข่ายอินเทอร์เน็ต
4. ใช้แสดงแทนชื่อของเครื่องแต่ละเครื่อง

125.  รูปภาพหรือสัญลักษณ์ที่แสดงนี้ตรงกับข้อใด

1. Browser
2. Website
3. Internet
4. ch Web

126. Notebook Computer จัดเป็นคอมพิวเตอร์ประเภทใด

1. ซูเปอร์คอมพิวเตอร์
2. เมนเฟรมคอมพิวเตอร์
3. มินิคอมพิวเตอร์
4. ไมโครคอมพิวเตอร์

127. ความพยายามในการพัฒนาระบบคอมพิวเตอร์ให้คิด ทำงาน มีความสามารถได้เหมือนมนุษย์ เรียกว่าอะไร

1. Artificial Intelligence
2. Natural Language
3. Expert System
4. Robotics

128. ข้อใดไม่ใช่อุปกรณ์บันทึกข้อมูลทางอิเล็กทรอนิกส์

1. แผ่นบันทึกข้อมูล
2. กระดาษขนาดเอ 4 เกรด A
3. แผ่นซีดีรอมและแผ่นดีวีดี
4. ฮาร์ดดิสก์ แผ่นดิสก์เก็ต

129. หากจะจัดทำข้อมูลบัญชีเพื่อประสานงานระหว่างโรงพักควรรใช้งานโปรแกรมใด

1. Microsoft Word
2. Microsoft Office
3. Microsoft PowerPoint
4. Winrar

130. เครื่องคอมพิวเตอร์แบบตั้งโต๊ะที่สนับสนุนการทำงานของคอมพิวเตอร์เครือข่ายซึ่งใช้ในการจัดสรรและใช้ทรัพยากรร่วมกัน หมายถึงข้อใด

1. ไมโครคอมพิวเตอร์
2. สถานีงานวิศวกรรม
3. เซิร์ฟเวอร์คอมพิวเตอร์
4. เมนเฟรมคอมพิวเตอร์

131. ต่อไปนี้คือลักษณะของความผิดต่อส่วนตัวหรือความผิดอันยอมความไม่ได้

1. พนักงานฟ้องเองไม่ได้ต้องให้ผู้เสียหายฟ้องเอง
2. ผู้เสียหายฟ้องคดีเองไม่ได้ต้องให้พนักงานอัยการฟ้องให้
3. พนักงานสอบสวนจะสอบสวนได้ต่อเมื่อผู้เสียหายร้องทุกข์
4. ราษฎรฟ้องคดีต่อส่วนตัว ศาลไม่ต้องไปสวนมูลฟ้อง

132. พระราชกฤษฎีกาตราขึ้นโดยองค์การใด

1. ฝ่ายนิติบัญญัติ
2. ฝ่ายบริหาร
3. ฝ่ายตุลาการ
4. พระมหากษัตริย์โดยคำแนะนำของรัฐบาล

133. กรณีใดไม่เป็นเหตุให้การสมรสสิ้นสุดลง

1. คู่สมรสฝ่ายหนึ่งสาบสูญ
2. คู่สมรสฝ่ายหนึ่งป่วยตาย
3. คู่สมรสจดทะเบียนหย่า
4. ศาลพิพากษาเพิกถอนการสมรสเพราะถูกข่มขู่

134. ผู้เสียหายที่ถูกจำคุกและภายหลังศาลพิพากษาว่าไม่ได้กระทำความผิดสามารถยื่นคำร้องขอทดแทนค่าเสียหายได้จากหน่วยงานใด

1. สำนักงานศาลยุติธรรม
2. กรมคุ้มครองสิทธิและเสรีภาพ กระทรวงยุติธรรม
3. สำนักงานตำรวจแห่งชาติ
4. สำนักงานอัยการสูงสุด

135. กรณีใดต่อไปนี้เป็นสินสมรส

1. เงินเดือนของคู่สมรส
2. เงินถูกรางวัลสลากกาชาดของคู่สมรสฝ่ายหนึ่ง
3. ดอกเบี้ยเงินฝากในธนาคารที่คู่สมรสมีอยู่ก่อนสมรส
4. ถูกทั้งข้อ 1. และข้อ 2.

136. ข้อใดกล่าวถูกต้องเกี่ยวกับระยะเวลาในการแจ้งเกิด

1. กรณีเกิดในบ้านให้แจ้งเกิดภายใน 15 วัน นับแต่วันเกิด
2. กรณีเกิดนอกบ้านให้แจ้งเกิดภายในเวลา 15 วัน นับแต่วันเกิด
3. ในกรณีจำเป็นไม่อาจแจ้งได้ภายในกำหนด ให้แจ้งภายหลังได้แต่ต้องไม่เกิน 30 วันนับแต่วันเกิด
4. ถูกทุกข้อ

137. ข้อใดไม่ใช่เหตุแห่งการ ยกเว้น โทษ

1. เป็นเด็ก
2. ถูกใช้ปืนจี้บังคับให้ยิงผู้อื่น
3. ยิงนายแดงผู้บุกรุกขามวิกาล และถือปืนเล็งเข้ามา
4. นายขาววิกลจริต จึงเอามีดฟันเพื่อนบ้าน

138. บุคคลในข้อใดต่อไปนี้มีอำนาจในการออกหมายปล่อย

1. ตำรวจ
2. พนักงานอัยการ
3. ศาล
4. ราชทัณฑ์

139. ข้อใดต่อไปนี้ข้อใดกล่าวถูกต้องเกี่ยวกับ สัญญาทางปกครอง

1. สัญญาทางปกครอง หมายถึง สัญญาที่คู่สัญญาอย่างน้อยฝ่ายใดฝ่ายหนึ่งเป็นหน่วยงานทางปกครอง
2. มีลักษณะที่เป็นสัญญาสัมปทาน
3. มีลักษณะเป็นสัญญาที่ให้จัดทำบริการสาธารณะ
4. ถูกทุกข้อ

140. กฎหมายข้อใดที่มีศักดิ์อยู่ในลำดับสูงที่สุด

1. พระราชกฤษฎีกา
2. กฎกระทรวง
3. ข้อบัญญัติท้องถิ่น
4. พระราชบัญญัติ

141. ข้อใดไม่ใช่การเปลี่ยนแปลงทางสังคม

1. การอพยพย้ายถิ่น
2. ความยากจน
3. การเปลี่ยนแปลงอุตสาหกรรม
4. ค่านิยมใหม่

142. ข้อใดไม่เกี่ยวข้องกับการเปลี่ยนแปลงทางวัฒนธรรม

1. เปลี่ยนแปลงจากบ้านไม้มาเป็นตึก
2. เปลี่ยนจากการไหว้เป็นจับมือ
3. เปลี่ยนจากชุดไทยมาเป็นชุดราตรี
4. เปลี่ยนจากการกินด้วยมือมาเป็นช้อนส้อม

143. ในเรื่องวัฒนธรรมชุมชนเมืองและชนบทแตกต่างกันในเรื่องใด

1. ศาสนา
2. การเมือง
3. การแต่งกาย
4. ความเชื่อ

144. ปัญหาใดที่จัดเป็นปัญหาทางเศรษฐกิจของชุมชนที่เป็นต้นเหตุนำไปสู่การเกิดปัญหาอื่นในสังคมมากที่สุด

1. ปัญหาเรื่องสุขภาพของประชาชน
2. ปัญหาความแตกต่างในการนับถือศาสนา
3. ปัญหาความยากจน
4. ปัญหาความแตกแยกของคนในสังคม

145. บุคคลข้อใดใช้หลักเศรษฐกิจพอเพียงในการดำเนินชีวิตมากที่สุด

1. สมชายเป็นข้าราชการชั้นผู้น้อยมาทำงานสายและกลับก่อนเสมอ
2. สมชายเป็นอาจารย์มหาวิทยาลัยใช้สินค้าที่มีชื่อเสียงจากต่างประเทศ
3. สมศรีเป็นแม่ค้าขายผักมีความเป็นอยู่แบบพอมีพอกิน
4. สมจิตรเป็นนักเรียนชั้นมัธยมแบบประจำชอบหนีเรียนและมั่วยาเป็นประจำ

146. ข้อใดคือ เงื่อนไขสำคัญของการนำทฤษฎีเศรษฐกิจพอเพียงไปใช้ให้มีประสิทธิภาพ

1. ความรู้ คุณธรรม
2. เทคโนโลยี
3. การบริหารจัดการ
4. ความร่วมมือจากภาครัฐ

147. ข้อใดไม่ใช่องค์ประกอบของหลักธรรมาภิบาล

1. หลักคุณธรรม
2. หลักนิติธรรม
3. หลักความโปร่งใส
4. หลักความเสมอภาค

148. อริยมรรคใดเกี่ยวข้องกับการไตรสิกขาที่ว่าด้วยปัญญา

1. สัมมาทิฐิ
2. สัมมาสติ
3. สัมมาวายามะ
4. สัมมาสัมมัชฌิมา

149. หลักธรรมใดสามารถนำไปใช้ฝึกอบรม กาย วาจา ใจ ให้เกิดคุณธรรม มีความรู้ถูกต้องและรู้จักดำรงชีวิตอย่างมีความสุข

1. ไตรลักษณ์
2. โลกธรรม
3. ชั้น 5
4. มรรค 8

150 ข้อใดสอดคล้องกับกฎแห่งกรรมในพระพุทธศาสนา

1. คนบางคนทำชั่วแต่ได้ดี
2. พี่ชใดยอมได้ผลนั้น
3. สรรพสิ่งดำเนินไปอย่างมีระเบียบ
4. ความบังเอิญในชีวิตเกิดขึ้นตลอดเวลา

NINE100.COM

### แบบประเมินตนเอง สายปราบปราม

วิชา	ข้อ	ทำได้	คิดเป็นเปอร์เซ็นต์	หมายเหตุ
1. ความสามารถทั่วไป	40		$\frac{\quad}{40} \times 100 = \underline{\quad}$	
2. ภาษาไทย	25		$\frac{\quad}{25} \times 100 = \underline{\quad}$	
3. ภาษาต่างประเทศ (ภาษาอังกฤษ)	40		$\frac{\quad}{40} \times 100 = \underline{\quad}$	
4. เทคโนโลยีสารสนเทศ	25		$\frac{\quad}{25} \times 100 = \underline{\quad}$	
5. กฎหมายที่ประชาชนควรรู้	10		$\frac{\quad}{10} \times 100 = \underline{\quad}$	
6. สังคม วัฒนธรรม จริยธรรม	10		$\frac{\quad}{10} \times 100 = \underline{\quad}$	
รวม	150		$\frac{\quad}{150} \times 100 = \underline{\quad}$	



### แบบประเมินเชิงเส้น

(คะแนนที่ได้)



ช่องใส่คะแนน

0	1	2	3	4	5	6	7	8	9	10
---	---	---	---	---	---	---	---	---	---	----

เฉลยข้อสอบชุดที่ 3

1	2.	26	1.	51	1.	76	1.	101	3.	126	4.
2	2.	27	2.	52	1.	77	1.	102	2.	127	1.
3	2.	28	3.	53	2.	78	3.	103	4.	128	2.
4	2.	29	3.	54	3.	79	1.	104	1.	129	2.
5	2.	30	4.	55	4.	80	4.	105	1.	130	1.
6	4.	31	3.	56	1.	81	4.	106	4.	131	3.
7	1.	32	4.	57	2.	82	1.	107	2.	132	2.
8	4.	33	4.	58	3.	83	2.	108	2.	133	1.
9	2.	34	3.	59	3.	84	2.	109	1.	134	2.
10	1.	35	3.	60	2.	85	1.	110	1.	135	4.
11	3.	36	2.	61	1.	86	3.	111	3.	136	4.
12	3.	37	2.	62	4.	87	3.	112	4.	137	3.
13	3.	38	3.	63	1.	88	3.	113	2.	138	3.
14	3.	39	3.	64	3.	89	3.	114	2.	139	4.
15	2.	40	3.	65	2.	90	3.	115	3.	140	4.
16	2.	41	2.	66	2.	91	2.	116	2.	141	2.
17	1.	42	1.	67	3.	92	4.	117	1.	142	1.
18	4.	43	2.	68	4.	93	3.	118	4.	143	4.
19	3.	44	3.	69	3.	94	1.	119	2.	144	3.
20	4.	45	1.	70	1.	95	1.	120	2.	145	3.
21	1.	46	3.	71	1.	96	4.	121	2.	146	1.
22	3.	47	2.	72	2.	97	3.	122	1.	147	4.
23	1.	48	2.	73	4.	98	3.	123	4.	148	1.
24	3.	49	1.	74	4.	99	1.	124	4.	149	4.
25	3.	50	2.	75	2.	100	3.	125	1.	150	2.

# กระดาษคำตอบ

**NINE100.COM**

## คำแนะนำ

- ใช้ดินสอดำ 2B ขึ้นไป ระบายวงกลมทุกวงที่ต้องการให้คำตอบ
- ถ้าต้องการแก้ไข ให้ใช้ยางลบให้สะอาดก่อน จึงระบายวงใหม่
- ห้ามขีดเขียนสิ่งอื่นใดนอกเหนือจากที่ระบุไว้

## ตัวอย่าง

- ① ② ③ ● ← ถูกวิธี  
① ② ③ ◐ ← ผิดวิธี  
① ⊗ ③ ● ← ผิดวิธี  
① ② ③ ④ ← ผิดวิธี

1 ① ② ③ ④	26 ① ② ③ ④	51 ① ② ③ ④	76 ① ② ③ ④	101 ① ② ③ ④	126 ① ② ③ ④
2 ① ② ③ ④	27 ① ② ③ ④	52 ① ② ③ ④	77 ① ② ③ ④	102 ① ② ③ ④	127 ① ② ③ ④
3 ① ② ③ ④	28 ① ② ③ ④	53 ① ② ③ ④	78 ① ② ③ ④	103 ① ② ③ ④	128 ① ② ③ ④
4 ① ② ③ ④	29 ① ② ③ ④	54 ① ② ③ ④	79 ① ② ③ ④	104 ① ② ③ ④	129 ① ② ③ ④
5 ① ② ③ ④	30 ① ② ③ ④	55 ① ② ③ ④	80 ① ② ③ ④	105 ① ② ③ ④	130 ① ② ③ ④
6 ① ② ③ ④	31 ① ② ③ ④	56 ① ② ③ ④	81 ① ② ③ ④	106 ① ② ③ ④	131 ① ② ③ ④
7 ① ② ③ ④	32 ① ② ③ ④	57 ① ② ③ ④	82 ① ② ③ ④	107 ① ② ③ ④	132 ① ② ③ ④
8 ① ② ③ ④	33 ① ② ③ ④	58 ① ② ③ ④	83 ① ② ③ ④	108 ① ② ③ ④	133 ① ② ③ ④
9 ① ② ③ ④	34 ① ② ③ ④	59 ① ② ③ ④	84 ① ② ③ ④	109 ① ② ③ ④	134 ① ② ③ ④
10 ① ② ③ ④	35 ① ② ③ ④	60 ① ② ③ ④	85 ① ② ③ ④	110 ① ② ③ ④	135 ① ② ③ ④
11 ① ② ③ ④	36 ① ② ③ ④	61 ① ② ③ ④	86 ① ② ③ ④	111 ① ② ③ ④	136 ① ② ③ ④
12 ① ② ③ ④	37 ① ② ③ ④	62 ① ② ③ ④	87 ① ② ③ ④	112 ① ② ③ ④	137 ① ② ③ ④
13 ① ② ③ ④	38 ① ② ③ ④	63 ① ② ③ ④	88 ① ② ③ ④	113 ① ② ③ ④	138 ① ② ③ ④
14 ① ② ③ ④	39 ① ② ③ ④	64 ① ② ③ ④	89 ① ② ③ ④	114 ① ② ③ ④	139 ① ② ③ ④
15 ① ② ③ ④	40 ① ② ③ ④	65 ① ② ③ ④	90 ① ② ③ ④	115 ① ② ③ ④	140 ① ② ③ ④
16 ① ② ③ ④	41 ① ② ③ ④	66 ① ② ③ ④	91 ① ② ③ ④	116 ① ② ③ ④	141 ① ② ③ ④
17 ① ② ③ ④	42 ① ② ③ ④	67 ① ② ③ ④	92 ① ② ③ ④	117 ① ② ③ ④	142 ① ② ③ ④
18 ① ② ③ ④	43 ① ② ③ ④	68 ① ② ③ ④	93 ① ② ③ ④	118 ① ② ③ ④	143 ① ② ③ ④
19 ① ② ③ ④	44 ① ② ③ ④	69 ① ② ③ ④	94 ① ② ③ ④	119 ① ② ③ ④	144 ① ② ③ ④
20 ① ② ③ ④	45 ① ② ③ ④	70 ① ② ③ ④	95 ① ② ③ ④	120 ① ② ③ ④	145 ① ② ③ ④
21 ① ② ③ ④	46 ① ② ③ ④	71 ① ② ③ ④	96 ① ② ③ ④	121 ① ② ③ ④	146 ① ② ③ ④
22 ① ② ③ ④	47 ① ② ③ ④	72 ① ② ③ ④	97 ① ② ③ ④	122 ① ② ③ ④	147 ① ② ③ ④
23 ① ② ③ ④	48 ① ② ③ ④	73 ① ② ③ ④	98 ① ② ③ ④	123 ① ② ③ ④	148 ① ② ③ ④
24 ① ② ③ ④	49 ① ② ③ ④	74 ① ② ③ ④	99 ① ② ③ ④	124 ① ② ③ ④	149 ① ② ③ ④
25 ① ② ③ ④	50 ① ② ③ ④	75 ① ② ③ ④	100 ① ② ③ ④	125 ① ② ③ ④	150 ① ② ③ ④

## NINE100.COM

ทดสอบความรู้ความสามารถ ด้วยวิธีสอบข้อเขียน ข้อสอบปรนัย 4 ตัวเลือก

1. ถ้า  $a \oplus b = a + 2b + 4$  แล้ว  $(2 \oplus 3) \oplus 6$  มีค่าเท่าใด

- |       |       |
|-------|-------|
| 1. 20 | 2. 24 |
| 3. 28 | 4. 30 |

2. ถ้า  $a \heartsuit b = ab - b + 1$  แล้ว  $3 \heartsuit 2$  เท่ากับเท่าใด

- |      |      |
|------|------|
| 1. 3 | 2. 4 |
| 3. 5 | 4. 6 |

3. 5, 6, 10, 19, 35, ....

- |       |       |
|-------|-------|
| 1. 40 | 2. 45 |
| 3. 50 | 4. 60 |

4. ถ้า  $7 * 3 = 52$  และ  $6 * 6 = 42$  แล้ว  $5 * 1$  เท่ากับเท่าไร

- |       |       |       |       |
|-------|-------|-------|-------|
| 1. 10 | 2. 12 | 3. 26 | 4. 36 |
|-------|-------|-------|-------|

5. ปัจจุบันอัตราส่วนของอายุของ ก : ข เป็น 3 : 4 ถ้า ก มีอายุ 15 ปี ก็ปีที่ผ่านมาแล้วที่อายุ ก : ข เป็น 1 : 2

- |       |       |
|-------|-------|
| 1. 10 | 2. 12 |
| 3. 18 | 4. 24 |

6.  $112,345 + A$  ทหารด้วย 8 ลงตัว ดังนั้น A ควรจะมีค่าเท่าใด

- |      |      |
|------|------|
| 1. 2 | 2. 3 |
| 3. 5 | 4. 7 |

7. กำหนด  $A : B = 4 : 3$   $B : C = 2 : 5$   $C : D = 5 : 7$

จงหา  $A : D = ?$

- |           |           |
|-----------|-----------|
| 1. 8 : 21 | 2. 4 : 9  |
| 3. 5 : 17 | 4. 6 : 17 |

8. ถ้า  $1 * 2 = 8$

และ  $3 * 1 = 9$

แล้ว  $2 * 3 = ?$

1. 11

2. 12

3. 13

4. 14

9. งาน : ล้าง  $\rightarrow$  เงิน : ?

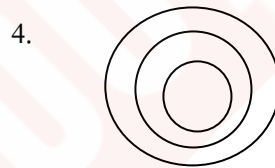
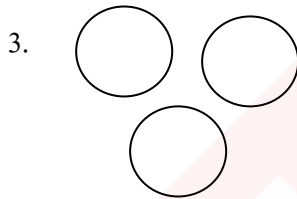
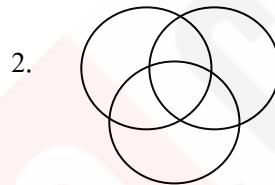
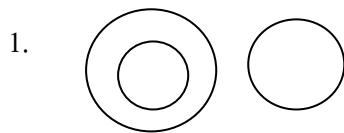
1. ชำระ

2. จ่าย

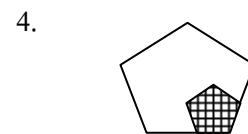
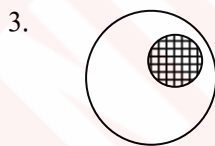
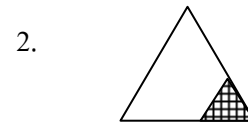

3. เหนียญ

4. ขัด

10. พิจารณาความสัมพันธ์ของกลุ่มคำต่อไปนี้ “พระพุทธรูป พระธรรม พระสงฆ์” สอดคล้องกับแผนภาพในข้อใด



11. ข้อใดไม่เข้าพวก



12. ชายคนหนึ่งมีเงิน  $x$  บาท อีกคนหนึ่งมี  $y$  สตางค์ ต่างคน ต่างจ่ายเงินของตนไปคนละ  $z$  สตางค์ ปรากฏว่าคนแรก เหลือเงินมากกว่า คนหลัง 25 สตางค์ ข้อใดถูก

1.  $(x - z)(y - z) = 25$

2.  $(100x - z) - (y - z) = 25$

3.  $100(x - z) - (y - z) = 25$

4.  $(x - z) - 100(y - z) = 25$

13. ผลบวกของจำนวนเต็มที่มีค่าตั้งแต่ 10 - 100 ที่หารด้วย 7 ลงตัว คือ

- |        |        |
|--------|--------|
| 1. 712 | 2. 722 |
| 3. 728 | 4. 734 |

14. อักษรคำว่า "วรรณพร" จัดเรียงใหม่ได้กี่วิธี

- |             |             |
|-------------|-------------|
| 1. 100 วิธี | 2. 120 วิธี |
| 3. 140 วิธี | 4. 240 วิธี |

15. ตำรวจ 6 คน ยืนเข้าแถวหน้ากระดานเรียงหนึ่ง จะจัดให้เข้าแถวได้กี่แบบ ถ้าสิบตำรวจเอก แก้วชัย ยืนอยู่หัวแถวด้านซ้ายมือเสมอ

- |           |            |
|-----------|------------|
| 1. 6 แบบ  | 2. 12 แบบ  |
| 3. 60 แบบ | 4. 120 แบบ |

16. ในการคัดเลือกบุคคลเข้าทำงาน มีผู้สมัคร 7 คน เป็นชาย 3 คน หญิง 4 คน แต่หน่วยงานต้องการพนักงาน 2 คน เป็น ชาย 1 คน หญิง 1 คน จะสามารถคัดเลือกบุคคลเข้าทำงานได้กี่แบบ

- |           |           |
|-----------|-----------|
| 1. 7 แบบ  | 2. 8 แบบ  |
| 3. 10 แบบ | 4. 12 แบบ |

17. ถ้า 3 D เป็นเลขคู่ แล้วข้อใดเป็นเลขคี่

- |                   |          |
|-------------------|----------|
| 1. 2 D            | 2. D + 1 |
| 3. D <sup>2</sup> | 4. D + 2 |

18. กระดานรูปสี่เหลี่ยมผืนผ้ากว้าง 12 นิ้ว ยาว 16 นิ้ว ต้องการตอกตะปูที่มุมและขอบโดยรอบ ให้ตะปูห่างเท่าๆ กัน จะต้องใช้ตะปูอย่างน้อยที่สุดกี่ตัว

- |       |       |
|-------|-------|
| 1. 12 | 2. 14 |
| 3. 16 | 4. 20 |

19. 2 , 12 , 30 , 56 , .....

- |       |        |
|-------|--------|
| 1. 75 | 2. 80  |
| 3. 90 | 4. 100 |

20. พายเรือตามน้ำชั่วโมงละ 15 กิโลเมตร แต่พายเรือทวนน้ำ 2 ชั่วโมง ได้ทาง 26 กิโลเมตร อยากทราบว่า กระแสน้ำไหลชั่วโมงละเท่าใด

- |               |               |
|---------------|---------------|
| 1. 1 กิโลเมตร | 2. 2 กิโลเมตร |
| 3. 3 กิโลเมตร | 4. 4 กิโลเมตร |

21. สุเทพขับรถด้วยความเร็ว 75 ไมล์/ชั่วโมง แสดงว่าสุเทพขับรถด้วยความเร็วเท่าใด

- |                         |                         |
|-------------------------|-------------------------|
| 1. 100 กิโลเมตร/ชั่วโมง | 2. 110 กิโลเมตร/ชั่วโมง |
| 3. 120 กิโลเมตร/ชั่วโมง | 4. 125 กิโลเมตร/ชั่วโมง |

22. โรงอาหารแห่งหนึ่งกว้าง 160 เมตร ยาว 275 เมตร ถ้าใช้กระเบื้องขนาดกว้าง 40 เซนติเมตร ยาว 40 เซนติเมตร ปูพื้นห้อง จะต้องใช้กระเบื้องปูกี่แผ่น

- |            |           |
|------------|-----------|
| 1. 275,000 | 2. 27,500 |
| 3. 2,750   | 4. 275    |

23. ต้องเติมน้ำเค็มที่มีเกลืออยู่ 30 % จำนวนกี่ลิตรลงไปในน้ำเค็มที่มีเกลืออยู่ 12 % จำนวน 40 ลิตร จึงจะได้ น้ำเค็มที่มีเกลืออยู่ 20 %

- |            |            |
|------------|------------|
| 1. 30 ลิตร | 2. 32 ลิตร |
| 3. 35 ลิตร | 4. 40 ลิตร |

24. ธนาคารแห่งหนึ่งให้ดอกเบี้ยเงินฝากประจำ 3 เดือน 3% ถ้าสมัคให้นำเงินไปฝากประจำ 3 เดือน 1,200 บาท สมัคจะได้ดอกเบี้ยเท่าไร

- |           |           |
|-----------|-----------|
| 1. 30 บาท | 2. 36 บาท |
| 3. 42 บาท | 4. 46 บาท |

25. กำหนดให้  $A = 25\%$  ของ 96 และ  $B = 75\%$  ของ A แล้ว  $15\%$  ของ  $A + B = ?$

- |        |        |
|--------|--------|
| 1) 5.8 | 2) 6.3 |
| 3) 7.6 | 4) 8.4 |

26. ชื้องะมา 2 ชนิด ชนิดแรกราคา กิโลกรัมละ 13 บาท ชนิดที่ 2 ราคา กิโลกรัมละ 18 บาท ผสมกันในอัตราส่วน 2 : 3 แล้วขายไปราคา กิโลกรัมละ 21 บาท ได้กำไร 500 บาท แสดงว่า ชื้องะชนิดแรกมาที่ กิโลกรัม

- |                |                |
|----------------|----------------|
| 1. 50 กิโลกรัม | 2. 40 กิโลกรัม |
| 3. 30 กิโลกรัม | 4. 20 กิโลกรัม |

27. จัตุรัส A และ B มีอัตราส่วนของพื้นที่เป็น 2 : 1 อยากทราบว่า อัตราส่วนของเส้นรอบรูป A : B คือ

- |          |                   |
|----------|-------------------|
| 1. 2 : 1 | 2. $\sqrt{2} : 1$ |
| 3. 3 : 1 | 4. $1 : \sqrt{2}$ |

28. ชายร่วราคา 100 บาทได้กำไร 5 บาท คิดเป็นร้อยละเท่าใด

1.  $\frac{100 \times 95}{100}$

2.  $\frac{100 \times 95}{95}$

3.  $\frac{95 \times 5}{100}$

4.  $\frac{100 \times 5}{95}$

29. ถ้า  $x, y, z$  มีค่าเฉลี่ยเลขคณิตเป็น 10 และ  $x, y, z, a, b, c$  มีค่าเฉลี่ยเลขคณิตเป็น 16 แล้วค่าเฉลี่ยเลขคณิตของ  $a, b, c$  เท่ากับข้อใด

1. 6

2. 13

3. 22

4. 26

30. ถ้า A มากกว่า C อยู่ 50% และ B มากกว่า C อยู่ 25 % แล้ว A มากกว่า B กี่ %

1. 15 %

2. 20 %

3. 25 %

4. 50 %

31. นำกาแฟ 2 ชนิดมาผสมกันในอัตราส่วน 3 : 4 แล้วขายไปในราคา กิโลกรัมละ 30 บาท ได้กำไร 25 % ถ้าชนิดแรกราคา กิโลกรัมละ 20 บาท ชนิดที่ 2 กิโลกรัมละเท่าใด

1. 27 บาท


2. 30 บาท

3. 32 บาท

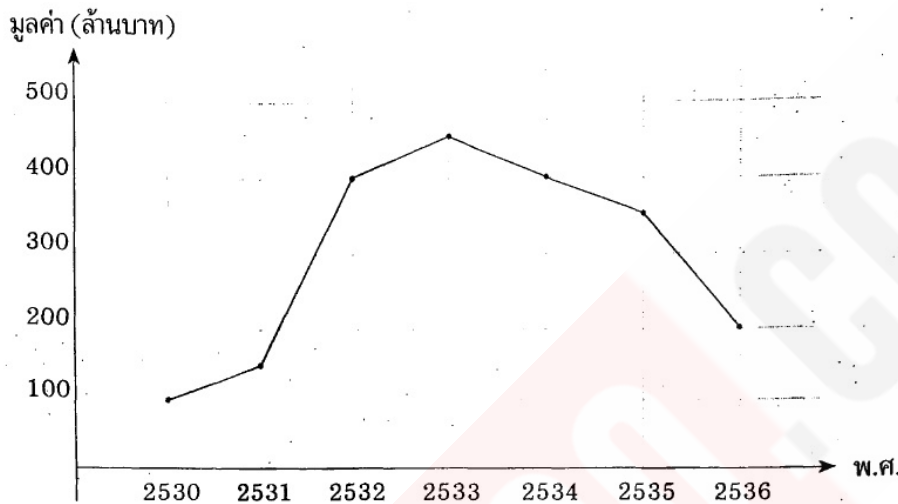
4. 34 บาท



32. ชาวนาคนหนึ่งต้องการแบ่งพื้นที่ในการทำเกษตรกรรมแบบผสมผสาน จึงแบ่งพื้นที่ตามแผนภูมิข้างล่าง หากเขามีพื้นที่ทั้งหมด 80 ไร่ จะใช้พื้นที่ในการปลูกผักกี่ไร่



1. 20 ไร่
2. 30 ไร่
3. 35 ไร่
4. 40 ไร่



33. มูลค่าการส่งออกของสินค้าในปี 2533 เป็นกี่เท่าของปี 2531

1. 1
2. 2
3. 3
4. 4

34. มูลค่าการส่งออกของสินค้าในปี 2533 เพิ่มขึ้นจากปี 2532 กี่ %

1. 125 %
2. 12.5 %
3. 1.125 %
4. 112.5 %

35. มูลค่าการส่งออกของสินค้าในปี 2535 ลดลงจากปี 2534 กี่ %

1. 12.5 %
2. 1.25 %
3. 87.5 %
4. 8.75 %

36. นายแดงมีเหรียญห้าบาทและเหรียญสิบบาทจำนวนหนึ่ง ถ้าพบว่ามีเหรียญรวมกันจำนวน 39 เหรียญ มีมูลค่าเป็นเงิน 265 บาท แล้วมูลค่าของเงินเฉพาะเหรียญสิบบาทจะมากกว่าหรือน้อยกว่ามูลค่าของเงินเฉพาะเหรียญห้าบาทอยู่เท่าใด

1. มากกว่าอยู่ 25 บาท
2. มากกว่าอยู่ 15 บาท
3. น้อยกว่าอยู่ 25 บาท
4. น้อยกว่าอยู่ 15 บาท

37. หมูและเป็ดนับหัวรวมกันได้ 50 หัว และนับขา รวมกันได้ 120 ขา อยากทราบว่า มีเป็ดกี่ตัว

- |       |       |
|-------|-------|
| 1. 10 | 2. 20 |
| 3. 40 | 4. 48 |

38. ลุงต้องการปลูกต้นลิ้นจี่จำนวน  $\frac{3}{5}$  ของต้นมะม่วง ถ้าลุงมีพื้นที่สำหรับปลูกต้นไม้ได้ทั้งหมด 192 ต้น จะปลูกต้นมะม่วงได้กี่ต้น

- |        |        |
|--------|--------|
| 1. 72  | 2. 84  |
| 3. 108 | 4. 120 |

39. ทีมฟุตบอล 10 ทีม แบ่งออกเป็น 2 สาย เท่า ๆ กัน สายละ 5 ทีม แล้วแข่งแบบพบกันหมดในแต่ละสาย หลังจากนั้น นำผู้ชนะในแต่ละสายมาแข่งขันชิงชนะเลิศ จะมีการแข่งขันทั้งหมดกี่ครั้ง

- |       |       |
|-------|-------|
| 1. 10 | 2. 11 |
| 3. 20 | 4. 21 |

40. รถไฟจากกรุงเทพไปเชียงใหม่มีความยาวตัวรถ 100 เมตร แล่นด้วยความเร็ว 90 กิโลเมตรต่อชั่วโมง แล่นผ่านชานชาลาสถานี ซึ่งมีความยาว 50 เมตร จะสามารถแล่นผ่านพ้นได้ภายในเวลาที่วินาที

- |             |             |
|-------------|-------------|
| 1. 5 วินาที | 2. 6 วินาที |
| 3. 7 วินาที | 4. 8 วินาที |

41. ข้อใดมีเสียงวรรณยุกต์จัตวามากที่สุด

- |                            |                         |
|----------------------------|-------------------------|
| 1. เขาสามมดเสียดูสวยมาก    | 2. ผู้หญิงหายไปในเมือง  |
| 3. หมาสีขาวหาหนูให้เจ้าของ | 4. หนอนน้อยสนุกสนานใหม่ |

42. สระ อำ เป็นสระชนิดใด

- |            |             |
|------------|-------------|
| 1. สระแท้  | 2. สระประสม |
| 3. สระเกิน | 4. สระยืม   |

43. ข้อใดใช้คำบุพบทถูกต้อง

1. เราทุกคนมั่นใจต่อมติของส่วนรวมและให้ความร่วมมืออย่างเต็มที่
2. ผู้ส่งออกใหม่ต้องจดทะเบียนต่อกรมการค้าต่างประเทศ
3. นักศึกษาต้องยื่นคำร้องต่อมหาวิทยาลัยหากต้องการลาออก
4. สหรัฐฯ กำลังหาช่องทางกว่าบาตรต่อประเทศที่เป็นปฏิปักษ์

44. ข้อใดใช้เครื่องหมายวรรคตอนถูกต้อง

1. พ่อบอกว่า ,ฉันไปตลาด.
2. ห้าม!เดินลัดสนาม
3. กรุงเทพฯ การจราจรติดขัดมาก
4. เขาขับรถด้วยความเร็ว 80 กม. - ชม.

45. คำนามในข้อใดทำหน้าที่ต่างกับข้ออื่น

1. หนังสือเล่มนี้ไม่มีใครสนใจเลย
2. เขาชอบอ่านหนังสือเล่มนี้มากที่สุด
3. นวนิยายชุดนี้พวกเขาเหล่านั้นชอบมาก
4. นวนิยายเรื่องนี้น่าสนใจ เพราะเป็นเรื่องที่ดีมาก

46. ข้อใดคือคำสนธิ

1. นโยบาย
2. นิรนาม
3. นิยม
4. นิทรรศการ

47. ข้อใดเป็นคำสมาส

1. ประวัตินุคคณ
2. ประวัตินุค
3. ประวัตินุค
4. ประวัตินุค

48. ส่วนใดไม่เกี่ยวข้องกับกรพุด

1. ต่อความยาว สวความยึด
2. น้ำท่วมทุ่ง ผักบุ้งโหรงเหรง
3. ยิ้มด้วยปาก ถากด้วยตา
4. น้ำร้อนปลาเป็น น้ำเย็นปลาตาย

49. ข้อใดมีวรรณยุกต์ครบ 5 เสียง

1. ตู๊กตานี้น่ารัก
2. โป๊ะนั้นใช้จับปลา
3. ขาสวยหวยวันเกิด
4. เขาจะไปคันเมฆ

50. บ้านเลขที่ 0150/86 อ่านอย่างไร

1. ศูนย์หนึ่งห้าศูนย์ห้าแปดหก
2. หนึ่งห้าศูนย์ห้าแปดหก
3. ศูนย์ร้อยห้าสิบห้าแปดหก
4. หนึ่งร้อยห้าสิบห้าแปดหก

51. "ประยาดรต้นสายเป็นประจํา" คำที่ขีดเส้นใต้ทำหน้าที่ใดในประโยค

1. กรรม
2. ส่วนขยาย
3. ประธาน
4. กริยา

52. หลักสังเกตสำคัญของประโยคความซ้อนคืออะไร

1. ประธาน
2. คำเชื่อม
3. ที่ ซึ่ง ผู้ที่ ผู้ซึ่ง
4. กริยา

53. ข้อใดเป็นคำที่มาจากภาษาต่างประเทศทุกคำ

1. ทูเรียน มะม่วง
2. บันได ไฟหน้า
3. เต้าหู้ ข้าวเปล่า
4. กัลปังหา เป็ยน

54. เติมคำเชื่อมในข้อความต่อไปนี้

"ความเครียด ..... ความซ้าซากจำเจเป็นอุปสรรค ..... การคิด เพราะบุคคลไม่มีสุขภาพดี .....  
ต้องใช้ความคิด และออกแรงตรากตรำเป็นเวลานานโดยไม่ได้พักผ่อน ..... จะเกิดความเหนื่อยล้าขึ้นได้"

- |                             |                        |
|-----------------------------|------------------------|
| 1. กับ, แก่, ทั้งยัง, ย่อม  | 2. และ, ต่อ, แต่, ย่อม |
| 3. พร้อมทั้ง, ของ, ก็, หรือ | 4. และ, ของ, แต่, หรือ |

55. คำประพันธ์ต่อไปนี้ใช้กลวิธีการแต่งเด่นชัดที่สุดตามข้อใด

"ปรารถนาพาชัยให้ช่วงโชติ                      ถลาโลดหัดย่นคลื่นลูกใหม่  
รวมความหวังทั้งปวงเป็นดวงไฟ                      มีธงชัยทาบท้าวไว้คว่าครอง"

1. ใช้คำง่าย ให้จินตนาภาพ
2. ใช้ภาพพจน์ ให้อารมณ์ความรู้สึก
3. ใช้คำไพเราะกินใจ ให้ภาพแจ่มชัด
4. ใช้การเล่นสัมผัส ให้เสียงเสนาะ

56. ชื่ออาหารชนิดใดเป็นคำที่มาจากภาษาจีน

- |              |           |         |            |
|--------------|-----------|---------|------------|
| 1. สุกียากี้ | 2. บะหมี่ | 3. สาเก | 4. ซี่ฟู๊ด |
|--------------|-----------|---------|------------|

57. สำนวนใดมีความหมายต่างจากพวก

- |                    |                        |
|--------------------|------------------------|
| 1. ร่วมหอลงโรง     | 2. ลงเรือลำเดียวกัน    |
| 3. ตกต้องปล่องขึ้น | 4. เป็นทองแผ่นเดียวกัน |

58. คำตายมีตัวสะกดในแม่ใด

- |              |             |
|--------------|-------------|
| 1. กน กม เกษ | 2. กก กน กบ |
| 3. กง กน กม  | 4. กก กด กบ |

59. ข้อใดเป็นคำไทยแท้ทั้งหมด

- |                        |                        |
|------------------------|------------------------|
| 1. สะใภ้ มะม่วง กระถิน | 2. เขียว นกกระจิบ ไฟท์ |
| 3. หลงไหล คุณไสย ลำไย  | 4. ชัย จี๊ใต้ มะขาม    |

60. เมื่อตำรวจมาถึงเหล่านักพนันต่างพากัน \_\_\_\_\_ ออกไปทุกช่องที่มีทางออก

- |           |           |           |       |
|-----------|-----------|-----------|-------|
| 1. กระโจน | 2. กระจาย | 3. กระโดด | 4. ฝน |
|-----------|-----------|-----------|-------|

61. คำในข้อใดเป็นคำตาย

- |            |               |           |            |
|------------|---------------|-----------|------------|
| 1. กวยจั๊บ | 2. ก้วยเตี่ยว | 3. กับดัก | 4. ใต้ถุ้ง |
|------------|---------------|-----------|------------|

62. คำว่า แบตเตอรี่ มีตัวสะกดในแม่ใด

1. กน                                      2. กด                                      3. กบ                                      4. กม

63. ข้อใดใช้คำลักษณนามไม่ถูกต้อง

1. ประเทศไทยมีจังหวัดทั้งหมด 77 จังหวัด
2. แม่น้ำสายนี้มีตะไคร่มากจึงได้ชื่อว่าแม่น้ำมรกต
3. ลูกเสือสโมสรราชพฤกษ์จำนวน 2 กองเดินทางมาถึงค่ายพักแรมแล้ว
4. แม่ค้ารับเงินจำนวน 1,000 บาท โดยเป็นธนบัตรใบละ 100 บาท จำนวน 10 ใบ

64. เครื่องหมายวรรคตอนใดใช้เขียนแทนคำหรือข้อความที่เหมือนกับคำหรือข้อความในบรรทัดบน

- |              |              |
|--------------|--------------|
| 1. อัฒประกาศ | 2. สัญประกาศ |
| 3. บุพสัญญา  | 4. ยัติภังค์ |

65. เมื่อต้องจุดธูปเทียนบูชาพระ แต่มหาจำเลยหาไม้ขีดไฟไม่เจอจึงทำ \_\_\_\_\_ ด้วยการทำให้ธูปไปแล้ว  
ปักธูปลงในกระดาษทั้ง ๆ ที่ไม่มีไฟติดแต่อย่างใด

1. แก้วตัว                      2. แก้วมือ                      3. แก้วเกี่ยว                      4. แก้วล่า

66. You answer the phone and someone asks for your brother. Your brother isn't home. You say,  
"....."

- |                                    |                                |
|------------------------------------|--------------------------------|
| 1. I'm sorry. He goes out.         | 2. Who's calling?              |
| 3. I'm sorry but I don't know you. | 4. Where is that from, please? |

67. Someone wants to speak to Smith. You want him to wait for a minute. You say, "....."

- |                        |                           |
|------------------------|---------------------------|
| 1. Will you call back? | 2. Please call him again. |
| 3. The line is busy.   | 4. Hold the line, please? |

68. Sue : Hello.

Jack : Hello. May I speak to Sue, please?

Sue : .....

- |                  |                   |
|------------------|-------------------|
| 1. Yes, you may. | 2. Go on, please. |
| 3. Speaking.     | 4. Certainly.     |

69. Kru Angkana had to \_\_\_\_\_ her hair after putting on her house.

- |           |           |
|-----------|-----------|
| 1. rewash | 2. remake |
| 3. retie  | 4. redo   |

70. Every April she makes a/an \_\_\_\_\_ payment on her house.

- |            |              |
|------------|--------------|
| 1. annual  | 2. weekly    |
| 3. monthly | 4. bimonthly |

71. A deep - sea animal with eight arms is known as a/an \_\_\_\_\_

- |              |           |
|--------------|-----------|
| 1. shellfish | 2. shrimp |
| 3. squid     | 4. alga   |

72. In Thailand the weather \_\_\_\_\_ normally cold in December.

- |                   |            |
|-------------------|------------|
| 1. was            | 2. is      |
| 3. is going to be | 4. will be |

73. Up to now, the data for the research \_\_\_\_\_ collected yet.

- |                 |                  |
|-----------------|------------------|
| 1. has not been | 2. have not been |
| 3. had not      | 4. had not been  |

74. I enjoyed ..... to musi3.

- |           |              |              |                |
|-----------|--------------|--------------|----------------|
| 1. listen | 2. to listen | 3. listening | 4. have listed |
|-----------|--------------|--------------|----------------|

75. I keep ..... a football.

- |            |            |           |               |
|------------|------------|-----------|---------------|
| 1. to play | 2. playing | 3. played | 4. is playing |
|------------|------------|-----------|---------------|

76. Planning a ..... on someone's birthday is fun.

- |                 |              |
|-----------------|--------------|
| 1.) slothful    | 2.) surprise |
| 3.) sentimental | 4.) tempt    |

77. The news was so shocking that it ..... us for a moment.

- |           |               |
|-----------|---------------|
| 1.) doubt | 2.) dumbfound |
| 3.) urge  | 4.) win       |

78. There are ten roses on my desk ..... has different color.

- |         |          |         |        |
|---------|----------|---------|--------|
| 1. what | 2. which | 3. each | 4. all |
|---------|----------|---------|--------|

79. You are the best guy ..... I have ever seen in our office.

- |        |         |         |         |
|--------|---------|---------|---------|
| 1. who | 2. whom | 3. that | 4. what |
|--------|---------|---------|---------|

80. Is there anyone ..... can give me some advice?

- |        |         |         |          |
|--------|---------|---------|----------|
| 1. who | 2. that | 3. whom | 4. which |
|--------|---------|---------|----------|

81. Since he works hard, he \_\_\_\_\_ a success.

- |              |          |
|--------------|----------|
| 1. has made  | 2. makes |
| 3. will make | 4. made  |

82. He has been collected stamps for many years, and he \_\_\_\_\_ nearly 1,000 stamps by the end of this year.

- |                         |                              |
|-------------------------|------------------------------|
| 1. would collect        | 2. would be collected        |
| 3. would have collected | 4. will have been collecting |

83. Here \_\_\_\_\_ your new shoes which I have bought since last week.

- |       |        |
|-------|--------|
| 1. is | 2. are |
| 3. be | 4. do  |

84. Everyone must do \_\_\_\_\_ duty.

- |         |            |
|---------|------------|
| 1. your | 2. our     |
| 3. my   | 4. his/her |

85. The Prime Minister \_\_\_\_\_ the Parliament, but he di4.

- 1.) had better not to dissolve
- 2.) must have not to dissolve
- 3.) should not have to dissolve
- 4.) need not to dissolve

86. The meeting \_\_\_\_\_ next week.

- |                  |                     |
|------------------|---------------------|
| 1. is holding    | 2. is to holding    |
| 3. is being held | 4. isn't be holding |

87. "Why does he have to work very hard?"

"So that he \_\_\_\_\_ to buy a new car."

- |             |                  |
|-------------|------------------|
| 1. is able  | 2. has been able |
| 3. was able | 4. will be able  |

88. when your brother \_\_\_\_\_ he will be very tire4.

- |            |                |
|------------|----------------|
| 1. arrived | 2. will arrive |
| 3. arrives | 4. is arriving |

89. We have not got ..... to talk to.

1. someone                      2. anyone                      3. somebody                      4. anything

90. You may have ..... of this cake but not all of it.

1. any                              2. none                              3. Some                              4. either

91. When he was young, he \_\_\_\_\_ To collect stamps.

1. was using                      2. had used  
2. used                              3. was used

92. A: "Did he answer the letter?"

B: "AS soon as he \_\_\_\_\_ it, he \_\_\_\_\_ down to answer it."

1. reads, sits                      2. read, sat  
3. has read, is sitting                      4. had read, sat

93. I am proud ..... Thai.

1. to be                              2. is                              3. am                              4. are

94. It is good ..... your news.

1. hear                              2. to hear                              3. hears                              4. have heard

95. The concert is liable ..... a huge audience.

1. to draw                              2. drawing                              3. draw                              4. is drawing

96. It is nice ..... you.

1. meet                              2. to meet                              3. meeting                              4. has met

97. What is true according to this sign ?



- 1.) Do not allowed to bring a cigarette.  
2.) Do not smoke in this are1.  
3.) Do not light.  
4.) Do not allowed to bring any fuel.

98. I cannot help ..... in love with you.

1. to fall                              2. felt                              3. falling                              4. is falling

99. He decided ..... home.

1. to go                              2. going                              3. went                              4. is going



100. "My English isn't good"

"How many years ago \_\_\_\_\_ English?"

- |                     |                  |
|---------------------|------------------|
| 1. have you studied | 2. do you study  |
| 3. have you studies | 4. did you study |

101. "Do you mean John?"

"Yes, he \_\_\_\_\_ a note to me yesterday."

- |                |                |
|----------------|----------------|
| 1. had written | 2. wrote       |
| 3. writes      | 4. was written |

102. Mr. Tharit is the person ..... controlled DSI.

- |        |         |         |          |
|--------|---------|---------|----------|
| 1. who | 2. whom | 3. what | 4. which |
|--------|---------|---------|----------|

103. The boy ..... father works at DSI always plays football every day.

- |        |         |          |         |
|--------|---------|----------|---------|
| 1. who | 2. whom | 3. whose | 4. that |
|--------|---------|----------|---------|

104. The contestants ..... the judge's decision.

- |                |                |
|----------------|----------------|
| 1.) ran        | 2.) disputed   |
| 3.) discharged | 4.) disability |

105. The pupils ..... to give their teacher a present but disagreed on the best gift to buy.

- |                |                |
|----------------|----------------|
| 1.) agreed     | 2.) aggressive |
| 3.) exacerbate | 4.) aggrandize |

106. Down Load คืออะไร

1. การโอนย้ายข้อมูลจากเครื่องแม่ข่ายมายังเครื่องส่วนบุคคล
2. การโอนย้ายข้อมูลในเครื่องส่วนบุคคล
3. การโอนย้ายข้อมูลจากเครื่องส่วนบุคคลไปยังเครื่องแม่ข่าย
4. การโอนย้ายข้อมูลในเครื่องแม่ข่าย

107. Up load คืออะไร

1. การโอนย้ายข้อมูลจากเครื่องแม่ข่ายมายังเครื่องส่วนบุคคล
2. การโอนย้ายข้อมูลในเครื่องส่วนบุคคล
3. การโอนย้ายข้อมูลจากเครื่องส่วนบุคคลไปยังเครื่องแม่ข่าย
4. การโอนย้ายข้อมูลในเครื่องแม่ข่าย

108. ข้อใดไม่ใช่แนวทางการป้องกันผู้บุกรุกข้อมูลที่ต้องการ

1. การตรวจสอบผู้ใช้ก่อนเข้าใช้งานระบบ
2. การสร้างรหัสผ่านที่แข็งแกร่งยากต่อการเดา
3. มีการเปลี่ยนรหัสผ่านเป็นประจำ
4. ใช้โปรแกรมติดตามพฤติกรรมการใช้งานของผู้ใช้ทุกคน

109. ข้อใดกล่าวถึงการทำงานแบบ Multiuser

1. สามารถเปิดใช้คอมพิวเตอร์ได้ทีละหลายๆ เครื่อง
  2. สามารถใช้โปรแกรมคอมพิวเตอร์ได้ทีละหลายๆ โปรแกรม
  3. สามารถใช้คอมพิวเตอร์ทำงานได้ทีละหลายๆ งาน
  4. สามารถใช้คอมพิวเตอร์เครื่องเดียวกันพร้อมๆ กัน และใช้โปรแกรมได้ทีละหลายๆ โปรแกรม
- จ. หนึ่งคนสามารถใช้คอมพิวเตอร์ได้หลายเครื่อง

110. ข้อใดคือแนวทางป้องกันไวรัสคอมพิวเตอร์ที่เหมาะสม

1. ไม่เปิดอ่านอีเมลจากผู้อื่น
2. หลีกเลี่ยงการติดตั้งโปรแกรมด้วยตนเอง
3. อัปเดตโปรแกรมตรวจสอบไวรัสให้ทันสมัย
4. ตรวจสอบไวรัสหลังจากบันทึกข้อมูลลงเครื่อง

111. นักพัฒนาระบบในความหมายของการวิเคราะห์และออกแบบระบบคือใคร

1. Programmer
  2. System Analyst
  3. Application Analyst
  4. Data Entry
- จ. ถูกทุกข้อ

112. "ROM" ย่อมาจาก

1. Read Only Memory
2. Random Only Memory
3. Ram Only Memory
4. Read Output Memory

113. ข้อใดเป็นหน่วยที่เล็กที่สุดที่ใช้บอกความเร็วของซีพียู

1. MHz
2. Intel
3. Bit
4. Byte

114. ข้อใด กล่าวถึงความสำคัญของ "ระบบสารสนเทศ" ได้ถูกต้องที่สุด

1. เป็นระบบที่ตอบสนองความต้องการของผู้ใช้
2. เป็นส่วนสำคัญที่ผลักดันให้การทำธุรกิจประสบความสำเร็จ
3. เป็นระบบที่เอื้ออำนวยเฉพาะในโรงงานอุตสาหกรรมเท่านั้น
4. เป็นระบบที่เอื้ออำนวยให้เฉพาะผู้บริหารระดับสูงเท่านั้น

115. ข้อใด ไม่รวม อยู่ในเทคโนโลยีเครือข่ายโทรคมนาคม (Telecommunication Network Technologies)

1. การประมวลผล
2. เครือข่ายภายใน
3. ซอฟต์แวร์ชุดสำหรับผลิตงาน
4. เครือข่ายภายนอก

116. อีเมล (E-mail) คืออะไร

1. โปรแกรมคุณภาพ
2. โปรแกรมรับส่งแฟกซ์
3. โปรแกรมการทำงานควบคุมอินเทอร์เน็ต
4. ไปรษณีย์อิเล็กทรอนิกส์ สำหรับสื่อสารระหว่างกันทางอินเทอร์เน็ต

117. ตัวอย่างของระบบการประมวลผลแบบชุดหรือวงด (Batch Processing) คือข้อใด

1. ระบบเงินเดือน
2. ระบบฝาก/ถอนเงินอัตโนมัติ (ATM)
3. ระบบการซื้อ/ขายร้าน KFC
4. ระบบการพิมพ์/คืนหนังสือ

118. FTP (File Transfer Protocol) คือบริการอะไร

1. บริการรับส่งสินค้า
2. บริการรับส่งแฟ้มข้อมูลระยะไกลจากเครื่องหนึ่งไปยังอีกเครื่องหนึ่ง
3. บริการส่งเอกสาร
4. บริการตรวจสอบพื้นที่ฮาร์ดดิสก์

119. ลักษณะเด่นของระบบสนับสนุนการตัดสินใจ (Decision Support Systems) คือข้อใด

1. เป็นระบบที่จัดการเกี่ยวกับการเรียนรู้ในองค์กร
2. เป็นรายงานที่ออกตามระยะเวลา, เป็นรายงานที่ออกตามความต้องการ
3. เป็นระบบที่มีปฏิสัมพันธ์กับผู้ใช้ มีตัวแบบ และมีฐานข้อมูลชนิดพิเศษ
4. เป็นรายงานสรุป

120. ในการวิเคราะห์และออกแบบระบบ ปัจจัยหนึ่งที่สำคัญที่สุดที่ต้องคำนึง คืออะไร

1. ความต้องการของผู้อำนวยการ
  2. ความต้องการของผู้ใช้
  3. ความต้องการของผู้บริหาร
  4. ความต้องการพัฒนาองค์กร
- จ. ความต้องการของผู้ทำงาน

121. ข้อใดกล่าวถึงคอมพิวเตอร์ไม่ถูกต้อง

1. สามารถคิดค้นวิธีการแก้ปัญหาได้
2. ความเร็วในการคำนวณเร็วกว่ามนุษย์
3. มีความสามารถในการจำสิ่งต่างๆ ได้ดีกว่ามนุษย์
4. อุปกรณ์ที่สามารถเก็บข้อมูลได้จำนวนมาก

122. ข้อใดให้ความหมายของคำว่าระบบเปิด (Open Systems) ได้ถูกต้อง

1. ระบบที่มีปฏิสัมพันธ์กับสิ่งแวดล้อมภายนอก เช่น มีการรับข้อมูลจากภายนอกเข้ามา
2. ระบบที่ไม่มีปฏิสัมพันธ์กับสิ่งแวดล้อมภายนอก เช่น ไม่มีการรับข้อมูลจากภายนอก
3. ระบบเปิด/ปิดคอมพิวเตอร์อัตโนมัติ
4. ระบบที่ไม่มีปฏิสัมพันธ์โต้ตอบกับผู้ใช้

123. ระบบการเชื่อมโยงเครือข่ายระหว่างองค์กร หรือภายนอกองค์กร เช่น ธนาคาร สามารถอำนวยความสะดวกให้กับลูกค้าทั่วโลก หมายถึงระบบแบบใด

1. Use Net
2. Intranet
3. Extranet
4. WIFI

124. ข้อใดไม่ใช่ลักษณะที่สำคัญของคอมพิวเตอร์

1. มีความเร็วสูงในการประมวลผล
2. มีความถูกต้องเชื่อถือได้
3. เป็นระบบแอนะล็อก
4. ทำงานด้วยระบบอิเล็กทรอนิกส์และ

อัตโนมัติ

125. เว็บไซต์ใดต่อไปนี้ ที่จัดทำขึ้นเพื่อจัดการความรู้ (Knowledge Management) และเป็นเว็บสารุกรมเสรีที่ใหญ่ที่สุดในโลก

1. bing.com
2. ebay.com
3. sanook.com
4. Wikipedi1.org

126. ความเร็ว (Speed) ในคอมพิวเตอร์ จะถูกกำหนดโดยอุปกรณ์ชนิดใด

1. หน่วยส่งออก
2. หน่วยความจำ
3. หน่วยประมวลผล
4. หน่วยนำเข้าข้อมูล

127. การลบ Sheet1 ทำได้โดยวิธีใด

1. คลิกขวาที่แท็บ Sheet1 เลือกคำสั่ง Delete
2. คลิกขวาที่แท็บรายการ เลือกคำสั่งลบ Sheet
3. ดับเบิลคลิกที่แท็บ Sheet1 เลือกคำสั่ง Delete
4. คลิกซ้ายที่แท็บ Sheet1 เลือกคำสั่ง Delete

128. สื่อบันทึกข้อมูลข้อใดเก็บข้อมูลได้มากที่สุด

1. Diskette 3.5 นิ้ว
2. Memory
3. Diskette 5.24 นิ้ว
4. Harddisk

129. หน่วยที่ใช้บอกความละเอียดของจอภาพ (Monitor) คือ

1. PPM
2. DPI
3. Pixel
4. Baud

130. ข้อใดหมายถึง กลุ่มของฟิลด์ที่สัมพันธ์กันและเกี่ยวข้องกันเก็บไว้ด้วยกัน

1. File
2. Record
3. Field
4. Bit

131. บุคคลธรรมดาที่กฎหมายกำหนดภูมิฐานะให้ ได้แก่

1. ผู้เยาว์
2. คนตาบอด
3. บุคคลเสมือนไร้ความสามารถ
4. บุคคลวิกลจริต

132. ข้อใดไม่ถูกต้องเกี่ยวกับทารกในครรภ์มารดา

1. มีสภาพบุคคลแล้ว
2. มีสิทธิรับมรดกถ้าคลอดแล้วอยู่รอดเป็นทารก
3. ไม่มีสภาพบุคคล
4. ผิดทุกข้อ

133. ข้อใดไม่ใช่หลักเกณฑ์ที่สำคัญของประมวลกฎหมายอาญา

1. ใช้กับทุกคนเท่าเทียมกัน
2. ไม่มีผลย้อนหลัง
3. ต้องตีความอย่างเคร่งครัด
4. เมื่อมีข้อสงสัยให้ยกประโยชน์ให้จำเลย

134. บุคคลสามารถทำพินัยกรรมได้ตั้งแต่อายุเท่าใด

1. อายุ 15 ปี
2. อายุ 17 ปี
3. อายุ 20 ปี
4. อายุ 14 ปี

135. อำนาจอธิปไตยหมายถึงข้อใด

1. ชาติ ศาสนา พระมหากษัตริย์
2. นิติบัญญัติ บริหาร ตุลาการ
3. การเมือง เศรษฐกิจ สังคม
4. รัฐ ชาติ ประชาชน

136. ข้อใดไม่ถูกต้อง

1. บุคคลใดถูกศาลสั่งให้เป็นคนสาบสูญแล้วกฎหมายถือว่าบุคคลนั้นถึงแก่ความตาย
2. เมื่อบุคคลใดถูกศาลสั่งให้เป็นคนสาบสูญ มรดกของบุคคลนั้นตกแก่ทายาท
3. เมื่อบุคคลใดถูกศาลสั่งให้เป็นคนสาบสูญ ทำให้การสมรสขาดจากกัน
4. การเป็นคนสาบสูญ ศาลอาจมีคำสั่งเพิกถอนคำสั่งให้เป็นคนสาบสูญได้

137. ข้อใดเป็นแบบของนิติกรรม

1. การกำหนดหลักฐานเป็นหนังสือ
2. การจดทะเบียน
3. การส่งมอบทรัพย์สิน
4. การทำเป็นหนังสือระหว่างกัน

138. ข้อใดคือลักษณะความผิดอาญาแผ่นดิน

1. เป็นความผิดต่อราชการหรือหน่วยงานของรัฐ
2. เป็นคดีอุกฉกรรจ์
3. แม้ผู้เสียหายจะยอมความแต่คดียังคงดำเนินต่อไป
4. เป็นคดีที่ยอมความได้ ถ้าเจ้าหน้าที่ของรัฐเห็นควร

139. ระบบรัฐสภาในไทยได้รูปแบบมาจากประเทศใด

1. ฝรั่งเศส
2. สหรัฐอเมริกา
3. รัสเซีย
4. อังกฤษ

140. ข้อใดไม่ใช่ลักษณะของกฎหมาย

1. ต้องออกโดยรัฐอธิปไตย
2. ต้องเป็นข้อบังคับ
3. ต้องมีผลบังคับ
4. ต้องไม่มีช่องโหว่ของกฎหมาย

141. การบำเพ็ญฮัจญ์ของชาวมุสลิมทั่วโลกมีจุดประสงค์สำคัญเพื่ออะไร

1. เพื่อลดช่องว่างระหว่างชนชั้น
2. เพื่อให้พระเจ้าโปรดปรานและคุ้มครองรักษา
3. เพื่อเป็นเกียรติและสร้างชื่อเสียงให้มวลมนุษย
4. เพื่อให้เกิดความเป็นเอกภาพและความเสมอภาคของชาวมุสลิมทั่วโลก

142. เพราะเหตุใดพระพุทธศาสนาจึงมีทฤษฎีและวิธีการที่เป็นสากล

1. เป็นศาสนาที่แพร่หลายทั่วโลก
2. เป็นศาสนาที่มุ่งเอาชนะธรรมชาติ
3. เป็นศาสนาที่มุ่งเน้นความสะอาดสบายของมนุษย์
4. เป็นศาสนาที่มุ่งเน้นความสันติสุขของมวลมนุษยชาติ

143. ข้อใดไม่ใช่องค์ประกอบทางสังคม

1. โครงสร้างสังคม
2. สถาบันสังคม
3. จำนวนสมาชิกของสังคม
4. การจัดระเบียบสังคม

144. ข้อใดไม่ใช่โครงสร้างทางสังคม

1. ผู้นำทางสังคม
2. ค่านิยม
3. บรรทัดฐานทางสังคม
4. สถานภาพ

145. สถาบันทางสังคมใดถือเป็นพื้นฐานการพัฒนาสังคมที่สำคัญที่สุด

1. สถาบันครอบครัว
2. สถาบันการศึกษา
3. สถาบันศาสนา
4. ถูกทุกข้อ

146. ข้อใดไม่เป็นวิถีประชา

1. น้องแดงทำความเคารพเพื่อนของพ่อ
2. นายขาวลูกให้คนชราที่นั่งบนรถเมล์
3. นาย 1. เสียถ้ายอย่างถูกต้อง
4. แม่เล็กให้ความเอ็นดูเด็กๆ แถวบ้าน

147. นายแดงมีเมียหลายคน เจ้าชูไปเรื่อย นายแดงมีปัญหาด้านใด

1. วิถีประชา
2. จารีต
3. กฎหมาย
4. มีปัญหาในทุกข้อ

148. การส่งเสริมอุตสาหกรรมตามหลักเศรษฐกิจพอเพียงมุ่งให้ความสำคัญกับอุตสาหกรรมแบบใดมากที่สุด

- |                       |                          |
|-----------------------|--------------------------|
| 1. อุตสาหกรรมขนาดใหญ่ | 2. อุตสาหกรรมขนาดกลาง    |
| 3. อุตสาหกรรมขนาดเล็ก | 4. อุตสาหกรรมในครัวเรือน |

149. ปอเนาะคือสถานที่ใดสำหรับศาสนาอิสลาม

- |                        |              |
|------------------------|--------------|
| 1. ศึกษาเล่าเรียนศาสนา | 2. สุสาน     |
| 3. ทำพิธีละหมาด        | 4. ถูกทุกข้อ |

150. ศาสนาใดถือว่ามีความเก่าแก่ที่สุดของโลก

- |           |           |
|-----------|-----------|
| 1. ฮินดู  | 2. อิสลาม |
| 3. คริสต์ | 4. พุทธ   |

NINE100.COM



### แบบประเมินตนเอง สายปราบปราม

วิชา	ข้อ	ทำได้	คิดเป็นเปอร์เซ็นต์	หมายเหตุ
1. ความสามารถทั่วไป	40		$\frac{\quad}{40} \times 100 = \underline{\quad}$	
2. ภาษาไทย	25		$\frac{\quad}{25} \times 100 = \underline{\quad}$	
3. ภาษาต่างประเทศ (ภาษาอังกฤษ)	40		$\frac{\quad}{40} \times 100 = \underline{\quad}$	
4. เทคโนโลยีสารสนเทศ	25		$\frac{\quad}{25} \times 100 = \underline{\quad}$	
5. กฎหมายที่ประชาชนควรรู้	10		$\frac{\quad}{10} \times 100 = \underline{\quad}$	
6. สังคม วัฒนธรรม จริยธรรม	10		$\frac{\quad}{10} \times 100 = \underline{\quad}$	
รวม	150		$\frac{\quad}{150} \times 100 = \underline{\quad}$	



NINE100.COM

ทดสอบความรู้ความสามารถ ด้วยวิธีสอบข้อเขียน ข้อสอบปรนัย 4 ตัวเลือก

1	3.	26	2.	51	2.	76	2.	101	2.	126	3.
2	3.	27	2.	52	3.	77	4.	102	1.	127	1.
3	4.	28	4.	53	4.	78	3.	103	3.	128	4.
4	3.	29	3.	54	2.	79	3.	104	2.	129	3.
5	1.	30	2.	55	2.	80	2.	105	1.	130	2.
6	4.	31	1.	56	2.	81	3.	106	1.	131	1.
7	1.	32	1.	57	2.	82	4.	107	3.	132	1.
8	3.	33	4.	58	4.	83	2.	108	4.	133	2.
9	4.	34	2.	59	1.	84	4.	109	4.	134	1.
10	3.	35	1.	60	1.	85	3.	110	3.	135	2.
11	3.	36	2.	61	3.	86	3.	111	1.	136	1.
12	2.	37	3.	62	2.	87	4.	112	1.	137	4.
13	3.	38	4.	63	4.	88	3.	113	1.	138	3.
14	2.	39	4.	64	3.	89	2.	114	2.	139	4.
15	4.	40	2.	65	3.	90	3.	115	3.	140	4.
16	4.	41	3.	66	1.	91	3.	116	4.	141	4.
17	2.	42	3.	67	4.	92	4.	117	1.	142	4.
18	2.	43	3.	68	3.	93	1.	118	2.	143	3.
19	3.	44	3.	69	4.	94	2.	119	3.	144	1.
20	1.	45	4.	70	3.	95	1.	120	2.	145	1.
21	3.	46	1.	71	3.	96	2.	121	1.	146	3.
22	1.	47	3.	72	2.	97	2.	122	1.	147	2.
23	2.	48	3.	73	2.	98	3.	123	3.	148	4.
24	2.	49	4.	74	3.	99	1.	124	3.	149	1.
25	2.	50	1.	75	2.	100	4.	125	4.	150	1.

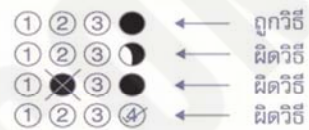
# กระดาษคำตอบ

**NINE100.COM**

## คำแนะนำ

- ใช้ดินสอดำ 2B ขึ้นไป ระบายวงกลมทุกวงที่ต้องการให้คำตอบ
- ถ้าต้องการแก้ไข ให้ใช้ยางลบให้สะอาดก่อน จึงระบายวงใหม่
- ห้ามขีดเขียนสิ่งอื่นใดนอกเหนือจากที่ระบุไว้

## ตัวอย่าง



1 (1) (2) (3) (4)	26 (1) (2) (3) (4)	51 (1) (2) (3) (4)	76 (1) (2) (3) (4)	101 (1) (2) (3) (4)	126 (1) (2) (3) (4)
2 (1) (2) (3) (4)	27 (1) (2) (3) (4)	52 (1) (2) (3) (4)	77 (1) (2) (3) (4)	102 (1) (2) (3) (4)	127 (1) (2) (3) (4)
3 (1) (2) (3) (4)	28 (1) (2) (3) (4)	53 (1) (2) (3) (4)	78 (1) (2) (3) (4)	103 (1) (2) (3) (4)	128 (1) (2) (3) (4)
4 (1) (2) (3) (4)	29 (1) (2) (3) (4)	54 (1) (2) (3) (4)	79 (1) (2) (3) (4)	104 (1) (2) (3) (4)	129 (1) (2) (3) (4)
5 (1) (2) (3) (4)	30 (1) (2) (3) (4)	55 (1) (2) (3) (4)	80 (1) (2) (3) (4)	105 (1) (2) (3) (4)	130 (1) (2) (3) (4)
6 (1) (2) (3) (4)	31 (1) (2) (3) (4)	56 (1) (2) (3) (4)	81 (1) (2) (3) (4)	106 (1) (2) (3) (4)	131 (1) (2) (3) (4)
7 (1) (2) (3) (4)	32 (1) (2) (3) (4)	57 (1) (2) (3) (4)	82 (1) (2) (3) (4)	107 (1) (2) (3) (4)	132 (1) (2) (3) (4)
8 (1) (2) (3) (4)	33 (1) (2) (3) (4)	58 (1) (2) (3) (4)	83 (1) (2) (3) (4)	108 (1) (2) (3) (4)	133 (1) (2) (3) (4)
9 (1) (2) (3) (4)	34 (1) (2) (3) (4)	59 (1) (2) (3) (4)	84 (1) (2) (3) (4)	109 (1) (2) (3) (4)	134 (1) (2) (3) (4)
10 (1) (2) (3) (4)	35 (1) (2) (3) (4)	60 (1) (2) (3) (4)	85 (1) (2) (3) (4)	110 (1) (2) (3) (4)	135 (1) (2) (3) (4)
11 (1) (2) (3) (4)	36 (1) (2) (3) (4)	61 (1) (2) (3) (4)	86 (1) (2) (3) (4)	111 (1) (2) (3) (4)	136 (1) (2) (3) (4)
12 (1) (2) (3) (4)	37 (1) (2) (3) (4)	62 (1) (2) (3) (4)	87 (1) (2) (3) (4)	112 (1) (2) (3) (4)	137 (1) (2) (3) (4)
13 (1) (2) (3) (4)	38 (1) (2) (3) (4)	63 (1) (2) (3) (4)	88 (1) (2) (3) (4)	113 (1) (2) (3) (4)	138 (1) (2) (3) (4)
14 (1) (2) (3) (4)	39 (1) (2) (3) (4)	64 (1) (2) (3) (4)	89 (1) (2) (3) (4)	114 (1) (2) (3) (4)	139 (1) (2) (3) (4)
15 (1) (2) (3) (4)	40 (1) (2) (3) (4)	65 (1) (2) (3) (4)	90 (1) (2) (3) (4)	115 (1) (2) (3) (4)	140 (1) (2) (3) (4)
16 (1) (2) (3) (4)	41 (1) (2) (3) (4)	66 (1) (2) (3) (4)	91 (1) (2) (3) (4)	116 (1) (2) (3) (4)	141 (1) (2) (3) (4)
17 (1) (2) (3) (4)	42 (1) (2) (3) (4)	67 (1) (2) (3) (4)	92 (1) (2) (3) (4)	117 (1) (2) (3) (4)	142 (1) (2) (3) (4)
18 (1) (2) (3) (4)	43 (1) (2) (3) (4)	68 (1) (2) (3) (4)	93 (1) (2) (3) (4)	118 (1) (2) (3) (4)	143 (1) (2) (3) (4)
19 (1) (2) (3) (4)	44 (1) (2) (3) (4)	69 (1) (2) (3) (4)	94 (1) (2) (3) (4)	119 (1) (2) (3) (4)	144 (1) (2) (3) (4)
20 (1) (2) (3) (4)	45 (1) (2) (3) (4)	70 (1) (2) (3) (4)	95 (1) (2) (3) (4)	120 (1) (2) (3) (4)	145 (1) (2) (3) (4)
21 (1) (2) (3) (4)	46 (1) (2) (3) (4)	71 (1) (2) (3) (4)	96 (1) (2) (3) (4)	121 (1) (2) (3) (4)	146 (1) (2) (3) (4)
22 (1) (2) (3) (4)	47 (1) (2) (3) (4)	72 (1) (2) (3) (4)	97 (1) (2) (3) (4)	122 (1) (2) (3) (4)	147 (1) (2) (3) (4)
23 (1) (2) (3) (4)	48 (1) (2) (3) (4)	73 (1) (2) (3) (4)	98 (1) (2) (3) (4)	123 (1) (2) (3) (4)	148 (1) (2) (3) (4)
24 (1) (2) (3) (4)	49 (1) (2) (3) (4)	74 (1) (2) (3) (4)	99 (1) (2) (3) (4)	124 (1) (2) (3) (4)	149 (1) (2) (3) (4)
25 (1) (2) (3) (4)	50 (1) (2) (3) (4)	75 (1) (2) (3) (4)	100 (1) (2) (3) (4)	125 (1) (2) (3) (4)	150 (1) (2) (3) (4)



6. ถ้า  $a.b.c.d = 0$  และ  $b.c.d.e = 1$  แล้วข้อใดต่อไปนี้มีค่าเท่ากับศูนย์

1. 1

2. 2

3. 3

4. 4

7. ประตู่บ้าน ดร. บอย กว้าง 6 ฟุต ยาว 8 ฟุต หากต้องการชนกระจกตั้งโต๊ะอาหารทรงกลมเข้าบ้าน อยากทราบว่า ดร. บอย จะซื้อกระจกตั้งโต๊ะอาหารได้ใหญ่ที่สุดขนาดเส้นผ่านศูนย์กลางเท่าใด

1. 6 ฟุต

2. 10 ฟุต

3. 12 ฟุต

4. 15 ฟุต

8. ถ้า  $A - B = \{2, 4, 6\}$ ,  $B - A = \{0, 1, 3\}$  และ  $A \cup B = \{0, 1, 2, 3, 4, 5, 6, 7, 8\}$  แล้ว  $A \cap B$  เป็นสับเซตของเซตในข้อใดต่อไปนี้

1.  $\{0, 1, 3, 5, 7, 8\}$

2.  $\{1, 2, 4, 5, 6, 8\}$

3.  $\{0, 1, 4, 5, 6, 7\}$

4.  $\{0, 2, 4, 5, 6, 8\}$

9. จงหาค่าของ  $(4x^6)^{\frac{5}{2}}$  อยู่ในข้อใด

1.  $4x^{15}$

2.  $32X^{15}$

3.  $256 X^{15}$

4.  $365 X^{15}$

10. ถ้า  $\sim(p \vee q)$  และ  $r \rightarrow p$  มีค่าความจริงเป็นจริง แล้วข้อใดมีค่าความจริงเป็นเท็จ

1.  $\sim(p \vee q) \rightarrow \sim(r \rightarrow p)$

2.  $(p \rightarrow \sim q) \rightarrow (r \wedge q)$

3.  $[(p \rightarrow q) \wedge (r \rightarrow q)] \vee \sim p$

4.  $(\sim p \rightarrow r) \vee (q \rightarrow \sim p) \wedge q$

11. ดร. บอยปลูกสวนดอกไม้ที่เป็นรูปวงกลม มีรัศมี 20 เมตร หากต้องการเพิ่มพื้นที่เพาะปลูกเป็น 4 เท่าของปัจจุบัน อยากทราบว่า เส้นผ่านศูนย์กลางของสวนใหม่ จะเป็นเท่าใด

1. 30

2. 40

3. 60

4. 80

12. ถ้า  $3 * 5 = 24$   
และ  $4 * 6 = 40$   
แล้ว  $2 * 8 = ?$

1. 20

2. 41

3. 55

4. 65

13.  $64 \ 243 \ 256 \ 125 \ ?$

1. 96

2. 64

3. 49

4. 36

14. 1 7 4 14 9 21 ...

1. 25                                      2. 18                                      3. 16                                      4. 15

15. -18 1 -17 2 -13 3 -4 4 ...

1. 8    2. 12                                      3. 14                                      4. 18

16. 158 118 136 96 114 74 ...

1. 94    2. 92  
3. 56    4. 34

17. เมื่อ 7 ปีก่อน ไก่อายุมากกว่าไข่ 2 ปี ปัจจุบัน ไข่อายุเป็น 2 เท่าของนก อีก 10 ปีนกจะอายุครบ 25 ปี ไก่อายุเท่าใด

1. 32    2. 30  
3. 22    4. 15

18. โรงเรียนแห่งหนึ่งมีนักเรียน 500 คน เป็นนักเรียนชาย 360 คน จงหาว่าจำนวนนักเรียนหญิงเป็นกี่เปอร์เซ็นต์ของนักเรียนทั้งหมด

1. 27%    2. 28%  
3. 29%    4. 30%

19. นายปรีชา ได้รับดอกเบี้ยจากธนาคาร 500 บาท อัตราดอกเบี้ย 5% ต่อปีเป็นเวลา 1 ปี อยากทราบว่านายปรีชา นำเงินไปฝากธนาคารเท่าไร

1. 8,000    2. 10,000  
4. 12,000    4. 15,000

20. 20% ของผู้ชายเท่ากับ 25% ของผู้หญิง ถ้ามีคนทั้งหมด 90 คน จะมีผู้ชายมากกว่าผู้หญิงกี่คน

1. 10    2. 20  
3. 30    4. 40

21. รถปรับอากาศจากสถานีไปยังเมือง 1. 2. และเมือง 3. โดยออกจากสถานีทุก 30, 40 และ 60 นาที ตามลำดับ ถ้ารถเที่ยวแรกออกเวลา 6.00 น. อยากทราบว่าในเวลาเท่าใดที่รถทั้ง 3 คันจะออกพร้อมกัน

1. 06.12 น.    2. 07.20 น.  
3. 08.00 น.    4. 08.20 น.





28. ถ้า  $2 * 4 = 14$

และ  $3 * 5 = 23$

แล้ว  $4 * 6 = ?$

1. 34

2. 36

3. 38

4. 40

29. เปิดกับไก่มีขารวมกัน 40 ขา จำนวนเป็ดมากกว่าไก่ 6 ตัว อยากทราบว่า มีไก่อยู่กี่ตัว

1. 4

2. 5

3. 6

4. 7

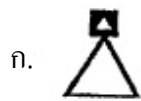
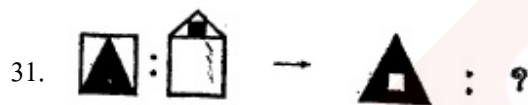
30. แบ่งเงิน 7,750 บาท ออกเป็น 3 ส่วน จำนวนแรกเป็น 2 เท่าของจำนวนที่ 2 และจำนวนที่ 2 เป็น 10 เท่าของจำนวนที่ 3 อยากทราบว่าเงินจำนวนแรกเป็นเท่าไร

1. 225

2. 250

3. 2,500

4. 5,000



32. ก ข และ ค ช่วยกันทำงานอย่างหนึ่งได้รับค่าจ้างรวม 18,300 บาท ถ้า ก ได้รับค่าจ้างคิดเป็นร้อยละ 125 ของส่วนแบ่งที่ ข ได้รับ แต่เมื่อนำไปเปรียบเทียบกับส่วนแบ่งของ ค พบว่า ก ได้รับคิดเป็นร้อยละ 80 ของส่วนแบ่งที่ ค ได้รับ อยากทราบว่า ก ได้รับค่าจ้างกี่บาท

1. 5,250

2. 5,400

3. 5,850

4. 6,000

33. จากข้อมูลอายุเด็กนักเรียน ดังนี้ 7 6 8 6 5 9 10 มีฐานตรงกับข้อใด

1. 6

2. 7

4. 8

4. 9

34. คำมีอายุแก่กว่าขาว 2 ปี ขาวมีอายุน้อยกว่าเขียว 1 ปี หากเขียวมีอายุ 6 ปี และแม่มีอายุ 40 ปี ค่าเฉลี่ยอายุของทั้ง 4 คนเป็นเท่าใด

1. 11.5 ปี                      2. 12.5 ปี                      3. 13.5 ปี                      4. 14.5 ปี

35. ถังน้ำมันใบหนึ่งเมื่อหย่อนเชือกถึงก้นถังแล้ว ยังเหลือเชือกยาว 10 นิ้ว ถ้าทบเชือกเส้นนี้เข้าด้วยกันแล้ว หย่อนลงไปอีก ปรากฏว่ายังขาดอยู่ 10 นิ้ว จึงจะถึงก้นถังพอดี ถังใบนี้สูงเท่าใด

1. 30 นิ้ว                      2. 45 นิ้ว                      3. 50 นิ้ว                      4. 75 นิ้ว

คำสั่ง จงพิจารณาตารางข้อมูลต่อไปนี้แล้วตอบคำถามข้อที่ 36-40

ตารางแสดงรายได้ของพืชผลทางการเกษตร ตั้งแต่ปี พ.ศ.2553 - 2556

พืชผลทางการเกษตร	ปี พ.ศ.			
	2553	2554	2555	2556
ข้าว	172,500	181,750	211,324	225,498
ข้าวโพด	130,251	114,251	145,321	162,432
อ้อย	122,105	123,541	161,213	142,365
ยางพารา	213,154	210,543	192,145	214,512
มันสำปะหลัง	110,121	121,212	143,652	167,432

36. รายได้รวมของพืชผลทางการเกษตรในปี 2555 เป็นเท่าใด

1. 785,423 บาท                      2. 853,655 บาท                      3. 987,555 บาท                      4. 995,655 บาท

37. อัตราส่วนของรายได้ข้าวในปี 2553 กับข้าวโพดในปี 2556 คิดเป็นประมาณเท่าใด

1. 1 : 3                      2. 5 : 3                      3. 13 : 9                      4. 17 : 16

38. รายได้จากการผลิตประเภทใดและปีใดต่ำที่สุด

1. ข้าวโพด, ปี 2554                      2. ข้าว, ปี 2554  
3. มันสำปะหลัง, ปี 2553                      4. อ้อย, ปี 2553

39. รายได้ยางพาราในปี 2556 เป็นกี่เท่าของรายได้อ้อยปี 2553

1. 1.2 เท่า                      2. 1.5 เท่า                      3. 1.7 เท่า                      4. 1.9 เท่า

40. อัตราการเพิ่มขึ้นของรายได้ข้าวระหว่าง ปี 2554 – 2555 เป็นเท่าใดโดยประมาณ

1. ร้อยละ 16                      2. ร้อยละ 25                      3. ร้อยละ 30                      4. ร้อยละ 36

41. ข้อใดเป็นประโยคที่สุภาพที่สุด

- |                                       |  |
|---------------------------------------|--|
| 1. ท่านเข้าใจผิดในเรื่องนี้           | 2. ท่านเข้าใจผิดอย่างมากในเรื่องนี้    |
| 3. ความเข้าใจของท่านในเรื่องนี้ไม่ถูก | 4. ความเข้าใจของท่านยังคลาดเคลื่อนอยู่ |

42. “แมวคาบปลาคุยกั๋งไปด้วยปาก” ประโยคนี้มีลักษณะ

- |                                   |                                       |
|-----------------------------------|---------------------------------------|
| 1. ใช้ภาษาเขียนอย่างถูกต้องชัดเจน | 2. ใช้คำฟุ่มเฟือย                     |
| 3. ใช้คำแบบภาษาต่างประเทศ         | 4. ใช้คำต่างระดับกันในข้อความเดียวกัน |

43. ลักษณะนามของคำในข้อใดแตกต่างไปจากข้ออื่น

- |         |           |
|---------|-----------|
| 1. จิม  | 2. ว่าว   |
| 3. ตะขอ | 4. ชิงช้า |

44. ประตูล้อมรอบเป็นประตูกำแพงเมืองซึ่งสร้างขึ้นในรัชกาลที่ 5 โดยสร้างเป็นประตูล้อมช่อง มียอดทั้งสามช่อง นับตั้งแต่นั้นชาวบ้านก็พากันเรียกประตูดังกล่าวว่า “ประตูล้อมรอบ”

ข้อความใดข้อความใดถูกต้อง

1. ชาวบ้านเป็นผู้สร้างประตูล้อม
2. กำแพงเมืองนิยมสร้างให้มียอด
3. “ประตูล้อมรอบ” ได้ชื่อจากลักษณะของการสร้าง
4. เริ่มมีการสร้างกำแพงเมืองในสมัยรัชกาลที่ 5

45. ตัวอย่าง เขา \_\_\_\_\_ ออกจากบ้านเพราะได้ข่าวว่าคนงานกำลังถูกไฟ \_\_\_\_\_

- |                      |                      |
|----------------------|----------------------|
| 1. ลูกลี้ลูกกลน คลอก | 2. ลูกลี้ลูกกลน ครอก |
| 3. ลูกรี่ลูกกลน คลอก | 4. ลูกรี่ลูกกลน ครอก |

46. รัฐบาลต้องเตรียมพร้อมไว้เสมอเพื่อ.....การก่อวินาศกรรมของผู้ที่ไม่หวังดีต่อชาติบ้านเมือง

- |           |            |            |            |
|-----------|------------|------------|------------|
| 1. กีดกัน | 2. บั๊งกัน | 3. กีดขวาง | 4. ขัดขวาง |
|-----------|------------|------------|------------|

47. ข้อใด ไม่ใช่ ความหมายของสำนวน

- |                               |  |
|-------------------------------|--|
| 1. ถ้อยคำที่มีความหมายเหมาะสม | 2. ถ้อยคำที่มีความหมายโดยนัย           |
| 3. รวมถ้อยคำยาว ๆ ให้กะทัดรัด | 4. มีความหมายคมคายไม่เคร่งครัดไวยากรณ์ |

48. “ชวานผ่าซาก” หมายถึงข้อใด

- |          |           |           |             |
|----------|-----------|-----------|-------------|
| 1. คำพูด | 2. ของใช้ | 3. มารยาท | 4. ธรรมชาติ |
|----------|-----------|-----------|-------------|

49. มโนสำเร่ หมายถึง

1. เรื่องตื่นเต้น
2. เรื่องเบ็ดเตล็ด
3. บทความ
4. นิทานเล่าต่อ ๆ กัน

50. “ขอเป็นเกือกทองรองบาทา ไปจนกว่าชีวิตจะปรลัย”

จากคำประพันธ์แสดงว่าผู้พูดมีเจตนาอย่างไร

1. ต้องการขอความช่วยเหลือ
2. ชื่นชมผู้มีพระคุณ
3. ประจบเพื่อที่จะได้ดี
4. แสดงความจงรักภักดี

“เมื่อจะเอาโทษทัณฑ์ฉันใด ก็ตามใจด้วยเรานี้เป็นข้า  
ได้ถือน้ำพระพิพัฒน์สัจจา จะหลบลี้หนีหน้าไปทำไม  
จะถือตามคำโบราณท่านว่ามา ว่าวายน้ำเข้าหาจะเข้าใหญ่  
ยากง่ายตายเป็นประการใด ให้เป็นไปตามกรรมที่ทำมา

51. “จะเข้าใหญ่” ในคำประพันธ์ข้างต้นมีความหมายตรงตามข้อใด

1. ศัตรู
2. ผู้มีอำนาจ
3. คนคู่ร้าย
4. คนวางอำนาจ

52. “ในขณะที่เรือวิ่งฝ่าคลื่นลมแรงอยู่นั้น ได้มองเห็นลูกคลื่นวิ่งมากระทบกับหัวเรือเข้าแล้วก็แตกกระจายไป แล้วไม่นานลูกคลื่นก็ถล่มมากระทบหัวเรืออีกแล้วก็แตกกระจายไปอีกอยู่เช่นนี้ตลอดทั้งวันจึงเกิดความคิดเป็นธรรมดาขึ้นมา

เรือที่นายช่างต่อดีแล้วอย่างแข็งแรง เมื่อถูกคลื่นกระทบแล้วไม่เสียหายฉันใด จิตของบุคคลใดเมื่อฝึกฝนให้ดีแล้ว คลื่นของกิเลสกระทบเข้าย่อมไม่หวั่นไหวก็ฉันนั้น

1. การฝึกจิต
2. จิตที่ไม่สงบ
3. คลื่นของกิเลส
4. จิตที่ไม่หวั่นไหว

53. ขึ้นรถเมล์ไม่เสียเกียรติ แม้เบียดนิดก็ทนหน่อย  
เพราะน้ำมันนั้นมีน้อย ควรใช้สอยเมื่อจำเป็น

จุดประสงค์ของผู้เขียนคือสิ่งใด

1. เพื่อให้ความรู้
2. เพื่อโน้มน้าวใจ
3. เพื่อจรรโลงใจ
4. เพื่อเตือนใจ

54. ความมุ่งหมายของวรรณคดี มิใช่เพื่อให้เป็นที่พึงพอใจแก่ผู้อื่น แต่ต้องช่วยปลุกเร้าดวงจิตที่จิตของผู้อ่าน เพื่อให้เกิดความรู้สึกรักใคร่คิดใหม่

จากข้อความนี้มีจุดมุ่งหมายที่สำคัญอย่างไร

1. ส่งเสริมให้ผู้อ่านมีความคิดที่ต่อเนื่อง
2. กระตุ้นผู้อ่านให้เกิดความคิดที่กว้างขวาง
3. ให้ผู้อ่านเกิดจินตนาการเกี่ยวกับเนื้อเรื่อง
4. นำให้ผู้อ่านคล้ายตามความคิดของผู้เขียน

อุปมาอุปไมย

55. เกียจคร้าน : ลำบาก :: ? : ?

1. คน : สวาย
2. ครู : นักเรียน
3. ขยัน : เศรษฐี
4. โกง : ถูกจับ

56. ยิ้ม : หัวเราะ :: ? : ?

1. ร้อน : เตือด
2. หनाव : แฉิ่ง
3. ร้าว : แตก
4. หยด : ไหล

57. ข้อความใดใช้คำไม่ถูกต้อง

1. คุณแม่นั่งอยู่บนนอกชาน
2. วิทยุชอบเดินนอกเส้นทาง
3. เธอชอบรับประทานอาหารจุกจิก
4. กรุณาจอดรถนอกสนามหญ้า

58. ผู้ที่สอบบรรจุคัดเลือกเข้ารับราชการควรมี คุณสมบัติ คือมีอายุครบ 18 ปีบริบูรณ์ คำว่า คุณสมบัติ มีความหมายว่าอย่างไร

1. ลักษณะประจำตัว
2. ลักษณะประจำวิชา
3. ลักษณะประจำตำแหน่ง
4. ลักษณะประจำงาน

59. ข้อใดไม่ใช่ข้อบกพร่องในการฟัง

1. สีขอให้ควายฟัง
2. ฟังไม่ได้ศัพท์จับไปกระเดียด
3. เข้าหูซ้ายทะลุหูขวา
4. ไม่ไหนดมา สามวาสองศอก

60. ข้อใดไม่มีคำที่มาจากภาษาเขมร

1. จึงเรียนมาเพื่อโปรดพิจารณาอนุเคราะห์
2. ยายของฉันทำแก้วลายวิจิตรงดงาม
3. ฟังเพลงที่ไรสำราญใจทุกที
4. คำว่าดำเนิน แปลว่า เดินหรือให้เดินไปก็ได้

61. ข้อใดไม่ใช่สำนวนภาษาต่างประเทศ

1. มันเป็นการยากที่จะยอมรับพรกการเมืองนี้
2. รัฐบาลพยายามประชาสัมพันธ์ให้คนไทยช่วยกันประหยดอย่างจริงจัง
3. คณะกรรมการชมรมครูเก่าชุดนี้ ถูกจับตามองจากสมาชิกตลอดเวลา
4. การนำชาวบ้านมาชุมนุมประท้วงครั้งนี้ทำให้ประเทศได้รับความเสียหายมาก

62. ปัจจัยอีกประการหนึ่งที่ทำให้กึ่งเกิดโรคหัวใจคือ การทำเกษตรกรรมบางอย่างมีการใช้ยาฆ่าแมลง สารตกค้างในยาฆ่าแมลงจะไหลลงสู่แม่น้ำลำคลองและออกสู่ทะเล ทำให้กึ่งอ่อนแอขาดภูมิคุ้มกันโรค ข้อใดสรุปถูกต้อง

1. สารตกค้างในยาฆ่าแมลงทำให้กึ่งอ่อนแอขาดภูมิคุ้มกันโรค
2. สารตกค้างในยาฆ่าแมลงเป็นปัจจัยหนึ่งที่ทำให้เกิดโรคหัวใจในกึ่ง
3. ผลจากการทำเกษตรกรรมเป็นปัจจัยหนึ่งที่ทำให้เกิดโรคหัวใจในกึ่ง
4. การป้องกันโรคหัวใจในกึ่งสามารถทำได้โดยการกำจัดสารตกค้างจากยาฆ่าแมลงที่อยู่ในน้ำ

ให้ใช้ข้อความต่อไปนี้ตอบคำถามข้อ 63 – 65

พวกเราทุกวันนี้เอาหูไปนาเอาตาไปไร่กันหรืออย่างไร ที่ว่าบ้านเมืองมีชื่อมีแป้นั้นใช้ไม่ได้แล้วหรือ ยกตัวอย่างง่าย ๆ เช่น การปล่อยให้ชาวประมงจับปลาในฤดูวางไข่ เรารู้กันทั่วโลกแล้วว่ามีผลร้ายเพราะเป็นเหตุให้ปลาสูญพันธุ์ในเวลาอันรวดเร็ว กฎหมายลงโทษก็มี แต่ไม่มีใครเหลียวแลกฎหมายข้อนั้น นึกถึงเสียเลยดีไหม ต่อไปนี้ใครทำได้ทำไป มีใครยาวสาวได้สาวเอา บ้านเมืองไม่ใช่ของใครคนเดียว

63. “เอาหูไปนาเอาตาไปไร่” ในที่นี้ตรงกับความหมายข้อใด

- |                             |                          |
|-----------------------------|--------------------------|
| 1. ปล่อยปลละเลย             | 2. ไม่เอาจริงเอาจัง      |
| 3. แสร้งทำเป็นไม่รู้ไม่เห็น | 4. หลกเลียงความรับผิดชอบ |

64. ผู้เขียนใช้กลวิธีใดในการเขียนส่วนเริ่มต้นของบทความนี้

- |                       |                            |
|-----------------------|----------------------------|
| 1. การประชดประชัน     | 2. การขู่ขู่ให้เคียดแค้น   |
| 3. การยกสำนวนมาชี้แนะ | 4. การยกสาระสำคัญของเรื่อง |

65. ผู้เขียนต้องการสะท้อนให้เห็นถึงเรื่องใดมากที่สุด

- |  |                                      |
|--|--------------------------------------|
| 1. ประชาชนไม่เคารพกฎหมาย                 | 2. กฎหมายของบ้านเมืองไม่ศักดิ์สิทธิ์ |
| 3. การจับปลาในฤดูวางไข่ทำให้ปลาสูญพันธุ์ | 4. ควรเลิกกฎหมายที่ใช้บังคับไม่ได้ผล |

66. A : I'm afraid I've broken your glass.

B : \_\_\_\_\_.

1. Please don't be afraid
2. Oh, that's all right.
3. No, I don't regret that.
4. Oh, don't mention my glass.

67. A husband and his wife are on their way home.

Wife : It looks like it's going to rain heavily before we get home

Husband : \_\_\_\_\_.

1. I'm expecting the same
2. Yes, I'm afraid so
3. Yes, that's right.
4. Why should I ?

68. You ask a telephone operator if she would mind repeating a number, She says: " \_\_\_\_\_ "

1. Never mind
2. Not at all.
3. Yes, that's right.
4. Why should I ?

69. A: Good evening \_\_\_\_\_?

B: Yes, I think I'll have the steak cooked in red wine.

A: I'm terribly sorry. We've run out of steak.

1. Anything I can do for you
2. May I take your order now
3. Do you want anything to eat
4. Do you like steak

70. A : Can we meet next Friday?

B : Let me see. Yes, \_\_\_\_\_?

1. I can make the morning
2. I can see my schedule
3. I have a meeting
4. I will think about it

71. Situation: A is asking B to the party

A : Can you come to the party tonight?

B : \_\_\_\_\_ . My parents won't let me.

1. I hope so
2. I think so
3. I 'm afraid so
4. I'm afraid not

72. A: \_21\_\_\_\_\_?

B: I'll have fried rice with chicken.

1. Are you ready to order now, sir
2. Have you eaten anything yet
3. Anything to eat in this restaurant
4. Would you like to try fried rice with chicken, sir.

73. Your friend has changed her hair style. You compliment her on her appearance by saying : "\_\_\_\_\_"

1. It really looks at you.
2. You look terrific.
3. You look strange indeed!
4. What have you done now?

74. It is very difficult to totally eradicate corruption in Thailand.

1. protect
2. prevent
3. Eliminate
4. Achieve

75. When arriving at the port, the cargo is carefully examined.

1. Damaged
2. Inspected
3. Delivered
4. Taxed

76. Drivers who break the traffic rules will be\_\_\_\_\_for 3,000 baht.

1. paid
2. refunded
3. fined
4. rewarded

77. His\_\_\_\_\_to his family is seen easily.

1. devotion
2. location
3. relief
4. rewarded

78. Don't buy grapes now! They are much cheaper when\_\_.

1. in town
2. in the field
3. in the garden
4. in season

79. After taking drugs for many years, he became an\_\_\_\_\_and found it impossible to stop.

1. addict
2. athlete
3. amateur
4. activist



80. Dr. Boy asked me, "Where were you last night?"

Dr. Boy asked me that.....

- |                                 |                                       |
|---------------------------------|---------------------------------------|
| 1. where you were last night.   | 2. where you were the night before.   |
| 3. where I had been last night. | 4. where I had been the night before. |

81. I have seen my doctor\_\_\_\_\_.

- |              |                    |
|--------------|--------------------|
| 1. regularly | 2. Recently        |
| 3. lately    | 4. All are correct |

82. The witness\_\_\_\_\_the suspect by his twisted nose and the ugly scar on his narrow face.

- |             |            |               |               |
|-------------|------------|---------------|---------------|
| 1. detected | 2. located | 3. identified | 4. discovered |
|-------------|------------|---------------|---------------|

83. Tharit ..... home last night when suddenly a motorcycle bumped in to his car.

- |                |                      |
|----------------|----------------------|
| 1. have driven | 2. was driving       |
| 3. had driven  | 4. have been driving |

84. Choowy ..... when his wife ..... home last night.

- |                      |                         |
|----------------------|-------------------------|
| 1. is cooking, came  | 2. will cook, will come |
| 3. was cooking, came | 4. has cooked, has come |

85. At 8.00 1.m. tomorrow, my boss ..... A meeting

- |         |                   |
|---------|-------------------|
| 1. have | 2. be had         |
| 3. had  | 4. will be having |

86. A number of student ..... visited the Grand Palace.

- |        |         |       |        |
|--------|---------|-------|--------|
| 1. has | 2. have | 3. is | 4. are |
|--------|---------|-------|--------|

87. The police ..... attacking the terrorists at Mall

- |       |         |        |        |
|-------|---------|--------|--------|
| 1. is | 2. were | 3. has | 4. was |
|-------|---------|--------|--------|

88. The book ..... from my room has been found.

- |          |                |           |                |
|----------|----------------|-----------|----------------|
| 1. steal | 2. is stealing | 3. stolen | 4. will stolen |
|----------|----------------|-----------|----------------|

89. Mr. Pasan says, "You deserve it."

Mr. Pasan says that .....it.

- |                |                |
|----------------|----------------|
| 1. he deserved | 2. we deserved |
| 3. he deserves | 4. I deserved  |

90. Unless it ....., I will go to shopping Paragon this afternoon.

- |                 |          |           |               |
|-----------------|----------|-----------|---------------|
| 1. doesn't rain | 2. rains | 3. rained | 4. had rained |
|-----------------|----------|-----------|---------------|

91. Not only Pakistan but also India ..... of the unfriendly greeting from UN.

- |                  |                   |
|------------------|-------------------|
| 1. to disapprove | 2. disapprove     |
| 3. disapproves   | 4. is disapproved |

92. Our teacher said to me, "Get out."

Our teacher ordered me .....

- |               |                |            |                   |
|---------------|----------------|------------|-------------------|
| 1. to get out | 2. getting out | 3. got out | 4. had to get out |
|---------------|----------------|------------|-------------------|

93. He was fired because he was \_\_\_\_\_.

- |         |           |             |                        |
|---------|-----------|-------------|------------------------|
| 1. lazy | 2. lazily | 3. laziness | 4. 1 and 2 are correct |
|---------|-----------|-------------|------------------------|

94. Jan can design as \_\_\_\_\_ as Jenny

- |         |         |           |         |
|---------|---------|-----------|---------|
| 1. good | 2. well | 3. better | 4. best |
|---------|---------|-----------|---------|

95. Mr. Choowy ..... Healthier if he had stopped smoking last year.

- |            |             |       |                    |
|------------|-------------|-------|--------------------|
| 1. will be | 2. would be | 3. is | 4. would have been |
|------------|-------------|-------|--------------------|

96. The battle ship ..... Before the navy army could save it.

- |                       |                   |
|-----------------------|-------------------|
| 1. had been bombed    | 2. will be bombed |
| 3. should have bombed | 4. can be bombed  |

97. .... The History professor gave him a bad grade, ..... the Chemistry professor did so.

- |             |                |                       |                  |
|-------------|----------------|-----------------------|------------------|
| 1. From, to | 2. Between, to | 3. Not only, but also | 4. From, between |
|-------------|----------------|-----------------------|------------------|

98. It took me only fifteen minutes to get here, \_\_\_ the heavy traffic.

- |           |             |               |                |
|-----------|-------------|---------------|----------------|
| 1. due to | 2. Owing to | 3. Because of | 4. In spite of |
|-----------|-------------|---------------|----------------|

99. Twenty bags of sand \_\_\_\_\_ wanted here to be block water coming in.

- |        |        |
|--------|--------|
| 1. be  | 2. Is  |
| 3. are | 4. Was |

100. Mark worked ..... hard that his boss would promote him soon.

- |              |       |            |          |
|--------------|-------|------------|----------|
| 1. therefore | 2. so | 3. because | 4. as if |
|--------------|-------|------------|----------|

Instruction: Read the following passage and choose the best answer. (101 – 105)

Two men were arrested by the police after they had sold a stolen painting to an art gallery in Guildford. The owner of the gallery claimed that he had bought the painting in good faith, unaware that it had been stolen. The painting, a portrait of a young woman in a wide brimmed straw hat sitting under a tree, was owned by Marie Gilles, aged 84. She claimed that the painting had been given to one of her ancestors by the artist. She had owned it since 1950 when it was given to her by an aunt as a wedding present. The painting had been stolen from her house two weeks previous to the arrest of the two men.

101. The article is about\_\_\_\_\_.

- |                   |                  |
|-------------------|------------------|
| 1. an art theft   | 2. a young woman |
| 3. An art gallery | 4. an artist     |

102. From the information given in the text, we know that Marie Gilles\_\_\_\_\_

- |                                  |                                      |
|----------------------------------|--------------------------------------|
| 1. knew the owner of the gallery | 2. had been married                  |
| 3. Was grateful to the police    | 4. Did not value the painting highly |

103. The owner of the art gallery said that he bought the painting\_\_

1. because he was related to the artist
2. because he knew the woman in the painting
3. Not knowing its true value
4. Not knowing it had been stolen

104. The young woman in the painting was\_\_\_\_\_.

- |                                  |                                |
|----------------------------------|--------------------------------|
| 1. an unknown person             | 2. an ancestor of Marie Gilles |
| 3. Marie Gilles as a young woman | 4. About to get married        |

105. The passage tells us that the painting is \_\_\_\_\_.

- |                |                    |
|----------------|--------------------|
| 1. very famous | 2. very valuable   |
| 3. a portrait  | 4. an oil painting |

106. องค์ประกอบหลักของการจัดการระบบสารสนเทศ คือข้อใด

1. การเก็บรวบรวมข้อมูลจากแหล่งต่าง ๆ มาไว้ด้วยกันอย่างเป็นระบบ
2. ทำการประมวลผลข้อมูลอย่างมีประสิทธิภาพ
3. คอมพิวเตอร์ในการจัดการ
4. ถูกเฉพาะข้อ 1 และ 2

107. การนำเอาการผลิตวงจรรวม (Integrated Circuit) มาใช้การผลิตตัวประมวลผลในปัจจุบันเกิดปัญหาที่จะต้องติดตัวระบายความร้อนนั้นมาจากสาเหตุใดที่ไม่จริง

- |         |          |
|---------|----------|
| 1. Cost | 2. Speed |
| 3. Size | 4. Power |

108. ตัวเลือกดีไม่ใช่หน้าที่ของระบบปฏิบัติการ

- |                           |                       |
|---------------------------|-----------------------|
| 1. Uninstaller            | 2. Scheduling Jobs    |
| 4. Monitoring Performance | 4. Configuring Device |

109. การดูแลสุขภาพ (Health Care) ซึ่งมีการบริหารจัดการระยะไกลผ่านข่ายเชื่อมโยงการสื่อสาร เรียกว่า

- |                     |               |
|---------------------|---------------|
| 1. Health care Magu | 2. helehealth |
|---------------------|---------------|

110. Microsoft's FrontPage คือตัวอย่างของซอฟต์แวร์ประยุกต์ชนิดใด

- |               |                    |
|---------------|--------------------|
| 1. Web Design | 2. Word Processing |
| 4. Publishing | 4. Programming     |

111. GIGO หมายถึง

- |                                       |                            |
|---------------------------------------|----------------------------|
| 1. Good information, Good Output      | 2. Good Input, Good Output |
| 4. Grand Integration, Gigabyte Output | 4. Garbage In, Garbage Out |

112. เมื่อเปิดฝาครอบ System Unit จะพบแผงวงจรหลักขนาดใหญ่จำนวน 1 แผง เรียกว่า

- |                 |                 |
|-----------------|-----------------|
| 1. CPU Board    | 2. Master Board |
| 4. Father Board | 4. Motherboard  |

113. กรรมวิธีของการเปลี่ยนสัญญาณแอนะล็อก ( Analog Signal ) ให้เป็นสัญญาณดิจิทัล
1. Innovation
  2. Modulation
  4. Demodulation
  4. Convergence
114. การซื้อและการขายสินค้าผ่านอินเทอร์เน็ต เรียกว่า
1. Virtual Market
  2. E – Commerce
  3. Virtual Purchasing
  4. E – Purchasing
115. ตัวเลือกใดไม่ใช่ฮาร์ดแวร์ที่ผสม (Multimedia Hardware)
1. Video Camera
  2. CD – ROM Drive
  3. Joystick
  4. Video Capture Card
116. ข้อใดต่อไปนี้ ข้อใดถูก
1. CAM จะแสดงรูปภาพบนจอภาพในลักษณะของเส้นตรง เส้นโค้ง วงกลม รวมทั้งสามารถวาดรูปได้
  2. CAD เป็นโปรแกรมที่ใช้ในงานออกแบบ
  4. CAM เป็นการใช้อุปกรณ์เพื่อควบคุมเครื่องจักรให้ปฏิบัติตามที่โปรแกรมสั่ง
1. 1 , 2
  2. 2 , 3
  3. 1 , 3
  4. 1 , 2 , 3
117. ก่อตั้งดิจิทัล คือตัวอย่างของ
1. Input Device
  2. Storage Device
  3. Output Device
  4. Processor
118. กลุ่มของคำสั่งซึ่งถูกกระทำซ้ำ ๆ กันในโครงสร้างโปรแกรม เรียกว่า
1. Lock
  2. Kernel
  3. Circular File
  4. Loop
119. โปรแกรมบริบูรณ์ (Completed Programs) ซึ่งมีการทบทวนเป็นระยะ ๆ เพื่อประเมินผลความถูกต้อง ประสิทธิภาพ ความเป็นมาตรฐาน และให้ใช้งานง่าย เรียกว่า
1. Program Test
  2. Program Documentation
  3. Program Specification
  4. Program Maintenance

120. ตัวเลือกใดคือซอฟต์แวร์ซึ่งทำงานกับผู้ใช้ชั้นปลาย ซอฟต์แวร์ประยุกต์ และฮาร์ดแวร์คอมพิวเตอร์เพื่อให้จัดการรายละเอียดเชิงเทคนิคที่สำคัญ

- |                    |              |
|--------------------|--------------|
| 1. GUI             | 2. Utilities |
| 3. System Software | 4. Drivers   |

121. ROM เป็นหน่วยความจำชนิดใด

- |             |                  |
|-------------|------------------|
| 1. Volatile | 2. None Volatile |
| 3. Current  | 4. Resistance    |

122. กำหนดให้ Diskette ประเภท DD มีจำนวน Track = 40 , มี Sector = 9 โดยที่ 1Sector บันทึกข้อมูลได้ 512Byte จงคำนวณหาแผ่น Diskette นั้น ๆ จะบันทึกข้อมูลได้ประมาณเท่าไร

1. 512 x 40 x 9 บิต
2. 512 x 40 x 9 คำ
3. 512 x 40 x 9 ตัวอักษร
4. 512 x 40 x 9 บรรทัด

123. งานประยุกต์สื่อผสม (Multimedia Applications) คือ การรวมกันของ Text, Sound, Graphics, Motion Video และ...

- |                              |              |
|------------------------------|--------------|
| 1. Vision Input Capabilities | 2. Animation |
| 3. Multidisplay Applications | 4. Faxes     |

124. เครือข่ายคอมพิวเตอร์ซึ่งออกแบบสำหรับหนึ่งเมืองเรียกว่า

- |        |        |        |        |
|--------|--------|--------|--------|
| 1. TAN | 2. LAN | 3. RAN | 4. MAN |
|--------|--------|--------|--------|

125. ความสามารถของไมโครคอมพิวเตอร์ที่ใช้สารสนเทศร่วมกันระหว่างเครื่องต่าง ๆ เรียกว่า

- |                 |               |
|-----------------|---------------|
| 1. Linking      | 2. Cyberspace |
| 4. Connectivity | 4. Internet   |

126. ผู้ให้บริการอินเทอร์เน็ต (ISP) ย่อมาจากอะไร

- |                               |                                |
|-------------------------------|--------------------------------|
| 1. Internet System integrated | 2. Internet System Provider    |
| 3. Internet Service Provider  | 4. Internet Service integrated |

127. ต้องการพิมพ์ สูตร X บาร์ ต้องเข้าไปที่คำสั่งใด


1. Encoding
2. Pivot Table
3. Equation
4. Presentation

128. หากเราต้องการเพิ่มลวดลายและสีเส้นด้วยแม่แบบจะต้องดำเนินการตามข้อใด

1. คลิก Design
2. ใช้คำสั่ง Format
3. เลือกเมนู Tools
4. ถูกทุกข้อ

129. การสั่งฉายสไลด์สามารถทำได้โดยวิธีการใด

1. ใช้คำสั่ง Slide Show ---> View Show
2. คลิกปุ่ม Slide Show
3. กดคีย์ F 5
4. ถูกทุกข้อ

130.  รูปแบบในภาพนี้ ได้มาจากการเลือกที่ใด ?

1. รูปวาด
2. แทรกสัญลักษณ์
3. รูปร่างอัตโนมัติ
4. แผนผังองค์กร

131. ข้อใดคือหน้าที่ผู้ใหญ่บ้าน

1. ถ้ารัฐบาลจะประกาศหรือจะสั่งราชการอันใดให้ราษฎรทราบ เป็นหน้าที่ของผู้ใหญ่บ้านที่จะรับข้อความอันนั้น ไปแจ้งแก่ลูกบ้านของตนให้ทราบ

2. เป็นหน้าที่ของผู้ใหญ่บ้านที่จะทำบัญชีสำมะโนครัวในหมู่บ้านของตน และคอยแก้ไขบัญชีนั้นให้ถูกต้องเสมอ

3. บำรุงและส่งเสริมการอาชีพของราษฎรในทางเกษตรกรรม พาณิชยกรรม และอุตสาหกรรม

4. ถูกทุกข้อ

132. บุคคลวิกลจริต จะสามารถทำการสมรสกันได้หรือไม่

1. สามารถสมรสกันได้ตามกฎหมาย
2. ไม่สามารถสมรสกันได้
3. ขึ้นอยู่กับดุลพินิจของผู้อนุบาล
4. ขึ้นอยู่กับดุลพินิจของผู้พิทักษ์

133. ไม้ล้มลุกหรือธัญชาติอันจะเก็บเกี่ยวรวงผลได้คราวหนึ่ง หรือหลายคราวต่อปีเป็นส่วนควบกับที่ดินหรือไม่

1. เป็นส่วนควบกับที่ดิน
2. ไม่เป็นส่วนควบกับที่ดิน
3. แล้วแต่ดุลพินิจของศาล
4. ไม่มีข้อถูก

134. ปู่ ย่า ตา ยาย เป็นทายาทโดยธรรมลำดับที่เท่าไร

1. 5
2. 4
3. 2
4. 7

135. การประกาศกฎหมายราชกิจจานุเบกษามีผลต่อประชาชนอย่างไร

1. เมื่อประชาชนได้ทราบข้อความในกฎหมาย
2. เฉพาะสภาพบังคับที่เป็นคุณเท่านั้น
3. ถือว่าประชาชนรับทราบความมีอยู่ของกฎหมายแล้ว
4. สามารถอ้างความไม่รู้กฎหมายได้จนกว่าจะทราบข้อความในกฎหมาย ตามความเป็นจริง

136. ข้อใดกล่าวไม่ถูกต้อง

1. กำนันมีอำนาจลงโทษภาคทัณฑ์ผู้ใหญ่บ้าน
2. นายอำเภอมีอำนาจลงโทษกำนัน ผู้ใหญ่บ้าน และแพทย์ประจำตำบล คือ ลดอันดับเงินเดือนไม่เกินหนึ่งอันดับ
3. ข้าหลวงประจำจังหวัดมีอำนาจลงโทษกำนันผู้ใหญ่บ้านและแพทย์ประจำตำบลในทุกสถาน
4. ข้อ ก , ข , ค กล่าวไม่ถูกต้องทั้งหมด

137. ผู้ว่าราชการจังหวัดสังกัดกระทรวงใด

1. กระทรวงมหาดไทย
2. กระทรวงกลาโหม
3. กระทรวงธรรมการ
4. กระทรวงวง

138. นิติกรรมข้อใดที่ผู้เยาว์ทำได้เอง

1. นายเอ อายุ 15 ปี ทำนิติกรรมรับการปลดหนี้จากเจ้าหนี้โดยไม่มีเงื่อนไขใด ๆ
2. นายหนึ่งอายุ 14 ปี ทำพินัยกรรมโดยบิดามารดาให้ความยินยอม



3. นายหนุ่มกับนางสาวสวยอายุ 18 ปี ทำการสมรสกันเองโดยบิดามารดาไม่ยินยอม
4. ถูกทุกข้อ
139. การจัดตั้งกระทรวงต้องตราเป็นกฎหมายใด
1. พระราชกำหนด      2. พระราชกฤษฎีกา      3. พระราชบัญญัติ      4. รัฐธรรมนูญ
140. ข้อใดกล่าวไม่ถูกต้อง
1. กำนันมีอำนาจลงโทษภาคทัณฑ์ผู้ใหญ่บ้าน
2. นายอำเภอมีอำนาจลงโทษกำนัน ผู้ใหญ่บ้าน และแพทย์ประจำตำบล คือ ลดอันดับเงินเดือนไม่เกินหนึ่งอันดับ
3. ข้อหลวงประจำจังหวัดมีอำนาจลงโทษกำนันผู้ใหญ่บ้านและแพทย์ประจำตำบลในทุกสถาน
4. ข้อ ก , ข , ค กล่าวไม่ถูกต้องทั้งหมด
141. การรณรงค์เรื่อง “เมาไม่ขับ” เป็นการสนับสนุนให้คนมีธรรมะข้อใด
1. ขันติ – โสรัจจะ      2. ไตรสิกขา      3. สังฆคุณ      4. สติ – สัมปชัญญะ
142. “ศีลธรรมไม่กลับมา โลกจะวินาศ” แสดงให้เห็นว่าสังคมโลกขาดธรรมะข้อใด
1. หิริ – โอตตปปะ
2. สมถกัมมัฏฐาน – วิปัสสนากัมมัฏฐาน
3. สติ – สัมปชัญญะ
4. ขันติ – โสรัจจะ
143. ผู้เบียดเบียนสัตว์จะได้รับผลอย่างไร
1. มีทุกข์มาก      2. มีโรครมาก      3. มีหนี้มาก      4. มีศัตรูมาก
144. วัฏฏะวนหรือหมุนหมายเอาอาการเช่นไร
1. การหมุนไปแห่งธรรม      2. การเวียนศพรอบเมรุ
3. การแก่เจ็บตาย      4. การเวียนว่ายตายเกิด

145. พฤติกรรมเชิงจริยธรรม หมายถึงข้อใด

1. การแสดงพฤติกรรมที่พึงประสงค์ของสังคมและปฏิเสธการแสดงพฤติกรรมที่ไม่พึงประสงค์ของสังคม
2. เบื้องหลังการกระทำของบุคคลใช้เป็นเกณฑ์ในการเลือกกระทำ
3. ความรู้สึกต่อพฤติกรรมต่าง ๆ ในทางที่ชอบหรือไม่ชอบ
4. ไม่มีข้อถูก

146. การปฏิบัติตามพุทธคุณข้อสุคโตย่อมเกิดประโยชน์อย่างไร

1. เป็นผู้ควรแนะนำสั่งสอนเขา
2. รู้จักอภัยโทษของคนต่างถิ่น
3. รู้จักถิ่นฐานบ้านเมืองต่าง ๆ
4. เอไปที่ใดที่นั่นเจริญรุ่งเรือง

147. ข้อใดไม่ใช่ผลของการขัดเกลาทางสังคม

1. การเกิดทักษะในการทำกิจกรรมร่วมกับผู้อื่น
2. การเกิดเสรีภาพในความคิดและแนวทางปฏิบัติ
3. การปฏิบัติตามระเบียบวินัยและกฎเกณฑ์ที่สังคมกำหนด
4. การยอมรับค่านิยมและแนวทางปฏิบัติตามบรรทัดฐานของสังคม

148. ค่านิยมของความเป็นเจ้าขุนมูลนาย มีศตวรรษใดเป็นค่านิยมแบบใด

1. ค่านิยมในการยอมรับนับถือ
2. ค่านิยมแบบศักดินา
3. ค่านิยมทางวัฒนธรรม
4. ค่านิยมตามกระแสและสภาวะสังคม

149. กฎหมายตราสามดวงเกิดจากการตรวจชำระและรวบรวมกฎหมายขึ้นใหม่ในรัชกาลใด

1. สมเด็จพระบรมไตรโลกนาถ
2. สมเด็จพระนารายณ์มหาราช
3. พระบาทสมเด็จพระพุทธยอดฟ้าจุฬาโลก
4. พระบาทสมเด็จพระจุลจอมเกล้าเจ้าอยู่หัว

150. การเปลี่ยนแปลงการปกครองใน พ.ศ. 2475 ก่อให้เกิดการเปลี่ยนแปลงหลายประการ ยกเว้น ข้อใด

1. รูปแบบของรัฐ
2. ผู้บริหารประเทศ
3. ระบอบการปกครอง
4. เจ้าของอำนาจอธิปไตย

### แบบประเมินตนเอง สายปราบปราม

วิชา	ข้อ	ทำได้	คิดเป็นเปอร์เซ็นต์	หมายเหตุ
1. ความสามารถทั่วไป	40		$\frac{\quad}{40} \times 100 = \underline{\quad}$	
2. ภาษาไทย	25		$\frac{\quad}{25} \times 100 = \underline{\quad}$	
3. ภาษาต่างประเทศ (ภาษาอังกฤษ)	40		$\frac{\quad}{40} \times 100 = \underline{\quad}$	
4. เทคโนโลยีสารสนเทศ	25		$\frac{\quad}{25} \times 100 = \underline{\quad}$	
5. กฎหมายที่ประชาชนควรรู้	10		$\frac{\quad}{10} \times 100 = \underline{\quad}$	
6. สังคม วัฒนธรรม จริยธรรม	10		$\frac{\quad}{10} \times 100 = \underline{\quad}$	
รวม	150		$\frac{\quad}{150} \times 100 = \underline{\quad}$	



## NINE100.COM

ทดสอบความรู้ความสามารถ ด้วยวิธีสอบข้อเขียน ข้อสอบปรนัย 4 ตัวเลือก

$$\begin{aligned} 1. \text{ตอบ 2. พื้นที่ } \square \text{ จัตุรัส} &= \text{ด้าน} \times \text{ด้าน} \\ &= 14 \times 14 \\ &= 196 \text{ ตารางนิ้ว} \end{aligned}$$

$$\begin{aligned} \text{พื้นที่วงกลม} &= \pi r^2 \left( \begin{array}{l} \text{เส้นผ่านศูนย์กลาง} = 14 \text{ นิ้ว} \\ \text{ดังนั้นรัศมี} = \frac{14}{2} = 7 \text{ นิ้ว} \end{array} \right) \\ &= \pi(7^2) \\ &= \frac{22}{7}(7)(7) = 154 \text{ ตารางนิ้ว} \end{aligned}$$

$$\begin{aligned} \text{ดังนั้น พื้นที่แฉะ} &= \text{พื้นที่ } \square \text{ จัตุรัส} - \text{พื้นที่วงกลม} \\ &= 196 - 154 \\ &= 42 \text{ ตารางนิ้ว} \end{aligned}$$

2. ตอบ 2



รูปที่	1	2	3	...	n
จำนวน	5	9	13	...	189

จากตาราง จะเห็นว่า จำนวน เป็นลำดับ 5, 9, 13, ..., 189 ซึ่งมีระยะห่าง เท่ากับ 4

ต้องการหาจำนวนเทอมของลำดับ

$$\text{จากสูตร เทอม} = \frac{\text{ปลาย} - \text{ต้น}}{\text{ระยะห่าง}} + 1$$

$$\text{เทอม} = \frac{189 - 5}{4} + 1 = 47$$

ดังนั้น รูปที่ 47 จะมี จำนวน 189 รูป

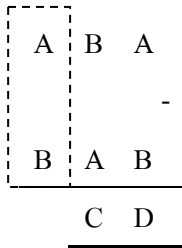
3. ตอบ 3 20 เมตร จากโจทย์เราทราบว่า ก. วิ่ง 200 ม., ข. วิ่ง 185 ม. และ ค. วิ่ง 180 ม.

หรือ  $200 : 185 : 180$     ข : ค =  $185 : 180$

ถ้า ข. วิ่ง 740 ค. จะวิ่ง  $\frac{180}{185}(740) = 720$ ม.    ดังนั้น ข. วิ่งมากกว่า 20 ม.

4. ตอบ 4.

ตอบ แสดงว่า A และ B มีค่าต่างกัน 1



ให้  $A = B$   $\begin{cases} 8 & 7 & 8 \\ & & - \\ 7 & 8 & 7 \\ \hline 9 & 1 & \end{cases}$

$B = 7$

ให้  $A = 5$   $\begin{cases} 5 & 4 & 5 \\ & & - \\ 4 & 5 & 4 \\ \hline 9 & 1 & \end{cases}$

$B = 4$

5. ตอบ 1.

ตอบ            หาดอกเบี้ย

ดอกเบี้ยร้อยละ 2 คือ อัตราส่วนของดอกเบี้ยต่อเงินต้น เป็น  $2 : 100$

กำหนดให้ ดอกเบี้ย x บาท จากต้นทุน 84,000 บาท

เป็นอัตราส่วน  $x : 84,000$

$$\frac{2}{100} = \frac{x}{84000}$$

$$2 \times 84000 = x \times 100$$

$$168000 = 100x$$

$$x = 1,680$$

∴ ได้ดอกเบี้ย 1,680 บาท

หาดอกเบี้ยสุทธิ

ดอกเบี้ยสุทธิร้อยละ  $100 - 15 = 85$  ของดอกเบี้ย

ดอกเบี้ยสุทธิร้อยละ 85 คือ อัตราส่วนของดอกเบี้ยสุทธิต่อดอกเบี้ย เป็น  $85 : 100$

กำหนดให้ ดอกเบี้ยสุทธิ x บาท จากดอกเบี้ย 1,680 บาท

เป็นอัตราส่วน  $x : 1,680$

$$\frac{85}{100} = \frac{x}{1680}$$

$$85 \times 1,680 = x \times 100$$

$$142,800 = 100x$$

$$x = 1,428$$

ดังนั้น แล้วได้ดอกเบี๋ยสุทธิ 1,428 บาท

6. ตอบ 1.

ตอบ จากโจทย์  $b, c, d, e = 1$

แสดงว่า  $b, c, d, e$  ต้องมีค่าไม่เท่ากับ 0

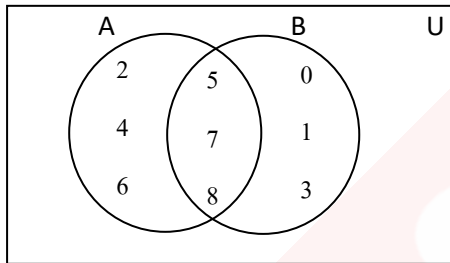
จาก  $a, b, c, d = 0$

เนื่องจาก  $b, c$  และ  $d$  มีค่าไม่เท่ากับ 0 ดังนั้น  $a = 0$

7. ตอบ 2. ต้องต่ำกว่า 10 ฟุต เรื่องนี้ใช้ความรู้พีชกอร์ธ ประตูบ้านกว้าง 6 สูง 8 ดังนั้นด้านทแยงมุมจะได้

$$36+64 = 100 \text{ หรือ } 10^2$$

8. ตอบ 1. จากเงื่อนไขที่กำหนดให้ สามารถเขียนแผนภาพได้ดังนี้



จะพบว่า  $A \cap B = \{5, 7, 8\}$

9. ตอบ 2 จากโจทย์  $(4x^6)^{\frac{5}{2}} = (2^2, x^6)^{\frac{5}{2}}$

$$= 2^5, x^{15}$$

$$= 32x^{15}$$

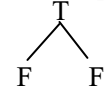
10. ตอบ 4  $\sim(p \vee q)$  และ  $r \rightarrow p$  มีค่าความจริงเป็นจริง

$\sim(p \vee q)$



และ

$r \rightarrow p$



จะได้

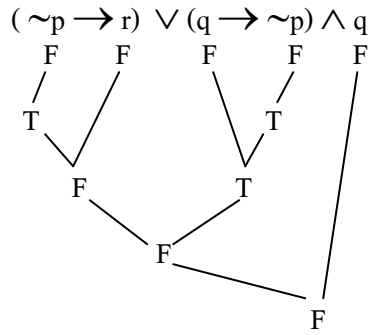
$$p = F$$

$$q = F$$

จะได้  $r = F$

แทนค่า  $p = F, q = F, r = F$  ในตัวเลือกเพื่อตรวจสอบ

จะได้



11. ตอบ 4 พื้นที่ของเดิม  $\pi r^2 = \pi 20^2$  หรือ  $\pi 400$

ถ้าเพิ่มขึ้น 4 เท่า พื้นที่ใหม่คือ  $\pi 1600$  หรือ  $\pi 40^2$

ดังนั้น เส้นผ่านศูนย์กลางของสวนดอกไม้ใหม่คือ 80 เมตร

12. ตอบ 1.

ตอบ เอาตัวหน้าบวกตัวหลังแล้วคูณตัวหน้า

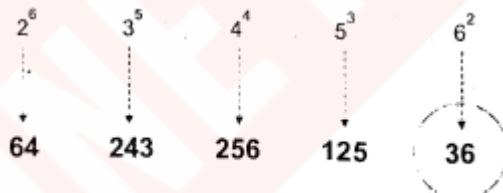
$$3 * 5 = (3 + 5) \times 3 = 8 \times 3 = 24$$

$$4 * 6 = (4 + 6) \times 4 = 10 \times 4 = 40$$

$$2 * 8 = (2 + 8) \times 2 = 10 \times 2 = 20$$

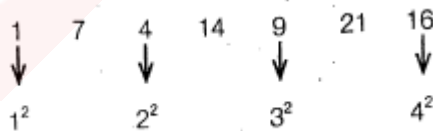
13. ตอบ 4.

ตอบ



14. ตอบ 3.

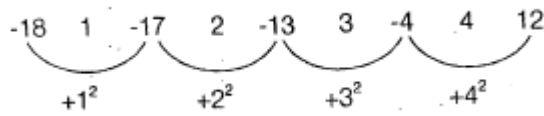
ตอบ



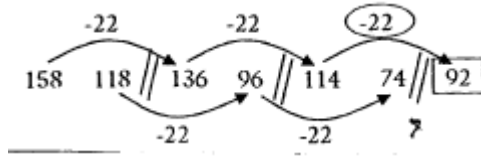


15. ตอบ 2.

ตอบ



16. ตอบ 2. ตัวเลขอนุกรม เดี่ยวเพิ่ม เดี่ยวลด แสดงว่า น่าจะเป็นอนุกรมซ้อนให้เราลองแบ่งช่วงละ 2 คู่ก่อน ถ้าแบ่งดูจะได้อนุกรมเพิ่ม หรือลด ที่เป็นระเบียบ



17. ตอบ 1 จากโจทย์เราทราบว่า ปัจจุบันนกอายุ คือ 15 ปี (มาจาก 25 - 10)

ไข่เป็น 2 เท่าของนก ดังนั้น ไข่คือ 30

และ ไก่อายุมากกว่าไข่ 2 ปี ดังนั้น อายุไก่ คือ 32

จะเห็นว่า โจทย์จะให้ข้อมูลหลอกเรา เมื่อ 7 ปีก่อนจะไม่นำมาคำนวณ เพราะส่วนต่างของอายุคน เป็นตัวเลขคงที่

18. ตอบ 2. มีนักเรียนทั้งหมด 500 คน โดยที่เป็นนักเรียนชาย 360

แสดงว่ามีนักเรียนหญิง = 500 - 360 = 140

ดังนั้น นักเรียนหญิงคิดเปอร์เซ็นต์ของนักเรียนทั้งหมด ได้ดังนี้

$$\text{ร้อยละ} = \frac{\text{หน้า}}{\text{หลัง}} \times 100 = \frac{140}{500} \times 100 = 28\%$$

19. ตอบ 2. ดอกเบี้ย =  $\frac{\text{เงินต้น} \times \text{อัตราดอกเบี้ย} \times \text{จำนวนปี}}{100}$

$$\text{เงินต้น} = \frac{\text{ดอกเบี้ย} \times 100}{\text{อัตราดอกเบี้ย} \times \text{จำนวนปี}}$$

$$= \frac{500 \times 100}{5 \times 1}$$

$$= 10,000 \text{ บาท}$$

20 ตอบ 1.

ตอบ สร้างสมการ ให้ผู้ชาย =  $x$  และผู้หญิง =  $y$

$$\therefore x + y = 90 \dots\dots\dots(1)$$

$$\frac{20}{100}x = \frac{25}{100}y$$

$$\therefore x = \frac{5}{4}y \dots\dots\dots(2)$$

นำ ..(2) แทนใน ..(1) จะได้

$$\frac{5}{4}y + y = 90$$

$$\frac{9}{4}y = 90$$

$$y = \frac{90 \times 4}{9} = 40$$

$$x = 90 - 40 = 50$$

เพราะฉะนั้น ผู้ชายมากกว่าผู้หญิง =  $50 - 40 = 10$  คน

21 ตอบ 3 ข้อนี้เป็นการหา ค.ร.น.

$$30 = 2 \times 3 \times 5$$

$$40 = 2 \times 2 \times 2 \times 5$$

$$60 = 2 \times 2 \times 3 \times 5$$

ค.ร.น. คือ  $2 \times 2 \times 2 \times 3 \times 5 = 120$  นาที

รถทั้ง 3 คันจะออกพร้อมกันอีกครั้งในอีก 2 ชั่วโมงข้างหน้าหรือเวลา 8.00 น.

22. ตอบ 1

	จำนวนเหรียญเดิม	จำนวนเหรียญใหม่
5 บาท	$3x$	$3x + 5$
10 บาท	$5x$	$5x + 9$

ทำให้อัตราส่วนของจำนวนเหรียญห้าบาทต่อเหรียญสิบบาทเป็น 4 : 7

จะได้

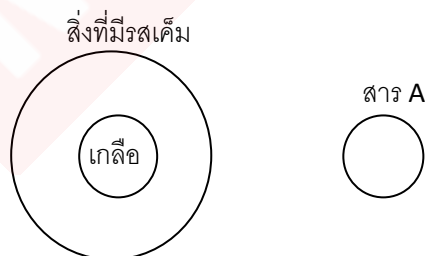
$$\frac{3x + 5}{5x + 9} = \frac{4}{7}$$
$$7(3x + 5) = 4(5x + 9)$$
$$21x + 35 = 20x + 36$$
$$21x - 20x = 36 - 35$$
$$x = 1$$

ดังนั้น เดิมแต่มีเงิน =  $(3 \times 5) + (5 \times 10) = 65$  บาท

23. ตอบ 3.

สัตว์	1	2	3	4
จิ้งจอก	✓			
ลิง				✓
สิงโต			✓	
เสือ		✓		

24. ตอบ 1 เขียนแผนภาพเพื่อตรวจสอบผลสรุป



จากแผนภาพตรงกับผลสรุปว่า “สาร A ไม่มีรสเค็ม”

25. ตอบ 4 เราทราบว่า ดร. บอย ในเวลา 1 ชั่วโมงหรือ 60 นาที วิ่งได้ระยะทาง 80 กม. และทราบว่า หลาน ในเวลา 1 ชั่วโมงหรือ 60 นาที วิ่งได้ระยะทาง 100 กม. ทำให้ทราบว่าในเวลา 1 ชั่วโมง หรือ 60 นาที 2 คนนี้ วิ่งได้ระยะทางต่างกัน 20 กม. ตั้งบัญญัติไตรยางศ์ได้ดังนี้

$$\begin{aligned} \text{วิ่งได้ระยะทางต่างกัน 20 กม. ในเวลา} & \quad 60 \quad \text{นาที} \\ \text{วิ่งได้ระยะทางต่างกัน 10 กม. ในเวลา} & \quad \frac{60(10)}{20} = 30 \text{ นาที} \end{aligned}$$

ดังนั้น หลานจะใช้เวลาตามทัน 30 นาที หรือไปตามทันเมื่อเวลา 12.30 น.

26. ตอบ 3. ในการทอดลูกเต๋า 1 ลูก  
 หนทางทั้งหมดที่เป็นไปได้คือ  $\{1, 2, 3, 4, 5, 6\} = 6$  หนทาง  
 หนทางที่จะเกิดหน้าคู่คือ  $\{2, 4, 6\} = 3$  หนทาง  
 ความน่าจะเป็น =

$$\frac{\text{จำนวนหนทางที่สนใจ}}{\text{จำนวนหนทางที่เป็นไปได้ทั้งหมด}} = \frac{3}{6} = \frac{1}{2}$$

27. ตอบ 1.  $\frac{3}{4}$

ความน่าจะเป็นของเหตุการณ์ที่สนใจ =  $\frac{\text{จำนวนหนทางของเหตุการณ์ที่สนใจ}}{\text{จำนวนหนทางที่เป็นไปได้ทั้งหมด}}$

โยนเหรียญ 2 เหรียญพร้อมกัน 1 ครั้ง เขียนแผนภาพได้ดังนี้



หนทางที่เป็นไปได้ทั้งหมดคือ  $\{HH, HT, TH, TT\}$  เท่ากับ 4 หนทาง

หนทางที่จะออกหน้าหัวอย่างน้อย 1 เหรียญคือ  $\{HH, HT, TH\}$  เท่ากับ 3 หนทาง

∴ โอกาสที่เหรียญทั้งสองจะออกหน้าหัวอย่างน้อย 1 เหรียญ = 3

28. ตอบ 1.

ตอบ เอาตัวหน้าบวกตัวหลังแล้วบวกตัวหน้าคูณตัวหลัง

$$2 * 4 = (2 + 4) + (2 \times 4) = 6 + 8 = 14$$

$$3 * 5 = (3 + 5) + (3 \times 5) = 8 + 15 = 23$$

$$4 * 6 = (4 + 6) + (4 \times 6) = 10 + 24 = 34$$

29. ตอบ 4

	จำนวนตัว	จำนวนขา
เป็ด	$x + 6$	$2(x + 6)$
ไก่	$x$	$2x$

เขียนสมการ

$$2(x + 6) + 2x = 40$$

$$2x + 12 + 2x = 40$$

$$4x = 40 - 12$$

$$4x = 28$$

$$x = 7$$

ดังนั้น มีไก่ 7 ตัว

30. ตอบ 4.

ตอบ กำหนดให้

$$\text{เงินจำนวนที่ 3} = X$$

$$\text{เงินจำนวนที่ 2} = 10X$$

$$\text{เงินจำนวนที่ 1} = 2 \times 10X = 20X$$

จะได้ว่า

$$X + 10X + 20X = 7,750$$

$$31X = 7,750$$

$$X = \frac{7,750}{31} \quad (\text{หาร 31 ทั้งสองข้างของสมการ})$$

$$X = 250$$

ดังนั้น เงินจำนวนแรกคือ  $20 \times 250 = 5,000$

31. ตอบ 1. รูปสามเหลี่ยมเคลื่อนไปตั้งบนสี่เหลี่ยมและเปลี่ยนสีเป็นตรงข้าม และเพิ่มรูปสี่เหลี่ยมเล็กในสามเหลี่ยมและสี่ตรงข้ามกับสี่เหลี่ยมรูปใหญ่

32. ตอบ 4 จากโจทย์  $ก + ข + ค = 18,300$

$$ข = x$$

$$ก = \frac{125}{100}x = \frac{5}{4}x$$

$$ค = \frac{80}{100}x$$

$$ค = \frac{100}{80}ก = \frac{100}{80}\left(\frac{5}{4}x\right) = \frac{25}{16}x$$

จะได้  $\frac{5}{4}x + x + \frac{25}{16}x = 18,300$

$$\frac{20x + 16x + 25x}{16} = 18,300$$

$$61x = 18,300 \times 16$$

$$x = \frac{18,300 \times 16}{61}$$

$$x = 4,800$$

ดังนั้น  $ก = \frac{5}{4}x = \frac{5}{4} \times 4,800 = 6,000$

33. ตอบ 2 เรียงข้อมูลจากน้อยไปหามากได้ดังนี้

5    6    6    (7)    8    9    10

มัธยฐาน = ตัวเลขที่อยู่ตรงกลาง

$$= 7$$

34. ตอบ 4.

ตอบ    เจียวมีอายุ 6 ปี    ดังนั้น    ขาวมีอายุ 5 ปี    คำมีอายุ 7 ปี    และแม่มีอายุ 40 ปี

$$\text{ค่าเฉลี่ยอายุทั้ง 4 คน} = \frac{6 + 5 + 7 + 40}{4} = \frac{58}{4} = 14.5$$

35. เฉลย 4.

ตอบ ให้ปลาไหลมี  $x$  ตัว

$$\therefore \text{สัตว์ทั้งหมดรวมกัน} = x + (x + 4) + (x + 4 + 3) + (x + 7 + 2) + (x + 9 + 1)$$

$$= 5x + 30$$

$$5x + 30 = 60$$

$$5x = 60 - 30$$

$$x \text{ (ปลาไหล)} = \frac{30}{5} = 6 \text{ ตัว (ไม่มีขา)}$$

$$\text{กวางมี } 6 + 4 = 10 \text{ ตัว} = 40 \text{ ขา}$$

$$\text{นกกระจิบมี } 10 + 3 = 13 \text{ ตัว} = 26 \text{ ขา}$$

36. ตอบ 2.

ตอบ นำรายได้ปี 2555 รวมกันทั้งหมด คือ

$$211,324 + 145,321 + 161,213 + 192,145 + 143,652 = 853,655 \text{ บาท}$$

37. ตอบ 4.

ตอบ จากตาราง รายได้ข้าวในปี 2553 = 172,500

$$\text{รายได้ข้าวโพดในปี 2556} = 162,432$$

ดังนั้น อัตราส่วนของรายได้ข้าวในปี 2553 กับข้าวโพดในปี 2556

$$= \frac{\text{รายได้ข้าวในปี 2553}}{\text{รายได้ข้าวโพดในปี 2556}}$$

$$= \frac{172,500}{162,432}$$

$$= \frac{17}{16}$$

38. ตอบ 3.

ตอบ จากตาราง รายได้จากการผลิตมันสำปะหลังในปี 2553 มีค่าต่ำที่สุด

39. ตอบ ข้อ 3.

ตอบ จากตาราง รายได้ข่างพาราในปี 2553 = 214,512

รายได้อ้อยในปี 2556 = 122,105

ดังนั้น เปรียบเทียบรายได้จากข่างพาราในปี 2556 กับรายได้อ้อยปี 2553

$$\begin{aligned} \text{จะได้} &= \frac{\text{รายได้ข่างพาราในปี 2553}}{\text{รายได้อ้อยในปี 2556}} \\ &= \frac{214,501}{122,105} \\ &\approx 1.7 \end{aligned}$$

40. ตอบ 1.

ตอบ จากตาราง รายได้ข้าวในปี 2554 = 181,750

รายได้อ้อยในปี 2556 = 211,324

$$\begin{aligned} \text{อัตราการเพิ่มขึ้น} &= \frac{211,324 - 181,750}{181,750} \times 100 \\ &\approx 16\% \end{aligned}$$

41. ตอบ 4

เหตุผล ความเข้าใจของท่านยังคลาดเคลื่อนอยู่ เป็นประโยคที่เรียบเรียงข้อความสุภาพที่สุด เป็นภาษาที่ให้เกียรติต่อผู้ฟัง

42. ตอบ 2 “แมวคาบขึ้นปลาคุยก่างไปด้วยปาก” ประโยคนี้ลักษณะใช้คำพุ่มเพื่อย มีเพียงแมวคาบปลาคุยก่าง ก็ได้ใจความชัดเจนดีแล้ว

43. ตอบ 4 ชิงช้า ลักษณะนามคือ “อัน” ชิงช้าสวรรค์ ลักษณะนามคือ “เครื่อง”  
ที่เหลืออีก 3 ข้อ ใช้ลักษณะนามว่า “ตัว”

44. ตอบ 3 จากบทความ สรุปได้ว่า “ชาวบ้านเรียก” “ประตูดมยอด” จากลักษณะของประตูที่มีสามช่องและมียอดทั้งสามช่อง “ซึ่งสามารถตีความได้ว่า” “ประตูดมยอด” ได้ชื่อจากลักษณะของการสร้าง”

ข้อ 1. ผิดเพราะ โจทย์ไม่ได้บอกว่าชาวบ้านเป็นผู้สร้างประตู

ข้อ 2. ผิดเพราะ โจทย์ไม่ได้กล่าวถึง

ข้อ 4. ผิดเพราะ โจทย์ไม่ได้กล่าวเรื่องการเริ่มสร้างกำแพง



45. ตอบ 1. ลูกลี้ลูกกลน คือ เร่งรีบอย่างไม่เป็นระเบียบ เช่น เขามีกิริยาลูกลี้ลูกกลน

คลอด คือ อาการที่ไฟลื้อมเผาหนีออกมาไม่ได้ เช่น ถูกไฟคลอกตาย

ครอก คือ ลูกสัตว์หลายตัวที่เกิดพร้อมกันคราวเดียว, เสียงกรนของคนที่ยหลับ เช่น ลูกครอกปลา  
ช่อน

46. ตอบข้อ 2 รัฐบาลต้องเตรียมพร้อมไว้เสมอเพื่อป้องกันการก่อตัวของผู้ที่ไม่หวังดีต่อชาติบ้านเมือง

กีดกัน = กันไม่ให้ทำได้สะดวก เช่น การกีดกันทางการค้า

กีดขวาง = ขวางกันไว้, ขวางเกะกะ เช่น กีดขวางทางจราจร

ขัดขวาง = ทำให้ไม่สะดวก

47. ตอบ 3 คำนวน หมายถึง

1) ถ้อยคำที่มีความหมายเหมาะสม

2) ถ้อยคำที่มีความหมายโดยนัย

3) มีความหมายคมคายไม่เคร่งครัดไวยากรณ์

48. ตอบ 1

เหตุผล ขวานผ่าซาก หมายถึง การพูดโผงผางไม่เกรงใจใคร

49. ตอบ 2 มโนสำเร่ หมายถึง เบ็ดเตล็ด

50. ตอบ 4 แสดงความจริงรักภักดี

จากบทประพันธ์ตีความหมายได้ว่า ต้องการที่จะรับใช้ไปจนกว่าชีวิตจะหาไม่ซึ่งแสดงถึงความ  
จงรักภักดีต่อผู้ประคุณหรือผู้ที่กล่าวถึง

51. ตอบ 2 จากบทความแปลความได้ว่า “คน เมื่อได้เป็นข้าราชการแล้วก็ต้องทำหน้าที่ของตนให้ดีที่สุด  
เปรียบเหมือนว่ายนํ้าเข้าหากระเซ้ จะเกิดอะไรขึ้นก็แล้วแต่กรรมที่ทำมา”

กระเซ้ใหญ่ จึงหมายถึง ผู้มีอำนาจ

52. ตอบข้อ 1 “จิตของบุคคลใดเมื่อฝึกฝนให้ดีแล้ว คลื่นของกิเลสกระทบเข้าย่อมไม่หวั่นไหว”

ข้อความนี้จึงกล่าวถึง “การฝึกจิต” ให้มั่นคง เหมือนเรือที่นายช่างต่อดีแล้ว ย่อมไม่หวั่นไหวต่อคลื่น  
ลมที่เข้ามากระทบเรือ

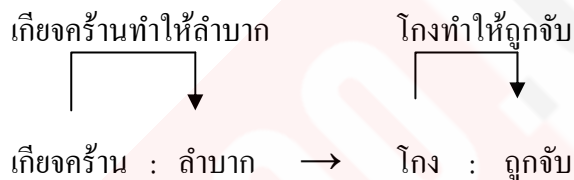
53. ตอบ 2. การโน้มน้าวใจ คือ การใช้ความพยายามที่จะเปลี่ยนความเชื่อทัศนคติค่านิยมและการกระทำของบุคคลอื่น ด้วยกลวิธีที่เหมาะสมให้มีผลกระทบต่อใจบุคคลนั้น จนเกิดการยอมรับและยอมเปลี่ยนตามที่ผู้โน้มน้าวใจต้องการ (น้ำเสียงของภาษาที่โน้มน้าวใจ ควรใช้ภาษาในเชิงเสนอแนะ ขอร้อง วิงวอน หรือเร้าใจซึ่งในการใช้ถ้อยคำให้เกิดน้ำเสียงดังกล่าว จะต้องเลือกใช้คำที่สื่อความหมายตามที่ต้องการ โดยคำนึงถึงจังหวะและความนุ่มนวลในน้ำเสียง)

54. ตอบ 2. ตอบ โครงสร้างของจุดมุ่งหมายหรือวัตถุประสงค์ ดังนี้

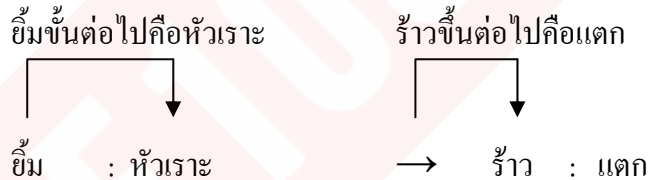
$$\text{จะมีวิธีการตอบ} \rightarrow \left\{ \begin{array}{l} \text{เพื่อ} \\ \text{สำหรับ} \end{array} \right\} + \boxed{\text{จุดประสงค์}}$$

จากบทความ ความมุ่งหมายของวรรณคดี มิใช่เพื่อให้เป็นที่พึงพอใจแก่ผู้อื่น แต่ต้องช่วยปลูกเร้าดวงจิตของผู้อ่านเพื่อให้เกิดความรู้สึกนึกคิดใหม่

55. ตอบ 4.



56. ตอบ 3.



57. ตอบ 3

เหตุผล เธอชอบรับประทานอาหารจุกจิก ต้องใช้ว่าจุกจิบ

จุกจิก หมายถึงรบกวน จู้จี้

จุกจิบ หมายถึง อาหารที่กินพร่ำเพรื่อทีละเล็กละน้อย

58. ตอบ 3

เหตุผล คุณสมบัติ ในการสอบบรรจุเข้ารับราชการ ควรจะมีความหมายว่าลักษณะประจำตำแหน่ง

59. ตอบ (1) ลีซอให้ควายฟัง เป็นสุภาษิตหมายถึง การสอนหรือแนะนำสิ่งต่างๆ ให้กับคนที่มีควมรู้น้อย  
ไม่ว่าจะสอนกี่ครั้งก็ยังไม่เข้าใจหรือไม่ตั้งใจที่จะฟัง ไม่ยอมทำตาม ทำให้ผู้สอนนั้นเสียเวลาเปล่า ส่วนข้อ  
(2) (3) และ (4) เป็นข้อบกพร่องในการฟัง

ฟังไม่ได้ศัพท์จับไปกระเดียด = ฟังไม่ได้ความชัดเจนแล้วเอาไปพูดต่อหรือทำผิดๆ

เข้าหูซ้ายทะลุหูขวา = บอกหรือสอนไม่ได้ผล ไม่ได้ตั้งใจฟัง ได้ยินเสียงแต่ไม่สนใจ ไม่ฟังในสิ่งที่  
ผู้อื่นบอกหรือสอน หรือ ได้ยินแล้วก็ไม่ปฏิบัติตาม

ไปไหนมา สามวาสามศอก = ถามอย่างหนึ่งตอบไปอีกอย่างหนึ่ง

60. ตอบ 2. ยายของฉันทำแก้วลายวิจิตรงดงาม คำว่า "วิจิตร" เป็นภาษาบาลี – สันสกฤต

ข้อ 1. คำที่มาจากภาษาเขมร คือ "โปรด"

ข้อ 3. คำที่มาจากภาษาเขมร คือ "สำราญ"

ข้อ 4. คำที่มาจากภาษาเขมร คือ "ดำเนิน"

61. ตอบ 2. รัฐบาลพยายามประชาสัมพันธ์ให้คนไทยช่วยกันประหยัดอย่างจริงจัง

1. คำที่แสดงถึงการใช้สำนวนภาษาต่างประเทศคือคำว่า มันเป็นการยาก

3. คำที่แสดงถึงการใช้สำนวนภาษาต่างประเทศคือคำว่า ถูกจับตามอง

4. คำที่แสดงถึงการใช้สำนวนภาษาต่างประเทศคือคำว่า ได้รับความเสียหาย

62. ตอบข้อ 2. คำสำคัญของบทความนี้ คือ บัจจัย, โรคหัวใจ, สารตกค้างในยาฆ่าแมลง จึงสรุปได้ว่า  
สารตกค้างในยาฆ่าแมลงเป็นบัจจัยหนึ่งที่ทำให้เกิดโรคหัวใจในกึ่ง

63. ตอบ 3

64. ตอบ 1

เหตุผล ข้อความที่ว่า "กฎหมายลงโทษก็มี แต่ไม่มีใครเหลียวแลกฎหมายข้อนั้นถึงเสียเลยดีไหม  
ต่อไปนี้ใครทำได้ทำไป มีใครยวสาวได้สาวเอา" เป็นการประชดประชัน คือ พูดในเชิงกระทบกระทั่ง  
แตกคั่น

65. ตอบ 2

เหตุผล จะเห็นได้จากข้อความตอนที่ว่า "กฎหมายลงโทษก็มี แต่ไม่มีใครเหลียวแล"

66. ตอบ 2.

เหตุผล เอกกล่าวว่า “ผมเกรงว่าผมได้ทำแว่นตาของคุณหักไปครับ”

บิจะตอบโดยมารยาทว่า “เออ ไม่เป็นไรนะ” ตรงกับคำว่า that’s all right. หรือคำอื่นเช่น It doesn’t matter หมายถึง ไม่เป็นไร

ตัวเลือก a กรรณไม่ต้องเกรงกลัว ไม่เข้ากับบทสนทนา ตัวเลือก c ไม่ ฉันไม่เสียใจ

ตัวเลือก d เออ อย่าไปพูดถึงแว่นตาเลย ล้วนไม่เข้ากับการสนทนา

67. โจทย์ : สามีและภรรยาที่กำลังเดินทางกลับบ้าน

ภรรยาถาม : คุณทำทางฝนจะตกหนักก่อนที่เราจะถึงบ้านนะ

ตอบ 2 : สามีตอบว่า Yes, I’m afraid so. : ใช่ฉันเกรงว่าเป็นเช่นนั้น

ส่วนข้อ 4 : Don’t bother = อย่ากวนใจ กรณีข้อ 1. อาจจะให้ความหมายที่ใช้ในสถานการณ์นั้นได้แต่เป็นสำนวนที่ไม่มีใครใช้พูดกัน

68. ตอบ 2. Not at all = ไม่เป็นไร ซึ่งนอกจากจะใช้ถึงสถานการณ์แบบนี้แล้วยังสามารถใช้สถานการณ์ดังต่อไปนี้

(1) เมื่อมีผู้กล่าวคำขอบคุณ.....Thank you very much.

ฝ่ายที่ตอบรับจะตอบว่า.....Not at all. (ไม่เป็นไร)

(2) เมื่อมีผู้ถามว่า รังเกียจไหม? ในการขออนุญาต เช่น

Do you mind if I turn down the air conditioner?

ตอบรับว่า : Not at all.

ส่วนการใช้คำว่า Never mind มีความหมายเหมือน Not at all แต่เราจะใช้เมื่อมีการเสนอความช่วยเหลือ (offer) แล้วเราไม่ต้องการความช่วยเหลือ เช่น

Shall I carry that box for you? หรือ

Can I take you some messages?

ตอบรับว่า : Never mind. I can do it myself หรือ

No, thank you. I can manage it.

69. ตอบ 2

เหตุผล เอ : สวัสดิ์ตอนเย็น \_\_\_\_\_ ?

บี : ค่ะ ฉันคิดว่าฉันขอสติกเกอร์ที่ไต้หวันแพงค่า

เอ : ผมขอโทษอย่างมากครับ สติกเกอร์หมดแล้วครับ

ตัวเลือก a มีอะไรให้ผมรับใช้ไหมครับ

ตัวเลือก b ผมขอจดอาหารที่คุณสั่งเวลานี้ได้ไหมครับ

ตัวเลือก c คุณต้องการทานอะไรครับ (ไม่สุภาพ)

ตัวเลือก d คุณชอบสติกเกอร์ไหม ถ้าถามแบบนี้ต้องตอบว่าชอบสติกเกอร์หรือไม่ชอบ แต่ประโยค

ที่บีพูดเป็นการสั่งสติกเกอร์ตัวเลือก b ถูกต้องเพราะเอ จะจอร์เดอร์ก็จะต้องพูดแบบนี้

70. A : เราเจอกันวันศุกร์หน้าไหม?

B : ขอคิดดูก่อนนะ ได้ซี, \_\_\_\_\_

1. ตอนเช้าฉันว่าง

2. ฉันดูตารางเวลาได้

3. ฉันมีประชุม

4. ฉันจะลองคิดดู

ตอบ 1. I can make the morning ถ้าแปลตามตัวจะได้ว่า “ฉันสามารถทำตอนเช้า” แต่ไม่ได้

แปลอย่างนั้น

71. ตอบ 4. I'm afraid not เกรงว่าจะไปงานปาร์ตี้ไม่ได้ เพราะพ่อแม่ไม่อนุญาต

72. ตอบ 1.

เหตุผล เอ : \_\_\_\_\_ 21 \_\_\_\_\_ ?

บี : ฉันขอข้าวผัดไก่

ตัวเลือก 1 คุณพร้อมที่จะสั่งตอนนี้หรือยังครับ

ตัวเลือก 2 คุณทานอะไรแล้วหรือยัง

ตัวเลือก 3 มีอะไรกินบ้างในร้านอาหารนี้

ตัวเลือก 4 คุณจะลองทานข้าวผัดไก่ไหมครับ

73. โจทย์: เพื่อนคุณเปลี่ยนทรงผม คุณชมเพื่อนของคุณจากภาพลักษณ์ (appearance)

คุณจะพูดว่า.....

ตอบ 2 : You look terrific. คุณดูยอดเยี่ยมเลย

ข้อสังเกต ให้ตอบตัวเลือกใดก็ได้ที่เป็นเรื่องลักษณะหรือรูปพรรณสัณฐานดังนั้นเราต้อง  
มองหาตัวเลือกที่ใช้คุณศัพท์ (adj.) ซึ่งจะมีข้อ 3. ที่เหมือนกับข้อ 2. แต่ข้อ 3. ความหมายไม่ดีคือ ดูคุณแปลก  
ไปนะ

74. แปล เป็นเรื่องยากที่จะกำจัดคอร์ปชั่นในประเทศไทยให้หมดสิ้น

1. ปกป้อง
2. ป้องกันไม่ให้เกิด
3. กำจัด ขจัด ทำลาย
4. บรรลุถึง

ตอบ 3. Eliminate (กำจัด ขจัด ทำลาย)

75. แปล เมื่อมาถึงท่า สินค้าจะถูกตรวจสอบอย่างละเอียด

1. ทำลาย/เสียหาย
2. ตรวจสอบ
3. ส่ง
4. เก็บภาษี

ตอบ 2. Inspected (ตรวจสอบ)

76. แปล ผู้ขับขี่ที่ฝ่าฝืนกฎจราจรจะถูก \_\_\_\_\_ เป็นเงิน 3,000 บาท

1. จ่าย
2. คืนเงิน
3. ปรับ
4. ให้รางวัล

ตอบ 3. Fined (ปรับ) fine(v.) = ปรับ ถ้าเป็นคำนาม = ค่าปรับ

77. ถ้าม \_\_\_\_\_ ของเขาต่อครอบครัวของเขามองเห็นได้ง่าย

- เฉลย 1 : 1. การอุทิศ 2. ทำเล 3. ความช่วยเหลือ 4. ความอุดมสมบูรณ์

78. ไม่ต้องซื้อถุงนอนนี้หรอก มันจะถูกลงมากตอน

1. ในเมือง
2. ในทุ่ง
3. ในสวน

④. อยู่ในช่วงฤดูกาล

79. ตอบ 1

เหตุผล หลังจากทานยาเป็นเวลาหลายปี เขากลายเป็น \_\_\_\_\_ และพบว่าไม่สามารถเลิกได้

คำศัพท์ addict = คนติดยา

athlete = นักกีฬา

Amateur = นักสมัครเล่น

activist = นักเคลื่อนไหว

80. ตอบ 4. ปรับ Past tense เป็น Past perfect และปรับเวลาใกล้ไกล)

81. เฉลย 4 : จากตัวเลือกล้วนเป็น adv. ที่บอกความถี่และเวลา สามารถวางไว้ท้ายประโยคได้

82. ตอบ 3 identified พยานผู้เห็นเหตุการณ์บ่งชี้ผู้ต้องสงสัยได้จากมุกที่บิคงอและแผลเป็นน่าเกลียด

83. ตอบ 2. เป็นเหตุการณ์ในอดีตจาก motorcycle bumped และการขับรถเกิดก่อน จึงต้องใช้ Past continuous)

84. ตอบ 3 มิติเวลาในอดีต เหตุการณ์เกิดก่อน was cooking และเหตุการณ์ came เกิดขึ้นทีหลัง)

85. ตอบ 4. ระบุเวลาในมิตินาคต At 8.00 a.m.tomorrow ดังนั้น ใช้ Future continuous)

86. ตอบ 2. A number of + noun พหูพจน์ + กริยาพหูพจน์)

87. ตอบ 2. คำบางคำมีความหมายเป็นพหูพจน์เสมอ แม้จะไม่มีตัว s/es เช่น police)

88. ตอบ 3. ใน Adjective clause สามารถเขียนลดรูป โดยไม่ต้องมี who, that, which ก็ได้สามารถนำกริยาไม่แท้ หรือกริยาที่เป็นของประโยครอง ตามด้วยคำนามที่มันขยายถ้าประธานในประโยครองเป็นผู้ถูกกระทำ กริยาไม่แท้ให้ใช้รูป Past participle (-ed) (v3) ในที่นี้หนังสือถูกขโมยจึงตอบ c)

89. ตอบ 4.. เปลี่ยนกริยา จาก present เป็น past และ I ผันตาม you)

90. ตอบ 2. จากข้อนี้ เราทราบรูปแบบประโยคผลเป็นลักษณะที่ 1 คือ will + v1 ดังนั้น ประโยคเงื่อนไข ต้องเป็น Present tense และอย่าลืม เราจะไม่มี not ตามหลัง Unless เพราะ unless แปลว่า ถ้า...ไม่ อยู่แล้ว)

91. ตอบ 3. not only ..... but also .....กริยาผันตามประธานที่อยู่ใกล้ที่สุด)

92. ตอบ 1. ถ้าประโยครูปแบบขอร้อง คำสั่งให้ทำ เป็นประโยคบอกเล่า ให้เติม to + v1

93. เฉลย 1 : S + Verb to be + adj. = was lazy ตอบคำคุณศัพท์ตามหลัง Verb to be คือ lazy ให้ดูตัวเลือก แล้วตอบเฉพาะที่มี -ly กับไม่มี -ly จะเหลือตัวเลือกที่ 1 และ 2

94. เฉลย 2 : as + adj./adv. + as ตรงกลางเป็นขั้นธรรมดา แต่จะเป็น adj. หรือ adv. ให้ดูคำกริยา เช่นข้อนี้ design เป็นกริยาทั่วไป ตอบ adv. คือ well ถ้าเป็น Verb to be ตอบ good

95. ตอบ 4. จากข้อนี้เราทราบรูปแบบประโยคเงื่อนไข เป็นลักษณะที่ 3 คือ Past perfect ดังนั้น ประโยคผล ต้องเป็น would + have + v3

96. ตอบ 1. เนื่องจากรูปประโยคเป็นมิตินอดีต เหตุการณ์ที่เกิดขึ้นก่อนเป็น Past perfect และอยู่ในรูป Passive voice เนื่องจากเรือได้ถูกระเบิดลง)

97. ตอบ 3. เชื่อมประโยคที่คล้องกันตาม

98. ตอบ 4 in spite of ตัวเลือกข้อ 1, 2 และ 3 แปลว่า เนื่องจากว่าตัวเลือกข้อ 4 แปลว่าทั้งๆ ที่ตอบข้อ 4 เพราะโจทย์ใช้คำว่า only เพียงแค่ ความหมายเชิงขัดแย้ง ใช้เวลาเพียงแค่ 15 นาที ทั้งๆ ที่การจราจรติดขัด

99. เฉลย 2 : จากตัวเลือกมีคำกริยาพหูพจน์ตัวเดียวคือ are คำกริยาผันตามประธาน Twenty bags เป็นพหูพจน์

100. ตอบ 2. so....that (เสียจนกระทั่ง) อนุประโยคขยายเพื่อบอกผลที่เกิดขึ้น มาร์คทำงานหนักเสียจนกระทั่งเจ้านายจะเลื่อนตำแหน่งให้)

แปล

ผู้ชาย 2 คนถูกจับหลังจากที่พวกเขาได้ขโมยภาพที่ขโมยมาให้กับห้องแสดงศิลปะใน Guildford เจ้าของห้องแสดงศิลปะอ้างว่าเขาได้ซื้อภาพโดยไม่รู้ว่าเป็นของขโมยมา ภาพนี้เป็นภาพของหญิงสาวใส่หมวกฟางปีกกว้างที่กำลังนั่งอยู่ใต้ต้นไม้ ภาพนี้เป็นของ Marie Gilles อายุ 84 ปี เธออ้างว่าภาพนี้ได้ถูกให้กับหนึ่งในบรรพบุรุษของเธอโดยจิตรกรท่านหนึ่ง เธอได้เป็นเจ้าของภาพนี้ตั้งแต่ปี 1950 มาเมื่อเธอได้ภาพนี้มาจากป้าของเธอเป็นของขวัญวันแต่งงาน และภาพนี้ได้ถูกขโมยจากบ้านของเธอเมื่อ 2 อาทิตย์ ก่อนที่จะมีการจับกุมผู้ชาย 2 คนนี้

101. แปล เนื้อเรื่องเกี่ยวกับ \_\_\_\_\_

1. ขโมยภาพวาด
2. ผู้หญิงสาวคนหนึ่ง
3. ห้องแสดงศิลปะแห่งหนึ่ง
4. จิตรกรคนหนึ่ง

ตอบ 1 เนื้อเรื่องเกี่ยวกับการขโมยภาพ = an art theft

102. แปล จากข้อมูลที่ให้มาในเนื้อเรื่อง เรารู้ว่า Marie Gilles \_\_\_\_\_

1. Marie Gilles รู้จักเจ้าของห้องแสดงศิลปะ
2. Marie Gilles แต่งงานแล้ว
3. รู้สึกขอบคุณตำรวจ
4. ไม่ได้ให้คุณค่ากับภาพวาดนั้นมากนัก

ตอบ 2. Marie Gilles เป็นเจ้าของภาพวาดที่ถูกขโมยและเธอได้ภาพนี้มาจากป้าของเธอเป็นของขวัญวันแต่งงาน แสดงว่าเราได้ว่า Marie Gilles แต่งงานแล้วตรงกับข้อ 2

ข้อ 1. Marie Gilles รู้จักเจ้าของห้องศิลปะ (ไม่ถูก)

ข้อ 3. รู้สึกขอบคุณตำรวจ (ไม่ถูก)

ข้อ 4. ไม่ได้ให้คุณค่ากับภาพวาดนั้นมากนัก (ไม่ถูก)



103. แพล เจ้าของห้องแสดงศิลปะกล่าวว่าเขาซื้อภาพวาดนี้

1. เพราะเขาเกี่ยวข้องกับจิตรกร
2. เพราะเขารู้จักผู้หญิงในภาพ
3. ไม่รู้ค่าที่แท้จริงของมัน
4. ไม่รู้ว่ามันได้ถูกขโมยมา

ตอบ 4. Not knowing it had been stolen เจ้าของห้องแสดงศิลปะอ้างว่าเขาได้ซื้อภาพนี้มาโดยที่ไม่รู้ว่ามันถูกขโมยมา

104. แพล หญิงสาวที่อยู่ในภาพวาดเป็น \_\_\_\_\_

1. คนบุคคลที่ไม่ทราบว่าเป็นใคร
2. เป็นบรรพบุรุษของ Marie Gilles
3. Marie Gilles ตอนเป็นสาว
4. กำลังจะแต่งงาน

ตอบ 1. ในภาพเป็นหญิงสาวที่ใส่หมวกฟางปีกกว้างนั่งอยู่ใต้ต้นไม้ไม่ได้เอ่ยว่าเป็นใครก็คือไม่ทราบชื่อ คือ an unknown person

105. แพล เนื้อเรื่องบอกว่าภาพนี้เป็น \_\_\_\_\_

1. มีชื่อเสียงมาก
2. มีค่าอย่างมาก
3. เป็นภาพวาด
4. เป็นภาพสีน้ำมัน

ตอบ 3. จากเนื้อเรื่องบอกว่าเป็น painting ภาพวาดก็คือคำศัพท์ portrait

106. ตอบ 4 การจัดการระบบสารสนเทศ ประกอบด้วยหน้าที่หลัก 2 ประการ คือ การเก็บรวบรวมข้อมูลจากแหล่งต่างๆ มากไว้ด้วยกันอย่างเป็นระบบและทำการประมวลผลข้อมูลอย่างมีประสิทธิภาพ เพื่อให้ได้สารสนเทศที่ช่วยสนับสนุนการปฏิบัติงานและการบริหารงานของผู้บริหาร ระบบดังกล่าวถึงแม้จะไม่ได้ใช้คอมพิวเตอร์ในการจัดสรร ระบบดังกล่าวก็คือ การบริหารจัดการระบบสารสนเทศ (Management Information System-MIS) แต่เนื่องจากปัจจุบันคอมพิวเตอร์เป็นอุปกรณ์ที่มีประสิทธิภาพในการจัดการข้อมูล นักวิเคราะห์ และออกแบบระบบจึงออกแบบระบบสารสนเทศให้มีคอมพิวเตอร์เป็นอุปกรณ์หลักในการจัดการสารสนเทศ

107. ตอบ 4. ในเวลาต่อมาได้มีการพัฒนาโดยนำเอาทรานซิสเตอร์หลายๆ ตัวมารวมกันในวงจรรวมเพียง ตัวซึ่งเรียกว่าไอซี (Integrated Circuit) ซึ่งมีผลต่อเทคโนโลยีคอมพิวเตอร์อย่างมาก เช่น

1. ขนาด (Size) จะเสียค่าใช้จ่ายน้อยกว่าเทคโนโลยีก่อนๆ
2. ค่าใช้จ่าย (Cost) จะเสียค่าใช้จ่ายน้อยกว่าเทคโนโลยีก่อนๆ
3. ความเร็ว (Speed) ความเร็วในการปฏิบัติการ จะสูงมากขึ้น
4. กำลัง (Power) กินไฟน้อย และให้ความร้อนน้อยกว่าเทคโนโลยียุคก่อนๆ

ดังนั้นจึงไม่จำเป็นต้องอยู่ในสถานที่ที่เย็นเป็นพิเศษ จากโจทย์ บอกว่าเกิดปัญหาที่จะต้องคิดตัว  
ระบายความร้อน ซึ่งไม่จริง

108. ตอบ 1. ส่วน Uninstaller เป็นหน้าที่หนึ่งของโปรแกรมรรถประโยชน์ซึ่งจะทำการลบ โปรแกรม  
ไฟล์อื่นๆ ที่เกี่ยวข้องและปรับค่าพารามิเตอร์ต่างๆ ในระบบคอมพิวเตอร์อย่างถอนรากถอนโคน

109. ตอบ 2. การสาธารณสุขทางไกล (Telehealth) คือ การนำบริการสาธารณสุขโดยเฉพาะอย่างยิ่งการ  
รักษาพยาบาลและการดูแลสุขภาพไปสู่ประชาชนผ่านช่องทางการสื่อสาร โทรคมนาคมชนิดต่างๆ ซึ่งจะช่วย  
ให้ประชาชนในพื้นที่ห่างไกลสามารถเข้าถึงบริการสาธารณสุขที่มีคุณภาพได้อย่างทั่วถึง

110. ตอบ 1. Web Page Authoring Software เป็นซอฟต์แวร์ประยุกต์ที่ใช้ในการออกแบบเว็บเพจ (Web  
Design) ที่ได้รับความนิยมมากในปัจจุบัน โดยมีความสามารถในการสร้างเว็บทั้งในรูปแบบของกราฟิก วัสดุ  
ทัศน์ ภาพเคลื่อนไหว เสียง ฯลฯ ได้อย่างทันสมัย รวมทั้งใช้ในการแก้ไขโปรแกรม HTML และออกแบบ  
เว็บไซต์ในรูปแบบของ WYSIWYG ซึ่งโปรแกรมที่ได้รับความนิยมมากที่สุด เช่น Dreamweaver MX,  
Flash MX, Microsoft FrontPage 2003, Netscape Composer เป็นต้น

111. ตอบ 4. หากมีการป้อนข้อมูลที่ไม่ถูกต้องหรือไม่ครบถ้วนเข้าสู่ระบบคอมพิวเตอร์ จะทำให้การ  
ประมวลผลข้อมูลไม่ถูกต้องไปด้วย ส่งผลให้สารสนเทศที่เกิดขึ้นไม่ถูกต้องหรือไม่ครบถ้วนในการนำไปใช้  
งานต่อไป ในกรณีนี้ทำให้เกิดศัพท์ว่า “GIGO” ซึ่งย่อมาจาก Garbage In Garbage Out หมายถึง ถ้าคุณ  
ป้อนขยะให้คอมพิวเตอร์ประมวลผลคอมพิวเตอร์ก็จะให้สารสนเทศที่เป็นขยะออกมา

112. ตอบ 4. Motherboard , System Board หรือ Mainboard คือ แผ่นวงจรหลักในคอมพิวเตอร์ที่เชื่อมต่อ  
อุปกรณ์ต่างๆ เข้ามา โดยเป็นพื้นที่สำหรับใช้ CPU , ROM Chip , RAM Chip และอื่นๆ ของคอมพิวเตอร์  
ทำงาน นอกจากนี้ยังมีช่องเสียบขยาย (Expansion Slots) สำหรับอุปกรณ์อิเล็กทรอนิกส์ทั้งที่เป็น Input และ  
Output Hardware เช่น การ์ดเสียง เครื่องพิมพ์ โมเด็ม ฯลฯ ซึ่งสามารถเพิ่มวงจรการทำงานให้กับบอร์ดได้

113. ตอบ 3. Modem คือ อุปกรณ์ที่ทำหน้าที่ในการเชื่อมต่อการสื่อสารระหว่างคอมพิวเตอร์กับเครือข่าย  
อินเทอร์เน็ต โดยจะเปลี่ยนสัญญาณดิจิทัลให้เป็นสัญญาณแอนะล็อก (Modulation) และเปลี่ยนสัญญาณแอนะ  
ล็อกให้เป็นสัญญาณดิจิทัล (Demodulation) ซึ่งความเร็วของโมเด็มที่ใช้อยู่ในปัจจุบันมีหน่วยเป็น Kbps

114. ตอบ 2. E-Commerce หรือ พาณิชย์อิเล็กทรอนิกส์ คือ การทำธุรกิจซื้อขายสินค้าผ่านเครือข่าย  
อินเทอร์เน็ต ซึ่งรูปแบบของการทำ E-Commerce จะมีอยู่

115. ตอบ 2. อุปกรณ์หรือฮาร์ดแวร์สำหรับสร้างงานสื่อผสม (Multimedia Hardware) มี 4 ส่วน สำคัญ ดังนี้

1. Input Hardware คือ อุปกรณ์รับข้อมูลที่อยู่ในรูปแบบของตัวอักษร ภาพนิ่ง ภาพเคลื่อนไหว เสียง และวีดีโอ เช่น Scanner, Digital Camera, Video Camera, Video Capture Card, Sound Card ฯลฯ
2. Processing Hardware คือ เครื่องคอมพิวเตอร์พีซีที่ทำหน้าที่ประมวลผลข้อมูล
3. Output Hardware คือ อุปกรณ์แสดงผลลัพธ์ เช่น Laser Printer, HDTV, External Speaker, ฯลฯ
4. Storage Device คือ อุปกรณ์จัดเก็บข้อมูล เช่น Tape, CD-ROM Drive, DVD ฯลฯ

116. ตอบ 2. CAD = Computer Aided Design ใช้ในงานออกแบบ CAM = c \ Computer Aided Manufacturing ใช้ในงานควบคุมเครื่องจักรในโรงงานอุตสาหกรรม

117. ตอบ 1. Input Hardware คือ อุปกรณ์ที่ใช้สำหรับนำเข้าข้อมูล (Data) และคำสั่ง (Instructions) เช่น ตัวอักษร ภาพนิ่ง เสียง ภาพเคลื่อนไหว โปรแกรม ฯลฯ เข้าสู่ระบบคอมพิวเตอร์โดยจะเข้ารหัส (Encoding) จากสื่อความหมายที่มนุษย์เข้าใจให้เป็นสื่อความหมายที่คอมพิวเตอร์เข้าใจ ซึ่งอุปกรณ์ Input แบ่งออกเป็น 2 ประเภท คือ 1) การป้อนข้อมูลโดยใช้คีย์บอร์ด (Keyboard) 2) อุปกรณ์ที่ป้อนข้อมูลโดยตรง (Direct Entry Devices) เช่น Mouse, Microphone, Trackball, Joystick, Scanner, Webcam, Light Pen, Digital Camera, Touch Screen เป็นต้น

118. ตอบ 4. โครงสร้างควบคุมแบบทำซ้ำ (Repetition) หมายถึง กลไกของการวนซ้ำ (A Looping Mechanism) ซึ่งเป็นหัวใจของการเขียนโปรแกรม โดยคอมพิวเตอร์จะทำงานโดยการวนซ้ำๆ กันอย่างต่อเนื่อง และออกจากส่วนวนซ้ำตามคำสั่งที่กำหนดให้ทำซ้ำที่สำคัญมี 2 รูปแบบ คือ DOWHILE และ DOUNTIL

119. ตอบ 4. การบำรุงรักษาโปรแกรม (Program Maintenance) เป็นขั้นตอนสุดท้ายในการเขียนโปรแกรมคอมพิวเตอร์ โดยจะเริ่มขึ้นหลังจากที่ผู้ใช้งานโปรแกรมที่เสร็จสมบูรณ์แล้วไปปฏิบัติงานจริงมาช่วงระยะเวลาหนึ่ง ซึ่งในช่วงเวลาดังกล่าว Maintenance จะมีการตรวจสอบ และทบทวนการใช้งานเป็นระยะๆ เพื่อประเมินผลความถูกต้อง ประสิทธิภาพในการใช้งาน และความเป็นมาตรฐาน หากพบข้อผิดพลาดของโปรแกรมในระหว่างการใช้งาน ก็จะมีการปรับปรุงแก้ไขโปรแกรมให้ถูกต้องต่อไป

120. ตอบ 3. ซอฟต์แวร์ระบบ (System Software) คือ ซอฟต์แวร์ที่ทำหน้าที่เชื่อมประสานระหว่างผู้ใช้ ซอฟต์แวร์ประยุกต์ และเครื่องคอมพิวเตอร์ให้ทำงานร่วมกัน เพื่อช่วยในการจัดการทรัพยากรต่างๆ ของคอมพิวเตอร์ โดยแบ่งออกเป็น 3 ชนิดคือ 1.ระบบปฏิบัติการ (Operating System : OS) เป็นโปรแกรมที่ทำ

หน้าที่ควบคุมการทำงานของโปรแกรมประยุกต์ และจัดการกับการดำเนินการพื้นฐานของเครื่องคอมพิวเตอร์

2. โปรแกรมอรรถประโยชน์ (Utility Program) เป็นโปรแกรมพิเศษที่ช่วยอำนวยความสะดวกแก่ผู้ใช้งานเฉพาะด้าน เช่น โปรแกรมป้องกันไวรัส (Antivirus Software), โปรแกรมถนอมจอภาพ (Screen Saver), โปรแกรมจัดเรียงไฟล์ และเนื้อที่ว่างในดิสก์ให้อยู่ต่อเนื่องกัน (Disk Defragmenter Software) เป็นต้น

3. ตัวแปลภาษา (Language Translator) เช่น Compiler

121. ตอบ 2. ROM (Read – only Memory) เป็นหน่วยความจำที่คล้ายๆ กับ RAM แต่ต่างกันที่ชิพ ROM จะเก็บข้อมูลในคอมพิวเตอร์อย่างถาวร (None Volatile)

122. ตอบ 3. แผ่น Diskette ที่มี 40track และมี track ละ 9sector โดย 1sector จะเก็บข้อมูลได้ 512Byte จะสามารถบันทึกข้อมูลได้  $40 \times 9 \times 512$  Byte หรือ  $40 \times 9 \times 512$  ตัวอักษร (1 Byte = 1 ตัวอักษร)

123. ตอบ 2. งานประยุกต์สื่อผสม (Multimedia Applications) หมายถึง งานซึ่งนำเสนอสารสนเทศโดยผสมผสานสื่อมากกว่าหนึ่งชนิด อันได้แก่ ข้อความ (Text), เสียง (Sound หรือ Voice), ภาพกราฟิก (Graphics), วิดีโอ (Video) และ ภาพเคลื่อนไหว (Animation)

124. ตอบ 4. ชนิดของเครือข่ายคอมพิวเตอร์มี 3 ชนิด คือ

1. Wide Area Network (WAN) คือ ระบบเครือข่ายระยะไกลที่เชื่อมต่อระบบคอมพิวเตอร์เข้าด้วยกัน ได้แก่ การเชื่อมต่อระหว่างประเทศหรือทวีป เช่น Telenet, Internet ฯลฯ

2. Metropolitan Area Network (MAN) คือ การเชื่อมต่อเครือข่ายคอมพิวเตอร์ขนาดกลางที่เป็นเมืองใหญ่ ซึ่งรัศมีประมาณ 50 กิโลเมตร

3. Local Area Network (LAN) คือ ระบบเครือข่ายส่วนบุคคลที่ให้บริการในภายในพื้นที่จำกัด เช่น ภายในสำนักงานเดียวกัน หรือภายในมหาวิทยาลัย

125. ตอบ 3. การเชื่อมต่อร่วมกัน (Connectivity) คือ ความสามารถในการเชื่อมต่อคอมพิวเตอร์กับอุปกรณ์สารสนเทศอื่นๆ ไปยังระบบอื่นๆ โดยผ่านสายสื่อสาร การเชื่อมต่อจะทำให้คอมพิวเตอร์หรือโปรแกรมระบบงานทำงานร่วมกับส่วนประกอบอื่นๆ ของเครือข่ายได้ไม่ว่าจะเป็นฮาร์ดแวร์หรือซอฟต์แวร์ที่ซื้อจากใครก็ตาม

126. ตอบ 3. ISP หรือ Internet Service Provider เป็นหน่วยงานที่ให้บริการเชื่อมต่อเข้ากับเครือข่ายอินเทอร์เน็ต สำหรับในประเทศไทยมีหน่วยงานที่ให้บริการด้านนี้อยู่ 2 ประเภทด้วยกันคือ ผู้ให้บริการอินเทอร์เน็ตเชิงพาณิชย์ (Commercial ISP) และผู้ให้บริการอินเทอร์เน็ตสำหรับ สถาบันการศึกษาการวิจัย และหน่วยงานของรัฐ (Non-commercial ISP)

127. ตอบ 3.

128. ตอบ 1. คลิก Design

129. ตอบ 4. ถูกทุกข้อ

130. ตอบ 3. รูปร่างอัตโนมัติ

131. ตอบ 4 .

เหตุผล ตามพระราชบัญญัติลักษณะปกครองท้องที่ พ.ศ.2457

มาตรา 27 ผู้ใหญ่บ้านเป็นหัวหน้าของราษฎรในหมู่บ้านของตน ตามที่กำหนดไว้ในพระราชบัญญัตินี้ มีหน้าที่และอำนาจในทางปกครองและรักษาความสงบเรียบร้อยของราษฎร

132. ตอบ 2.

เหตุผล ตามประมวลกฎหมายแพ่งและพาณิชย์

มาตรา 1449 การสมรสจะกระทำมิได้ถ้าชายหรือหญิงเป็นบุคคลวิกลจริตหรือเป็นบุคคลซึ่งศาลสั่งให้เป็นคนไร้ความสามารถ

133. ตอบ 2.

เหตุผล ตามประมวลกฎหมายแพ่งและพาณิชย์

มาตรา 145 ไม่ขึ้นต้นเป็นส่วนควบกับที่ดินที่ไม่ขึ้นขึ้นอยู่ ไม่ล้มลุกหรือธัญชาติอันจะเก็บเกี่ยวรวงผลได้คราวหนึ่ง หรือหลายคราวต่อปีไม่เป็นส่วนควบกับที่ดิน

134. ตอบ 1.

135. ตอบ 3. กฎหมายจะมีผลบังคับใช้กับประชาชนได้ก็ต่อเมื่อได้ประกาศในราชกิจจานุเบกษาและเมื่อได้ทำการประกาศแล้ว ให้ถือว่าประชาชนได้ทราบถึงความมีอยู่ของกฎหมายนั้นแล้ว จะอ้างไม่รู้กฎหมายมาเป็นข้อแก้ตัวไม่ได้

136. ตอบ 4.

เหตุผล ตามพระราชบัญญัติลักษณะปกครองท้องที่ พ.ศ. 2457

มาตรา 61 ทวิ กำหนด ผู้ใหญ่บ้าน และแพทย์ประจำตำบลต้องรักษาวินัยโดยเคร่งครัดอยู่เสมอ ผู้ใดฝ่าฝืนให้ถือว่าผู้นั้นกระทำความผิดต้องได้รับ โทษ วินัย และ โทษผิดวินัยให้ใช้กฎหมายว่าด้วยระเบียบข้าราชการพลเรือน โดยอนุโลม

137. ตอบ 1.

เหตุผล ตาม พ.ร.บ. ระเบียบบริหารราชการแผ่นดิน พ.ศ.2534

มาตรา 54 ....

ผู้ว่าราชการจังหวัด รองผู้ว่าราชการจังหวัด และผู้ช่วยผู้ว่าราชการจังหวัด สังกัด

กระทรวงมหาดไทย

138. ตอบ 1. นิติกรรมที่ผู้เยาว์สามารถทำได้เองโดยไม่ต้องได้รับความยินยอมจากผู้แทนโดยชอบธรรม ได้แก่ 1

นิติกรรมที่ทำให้ผู้เยาว์ได้มาซึ่งสิทธิ หรือหลุดพ้นจากหน้าที่เช่น การทำนิติกรรมรับการปลดหนี้จากเจ้าหนี้ โดยปราศจากเงื่อนไขหรือค่าภาระติดพัน 2. นิติกรรมที่ผู้เยาว์ต้องทำเองเฉพาะตัว เช่น การจดทะเบียนรับรองบุตร 3. นิติกรรมที่สมแก่ฐานะและจำเป็นในการดำรงชีวิตตามสมควร เช่น ซื้ออาหารรับประทาน 4. ผู้เยาว์อาจทำนิติกรรมได้เมื่ออายุครบ 15 ปีบริบูรณ์

139. ตอบ 3.

140. ตอบ 4.

เหตุผล ตามพระราชบัญญัติลักษณะปกครองท้องที่ พ.ศ.2457

มาตรา 61 ทวิ กำหนด ผู้ใหญ่บ้าน และแพทย์ประจำตำบลต้องรักษาวินัยโดยเคร่งครัดอยู่เสมอ ผู้ใดฝ่าฝืนให้ถือว่าผู้นั้นกระทำความผิดต้องได้รับ โทษ วินัย และ โทษผิดวินัยให้ใช้กฎหมายว่าด้วยระเบียบข้าราชการพลเรือน โดยอนุโลม

อำนาจการลงโทษ กำหนด ผู้ใหญ่บ้าน และแพทย์ประจำตำบล ให้เป็นไปดังนี้

(1) กำหนดมีอำนาจลงโทษภาคทัณฑ์ผู้ใหญ่บ้าน

(2) นายอำเภอมีอำนาจลงโทษกำหนด ผู้ใหญ่บ้าน และแพทย์ประจำตำบล ดังนี้

(ก) ลดอันดับเงินเดือนไม่เกินหนึ่งอันดับ

(ข) ตัดเงินเดือนโดยเทียบในฐานะเป็นผู้บังคับบัญชาชั้นหัวหน้าแผนกกับผู้กระทำความผิดชั้น

เสมียนพนักงาน ตามที่กำหนดไว้ในกฎหมายว่าด้วยระเบียบข้าราชการพลเรือน

(ค) ลงโทษภาคทัณฑ์ เมื่อกำนัน ผู้ใหญ่บ้านคนใดถูกฟ้องในคดีอาญา เว้นแต่คดีความผิดในลักษณะฐานลหุโทษ หรือความผิดอันได้กระทำโดยประมาท หรือมีกรณีที่ต้องหาว่าทำผิดวินัยอย่างร้ายแรง ถูกสอบสวนเพื่อไล่ออกหรือปลดออก ถ้านายอำเภอเห็นว่าคงให้อยู่ในตำแหน่งจะเป็นการเสียหายแก่ราชการจะสั่งให้พักหน้าที่ได้ แล้วรายงานให้ข้าหลวงประจำจังหวัดทราบ การสั่งให้กลับเข้ารับหน้าที่ตลอดถึงการวินิจฉัยว่าจะควรจ่ายเงินเดือนระหว่างพักให้เพียงใดหรือไม่ให้ข้าหลวงประจำจังหวัดเป็นผู้พิจารณา สั่ง อนุโลมตามกฎหมายว่าด้วยระเบียบข้าราชการพลเรือน

(3) ข้าหลวงประจำจังหวัดมีอำนาจลงโทษกำนันผู้ใหญ่บ้านและแพทย์ประจำตำบลในทุกสถานในกรณีการลดอันดับและตัดเงินเดือนให้เทียบข้าหลวงประจำจังหวัดในฐานะเป็นผู้บังคับชั้นหัวหน้ากอง และกำนันผู้ใหญ่บ้าน แพทย์ประจำตำบลเป็นชั้นเสมียนพนักงาน ตามที่กำหนดไว้ในกฎหมายว่าด้วยระเบียบข้าราชการพลเรือน....

141.ตอบ : 4

คำอธิบาย : สติ-สัมปชัญญะ หมายถึง ธรรมะที่ทำให้คนไม่ประมาทเลินเล่อ ไม่ผลอดตัว มีอุปการะต่อคนปฏิบัติอย่างมาก

142. ตอบ : 1

คำอธิบาย : หิริ-โอตตปละ คือธรรมะที่สามารถคุ้มครองโลกให้สงบร่มเย็นได้

143. ตอบ : 2

คำอธิบาย : มีโรคมาก เป็นวิบากกรรมของการเบียดเบียนสัตว์

144. ตอบ : 4

คำอธิบาย : วัฏฏะ คือ การเวียนว่ายตายเกิดในภพในชาติไม่รู้จักจบสิ้น

145. ตอบ 1. การแสดงพฤติกรรมที่พึงประสงค์ของสังคมและปฏิเสธการแสดงพฤติกรรมที่ไม่พึงประสงค์ของสังคม

พฤติกรรมเชิงจริยธรรม หมายถึง การแสดงพฤติกรรมที่พึงประสงค์ของสังคมและปฏิเสธการแสดงพฤติกรรมที่ไม่พึงประสงค์ของสังคม

146. ตอบ : ข้อ 4.

คำอธิบาย : สุขโศ แปลว่า ผู้ไปแล้วด้วยดี หมายถึง เมื่อไปที่ใดที่นั้นย่อมจะเจริญรุ่งเรือง

147. ตอบ 2. การเกิดเสรีภาพในความคิดและแนวทางปฏิบัติ

การเกิดเสรีภาพในความคิดและแนวทางปฏิบัติ ไม่ถือว่าเป็นผลจากการขัดเกลาทางสังคม

148. ตอบ 2. ค่านิยมแบบศักดินา

ระบบศักดินา (Feudal System) หมายถึง ระบบสังคมที่มีการแบ่งชนชั้น ซึ่งกำหนดสิทธิหน้าที่และฐานะของแต่ละบุคคลในสังคม จุดประสงค์ก็เพื่อควบคุมกำลังคนและแบ่งฐานะของบุคคลเป็นสำคัญ

149. ตอบ 3. กฎหมายตราสามดวงเป็นประมวลกฎหมายตามแบบแผนประเพณีของไทยที่ได้รับอิทธิพลจากกฎหมายอินเดีย พระบาทสมเด็จพระพุทธยอดฟ้าจุฬาโลกมหาราชโปรดเกล้าฯ ให้ชำระใน พ.ศ. 2347 ทรงให้อาลักษณ์ประทักษิณ 3 ดวง คือ ตราราชสีห์ คชสีห์ และบัวแก้ว กฎหมายตราสามดวงใช้เป็นหลักสำคัญในการปกครองบ้านเมือง จัดระเบียบสังคมและตัดสินคดีความต่างๆ จนกระทั่งรัชสมัยพระบาทสมเด็จพระจุลจอมเกล้าเจ้าอยู่หัว จึงมีการร่างกฎหมายตามแบบชาติตะวันตกขึ้นมาใช้แทน

150. ตอบ 1. การเปลี่ยนแปลงการปกครองในพ.ศ. 2475 ส่งผลให้เกิดการเปลี่ยนแปลงระบบการปกครองจากระบบสมบูรณาญาสิทธิราชย์มาเป็นระบอบประชาธิปไตยอันมีพระมหากษัตริย์ทรงเป็นประมุข มีการเปลี่ยนแปลงผู้บริหารประเทศ และอำนาจอธิปไตยเป็นของประชาชน แต่รูปแบบของรัฐของไทยยังคงเป็นรัฐเดี่ยวคือรัฐที่มีศูนย์กลางทางการเมืองและการปกครองอันเป็นอันหนึ่งอันเดียวกันมีเอกภาพไม่ได้แยกออกจากกัน และมีการใช้อำนาจสูงสุดทั้งภายในและภายนอก โดยองค์กรเดียวกันทั่วดินแดนของรัฐ



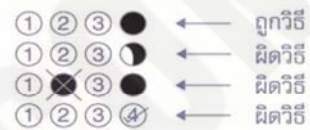
# กระดาษคำตอบ

**NINE100.COM**

## คำแนะนำ

- ใช้ดินสอดำ 2B ขึ้นไป ระบายวงกลมทุกวงที่ต้องการให้คำตอบ
- ถ้าต้องการแก้ไข ให้ใช้ยางลบให้สะอาดก่อน จึงระบายวงใหม่
- ห้ามขีดเขียนสิ่งอื่นใดนอกเหนือจากที่ระบุไว้

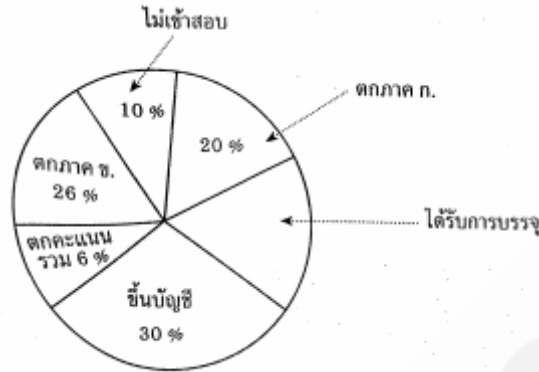
## ตัวอย่าง



1 ① ② ③ ④	26 ① ② ③ ④	51 ① ② ③ ④	76 ① ② ③ ④	101 ① ② ③ ④	126 ① ② ③ ④
2 ① ② ③ ④	27 ① ② ③ ④	52 ① ② ③ ④	77 ① ② ③ ④	102 ① ② ③ ④	127 ① ② ③ ④
3 ① ② ③ ④	28 ① ② ③ ④	53 ① ② ③ ④	78 ① ② ③ ④	103 ① ② ③ ④	128 ① ② ③ ④
4 ① ② ③ ④	29 ① ② ③ ④	54 ① ② ③ ④	79 ① ② ③ ④	104 ① ② ③ ④	129 ① ② ③ ④
5 ① ② ③ ④	30 ① ② ③ ④	55 ① ② ③ ④	80 ① ② ③ ④	105 ① ② ③ ④	130 ① ② ③ ④
6 ① ② ③ ④	31 ① ② ③ ④	56 ① ② ③ ④	81 ① ② ③ ④	106 ① ② ③ ④	131 ① ② ③ ④
7 ① ② ③ ④	32 ① ② ③ ④	57 ① ② ③ ④	82 ① ② ③ ④	107 ① ② ③ ④	132 ① ② ③ ④
8 ① ② ③ ④	33 ① ② ③ ④	58 ① ② ③ ④	83 ① ② ③ ④	108 ① ② ③ ④	133 ① ② ③ ④
9 ① ② ③ ④	34 ① ② ③ ④	59 ① ② ③ ④	84 ① ② ③ ④	109 ① ② ③ ④	134 ① ② ③ ④
10 ① ② ③ ④	35 ① ② ③ ④	60 ① ② ③ ④	85 ① ② ③ ④	110 ① ② ③ ④	135 ① ② ③ ④
11 ① ② ③ ④	36 ① ② ③ ④	61 ① ② ③ ④	86 ① ② ③ ④	111 ① ② ③ ④	136 ① ② ③ ④
12 ① ② ③ ④	37 ① ② ③ ④	62 ① ② ③ ④	87 ① ② ③ ④	112 ① ② ③ ④	137 ① ② ③ ④
13 ① ② ③ ④	38 ① ② ③ ④	63 ① ② ③ ④	88 ① ② ③ ④	113 ① ② ③ ④	138 ① ② ③ ④
14 ① ② ③ ④	39 ① ② ③ ④	64 ① ② ③ ④	89 ① ② ③ ④	114 ① ② ③ ④	139 ① ② ③ ④
15 ① ② ③ ④	40 ① ② ③ ④	65 ① ② ③ ④	90 ① ② ③ ④	115 ① ② ③ ④	140 ① ② ③ ④
16 ① ② ③ ④	41 ① ② ③ ④	66 ① ② ③ ④	91 ① ② ③ ④	116 ① ② ③ ④	141 ① ② ③ ④
17 ① ② ③ ④	42 ① ② ③ ④	67 ① ② ③ ④	92 ① ② ③ ④	117 ① ② ③ ④	142 ① ② ③ ④
18 ① ② ③ ④	43 ① ② ③ ④	68 ① ② ③ ④	93 ① ② ③ ④	118 ① ② ③ ④	143 ① ② ③ ④
19 ① ② ③ ④	44 ① ② ③ ④	69 ① ② ③ ④	94 ① ② ③ ④	119 ① ② ③ ④	144 ① ② ③ ④
20 ① ② ③ ④	45 ① ② ③ ④	70 ① ② ③ ④	95 ① ② ③ ④	120 ① ② ③ ④	145 ① ② ③ ④
21 ① ② ③ ④	46 ① ② ③ ④	71 ① ② ③ ④	96 ① ② ③ ④	121 ① ② ③ ④	146 ① ② ③ ④
22 ① ② ③ ④	47 ① ② ③ ④	72 ① ② ③ ④	97 ① ② ③ ④	122 ① ② ③ ④	147 ① ② ③ ④
23 ① ② ③ ④	48 ① ② ③ ④	73 ① ② ③ ④	98 ① ② ③ ④	123 ① ② ③ ④	148 ① ② ③ ④
24 ① ② ③ ④	49 ① ② ③ ④	74 ① ② ③ ④	99 ① ② ③ ④	124 ① ② ③ ④	149 ① ② ③ ④
25 ① ② ③ ④	50 ① ② ③ ④	75 ① ② ③ ④	100 ① ② ③ ④	125 ① ② ③ ④	150 ① ② ③ ④

## NINE100.COM

ทดสอบความรู้ความสามารถ ด้วยวิธีสอบข้อเขียน ข้อสอบปรนัย 4 ตัวเลือก

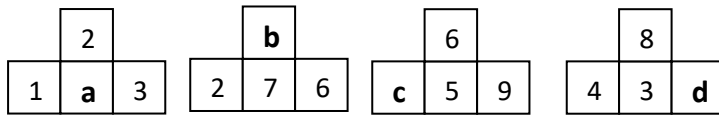


แผนภูมิแสดงการสอบเข้าข้าราชการในปี พ.ศ. 2552

- มีผู้ได้รับการบรรจุกี่ % ของทั้งหมดที่สอบ
  1. 10%
  2. 9%
  3. 8%
  4. 6%
- อัตราส่วนของผู้ที่สอบได้ทั้งหมดกับผู้สอบตกทั้งหมดคิดเป็นเท่าใด
  1. 3:7
  2. 14:26
  3. 15:35
  4. 19:31
- ชายสุนัขพันธุ์ดีไป 2 ตัว ราคาตัวละ 1800 บาท ตัวแรกได้กำไร 25% ตัวที่สองขาดทุน 25% ชายสุนัขทั้งสองตัวได้กำไรหรือขาดทุนเท่าใด
  1. กำไร 240 บาท
  2. ขาดทุน 240 บาท
  3. กำไร 340 บาท
  4. ขาดทุน 340 บาท
- วิหัยชื่อน้ำตาลทรายขาวมาจำนวน 5 กิโลกรัม ราคา กิโลกรัมละ 5 บาท นำมาผสมกับน้ำตาลทรายแดงจำนวน 6 กิโลกรัม กิโลกรัมละ 7.50 บาท แล้วนำไปขาย อยากทราบว่า จะต้องขาย กิโลกรัมละเท่าใดจึงจะได้กำไร 10%
  1. 6.36 บาท
  2. 6.50 บาท
  3. 7.00 บาท
  4. 7.50 บาท
- ข้าวสารจำนวน 2 ชนิด ซ้อมากิโลกรัมละ 10 บาท ผสมกันในอัตราส่วน 1:1 แล้วขาย กิโลกรัมละ 12 บาท จะได้กำไรกี่ %
  1. 30%
  2. 28%
  3. 24%
  4. 20%

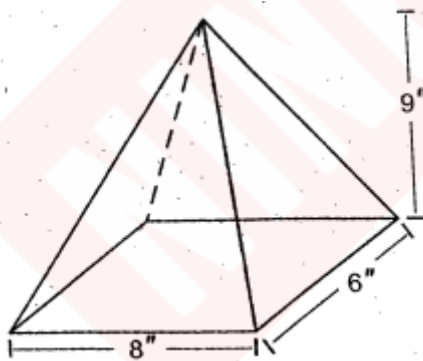


13. จากแบบรูปต่อไปนี้



$a + b + c + d$  มีค่าเท่ากับข้อใด

1. 17
  2. 21
  3. 28
  4. 33
14. กำหนดข้อมูลคือ 8, 4, 6, 2, 4, 5, 4, 7 จงหาพิสัย
1. 4
  2. 5
  3. 6
  4. 7
15. จากข้อ 14 จงหาฐานนิยม
1. 4
  2. 5
  3. 6
  4. 7
16. จากข้อ 14 จงหามัธยฐาน
1. 4
  2. 4.5
  3. 6
  4. 5.5
17. จากข้อ 14 จงหาค่าเฉลี่ยเลขคณิต
1. 4
  2. 5
  3. 6
  4. 7
18. ปริมาตรของรูปทรงที่กำหนดให้คือข้อใด



1. 144 ลูกบาศก์นิ้ว
2. 216 ลูกบาศก์นิ้ว
3. 432 ลูกบาศก์นิ้ว
4. 480 ลูกบาศก์นิ้ว

19. ถังใบหนึ่งมีน้ำอยู่  $\frac{4}{5}$  ถัง หลังจากใช้น้ำไป  $\frac{1}{4}$  ถัง จะเหลือน้ำในถัง 110 ลิตรพอดี จงหาว่าถังใบนี้บรรจุน้ำเต็มถังได้กี่ลิตร

1. 180 ลิตร
2. 200 ลิตร
3. 220 ลิตร
4. 240 ลิตร

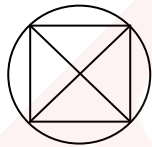
20. อายุเฉลี่ยของนักเรียน 20 คน และครู 1 คน เป็น 17 ปี 8 เดือน ถ้ามีครูอายุ 31 ปี ดังนั้นอายุเฉลี่ยของนักเรียน 20 คนเป็นเท่าใด

1. 14 ปี
2. 15 ปี
3. 16 ปี
4. 17 ปี

21. ถ้าอัตราการพักตัวของไข่ไก่คือ 4 ใน 5 ฟอง อยากทราบว่า ต้องการลูกไก่จำนวน 240 ตัว จะต้องซื้อไข่มาทั้งหมดกี่ฟอง

1. 250 ฟอง
2. 270 ฟอง
3. 300 ฟอง
4. 360 ฟอง

22. จากรูป มีวงกลมล้อมรอบรูปสี่เหลี่ยมจัตุรัส ถ้ารูปสี่เหลี่ยมจัตุรัสมีพื้นที่ 8 ตารางหน่วย แล้วรูปวงกลมมีพื้นที่กี่ตารางหน่วย



1.  $2\pi$
2.  $3\pi$
3.  $4\pi$
4.  $5\pi$

23. กำหนด  $a * b = ab - 1$

ถ้า  $a * b = 19$  และ  $a$  น้อยกว่า  $b$  อยู่ 1 จงหา  $\left(\frac{a}{b} + \frac{b}{a}\right) \times 100$

1. 200
2. 205
3. 215
4. 225

24. ถ้า  $p, q$  และ  $r$  เป็นประพจน์ที่มีค่าความจริงเป็น จริง, เท็จ และจริง ตามลำดับ แล้วประพจน์ในข้อใด มีค่าความจริงเป็นจริง

1.  $(p \wedge \sim r) \rightarrow q$
2.  $(q \wedge \sim p) \leftrightarrow p$
3.  $(p \wedge \sim q) \leftrightarrow \sim r$
4.  $(p \wedge \sim q) \rightarrow r$

25. หมู่บ้าน 1. มีประชากร 500 คน ในปีหนึ่งๆ จะมีประชากรลดลงไปอีกปีละ 50 คน ส่วนหมู่บ้าน 2. มีประชากร 100 คน ในปีหนึ่งๆ จะมีประชากรเพิ่มขึ้น ปีละ 50 คน ถ้าปี ประชากรทั้งสองหมู่บ้านจำนวนเท่ากัน

- 1. 4
- 2. 5
- 3. 6
- 4. 7

26. นาย 1. และ นาย 2. อยู่ห่างกัน 800 เมตร ทั้งสองออกเดินทางพร้อม โดยนาย 1. เดินด้วยความเร็ว 40 เมตรต่อนาที นาย 2. เดินด้วยความเร็ว 60 เมตรต่อนาที ดังนั้น ทั้งสองจะมาพบกันเมื่อเวลาผ่านไปกี่ นาที

- 1. 5 นาที
- 2. 6 นาที
- 3. 7 นาที
- 4. 8 นาที

27. กำหนด เหตุ            1) คนที่นอนตื่นสาย จะปวดหัว  
                              2) คนที่ปวดหัว จะเป็นคนโง่

จากเหตุที่กำหนดให้ ผลสรุปในข้อใดสมเหตุสมผล

- 1. คนที่ไม่นอนตื่นสายจะไม่ปวดหัว
- 2. คนที่นอนตื่นสาย จะเป็นคน โง่
- 3. คนที่ไม่ปวดหัวจะไม่เป็นคนโง่
- 4. คนโง่เป็นคนที่ไม่นอนตื่นสาย

28. ดารา : ? → นักร้อง : ?

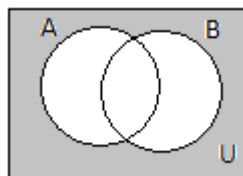
- 1. บทบาท , เสียง
- 2. ความสวยงาม , บทบาท
- 3. มารยาท , เสียง
- 4. การแต่งกาย , ความสวยงาม

29.



- 1.
- 2.
- 3.
- 4.

30. พื้นที่ที่แรเงาในรูปตรงกับข้อใด



- 1.  $A' \cup B'$
- 2.  $(A - B)' \cup B'$
- 3.  $(B - A) \cup (A \cap B)'$
- 4.  $[(A - B) \cup B]'$

31. สมใจเก็บเงินฝากธนาคารทุกเดือน โดยเดือนถัดไปจะฝากเงินเพิ่ม 100 บาทของเดือนก่อนหน้า

ถ้าเดือนแรกเขาฝากเงิน 100 บาท เขาจะใช้เวลาเท่าไรจึงจะมีเงินฝากในธนาคาร 21,000 บาท

- |                 |                  |
|-----------------|------------------|
| 1. 1 ปี 7 เดือน | 2. 1 ปี 8 เดือน  |
| 3. 1 ปี 9 เดือน | 4. 1 ปี 10 เดือน |

32.  $A * B = \frac{2A - B}{2}$  ดังนั้น  $3 * 2 = ?$

- |      |      |
|------|------|
| 1. 2 | 2. 3 |
| 3. 4 | 4. 5 |

33.  $AxB = A + B - 2$  ดังนั้น  $(2x3)x1 = ?$

- |      |      |
|------|------|
| 1. 2 | 2. 3 |
| 3. 4 | 4. 5 |

34. นายเขียวขับรถจากเมือง 1. ไปเมือง 2. ซึ่งห่างกัน 240 กม. ตอนไปขับด้วยความเร็ว 60 กม./ชม. และขับกลับด้วยความเร็ว 40 กม./ชม. แสดงว่านายเขียวขับรถไป-กลับด้วยความเร็วเฉลี่ยเท่าใด

- |                |               |
|----------------|---------------|
| 1. 100 กม./ชม. | 2. 50 กม./ชม. |
| 3. 48 กม./ชม.  | 4. 52 กม./ชม. |

35. นายแก้วขับรถจากกรุงเทพถึงชลบุรี ถ้าขับด้วยอัตราเร็ว 90 กม./ชม. จะถึงเร็วกว่า ถ้าขับด้วยความเร็ว 80 กม./ชม. อยู่ 10 นาที จงหาระยะทางระหว่างกรุงเทพถึงชลบุรี

- |            |            |
|------------|------------|
| 1. 100 กม. | 2. 110 กม. |
| 3. 120 กม. | 4. 140 กม. |

36. พิจารณาการให้เหตุผลผลต่อไปนี้

เหตุ 1 .....A.....

2 เห็นเป็นพืชมีดอก

ผล เห็นเป็นพืชชั้นสูง

ข้อสรุปข้างต้นสมเหตุสมผล ถ้า A แทนข้อความใด

- |                                  |                                  |
|----------------------------------|----------------------------------|
| 1. พืชชั้นสูงทุกชนิดมีดอก        | 2. พืชชั้นสูงบางชนิดมีดอก        |
| 3. พืชมีดอกบางชนิดเป็นพืชชั้นสูง | 4. พืชมีดอกทุกชนิดเป็นพืชชั้นสูง |

37. เวลา 11.18 น. เข็มสั้นและเข็มนาฬิกาทำมุมกันกี่องศา (มุมเล็ก)

- |                |                |
|----------------|----------------|
| 1. $108^\circ$ | 2. $111^\circ$ |
| 3. $117^\circ$ | 4. $129^\circ$ |

38. ปัจจุบันอายุของ ก : ข เป็น 3 : 4 ถ้า ก มีอายุ 15 ปี ดังนั้น กี่ปีผ่านมาแล้ว อายุ ก : ข เป็นอัตราส่วน 1 : 2
1. 10
  2. 12
  3. 18
  4. 24
39. มีรหัสบอกเอาไว้ว่า ถ้าพบ A ให้ไปทางขวา ถ้าพบ B ให้ไปทางซ้ายและพบว่า C ให้หันหลังกลับ ถ้าเขาเดินไปพบรหัส A-C-B เมื่อทำตามรหัสแล้วปรากฏว่าเขาหันหน้าไปทางทิศใต้ ดังนั้น เมื่อเริ่มเดินทาง เขาหันหน้าไปทางทิศใด
1. ทิศเหนือ
  2. ทิศใต้
  3. ทิศตะวันออก
  4. ทิศตะวันตก
40. วิจัยทำงานเร็วเป็น 2 เท่าของราตรี ถ้าหากราตรีทำงานชิ้นหนึ่งตามลำพังไปก่อน 3 ชั่วโมง แล้วหยุดให้วิจัยทำต่อคนเดียวอีก 7 ชั่วโมง จึงเสร็จงานพอดี จงหาว่าทั้งสองร่วมมือกันทำงานตั้งแต่เริ่ม จะใช้เวลานานกี่ชั่วโมงจึงจะเสร็จ
1.  $4\frac{1}{2}$  ชั่วโมง
  2.  $5\frac{2}{3}$  ชั่วโมง
  3.  $6\frac{3}{4}$  ชั่วโมง
  4.  $6\frac{2}{3}$  ชั่วโมง
41. ข้อใดเป็นคำประสม
1. นำหน้า
  2. พับคำ
  3. น้ำเย็น
  4. แม่สื่อ
42. ข้อใดไม่ใช่คำสนธิ
1. สุโขทัย
  2. ธันวาคม
  3. มนุษยศาสตร์
  4. ราโชบาย
43. ข้อใดเป็นพยางค์ปิด
1. รongเท้า
  2. กะปิ
  3. เดี่ยวคาย
  4. เหมือนพี่
44. คำซ้ำในข้อใดไม่เกิดจากคำซ้อน
1. เล็ก ๆ น้อย ๆ
  2. ไป ๆ มา ๆ
  3. รี ๆ ขวาง ๆ
  4. ข้าง ๆ คู ๆ
45. ข้อใดไม่มีคำที่มาจากภาษาบาลีหรือภาษาสันสกฤต
1. เราต้องใช้ภาษาไทยให้ถูกต้อง
  2. อย่าเลี้ยงลูกให้เป็นทวดา
  3. ชื่อของเขาอยู่ในทำเนียบรุ่น
  4. ภรรยาของเขาทำงานอยู่ที่นี่
46. ข้อใดเป็นคำซ้อน
1. คุ้นเคย
  2. ปลาบั้ง
  3. ยายม
  4. หอมฟุ้ง
47. คำอ่านในข้อใดถูกต้อง
1. ฉญาติกา อ่านว่า ยา-ติ-กา
  2. เดียรดาบ อ่านว่า เดีย-ระ-ดาบ
  3. ทระนง อ่านว่า ทะ-ระ-นง
  4. ทศนิยม อ่านว่า ทด-นิ-ยม



48. คุณครูอังคณาเป็นคน \_\_\_\_\_ ไม่ยอมใช้คอมพิวเตอร์เพราะไม่ชอบการเปลี่ยนแปลงอะไรใหม่ ๆ
1. คร่ำคร่า
  2. ปลาบึ้ง
  3. ทรวดโทรม
  4. มอซอ
49. “อากาศยัง \_\_\_\_\_ ไม่เท่าจิตใจคนที่ \_\_\_\_\_ ” ควรเติมคำในข้อใด
1. แปรปรวน, รวนเร
  2. ปรวนแปร, แน่นนอน
  3. ผันผวน, ป่วนปั่น
  4. แปรผัน, หั่นเห
50. นายคนนี่ถูกออกหมายจับในกรณีที่ถูกกล่าว \_\_\_\_\_ และให้ร้ายแก่ประธานศาลฎีกา
1. เกี่ยวข้อง
  2. พัวพัน
  3. พาดพิง
  4. เกี่ยวพัน
51. ข้อใดเป็นสำนวนต่างประเทศ
1. ผู้บริโภครอเมริกาเห็นว่าโยเกิร์ตที่ทำจากนมวัวมีรสชาติดีที่สุด
  2. การสื่อสารที่มุษย์เราต้องเกี่ยวข้องอยู่เป็นนิจ
  3. เขาราชเป็นย่านที่ปนเปื้อนไปด้วยมลพิษทางอากาศมากที่สุด
  4. ใจของมนุษย์มีความซับซ้อนเกินกว่าที่จะสัมผัสได้
52. คำขึ้นต้นในหนังสือราชการข้อใดใช้ถูกต้อง
1. เรียน นายกรัฐมนตรี
  2. กราบเรียน นายกรัฐมนตรี
  3. เรียน ฯพณฯ นายกรัฐมนตรี
  4. กราบเรียน ฯพณฯ นายกรัฐมนตรี
53. “พระสงฆ์ถวายอดิเรก” คำที่ขีดเส้นใต้หมายความว่าอย่างไร
1. บอกกล่าวล้าลาพระเจ้าแผ่นดิน
  2. บอกให้พระเจ้าแผ่นดินดำเนินภารกิจต่อไป
  3. ถวายสิ่งของต่าง ๆ แต่พระเจ้าอยู่หัว
  4. อวยชัย ถวายพระพรพระเจ้าแผ่นดิน
54. ข้อใดไม่มีคำภาษาพูด
1. ความเจริญทางเทคโนโลยีนำความแปลกใหม่มาสู่โลกใบเก่า
  2. การแปลได้หลายภาษาเอื้อประโยชน์ต่อการทำงานกับคนด้วยกัน
  3. ปัจจุบันชีวิตต้องแข่งขันกับเวลา อย่าเพิ่งอ่อนล้าล่าถอยไปเสียก่อน
  4. อิทธิพลภาษาอังกฤษแพร่เข้ามาทางการสื่อสารซึ่งต้องอาศัยเทคโนโลยี
55. “พื้นน้ำสีครามที่ลูกสายลมเย็นต้นเดือนมิถุนายนพัดผ่าน ทำให้น้ำเป็นระลอกคลื่นเล็ก ๆ กระทบหาดทรายครั้งแล้วครั้งเล่า เม็ดทรายสีขาวนวลละเอียดบิดตัวเป็นเกลียวเมื่อถูกกระแทกกระทั้น ม้วนอวยหายไปกับสายน้ำก่อนจะมีกระแสใหม่เวียนไปมา” ข้อความข้างต้นเป็นโวหารชนิดใด
1. พรรณนาโวหาร
  2. บรรยายโวหาร
  3. อุปมาโวหาร
  4. สาธกโวหาร

56. ข้อใดใช้สำนวนถูกต้อง

1. งานนี้มีอันตรายมากนะถ้าคุณเสี่ยงทำก็เหมือนจับเสือมือเปล่าเลยทีเดียวนะ
2. ทำงานหลายปีแล้วไม่รวยซักทีเก็บเงินได้ที่ละสิบเบี้ยใกล้มือนี้แหละ
3. ดึกแล้วกลับบ้านนอนกันดีกว่า เดี่ยวแวะมาบอกศาลาเจ้าภาพแล้วออกไปขึ้นรถ
4. ไม่มีใครเชื่อคนพูดกลับกลอกตลบทะแฉงอย่างนายคนนั้นหรือ ร้อยลั่นกะลางจะตายไป

57. สำนวนใดที่สร้างมาจากความเชื่อของคนไทย

1. วันโกนไม่ละ วันพระไม่เว้น
2. ซื่อควายหน้านา ซื่อผ้าหน้าหนาว
3. ตักน้ำใส่กะโหลก ชะ โง่กตุงเงา
4. น้ำร้อนปลาเป็น น้ำเย็นปลาตาย

58. ข้อใดมีวิธีการอ่านแบบเดียวกับคำว่า “กรมสมเด็จพระ”

1. กรมธรรม์
2. กรมหมื่น
3. กรมพระยา
4. กรมหลวง

59. ข้อใดเป็นประโยคความเดียว

1. นกและกบสู้กันกินซากกบ
2. แดงเจียบพันที่ที่เมียใช้ให้ไปซักผ้า
3. สุนัขสีดำพันทางยื่นตะมึนหน้าประตูทางเข้า
4. ทุกข้อที่กล่าวมา

60. ข้อใดมีภาพพจน์ชนิดอุปสรรคณ์

1. แลชีไคลใส่ตาบเป็นคราบคอ      ผ้าห่มห่อหมากตากแห้งตาเบงมาน
2. มายากเย็นเห็นแต่ผ้าแพรดำ      ใต้ห่มกรำกับกายไม่วายตรอม
3. อยู่บุรีนกินสำราญทั้งหวานเปรี้ยว      ตั้งแต่เที่ยวยากไร้มาไพรศรี
4. เดินกันดารปานปีมจะบรรลัย      จึงมาได้เห็นหน้าบิดาตัว

61. “โทษท่านผู้อื่นเพียง      เมล็ดงา

ปองตลินินินทา      ห่อนเว้น

โทษตนเท่าภูผา      หนักยิ่ง

ป้องปิดคิดซ่อนเร้น      เรื่องร้ายหายสูญ

สมเด็จพระยาเดชาดิศร”

จากข้อความนี้แสดงจุดประสงค์ใด

1. สั่งสอน
2. บอกกล่าว
3. ให้แง่คิด
4. แนะนำ

62. คำประพันธ์ข้อใดใช้ขึ้นต้นคำนำของเรียงความเรื่อง “หญิงไทยกับการรักนวลสงวนตัว” ได้
1. จะหาผู้สมนิยามหวัง จงระวังชั่วอัชฌาสัย
  2. จะสอนใจไว้ทุกสิ่งเป็นหญิงสาว ให้พ้นคาวข้าวชั่วเข้ามั่วสุ่ม
  3. เป็นสตรีมิใช่ชายเสียคาศักดิ์ จะปลุกรักเรรวนหาควรไม่
  4. จะมีคู่ก็ให้รู้ปรนนิบัติ จงซื้อสัตย์สุจริตจิตถนอม
63. ข้อใดแสดงค่านิยมต่างกับข้ออื่น
1. ถึงบางพุดพุดดีเป็นศรีศักดิ์ มีคนรักสรรร้อยอร่อยจิต
  2. เป็นมนุษย์สุดนิยมเพียงลมปาก จะได้ยากโหยหิวเพราะชีวา
  3. สักวาปากหวานอื่นมีหมิ่นแสน ไม่เหมือนมั่นพจมานที่หวานหอม
  4. อันอ้อยตาลหวานลิ้นแล้วสิ้นซาก แต่ลมปากหวานหูไม่รู้หาย
64. ทุกครั้งที่ได้เข้าชมพระที่นั่งจักรีมหาปราสาท สุคารู้สึกประทับใจเป็นพิเศษเมื่อได้เห็นภาพวาดสมเด็จพระนางเจ้าสุภัทรมหาราชเทวี
- คำราชาศัพท์ที่ถูกต้องสำหรับภาพวาดคือข้อใด
1. พระบรมรูป
  2. พระบรมฉายาลักษณ์
  3. พระบรมสาทิสลักษณ์
  4. พระบรมรูปฉายาลักษณ์
65. การเขียนจดหมายถึงพระภิกษุควรใช้คำขึ้นต้นและลงท้ายตามข้อใด
1. นมัสการ, ขอเจริญพรด้วยความเคารพ
  2. เจริญพร, ขอเจริญพรด้วยความเคารพ
  3. นมัสการ, ขอนมัสการด้วยความเคารพ
  4. เจริญพร, ขออาราธนาด้วยความเคารพ
66. ข้อใดใช้คำราชาศัพท์ผิด
- “พระบาทสมเด็จพระเจ้าอยู่หัวเสด็จออก ณ พระตำหนักจิตรลดารโหฐาน พระราชทานพระราชวโรกาสให้เอกอัครราชทูตเฝ้าทูลละอองธุลีพระบาท”
1. เสด็จออก
  2. พระราชทาน
  3. พระราชวโรกาส
  4. เฝ้าทูลละอองธุลีพระบาท
67. The speaker ..... the anger of his audience.
1. cited
  2. recoverd
  3. aroused
  4. refered
68. Something that added to make other things more beautiful is a \_\_\_\_.
1. ring
  2. watch
  3. ornament
  4. necklace

69. Some of the necessities of the life are food, shelter, and clothing.
1. luxuries
  2. wants
  3. essentials
  4. provisions
70. She \_\_\_\_\_ me to send a birthday card to my friend.
1. checked
  2. remembered
  3. succeeded
  4. remained
71. During the Miss world Contest, the contestants put on their national \_\_\_\_\_.
1. custom
  2. fabrics
  3. customs
  4. anthems
72. The custom of planting trees was ..... long ago.
1. moderated
  2. finished
  3. initialed
  4. revealed
73. You ..... a letter in an envelope.
1. enact
  2. degree
  3. enbloc
  4. enclose
74. The teacher ..... him to finish the test before time ran out.
1. opposed
  2. prompted
  3. modified
  4. qualified
75. He became ..... when he heard of his father's death.
1. convince
  2. concerned
  3. crucial
  4. confer
76. It takes patience to ..... Painful and trying situations.
1. approach
  2. collapse
  3. ambiguous
  4. endure
77. There was no news from her husband; \_\_\_\_\_ she went to hoping.
1. moreover
  2. nevertheless
  3. otherwise
  4. in the word
78. A great number of books are variable in the newly established Department store. But \_\_\_\_\_ Only a few we are interested in.
1. they are
  2. there are
  3. they have
  4. there have

79. She \_\_\_\_\_ in Phuket last week.

- 1. goes
- 2. went
- 3. will go
- 4. has gone

80. Please be quiet! The baby \_\_\_\_\_.

- 1. is sleeping
- 2. was sleeping
- 3. slept
- 4. sleeps

81. Mathematics and Ethics are very .....

- 1. interest
- 2. interested
- 3. has interested
- 4. interesting

82. My mom feels .....

- 1. upset
- 2. strongly
- 3. happily
- 4. sadly

83. Nane Kam spent the end of his life ..... at Lol.

- 1. happy
- 2. happier
- 3. happily
- 4. happiness

84. Tony is ..... tall ..... Than1.

- 1. as, as
- 2. so, as
- 3. more, tha
- 4. the, than

85. Tommy works ..... of all the students is our class.

- 1. most seriously
- 2. most serious
- 3. seriously
- 4. more seriously

86. \_\_\_\_\_ are biographies.

- 1. The books stacked on the two top shelves
- 2. The books on the top two shelves stacked
- 3. Stacked on the top two shelves books
- 4. The two top stacked shelves on the books

87. Give me that magazine, \_\_\_\_\_ ?

- 1. do you
- 2. need you
- 3. is she
- 4. isn't she

88. By the end of this year, all the students \_\_\_\_\_ their lessons.

- 1. will finish
- 2. will be finished
- 3. will have finished
- 4. will have been finished

89. The doctors could not save the patient. They \_\_\_\_\_ if he \_\_\_\_\_ to the hospital earlier.

1. could have saved \_\_\_\_\_ was brought
2. could \_\_\_ had been brought
3. could have saved him \_\_\_ had brought
4. could have saved him \_\_\_ had been brought

90. A : This problem is very easy. Anyone can solve it.

B : I can't. It's too \_\_\_\_\_.

1. puzzling to me
2. puzzled to solve
3. puzzling to be solved
4. puzzled for me to be solved

91. A : Have you finish you work?

B : No , I haven't and \_\_\_\_\_.

1. she has not too
2. neither she has
3. neither has she
4. she has either

92. My friend was reading when I knocked at the door. When he heard me, he stopped \_\_\_\_\_.

1. reading and opening the door
2. reading to open the door
3. to read and to open the door
4. to read to open the door

93. Mr. Henry already has three cars and now he has bought \_\_\_\_\_.

1. another
2. the other
3. any other
4. other

94. Our teacher told us to write ..... in an exercise book.

1. assign
2. assigned
3. assignment
4. assigns

95. I didn't see Mr.black at the clun. If he had been there. I \_\_\_\_\_ him.

1. would meet
2. could meet
3. will have meet
4. would have met

96. He always \_\_\_\_\_ at six o'clock in the morning.

- |                  |           |
|------------------|-----------|
| 1. gets up       | 2. get up |
| 3. is getting up | 4. got up |

97. Student A : Our school is very dirty .....

Student B : I think so.

- |                                |                                    |
|--------------------------------|------------------------------------|
| 1. Everyone should not litter. | 2. Do you mind stopping littering. |
| 3. Stop littering.             | 4. Will you stop littering.        |

98. Mr. Arm said, "Hold the line."

- |                         |                              |
|-------------------------|------------------------------|
| 1. Wait a minute.       | 2. Take the telephone line.  |
| 3. Grab the phone book. | 4. Press down the telephone. |

99. Joe : Have you ever been to Songkhla?

Jim : \_\_\_\_\_.

- |                                 |                       |
|---------------------------------|-----------------------|
| 1. It's quite far from Bangkok. | 2. I love travelling. |
| 3. Yes, twice this year.        | 4. Yes, who are you?  |

A journalist telephoned the commander's office.

Journalist : May I speak to the general, please?

100. Situation : At the shop.

A salesgirl : Here's your change.

A customer : thank you.

A salesgirl : .....

- |                   |                       |
|-------------------|-----------------------|
| 1. Good bye.      | 2. Good luck.         |
| 3. See you again. | 4. Please come again. |

101. On the sidewalk : A foreigner wanted to find the way to Wat Po.

Nathan : 101 ?

1. Excuse me.
2. This is the bus to Wat Po.
3. Hello. Can I help you, sir?
4. This is the best way to Wat Po.

## Reading Comprehension

On the day of big annual sale, a huge queue had formed at the entrance to a department store. Some people had even camped out overnight for a good spot.

Just before opening time, a small man tried to push his way to front of the line, only to be pushed amid loud and colorful curses, On the man's second attempt, he has punched in the jaw, knocked around a bit and thrown to the back of the queue again.

As he readied himself for his third attempt, he told the person ahead of him "If you hit me one more time, I'm not opening the store."

102. The sale mentioned in the passage is held \_\_\_\_\_

- |                |                |
|----------------|----------------|
| 1. for a week  | 2. once a year |
| 3. every month | 4. at weekends |

103. "Some people" (line 2) refers to \_\_\_\_\_

- |                 |               |
|-----------------|---------------|
| 1. shoppers     | 2. spectators |
| 3. shareholders | 4. salesmen   |

104. The word "colorful" (line 4) could best be replaced by \_\_\_\_\_

- |                  |                  |
|------------------|------------------|
| 1. multi-colored | 2. bright        |
| 3. expressive    | 4. fast-changing |

105. The people waiting are \_\_\_\_\_

- |                |               |
|----------------|---------------|
| 1. dependable  | 2. caring     |
| 3. indifferent | 4. aggressive |

106. The small man wanted to \_\_\_\_\_

- |                          |                   |
|--------------------------|-------------------|
| 1. be rude to customers  | 2. start the sale |
| 3. be the first customer | 4. start a fight  |

107. ฐานข้อมูลคืออะไร

1. การเก็บรวบรวมข้อมูลที่มีความสัมพันธ์กันไว้ในที่เดียวกัน
2. การสร้าง เรียกใช้ ปรับปรุงฐานข้อมูล
3. เป็นตัวกลางในการติดต่อระหว่าง User และ Database
4. ไม่มีข้อใดถูก

108. ข้อใดเป็นเครื่องคอมพิวเตอร์ขนาดเล็กที่สุด

- |                        |                         |
|------------------------|-------------------------|
| 1. มินิคอมพิวเตอร์     | 2. ไมโครคอมพิวเตอร์     |
| 3. โน้ตบุ๊กคอมพิวเตอร์ | 4. ปาล์มท็อปคอมพิวเตอร์ |



109. ไมโครคอมพิวเตอร์ที่มีขนาดและความหนาน้อย มีน้ำหนักประมาณ 1.5 – 3 กิโลกรัม จอภาพใช้เป็นแบบแบนราบมีทั้งแสดงผลแบบสีเดียวและแบบหลายสี หมายถึงข้อใด
1. โน้ตบุ๊กคอมพิวเตอร์
  2. แล็ปท็อปคอมพิวเตอร์
  3. คอมพิวเตอร์แบบตั้งโต๊ะ
  4. ปาล์มท็อปคอมพิวเตอร์
110. ซอฟต์แวร์คอมพิวเตอร์คืออะไร
1. อุปกรณ์ที่ประกอบขึ้นเป็นคอมพิวเตอร์
  2. โปรแกรมหรือชุดคำสั่งให้คอมพิวเตอร์ทำงาน
  3. เครื่องจักรอิเล็กทรอนิกส์ที่ส่งให้คอมพิวเตอร์ทำงาน
  4. ระบบโปรแกรมการทำงาน
111. การวัดขนาดข้อมูล 8 Bit มีค่าเท่ากับ
1. 10 Byte
  2. 100 Byte
  3. 1 Byte
  4. 1024 Byte
112. ข้อใดคือการสร้างภาพเสมือนจริงหรือภาพจำลองเหตุการณ์โดยระบบคอมพิวเตอร์
1. Expert System
  2. Visual System
  3. Natural Language
  4. Artificial Intelligence
113. ข้อใดไม่ใช่ข้อจำกัดของระบบผู้เชี่ยวชาญ
1. ทางแก้ปัญหาที่หลากหลาย
  2. ค่าใช้จ่ายสูง
  3. ยากที่จะรวบรวมความรู้จากผู้เชี่ยวชาญ
  4. ปรับปรุงบริการลูกค้า
114. ข้อใดกล่าวถึงความสามารถของ Robotics ไม่ถูกต้อง
1. ผลิตรถยนต์
  2. ผ่าตัดคนไข้
  3. สำนวนดาวอังคาร
  4. ตัดสินใจแทนผู้บริหาร
115. ฟังก์ชันการค้นหาข้อมูลจากคอลัมน์แรก คืออะไร
1. HLOOKUP
  2. VLOOKUP
  3. OFFSET
  4. MATCH
116. ข้อใดคือฮาร์ดแวร์
1. นักโปรแกรมคอมพิวเตอร์
  2. โปรแกรมไมโครซอฟต์แวร์
  3. เครื่องไมโครคอมพิวเตอร์
  4. โปรแกรมไมโครซอฟต์แวร์วินโดวส์
117. โดเมนเนม นามสกุล .com มีความหมายคืออะไร
1. สำหรับกลุ่มองค์กรนักศึกษา
  2. สำหรับกลุ่มองค์กรค้า
  3. สำหรับกลุ่มองค์กรทหาร
  4. สำหรับกลุ่มองค์กรรัฐบาล

118. โดเมนเนม นามสกุล .edu มีความหมายคืออะไร
1. สำหรับกลุ่มองค์กรนักศึกษา
  2. สำหรับกลุ่มองค์กรค้า
  3. สำหรับกลุ่มองค์กรทหาร
  4. สำหรับกลุ่มองค์กรรัฐบาล
119. อินเทอร์เน็ตเริ่มต้นจากหน่วยในข้อใด
1. ทหาร
  2. การแพทย์
  3. วิทยาศาสตร์
  4. เทคโนโลยีสารสนเทศ
120. ประเทศใดเป็นชาติแรกในการพัฒนาระบบอินเทอร์เน็ต
1. จีน
  2. ญี่ปุ่น
  3. สหรัฐอเมริกา
  4. สวิตเซอร์แลนด์
121. สิ่งใดคือ ซอฟต์แวร์
1. โปรแกรมคอมพิวเตอร์
  2. เครื่องคอมพิวเตอร์
  3. จอภาพ
  4. แป้นพิมพ์และเมาส์คลิก
122. บุคคลกลุ่มใดที่มีอิทธิพลต่อการพัฒนาเทคโนโลยีมากที่สุด
1. โปรแกรมเมอร์
  2. นักวิเคราะห์ระบบ
  3. ผู้ใช้คอมพิวเตอร์
  4. นักการเมือง
123. ขั้นตอนสำคัญที่สุดในการพัฒนาสารสนเทศคือข้อใด
1. ขั้นตอนการจัดเตรียมอุปกรณ์ และ โปรแกรมคอมพิวเตอร์
  2. ขั้นตอนการเปลี่ยนไปใช้คอมพิวเตอร์
  3. ขั้นศึกษาหลังการใช้
  4. ขั้นวิเคราะห์โครงสร้าง
124. อินเทอร์เน็ตเกิดขึ้นครั้งแรกที่ประเทศใด
1. เดนมาร์ก
  2. อิตาลี
  3. สหรัฐอเมริกา
  4. ฝรั่งเศส
125. อุปกรณ์ใดต่อไปนี้เป็นหน่วยรับ (Input unit) ของคอมพิวเตอร์
1. RAM
  2. ROM
  3. Scanner
  4. Monitor
126. อะไรไม่เป็น ฮาร์ดแวร์ (Hardware) ทางคอมพิวเตอร์
1. CD-ROM
  2. RAM
  3. Accounting program
  4. Harddisk
127. การใส่เลขหน้าให้กับเอกสาร ให้เลือกจากข้อใด
1. Home
  2. Insert
  3. Page layout
  4. ปุ่ม Office

128. หากต้องการเลือกชนิดตัวอักษรให้เลือกจากที่ใด

1. Home
2. Insert
3. Page layout
4. ปุ่ม Office

129. Ctrl+U คือคำสั่งใด

1. ทำตัวอักษรเอียง
2. ทำตัวอักษรหนา
3. สร้างเพิ่มเอกสารใหม่
4. ทำตัวอักษรขีดเส้นใต้

130. อุปกรณ์คอมพิวเตอร์ประกอบด้วยกี่ส่วน

1. 2 ส่วน
2. 3 ส่วน
3. 4 ส่วน
4. 5 ส่วน

131. คอมพิวเตอร์ประเภทใดที่ปัจจุบันใช้งานมากที่สุด

1. ซูเปอร์คอมพิวเตอร์
2. เมนเฟรมคอมพิวเตอร์
3. มินิคอมพิวเตอร์
4. ไมโครคอมพิวเตอร์

132. กรุงเทพมหานครและเมืองพัทยาบริหารราชการแผ่นดินแบบใด

1. ราชการส่วนกลาง
2. ราชการส่วนภูมิภาค
3. ราชการส่วนท้องถิ่น
4. ราชการส่วนท้องถิ่นที่มีลักษณะเขตการปกครองพิเศษ

133. ข้อใดกล่าวถึงการบรรลุนิติภาวะของผู้เยาว์ไม่ถูกต้อง

1. เมื่ออายุครบ 20 ปี
2. เมื่อสมรสที่อายุ 17 ปี โดยที่ผู้ปกครองให้ความยินยอม
3. อายุไม่ถึง 17 ปี แต่ศาลอนุญาตให้ทำการสมรสกัน
4. เมื่อบรรลุนิติภาวะด้านการสมรสแล้ว ต่อมาหย่ากันขณะที่อายุยังไม่ถึง 20 ปี จะกลับมาเป็นผู้เยาว์อีก

134. ประเทศใดปกครองระบอบประชาธิปไตยโดยประเทศแรกของโลก

1. อังกฤษ
2. ฝรั่งเศส
3. กรีซ
4. สหรัฐอเมริกา

135. กฎหมายใดมีศักดิ์สูงกว่าพระบรมราชโองการของพระมหากษัตริย์

1. พระราชกำหนด
2. พระราชบัญญัติ
3. รัฐธรรมนูญ
4. พระราชกฤษฎีกา

136. ข้อใดถูกต้อง

1. ประเทศไทยใช้ระบบศาลเดี่ยว
2. ศาลทหารมีชั้นเดียว ไม่สามารถอุทธรณ์ฎีกาได้
3. ศาลฎีกา ปัจจุบัน ไม่มีศาลอุทธรณ์
4. ศาลฎีกา มีศักดิ์สูงกว่ารัฐธรรมนูญ

137. ข้อถูกต้องเกี่ยวกับการตาย

1. กรณีคนตายในบ้าน ให้เจ้าบ้านแจ้งตายภายใน 24 ชั่วโมงนับแต่เวลาตาย
2. กรณีคนตายในบ้านและไม่มีเจ้าบ้าน ให้ผู้พบศพแจ้งตายภายใน 24 ชั่วโมงนับแต่เวลาพบศพ
3. กรณีคนตายนอกบ้าน ให้บุคคลที่ไปกับผู้ตายหรือผู้พบศพแจ้งตาย
4. ถูกทุกข้อ

138. นายชันอายุ 40 ปีผู้รับบุตรบุญธรรม ได้จดทะเบียนกับนางสาวทองกวาวอายุ 25 ปีบุตรบุญธรรมของตน เช่นนี้การสมรสนั้นมีผลทางกฎหมายอย่างไร

1. สมบูรณ์
2. โมฆียะ
3. โมฆะ
4. ขึ้นอยู่กับดุลยพินิจ

139. โทษทางอาญามีกี่สถาน

1. 3 สถาน
2. 4 สถาน
3. 5 สถาน
4. 6 สถาน

140. นายขมราชจ้างมือปืนไปยิงนายเอกให้ตาย มือปืนรับเงินแล้วแต่กลับไปวางยาพิษให้นายเอกกินและถึงแก่ความตาย ดังนี้ นายขมราช

1. ไม่มีความผิดเพราะไม่ได้ใช้ให้วางยาพิษ
2. มีความผิดฐานเป็นผู้ใช้รับโทษ 1 ใน 3
3. เป็นผู้ใช้รับโทษเสมือนตัวการ
4. เป็นผู้สนับสนุน

141. กฎหมายใดมีความสำคัญสูงสุดในการบริหารราชการแผ่นดินซึ่งกฎหมายอื่นจะบัญญัติขัดหรือแย้งไม่ได้

1. กฎหมายปกครอง
2. กฎหมายมหาชน
3. รัฐธรรมนูญ
4. พระราชกำหนด

142. พระลัทธิตถะตรัสรู้เป็นพระพุทธเจ้าวิธีใด

1. อคอาหาร
2. เข้าญาณสมาบัติ
3. บำเพ็ญทุกขกิริยา
4. บำเพ็ญเพียรทางจิต

143. พระพุทธศาสนาได้ประดิษฐานในดินแดนใดเป็นแห่งแรก

1. เมืองพาราณสี แคว้นกาฬิ
  2. เมืองราชคฤห์ แคว้นมคธ
  3. เมืองกุสินารา แคว้นมัลละ
  4. เมืองกบิลพัสดุ์ แคว้นสักกะ
144. ธรรมข้อใด คือธรรมค้ำจุนโลก
1. พรหมวิหาร 4
  2. หิริ โอตตัปปะ
  3. ทิศ 6
  4. ทศพิธราชธรรม
145. คุณธรรมข้อใด เป็นไปเพื่อสันติภาพ
1. เมตตา กรุณา
  2. ซื่อสัตย์
  3. ศรัทธา
  4. เสียสละประโยชน์ส่วนตน
146. “มาแล้วจับ ถูกจับ ปรับแน่” โครงการนี้ต้องการรณรงค์ให้คนขับรถมีสติ ซึ่งตรงกับหลักปฏิบัติในหลักธรรมข้อใด
1. พละ 5
  2. ภาวนา 4
  3. วุฒิธรรม 4
  4. อุบาสกธรรม 5
147. ข้อใดไม่ใช่หลักการพึ่งตนเองตามแบบเศรษฐกิจพอเพียง
1. มีจิตสำนึกที่ดี
  2. พัฒนาเทคโนโลยีจากภูมิปัญญาชาวบ้าน
  3. ยึดหลักพออยู่พอกิน
  4. ปรับทิศทางใหม่ในการเพิ่มรายจ่าย
148. การข่มใจตนเอง ให้ประพฤติดูในความสัตย์ ความดี ตรงกับฆราวาสธรรมข้อใด
1. สัจจะ
  2. ทมะ
  3. ขันติ
  4. จาคะ
149. “บุญเขต” หมายถึงใคร
1. พระสงฆ์
  2. พระพุทธเจ้า
  3. พระมหากษัตริย์
  4. ทุกข้อที่กล่าวมา
150. ครูบาอาจารย์ เปรียบเสมือนทศใดในทศทั้ง 6
1. เบื้องหน้า
  2. เบื้องบน
  3. เบื้องขวา
  4. ทุกข้อที่กล่าวมา

### แบบประเมินตนเอง สายปราบปราม

วิชา	ข้อ	ทำได้	คิดเป็นเปอร์เซ็นต์	หมายเหตุ
1. ความสามารถทั่วไป	40		$\frac{\quad}{40} \times 100 = \underline{\quad}$	
2. ภาษาไทย	25		$\frac{\quad}{25} \times 100 = \underline{\quad}$	
3. ภาษาต่างประเทศ (ภาษาอังกฤษ)	40		$\frac{\quad}{40} \times 100 = \underline{\quad}$	
4. เทคโนโลยีสารสนเทศ	25		$\frac{\quad}{25} \times 100 = \underline{\quad}$	
5. กฎหมายที่ประชาชนควรรู้	10		$\frac{\quad}{10} \times 100 = \underline{\quad}$	
6. สังคม วัฒนธรรม จริยธรรม	10		$\frac{\quad}{10} \times 100 = \underline{\quad}$	
รวม	150		$\frac{\quad}{150} \times 100 = \underline{\quad}$	

### แบบประเมินเชิงเส้น

(คะแนนที่ได้)



ช่องใส่คะแนน

0	1	2	3	4	5	6	7	8	9	10
---	---	---	---	---	---	---	---	---	---	----

NINE100.COM

ทดสอบความรู้ความสามารถ ด้วยวิธีสอบข้อเขียน ข้อสอบปรนัย 4 ตัวเลือก

เฉลยข้อสอบชุดที่ 6

1	3.	26	4.	51	3.	76	4.	101	3.	126	3.
2	4.	27	2.	52	2.	77	3.	102	2.	127	2.
3	1.	28	1.	53	4.	78	2.	103	1.	128	1.
4	3.	29	2.	54	4.	79	2.	104	3.	129	4.
5	4.	30	4.	55	1.	80	1.	105	4.	130	3.
6	4	31	2.	56	4.	81	4.	106	4.	131	4.
7	2.	32	1.	57	1.	82	1.	107	1.	132	4.
8	4.	33	1.	58	3.	83	3.	108	4.	133	4.
9	4.	34	3.	59	3.	84	1.	109	2.	134	3.
10	2.	35	3.	60	1.	85	1.	110	2.	135	3.
11	3.	36	4.	61	3.	86	1.	111	3.	136	3.
12	1.	37	4.	62	2.	87	2.	112	2.	137	4.
13	3.	38	1.	63	2.	88	3.	113	4.	138	1.
14	3.	39	1.	64	3.	89	4.	114	4.	139	3.
15	1.	40	2.	65	3.	90	3.	115	2.	140	3.
16	2.	41	4.	66	3.	91	3.	116	3.	141	3.
17	2.	42	3.	67	3.	92	2.	117	2.	142	4.
18	1.	43	2.	68	3.	93	1.	118	1.	143	1.
19	2.	44	4.	69	3.	94	3.	119	1.	144	2.
20	4.	45	3.	70	1.	95	4.	120	3.	145	1.
21	3.	46	1.	71	3.	96	1.	121	1.	146	1.
22	3.	47	2.	72	3.	97	1.	122	3.	147	4.
23	2.	48	2.	73	4.	98	1.	123	1.	148	2.
24	4.	49	1.	74	2.	99	3.	124	3.	149	1.
25	1.	50	3.	75	2.	100	4.	125	3.	150	3.



# กระดาษคำตอบ

**NINE100.COM**

## คำแนะนำ

- ใช้ดินสอดำ 2B ขึ้นไป ระบายวงกลมทุกวงที่ต้องการให้คำตอบ
- ถ้าต้องการแก้ไข ให้ใช้ยางลบให้สะอาดก่อน จึงระบายวงใหม่
- ห้ามขีดเขียนสิ่งอื่นใดนอกเหนือจากที่ระบุไว้

## ตัวอย่าง

- ① ② ③ ● ← ถูกวิธี  
① ② ③ ◐ ← ผิดวิธี  
① ⊗ ③ ● ← ผิดวิธี  
① ② ③ ④ ← ผิดวิธี

1 ① ② ③ ④	26 ① ② ③ ④	51 ① ② ③ ④	76 ① ② ③ ④	101 ① ② ③ ④	126 ① ② ③ ④
2 ① ② ③ ④	27 ① ② ③ ④	52 ① ② ③ ④	77 ① ② ③ ④	102 ① ② ③ ④	127 ① ② ③ ④
3 ① ② ③ ④	28 ① ② ③ ④	53 ① ② ③ ④	78 ① ② ③ ④	103 ① ② ③ ④	128 ① ② ③ ④
4 ① ② ③ ④	29 ① ② ③ ④	54 ① ② ③ ④	79 ① ② ③ ④	104 ① ② ③ ④	129 ① ② ③ ④
5 ① ② ③ ④	30 ① ② ③ ④	55 ① ② ③ ④	80 ① ② ③ ④	105 ① ② ③ ④	130 ① ② ③ ④
6 ① ② ③ ④	31 ① ② ③ ④	56 ① ② ③ ④	81 ① ② ③ ④	106 ① ② ③ ④	131 ① ② ③ ④
7 ① ② ③ ④	32 ① ② ③ ④	57 ① ② ③ ④	82 ① ② ③ ④	107 ① ② ③ ④	132 ① ② ③ ④
8 ① ② ③ ④	33 ① ② ③ ④	58 ① ② ③ ④	83 ① ② ③ ④	108 ① ② ③ ④	133 ① ② ③ ④
9 ① ② ③ ④	34 ① ② ③ ④	59 ① ② ③ ④	84 ① ② ③ ④	109 ① ② ③ ④	134 ① ② ③ ④
10 ① ② ③ ④	35 ① ② ③ ④	60 ① ② ③ ④	85 ① ② ③ ④	110 ① ② ③ ④	135 ① ② ③ ④
11 ① ② ③ ④	36 ① ② ③ ④	61 ① ② ③ ④	86 ① ② ③ ④	111 ① ② ③ ④	136 ① ② ③ ④
12 ① ② ③ ④	37 ① ② ③ ④	62 ① ② ③ ④	87 ① ② ③ ④	112 ① ② ③ ④	137 ① ② ③ ④
13 ① ② ③ ④	38 ① ② ③ ④	63 ① ② ③ ④	88 ① ② ③ ④	113 ① ② ③ ④	138 ① ② ③ ④
14 ① ② ③ ④	39 ① ② ③ ④	64 ① ② ③ ④	89 ① ② ③ ④	114 ① ② ③ ④	139 ① ② ③ ④
15 ① ② ③ ④	40 ① ② ③ ④	65 ① ② ③ ④	90 ① ② ③ ④	115 ① ② ③ ④	140 ① ② ③ ④
16 ① ② ③ ④	41 ① ② ③ ④	66 ① ② ③ ④	91 ① ② ③ ④	116 ① ② ③ ④	141 ① ② ③ ④
17 ① ② ③ ④	42 ① ② ③ ④	67 ① ② ③ ④	92 ① ② ③ ④	117 ① ② ③ ④	142 ① ② ③ ④
18 ① ② ③ ④	43 ① ② ③ ④	68 ① ② ③ ④	93 ① ② ③ ④	118 ① ② ③ ④	143 ① ② ③ ④
19 ① ② ③ ④	44 ① ② ③ ④	69 ① ② ③ ④	94 ① ② ③ ④	119 ① ② ③ ④	144 ① ② ③ ④
20 ① ② ③ ④	45 ① ② ③ ④	70 ① ② ③ ④	95 ① ② ③ ④	120 ① ② ③ ④	145 ① ② ③ ④
21 ① ② ③ ④	46 ① ② ③ ④	71 ① ② ③ ④	96 ① ② ③ ④	121 ① ② ③ ④	146 ① ② ③ ④
22 ① ② ③ ④	47 ① ② ③ ④	72 ① ② ③ ④	97 ① ② ③ ④	122 ① ② ③ ④	147 ① ② ③ ④
23 ① ② ③ ④	48 ① ② ③ ④	73 ① ② ③ ④	98 ① ② ③ ④	123 ① ② ③ ④	148 ① ② ③ ④
24 ① ② ③ ④	49 ① ② ③ ④	74 ① ② ③ ④	99 ① ② ③ ④	124 ① ② ③ ④	149 ① ② ③ ④
25 ① ② ③ ④	50 ① ② ③ ④	75 ① ② ③ ④	100 ① ② ③ ④	125 ① ② ③ ④	150 ① ② ③ ④

## NINE100.COM

ทดสอบความรู้ความสามารถ ด้วยวิธีสอบข้อเขียน ข้อสอบปรนัย 4 ตัวเลือก

1. ถ้า  $\frac{1}{2} + \frac{2}{3} + \frac{3}{x} = 6$  แล้ว x มีค่าเท่าใด

1. 2

2. 4

3. 9

4. 9

2. กำหนด  $A = \{20202\}$  แล้วข้อใดถูก

1.  $2 \in A$

2. A สมาชิก 1 ตัว

3.  $\{20202\} \in A$

4. ถูกทั้งข้อ 2. และข้อ 3.



3. เลขหลักหน่วยของ  $7^{2557}$  มีค่าตรงกับข้อใด

1. 1

2. 3

3. 5

4. 7

4. จากรูปดังกล่าวพิจารณาว่า รูปที่ 100 จะมี  มากกว่า  ทั้งหมดกี่รูป



รูปที่ 1



รูปที่ 2



รูปที่ 3

1. 97

2. 99

3. 101

4. 103

5. ค่าของ  $10^{15} \times 9^7$  เป็นกี่เท่าของ  $15^{14} \times 8^5$

1. 5

2. 6

3. 7

4. 8

6. ถ้า  $\frac{A}{B} = \frac{4}{5}$  แล้ว  $2A + B$  มีค่าเท่าใด

1. 14

2. 13

3. 3

4. มีคำตอบที่ถูกต้องมากกว่า 1 ข้อ

7. ถังน้ำทรงสี่เหลี่ยมมุมฉาก กว้าง 25 เซนติเมตร ยาว 40 เซนติเมตร สูง 34 เซนติเมตร มีน้ำบรรจุอยู่

$\frac{3}{4}$  ของถัง จะต้องเติมน้ำอีกกี่ลิตร จึงจะเต็มถังพอดี

1. 8.5

2. 9.5

3. 85

4. 95

8. เชือกเส้นหนึ่งนำมาทำเป็นวงกลม จะได้เส้นผ่านศูนย์กลาง 7 นิ้ว ถ้านำเชือกเส้นนี้มาทำเป็นรูปสี่เหลี่ยมจัตุรัส อยากทราบว่าจะได้รูปสี่เหลี่ยมจัตุรัสมีพื้นที่กี่ตารางนิ้ว

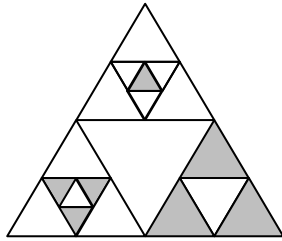
1. 5.5

2. 30.25

3. 49

4. 484

9. สามเหลี่ยมทุกรูปเป็นรูปสามเหลี่ยมด้านเท่า แล้วข้อใดคืออัตราส่วนพื้นที่ที่แรเงาต่อพื้นที่สามเหลี่ยมที่ใหญ่ที่สุด



- |                  |                   |
|------------------|-------------------|
| 1. $\frac{1}{3}$ | 2. $\frac{3}{16}$ |
| 3. $\frac{1}{4}$ | 4. $\frac{4}{15}$ |

10. บุษบามีพี่สองคน ในปัจจุบันพี่ทั้งสองคนมีอายุมากกว่าบุษบา 5 ปีและ 8 ปี ตามลำดับ และใน 3 ปีข้างหน้า นำอายุของคนทั้งสามมารวมกันจะได้ 67 ปี ปัจจุบันพี่คนโตอายุกี่ปี

1. 20                      2. 23                      3. 26                      4. 32

11. ถ้า  $5(x - \frac{7}{5}) > 9x + 13$  แล้ว X ตรงกับข้อใด

- |                                |                                 |
|--------------------------------|---------------------------------|
| 1. จำนวนทุกจำนวนที่มากกว่า - 5 | 2. จำนวนทุกจำนวนที่มากกว่า 5    |
| 3. จำนวนทุกจำนวนที่น้อยกว่า 5  | 4. จำนวนทุกจำนวนที่น้อยกว่า - 5 |

12. ถ้าผู้ใหญ่ 9 คน และเด็ก 6 คน ทำงาน 2 วัน ได้งานเท่ากับผู้ใหญ่ 5 คน และเด็ก 7 คน ทำงาน 3 วัน อยากทราบว่า ถ้าผู้ใหญ่ 2 คน และเด็ก 5 คน ทำงานจำนวนเดียวกันนั้นกี่วันจึงจะแล้วเสร็จ

1. 6                      2. 7                      3. 8                      4. 9

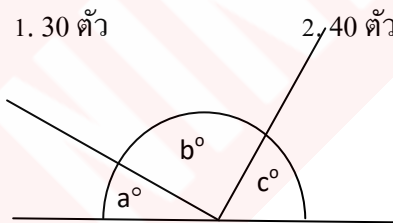
13. กรวยกลม ถูกตัดส่วนยอดแหลมออกไป เหลือปริมาตร 9152 ลูกบาศก์นิ้ว เส้นผ่านศูนย์กลางหน้าตัด 8 นิ้ว เส้นผ่านศูนย์กลางฐานล่าง 24 นิ้ว จงหาความสูงกรวยกลมที่เหลือ

1. 14 นิ้ว                      2. 42 นิ้ว                      3. 36 นิ้ว                      4. 63 นิ้ว

14. นกและควายอยู่รวมกันนับหัวของสัตว์ทั้งสองได้ 110 หัว แต่ถ้านับขา รวมกันได้ 300 ขา อยากทราบว่า มีควายกี่ตัว

1. 30 ตัว                      2. 40 ตัว                      3. 50 ตัว                      4. 55 ตัว

15.



จากรูป  $a : b : c = 1 : 3 : 2$  แล้ว b มีค่าเท่าใด

1.  $50^{\circ}$                       2.  $60^{\circ}$                       3.  $90^{\circ}$                       4.  $120^{\circ}$

16. เหล้าผสม 15 ลิตร มีแอลกอฮอล์ 20% หากเอาน้ำเปล่าเติมลงไป 5 ลิตร ความเข้มข้นของแอลกอฮอล์เป็นร้อยละเท่าไร

1. ร้อยละ 10                      2. ร้อยละ 15                      3. ร้อยละ 20                      4. ร้อยละ 25

17. นักเรียนมัธยมศึกษาชั้นปีที่ 4 ของโรงเรียนแห่งหนึ่งมี 400 คน ในจำนวนนี้มีผู้ลงทะเบียนเรียนวิชาคณิตศาสตร์ 225 คน และลงทะเบียนเรียนวิชาภาษาอังกฤษ 240 คน ถ้ามีนักเรียนที่ไม่ลงทะเบียนเรียนวิชาคณิตศาสตร์และไม่ลงทะเบียนเรียนวิชาภาษาอังกฤษ 50 คน แล้วจำนวนนักเรียนที่ลงทะเบียนเรียนวิชาคณิตศาสตร์และไม่ลงทะเบียนเรียนวิชาภาษาอังกฤษเท่ากับข้อใดต่อไปนี้

1. 110 คน                      2. 115 คน                      3. 120 คน                      4. 125 คน

18. 20% ของ 60 เป็น 6% ของจำนวนใด

1. 150                              2. 160                              3. 180                              4. 200

19. ทุนของการเลี้ยงไก่เป็นเท่าครึ่งของทุนของการเลี้ยงเป็ด เมื่อนำทั้งไก่และเป็ดไปขายปรากฏว่าขายไก่ได้กำไร 20% และขายเป็ดได้กำไร 25% ดังนั้นขายทั้งไก่และเป็ดได้กำไรกี่%

1. 20%                              2. 22%                              3. 24%                              4. 28%

20. ราคาน้ำมันลดลง 25% ถูกนำมาเติมน้ำมันเพิ่มขึ้น 30% รายได้จะเป็นอย่างไร

1. รายได้รวมเพิ่มขึ้น 2%                              2. รายได้รวมลดลง 2%  
3. รายได้รวมเพิ่มขึ้น 2.5%                              4. รายได้รวมลดลง 2.5%

21. นายเจียมมีเงินมากกว่านายขาว 25% ดังนั้น นายขาวจะมีเงินน้อยกว่านายเจียมกี่%

1. 25%                              2. 20%                              3. 15%                              4. ไม่มีข้อใดถูก

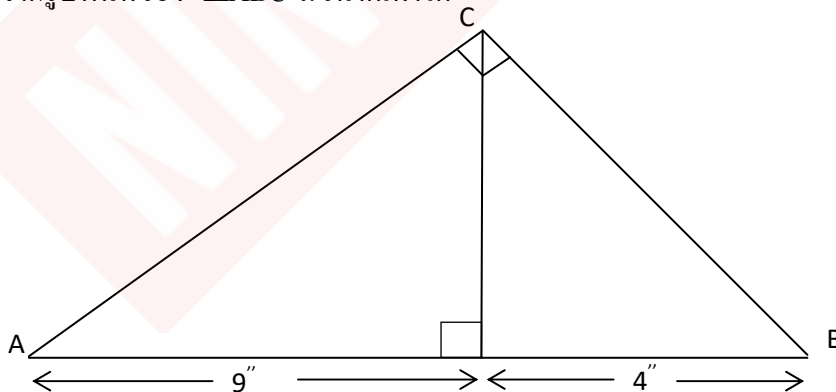
22. ตำรวจ 3 นาย ถูกถามคำถามซึ่งคำตอบคือไม่ครับ หรือใช่ครับ จงหาความน่าจะเป็นจะมีตำรวจตอบใช่ครับ 2 นาย

1.  $\frac{2}{5}$                               2.  $\frac{1}{8}$                               3.  $\frac{2}{8}$                               4.  $\frac{3}{8}$

23. จากลำดับ 100, 97, 94, 91, ..., 10 มีทั้งหมดกี่พจน์

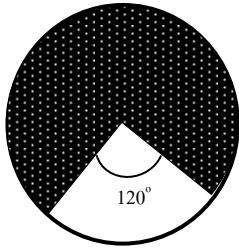
1. 30                              2. 31                              3. 32                              4. 33

24. จากรูปพื้นที่ของ  $\triangle ABC$  มีขนาดเท่าใด



1. 24 ตร.นิ้ว                      2. 32 ตร.นิ้ว                      3. 39 ตร.นิ้ว                      4. 45 ตร.นิ้ว

25.



รัศมีวงกลม 21 หน่วย จงหาพื้นที่แรเงา

1. 520 ตารางหน่วย                      2. 900 ตารางหน่วย  
3. 560 ตารางหน่วย                      4. 924 ตารางหน่วย

26. ในการแข่งขันวิ่ง 100 เมตร ก วิ่งชนะ ข 10 เมตร ชนะ ค 5 เมตร ในการแข่งขันวิ่ง 190 เมตร ระหว่าง ข และ ค ผลจะเป็นอย่างไร

1. ข ชนะ ค 10 เมตร                      2. ข ชนะ ค 5 เมตร  
3. ค ชนะ ข 10 เมตร                      4. ค ชนะ ข 5 เมตร

27. 1. และ 2. ช่วยกันทำงานอย่างหนึ่งจะเสร็จใน 6 วัน ถ้า 1. ทำงานเสร็จเร็วกว่า 2. 5 วัน อยากทราบว่า 1. ทำงานนี้คนเดียวจะเสร็จในกี่วัน

1. 10                      2. 12                      3. 15                      4. 18

28. รถจักรยานคันหนึ่ง ล้อหน้ามีรั้ว 2 รู ถ้าปล่อยลมจากรูแรก ยางจะแบนภายใน 9 นาที แต่ถ้าปล่อยลมจากรูที่สอง ยางจะแบนภายใน 6 นาที อยากทราบว่า ถ้าปล่อยลมจากทั้งสองรูพร้อมกัน ยางล้อหน้าจะแบนภายในกี่นาที

1. 3 นาที                      2.  $3\frac{3}{5}$  นาที                      3. 4 นาที                      4.  $4\frac{3}{5}$  นาที

29. นาฬิกาเรือนหนึ่งเดินเร็วไปนาทีละวินาทีครึ่ง ถ้าตั้งให้ตรงเวลาจริงในเวลาจริงในเวลาเที่ยงวันเมื่อเวลา 17.20 น. นาฬิกาเรือนนี้จะชี้เวลาเท่าใด

1. 17.06 น.                      2. 17.20 น.                      3. 17.24 น.                      4. 17.28 น.

30. นักศึกษา 3 มีอายุรวมกันเฉลี่ยแล้ว 23 ปี ถ้าอายุทั้งสามคนไม่มีใครต่ำกว่า 20 ปี อยากทราบว่าคนที่อายุมากที่สุดจะมีอายุเท่าไร

1. 22 ปี                      2. 25 ปี                      3. 27 ปี                      4. 29 ปี

31. ผลบวกของจำนวนที่มีค่าตั้งแต่ 30 ถึง 100 ที่หารด้วย 3 ลงตัว เป็นเท่าไร

1. 1,548                      2. 2,475                      3. 2,967                      4. 3,096

32. เมื่อหัวผักกาดมีอายุ 5-10 วัน ทดลองใช้ไส้เดือนฝอยรดพื้นที่ทดลองปลูก 10 ตารางเมตร ทุกๆ 4 วัน ครั้งละ 2 ล้านตัว ผลปรากฏว่า หัวผักกาดไม่ถูกทำลาย 33-56% ถ้าเพิ่มพื้นที่ทดลองปลูกอีก 80% จะใช้ไส้เดือนฝอยรดครั้งละกี่ตัวเพื่อให้ผลเป็นเช่นเดิม

1. 3.6 ล้านตัว                      2. 1.6 ล้านตัว                      3. 1.2 ล้านตัว                      4. 0.8 ล้านตัว

33. ค่าของ 2% ของ 5% ของ 4% ของ 1,000,000 คิดเป็นกี่เปอร์เซ็นต์ของ 200

1. 10%                      2. 15%                      3. 20%                      4. 25%

34. กำหนดข้อมูล 8 4 6 6 4 6 10 5 8 3 จงหาพิสัย

1. 5                                      2. 6                                      3. 7                                      4. 8

35. สมชายฝากเงินธนาคารไว้จำนวนหนึ่งได้รับดอกเบี้ยในอัตรา 8% ถ้าได้ดอกเบี้ยปีละ 1 แสนบาท และนำดอกเบี้ยทั้งหมดไปใช้เป็นค่าเล่าเรียนรายปีของลูก ต่อมาธนาคารลดอัตราดอกเบี้ยลงเหลือเพียง 2% สมชายยังขาดเงินค่าเล่าเรียนของลูกปีละกี่บาท

1. 2,500                                      2. 7,500                                      3. 25,000                                      4. 75,000

36. เลข 5 จำนวนเรียงกัน รวมกันได้ 255 จงหาจำนวนน้อยที่สุด

1. 49                                      2. 50                                      3. 51                                      4. 52

37. จงหาค่าของ  $10+15+20+25+\dots+100=?$

1. 1100                                      2. 1065                                      3. 1045                                      4. 1025

38. ถ้ารูปแบบจำนวนคือ 1 1 2 4 7 13 24 44 A 149 B ดังนั้น  $\frac{A}{9} + \frac{B}{2}$  มีค่าเท่าใด

1. 139                                      2. 146                                      3. 152                                      4. 156

39. เหล้า 2 ชนิด มีแอลกอฮอล์ 6% และ 16% ต้องนำเหล้าชนิดแรกมากี่ลิตร เมื่อนำมาผสมกับเหล้าชนิดที่สองแล้วจะได้เหล้าผสม 50 ลิตร และมีแอลกอฮอล์อยู่ 10%

1. 20                                      2. 30                                      3. 35                                      4. 40

40. หมู่บ้าน ก มีประชากร 500 คน ปีหนึ่งประชากรจะลดลงไป 50 คน ส่วนหมู่บ้าน ข มีประชากร 100 คน ปีหนึ่งมีประชากรเพิ่มขึ้น 50 คน ก็ปีประชากรทั้งสองหมู่บ้านจะมีจำนวนเท่ากัน

1. 4 ปี                                      2. 5 ปี                                      3. 6 ปี                                      4. 7 ปี

41. อ่านข้อความต่อไปนี้ แล้วตอบว่าสาระสำคัญที่สุดตรงกับตัวเลือกในข้อใด

“มีคำปรารภที่เคยได้ยินมาแล้วในอดีตเป็นครั้งคราวว่า นิสสันคนไทย เมื่อมีเหตุการณ์รุนแรงเกิดขึ้น จะรวมตัวกันทันที หลังจากเหตุการณ์ผ่านพ้นไปแล้วก็จะหันกลับมาทะเลาะกันใหม่ ศาสตราจารย์ระพี สาคริก”

1. คนไทยเดียดูเดียวร้าย  
2. คนไทยไม่ชอบความรุนแรง  
3. คนไทยมักสามัคคีเมื่อมีภัยมา  
4. คนไทยในอดีตทะเลาะกันไม่รุนแรง

42. พุดอะไรไม่มีหูรด ไม่ควรที่จะพุดก็เผยแพร่  
รู้เรื่องของใครไม่เคย จะเฉยเลยละ โพนทะนา

พฤติกรรมกรพุดของคุณคลตามคำประพันธ์ข้างต้นตรงกับสำนวนไทยในข้อใด

1. ฆ้องปากแตก
2. ปากหอยปากปู
3. ปลาหมอตายเพราะปาก
4. ต่อความยาวสาวความยืด

43. ข้อความต่อไปนี้ข้อใดทำให้ผู้อ่านเกิดความรู้สึกคล้ายตามมากที่สุด

1. นีกระกำนามไม้ แม่นแม่นทรงเรือ
2. เมืองชื่อกาญจนบุรี ว้าง้าง
3. บึงบัวคุมตุ่มกลางตม
4. เรียมจักแฉะนั้นนี้ โนนโน้นแนวพนม

44. การพุดตามข้อใดอาจทำให้เสียมิตรภาพได้มากที่สุด

1. พุดมากเปล่าเปลืองปน ปดเหลัน
2. กล่าวปดแลลคเลี้ยว พจนามีรัฐสงวน
3. บอกเล่าข่าวเหตุผล เรื่องร้าย
4. พุดจาที่เพื่อเจ้า ว่าจะสาระบมี

45. สำนวนใดที่ควรเติมในบทสนทนาต่อไปนี้

“ฉันว่าเขาพุดไม่จริงนะ

ก็เรื่องมันแล้วไปแล้วอย่า.....เลยนะ”

1. มากหอมมากความ
2. เอามือไปชุกหีบ
3. แกว่งเท้าหาเสี้ยน
4. ฟืนฟ่อยหาตะเข็บ

46. รุ่นพี่รับน้องด้วยรูปแบบเดิมๆย่อมไม่น่ารักเพราะใช้วิธีการ\_\_\_\_\_ให้รุ่นน้องทำในสิ่งที่ตนเองต้องการ

1. ชู่เชิญ
2. คุกคาม
3. บังคับ
4. บัญชา

47. ช่วงนี้ใกล้สอบปลายภาคแล้ว นักศึกษาต่างพากัน\_\_\_\_\_ในการอ่านหนังสือสอบ

1. กุสึกุจ
2. ชะมักเขม้น
3. กระตือรือร้น
4. ขมิขม้น

48. เราทุกคนเป็นส่วนหนึ่งของสังคมไทยต้องเคารพ\_\_\_\_\_ของไทยที่ให้ความสำคัญของการแต่งก่อน  
อยู่ไม่ใช่มาอยู่ก่อนแต่งอย่างนี้

1. จารีต
2. วัฒนธรรม
3. กฎเกณฑ์
4. กฎหมาย

49. มาลี\_\_\_\_\_ทุกครั้งที่ต้องตัดสินใจว่าจะเลือกแต่งงานกับใครระหว่างเวียร์กับชัชปยุตส์

1. ท้อใจ
2. กลุ้มใจ
3. อึดอัดใจ
4. เหนื่อยใจ

50. คำในข้อใดใช้ได้มากกว่า 1 ความหมายทุกคำ

1. ลูกหลง ไช้แดง รูดชิป
2. โยนกลอง ตกผลึก ขายขาด
3. อมมือ หัวผี น้ำยา
4. พ่อเลี้ยง สะใจ โรยหน้า

51. ข้อใดคือความหมายของคำซ้ำ

1. นำคำที่ไม่มีความหมายมารวมกัน
2. นำคำที่มีความหมายต่างกันมารวมกัน
3. นำคำที่มีความหมายเหมือนกันมารวมกัน
4. นำคำที่มีความหมายตรงกันข้ามกันมารวมกัน



52. ข้อใดใช้ราชาศัพท์ได้ต้อง

1. พระบาทสมเด็จพระเจ้าอยู่หัวพระราชทานพระราชานุญาตแก่พสกนิกรทุกหมู่เหล่า
2. พระบาทสมเด็จพระเจ้าอยู่หัวทรงเป็นพระราชนัดดาในพระบาทสมเด็จพระจุลจอมเกล้า

เจ้าอยู่หัว

3. สมเด็จพระเทพรัตนราชสุดาฯ สยามบรมราชกุมารี ทรงเป็นอาจารย์ของนักเรียนนายร้อยพระจุลจอมเกล้า
4. สมเด็จพระนางเจ้าฯ พระบรมราชินีนาถ ทรงมีพระราชเสาวนีย์ให้จัดอาหารแห้งและน้ำดื่มไปแจกผู้ประสบอุทกภัย

53. ข้อใดใช้ภาษาเร้าให้เกิดอารมณ์มากที่สุด

1. ผู้ร้ายใจโหดฆ่าข่มขืนสาวพิการ
2. ครูใช้ไม้เรียวตีนักเรียนจนขึ้นแนว
3. อเมริกาใช้อาวุธสมัยใหม่โจมตีอิรักอย่างรุนแรง
4. อุบัติเหตุร้ายแรงทำให้คนเสียชีวิตและบาดเจ็บจำนวนมาก

54. ในอดีตพระสงฆ์เป็นแบบอย่างการดำรงชีวิตอันประเสริฐและเป็นผู้นำสติปัญญาของชุมชน ในปัจจุบันพระสงฆ์จำนวนมาก ไม่มีบทบาทอื่นใดนอกเหนือจากเรื่องพิธีกรรมสร้างวัดวาอารามใหญ่โต มุ่งโภคทรัพย์มากกว่าเจริญไตรสิกขา ฆราวาสเองก็ไม่เกื้อหนุนค้ำจุนให้พระสงฆ์ประพฤติพรหมจรรย์ กลับไปส่งเสริมในทางวัตถุเพื่อยั่วยุกิเลส

ข้อความข้างต้นตรงกับสำนวนใด

1. สมน้ำสมเนื้อ
2. เป็นปีเป็นขลุ่ย
3. ขนมพอสมน้ำยา
4. น้ำพึ่งเรือ เสือพึ่งป่า

55. คนที่มีอำนาจ สร้างทั้งมิตรและศัตรูหากเสียอำนาจเมื่อไรจะโดนแก้แค้นทันที ดังนั้นจึงต้องพยายามดำรงอำนาจไว้ตลอดไป เหมือนกับเหตุการณ์ปัจจุบันที่นักการเมืองฝ่ายที่เสียอำนาจกำลัง โคนเล่นงานแบบตามล้างตามเช็ด

แนวคิดสำคัญของข้อความนี้ตรงกับข้อใดมากที่สุด

1. ศัตรูคือยาชูกำลังในการครองอำนาจ
2. การแย่งชิงอำนาจเป็นเรื่องธรรมดาของโลก
3. การไม่มีมิตรและศัตรูถาวรในการครองอำนาจ
4. ตาต่อตา ฟันต่อฟัน เป็นวิธีการของผู้ครอบครองอำนาจ

ความรู้สึกของผู้เขียนที่แฝงอยู่คือข้อใด

1. ไม่พอใจในการใช้อำนาจ
2. เห็นใจผู้ที่เสียอำนาจ

3. ไม่เห็นด้วยกับการใช้อำนาจ
  4. หมดหวังในการครองอำนาจ
56. ข้อใดควรเป็นคำนำของเรียงความเรื่อง เกาะพีพี
1. เกาะพีพีมีถ้ำไวทึ่งที่สวยงาม
  2. เกาะพีพีเป็นหมู่เกาะที่สวยงามที่สุดแห่งหนึ่ง
  3. เกาะพีพีเป็นเกาะที่มีน้ำทะเลใสสะอาดมาก
  4. เกาะพีพีเป็นเกาะที่มีทิวทัศน์โดยรอบงดงาม
57. ข้อใดไม่แสดงความเชื่อเรื่องการเวียนว่ายตายเกิด
1. กรวดน้ำคว่ำขัน
  2. เต็ดดอกไม้วร้อมต้น
  3. ต้นรัยปลายดี
  4. บุญมวลวาสนาส่ง
58. ข้อใดมีคำที่อ่านผิดปรากฏอยู่
1. บัตรพลี บัด-พะ-ลี
  2. ปกติ ปะ-กะ-ติ, ปก-กะ-ติ
  3. ปฐมวัย ปะ-ถม-มะ-ไว
  4. ปรกติ ปะ-กะ-ติ
59. ข้อใดมีคำที่อ่านผิดปรากฏอยู่
1. ชาติพลี ชาด-พลี
  2. ชักเย่อ ชัก-กะ-เย่อ
  3. ชนมายุ ชน-นะ-มา-ยุ
  4. ชาติภูมิ ชาด-ติ-ภูมิ
60. หนังสือ: กระจดษ?:?
1. พระพุทธรูป : พระสงฆ์
  2. รดยนต์ : น้ำมัน
  3. น้ำแข็ง : น้ำ
  4. กาแฟ : น้ำชา
61. คำในข้อใดควรอยู่ลำดับแรก
1. เกี้ยว
  2. ย่อย
  3. ป้อน
  4. กลืน

62. เเบญจ : ห้า จตุ :?

1. หนึ่ง
2. สอง
3. สาม
4. สี่

63. เมืองหลวงพระบาง เป็นเมืองเก่าแก่เมืองหนึ่งของสาธารณรัฐประชาธิปไตยประชาชนลาวที่มีความสำคัญทางประวัติศาสตร์ เนื่องด้วยความชัดเจนในด้านวัฒนธรรมเอกลักษณ์ทางศิลปะที่โดดเด่น ตลอดจนการวางผังเมือง หรือการออกแบบภูมิสถาปัตยกรรมที่ส่งผลให้เมืองหลวงพระบางเป็นศูนย์กลางของอุตสาหกรรมการท่องเที่ยวแห่งสำคัญใน ภูมิภาค โดยเฉพาะในปี 2538 องค์การยูเนสโกได้ประกาศให้เมืองหลวงพระบางเป็นมรดกทางวัฒนธรรม” ในฐานะที่อนุรักษ์ความเก่าแก่ดั้งเดิมไว้ได้ดีที่สุดในเอเชียตะวันออกเฉียงใต้

บทความนี้กล่าวถึงเรื่องใด

1. ลักษณะภูมิประเทศของเมืองหลวงพระบาง
2. ลักษณะทางภูมิศาสตร์ของเมืองหลวงพระบาง
3. ลักษณะภูมิสังคมของเมืองหลวงพระบาง
4. ลักษณะทางเศรษฐกิจของเมืองหลวงพระบาง

64. จิตสำนึกที่ต้องหมั่นตรึกตรองมองชีวิตและโลกให้ถึง โลกกรรมของคนที่อยู่ร่วมโลกเป็นจิตสำนึกที่ต้องสำนึกกว่าตนเองไม่ใช่เจ้าของโลกใบนี้แต่เพียงผู้เดียวหรือเผ่าพันธุ์เดียว

ข้อความข้างต้นแสดงแนวคิดตรงกับข้อใด

1. ทรายเท่าที่มีฟ้าสีฟ้าสวย โลกอยู่ด้วยโศกสุขถ้วนทุกสิ่ง  
มีรักเกลียดเกลียดซึ่งถึงซึ่งซึ่ง ไม่หยุดนิ่งเพราะนี่คือชีวิต
2. ภพนี้มีใช่หล้า หงส์ทอง เดียวเลย  
กาก็เจ้าของครอง ร่วมด้วย
3. ทำดีไปเลือกวัน ผู้ใด ไคเฮย  
แต่ผูกไมตรีไป รอบข้าง
4. เพื่อโลกใหม่ใสสะอาดพิลาสเหลือ เมื่อคนเอื้อไมตรีอวยไม่ขวยจำ  
เพื่อแสงทองส่องรังฟุ้งเป็นลำ สว่างนำร่องพืมิชัยเอย

65. หนังสือเป็นอาหารบำรุงสมอง เป็นช่องทางที่แน่นอนที่สุดของมนุษย์ในอันที่จะ สร้างสรรค์อำนาจ  
แห่งจิตเป็นมิตรแท้ที่จะนำมนุษย์ไปสู่ความสำเร็จสมหวังอย่างซื่อสัตย์ที่สุด

ข้อใดบอกความหมายของข้อความข้างต้นได้ครบถ้วนที่สุด

1. การอ่านหนังสือช่วยพัฒนาสติปัญญาและจิตใจ
2. ผู้ที่ประสบความสำเร็จต้องอ่านหนังสือที่มีประโยชน์
3. การอ่านจะทำให้คนฉลาดขึ้นและประกอบกิจการงานได้ดี
4. คนที่มีหนังสืออยู่กับตัวจะรู้สึกเหมือนมีเพื่อนที่ไม่เคยขัดแย้งกัน

ข้อใดไม่ใช่ความเปรียบเทียบกับหนังสือในข้อความนี้

1. อาหารบำรุงสมอง
2. อำนาจแห่งจิต
3. ช่องทางของมนุษย์
4. มิตรแท้

66. Countries .....with each other when each needs what the other one has

1. disorder
2. declare
3. trade
4. device

67. The teacher would not.....any noise in her classroom.

1. tolerate
2. crash
3. crush
4. device

68. Before we got inside we were completely .....by the storm.

1. disorder
2. disgust
3. drenched
4. devastate

69. The cheers of the crowd .....the team to victory.

1. spurred
2. negotiated
3. provided
4. opposed

70. A champion boxer has to .....or give up his title when he gets beaten
1. gain
  2. obtain
  3. relinquish
  4. acquire
71. The king was forced to abdicate his.....
1. throne
  2. poor
  3. devastation
  4. harvest
72. you win the.....
1. pencil
  2. pen
  3. ruler
  4. competition
73. we became tired of \_\_\_\_\_to his complaints
1. talking
  2. suggesting
  3. listening
  4. discussing
74. Bangkok is one of the most \_\_\_\_\_cities in the world.
1. fresh air
  - 2.athlete
  3. amateur
  4. activist
75. After taking drugs for many years he became an\_\_\_\_\_and found it impossible to stop.
1. addict
  - 2.athlete
  3. amateur
  4. activist

76. They \_\_\_\_\_ to school every morning when they \_\_\_\_\_ young.

1. walks,are
2. were walking, are
3. walked,were
4. walk,are

77. "What will happen tonight ?

"All the people \_\_\_\_\_ stay home tonight

1. Has to
2. Will to
3. Have to
4. Will

78. The teacher hoped the principal would grant permission for a class trip to the museum.

1. were teaching
2. are teaching
3. teach
4. teaches

80. I.....in Physics.

1. interest
2. interested
3. am interested
4. am interesting

81. Star Wars is the.....movie in 20 Century.

1. good
2. goodest
3. best
4. most best

82. Which is correct ?

1. They arrived at our school early safely.
2. They arrived at our school safely early.
3. They early arrived at our school safely
4. Early they arrived at our school safcly.

83. Nane kam owns a (n).....

1. American sports red car
2. sports red American car
3. car red American sports
4. red American sports car

84. MS. Pimmy is more beautiful.....MS Maneerat.

1. than
2. as
3. the
4. more

85. The man with dark glasses is a\_\_\_\_\_.

1. reporter news famous middle – aged
2. news middle – aged reporter
3. famous middle – aged news reporter
4. news famous middle – aged reporter

86. You'd better stay at home if you don't Pay attention to your subjects\_\_\_\_\_?

1. hadn't you
2. wouldn't you
3. had you
4. would you

87. I have heard a lot about the new mayor, but I\_\_\_\_\_?

1. not ever meet him
2. never have meet him
3. heve never met him
4. not ever met him

88. She used to be our teacher,\_\_\_\_\_?

1. used she
2. did she
3. didn't she
4. wasn,t she

89. A: How does he like his new job ?

B: He seems \_\_\_\_\_with it.

1. Satisfy
2. Satisfied
3. Satisfying
4. Satisfaction

90. You must pay it today .I can't allow you \_\_\_\_\_?

1. little more
2. any more
3. many more
4. one more

91. I don't think the children have gone to bed\_\_\_\_\_?

1. do I
2. don't I
3. have they
4. haven't they

92. Old stories tell about the.....of famous heroes.

1. explorer
2. exaction
3. exploits
4. exalted

93. My roommate doesn't like European food \_\_\_\_\_.

1. neither I do
2. neither do I
3. neither not I
4. neither don't I

94. Jack and Jim did not understand her \_\_\_\_\_of them is very bright.

1. not either
2. neither
3. not one
4. no one



95. When Chuwit \_\_\_\_\_ Young, he \_\_\_\_\_ to school.

1. is, walks
2. was, has walked
3. is, is walking
4. was, walked

96. Tony: Thank you for having me in your party. I'm getting a train at six o'clock.....

Jane: It's nice to have you today. Goodbye!

1. Let me go.
2. I have to leave now.
3. Nice to meet you.
4. Have a good time.

97. A: I feel tired. I have worked for 3 hours, but I can't finish it.

B: .....

A: Thank you for your advice.

1. Stop working
2. Would you like to take a rest?
3. You should stop for a while
4. You may stop working for a while.

98. In a supermarket

"This box is very heavy. Can you give me a hand?"

"....."

1. That box isn't mine.
2. Just a minute! My hands are dirty
3. Sure, I'll be glad to help
4. Certainly, I'm looking for someone to help you.

Reduces germs that cause  
Bad Breath & Plaque

99.

This label would most likely to be found on a \_\_\_\_\_.

1. detergent box
2. Deodorant bottle
3. Mouthwash bottle
4. Medicine box

100. John: Hello. Is this Alex ?

Alex: \_\_\_\_\_.

1. Yes, it is.
2. No, I am not.
3. Yes, he is.
4. No, this is not me

101. Dr. Smith: Good Morning \_\_\_\_\_.

Wirat: I've done something to my neck. It looks terrible.

Dr. Smith: Let's have a look. I am afraid you've bruised it.

1. How are you today?
2. What seems to be the problem?
3. What is wrong with you?
4. May I help you?

Nothing will ever be the same

Smoking gave me throat cancer at 39. Now I breathe through a hole in my throat and need this machine to speak.

Rosalde Martinier

102. What does the purpose of this ad?

1. To encourage people to stop smoking
2. To eliminate the throat cancer
3. To explain the advantages of smoking
4. To explain how to breathe through a hole.

103. Who is Rosalde Martiner

1. He is an advertiser
2. He is a serious reader
3. He used to be a smoker
4. He used to be a editor of the book

104. What happened to Rosalde Martiner?

1. He has been a throat cancer.
2. Now,he can smoke all the time.
3. He was in an accident.
4. He used to work in a factory.

105. Now,Can he speak ?

1. No, because of his throat cancer.
2. No, because of his machice.
3. Yes, he can speak through the machine
4. Yes, he can speak through his throat

106. ISO โมเดล คือข้อใด

1. องค์การระหว่างประเทศเพื่อกำหนดรูปแบบการติดต่อเครือข่าย
2. มาตรฐานการสื่อสารคอมพิวเตอร์ระบบเปิด
3. วิธีการเชื่อมต่อเครือข่ายวิธีหนึ่ง
4. สมาคมเพื่อการติดต่อแลกเปลี่ยนข้อมูลบนเครือข่าย

107. ข้อใดคือหน่วยประมวลผล

1. Input
2. CPU
3. Output
4. Memory

108. ข้อใดคือหน่วยความจำ

1. Input
2. processing
3. Output
4. Memory

109. แถบชื่อเรื่อง Title Bar มีหน้าที่อะไร

1. ส่วนแสดงคำสั่งทั้งหมดที่ใช้ในการทำงาน
2. สำหรับแสดงชื่อของแฟ้มเอกสาร
3. เป็นตัวบอกสถานการณ์ทำงานของเอกสารที่ทำงานอยู่ในขณะนั้น
4. ใช้สำหรับ ยุบ, ย่อ, ขยาย ปิดหน้าต่างการทำงานของโปรแกรม

110. ข้อใดไม่ใช่ระบบปฏิบัติการ

1. Microsoft windows98
2. Microsoft windows ME
3. Microsoft windows xp
4. Microsoft office

111. ในปัจจุบันนิยมใช้ระบบปฏิบัติการอะไรมากที่สุด

1. Microsoft windows 98
2. Microsoft windows 7
3. Microsoft windowxp
4. Microsoft office

112. ข้อใดหมายถึงโปรโตคอล

1. รูปแบบการเชื่อมต่อคอมพิวเตอร์ในระบบเครือข่าย
2. มาตรฐานการเชื่อมต่อเครือข่ายคอมพิวเตอร์
3. ภาษากลางที่ใช้สื่อสารเพื่อติดต่อกันในเครือข่าย
4. คุณสมบัติหนึ่งของมาตรฐาน IEEE 802

113. เหตุการณ์ในข้อใดแสดงให้เห็นว่าสารสนเทศก่อให้เกิดเป็นความรู้ได้ชัดเจนที่สุด

1. นายสะอาดสอบได้ 16 คะแนน จาก 20 คิดเป็น 80%
2. สมุดหน้าเหลืองมีการจัดแบ่งหมวดหมู่สินค้าและบริการทำให้ค้นหาสะดวกขึ้น
3. นางสาวราตรีนำข้อยอดขายสินค้าตลอดสัปดาห์มาจัดอันดับสินค้าขายดี 10 อันดับ
4. ผู้บริหารทำการปรับเปลี่ยนแผนผังของห้างสรรพสินค้าตามรายงานวิเคราะห์พฤติกรรมลูกค้า

114. ข้อใดเป็นการกล่าวถึงคอมพิวเตอร์แบบ Analog

1. มีหน้าที่คำนวณทางระบบบัญชี
2. เห็นตัวอย่างได้จาก TV GAME
3. เครื่องวัดอุณหภูมิหรือความดันโลหิต
4. Main frame computer

115. Recycle Bin ทำหน้าที่อะไร

1. กู้ไฟล์ข้อมูล
2. ซ่อมแซมไฟล์
3. จัดเรียงไฟล์
4. เป็นโพลเดอร์สำหรับเก็บไฟล์ที่ถูกทิ้ง

116. หากต้องการเข้าไปที่ ผิดพลาด! การอ้างอิงไฮเปอร์ลิงก์ไม่ถูกต้องพิมพ์ชื่อเว็บเพจที่ช่องใดในโปรแกรม web Browser

1. E – mail
2. Search web
3. password
4. Address

117. ข้อใดกล่าวถึง Electronic – mall ได้ชัดเจนที่สุด

1. การขนถ่ายข้อมูลจากเครื่องหนึ่งไปยังอีกเครื่องหนึ่ง
  2. การรับส่งข้อความผ่านเครือข่ายคอมพิวเตอร์
  3. โปรแกรมสำหรับเปิดอ่านข่าวสารจากการส่งข่าวสารจากบุคคลหนึ่งไปยังอีกคนหนึ่ง
  4. การพูดคุยกันผ่านเครือข่ายคอมพิวเตอร์
- จ. โปรแกรมที่เปิดเว็บไซต์ที่ให้บริการ

118. คอมพิวเตอร์หมายถึงอะไร

1. เครื่องอัตโนมัติยุคใหม่
2. อุปกรณ์ในการแสดงผลต่างๆ
3. อุปกรณ์อิเล็กทรอนิกส์ที่สามารถรับข้อมูลแล้วประมวลผลและให้ผลลัพธ์ที่ต้องการ
4. เครื่องคำนวณอัตโนมัติที่มนุษย์ประดิษฐ์ขึ้นเพื่อช่วยในการคำนวณ

119. ข้อใดไม่ใช่โปรแกรมประมวลผลคำ

1. Microsoft word
2. RBase
3. word perfect
4. Lotus Manuscript

120. ส่วนประกอบของคอมพิวเตอร์มี 5 ส่วน ส่วนใดในตัวเลือก ไม่ใช่ส่วนประกอบของคอมพิวเตอร์

1. หน่วยแสดงผลลัพธ์ (output unit)
2. หน่วยความจำ (Memory unit)
3. หน่วยข่าวสาร (Information unit)
4. หน่วยควบคุม (Control unit)

121. ข้อใดคือจดหมายอิเล็กทรอนิกส์

1. E-Mail
2. EMS
3. PDA
4. DOS

122. ถนนข้อมูลอิเล็กทรอนิกส์ ยิ่งกว้าง หรือมีช่องทางมาก การส่งข้อมูลต่อครั้งจะยิ่งเร็วและมากขึ้นคือความหมายของข้อใด

1. BUS
2. DOS
3. ALU
4. CPU

123. ฮาร์ดแวร์หมายถึงอะไร

1. อุปกรณ์ต่างๆที่ประกอบขึ้นเป็นเครื่องคอมพิวเตอร์มีลักษณะเป็น โครงสร้างสามารถมองเห็นตาและสัมผัสได้
2. ส่วนที่มนุษย์สัมผัสไม่ได้ (นามธรรม) เป็น โปรแกรมหรือชุดคำสั่งที่ถูกเขียนขึ้น เพื่อสั่งให้เครื่องคอมพิวเตอร์ทำงาน
3. บุคลากรในงานด้านคอมพิวเตอร์ ซึ่งมีความรู้เกี่ยวกับคอมพิวเตอร์ สามารถใช้งาน สั่งงานเพื่อให้คอมพิวเตอร์ทำงานตามที่ต้องการ
4. ข้อมูลเป็นองค์ประกอบที่สำคัญอย่างหนึ่งในระบบคอมพิวเตอร์

124. คอมพิวเตอร์ที่ใช้วัดคลื่นสมอง มักใช้คอมพิวเตอร์แบบใด

1. Digital computer
2. Analog computer
3. Artificial Intelligence Computer
4. windows NT Computer

125. DBMS มีหน้าที่อย่างไร

1. เป็นบุคคลควบคุมความปลอดภัยของข้อมูล
  2. เป็นบุคคลที่ทำหน้าที่บริหารศูนย์ข้อมูล
  3. เป็นซอฟต์แวร์ที่ใช้จัดการฐานข้อมูล
  4. เป็นบุคคลที่ป้อนข้อมูลลงฐานข้อมูล
- จ. เป็นซอฟต์แวร์ที่ใช้จัดระบบการทำงานของคอมพิวเตอร์

126. การเชื่อมต่อเครือข่ายตั้งแต่ 2 เครื่องขึ้นไปใช้อุปกรณ์ดังนี้ยกเว้นข้อใด

1. โมเด็ม
2. การ์ดเครือข่าย
3. สวิตซ์ฮับ
4. สายสัญญาณ

127. การส่งสัญญาณแบบไร้สายในระบบเครือข่าย มีชื่อเรียกว่าอะไร

1. ฮับ
2. เราท์เตอร์
3. ไวเลสแลน
4. คิจิตอล

128. สายสัญญาณใดมีความสามารถในการส่งข้อมูลเร็วที่สุด

1. Coaxial Cable
2. Shielded Twisted Pair Cable
3. Unshielded Twisted Pair Cable
4. Fiber Optic Cable

129. ข้อใดเป็นอุปกรณ์ที่ใช้เชื่อมต่อเครือข่ายสองระบบเข้าด้วยกัน

1. HUB
2. Connector
3. Router
4. Switch

130. ระบบสารสนเทศสำหรับผู้บริหารระดับสูง คือ

1. MIS
2. DSS
3. EIS
4. OAS

131. ต่อไปนี้ข้อใดถูกต้อง

1. นิติกรรมทางปกครองที่เป็นนิติกรรมฝ่ายเดียว ได้แก่ การออกกฎ
2. นิติกรรมทางปกครองที่เป็นนิติกรรมฝ่ายเดียว ได้แก่ คำสั่งทางปกครอง
3. นิติกรรมทางปกครองที่เป็นนิติกรรมหลายฝ่าย ได้แก่ สัญญาทางปกครอง
4. ถูกทุกข้อ

132. นิติกรรมใดที่ผู้ไร้ความสามารถทำจะเป็นโมฆะ
1. ซื้รถ
  2. สมรส
  3. ขายบ้าน
  4. ถูกทุกข้อ
133. ข้อใดไม่ถูกต้อง
1. ผู้เยาว์ไม่สามารถทำนิติกรรมใดๆ ทั้งสิ้น
  2. นิติกรรมที่เป็นโมฆียกรรมสามารถให้สัตยาบันได้
  3. นิติกรรมที่เป็นโมฆียกรรม ถ้าเกิน 10 ปีแล้ว ไม่สามารถบอกล้างได้
  4. การบอกล้างโมฆียกรรมนี้ต้องทำภายในกำหนด 1 ปี นับแต่เวลาที่อาจให้สัตยาบันได้
134. พินัยกรรมจะมีผลบังคับใช้ตามกฎหมายเมื่อใด
1. ผู้ทำเปิดพินัยกรรมเอง
  2. ผู้ทำถึงแก่ความตาย
  3. มีผู้ขโมยเปิดพินัยกรรมเอง
  4. ผู้ทำอายุ 70 ปี
135. ต่อไปนี้ข้อใดคือรูปแบบของสัญญาทองปกครอง
1. การออกคำสั่งทางปกครองด้วยวาจา
  2. การออกคำสั่งทางปกครองเป็นหนังสือ
  3. การให้สัญญาณมือของตำรวจจราจร
  4. ถูกทุกข้อ
136. องค์กรที่ควบคุมการประกอบอาชีพกฎหมายคือองค์กรใด
1. สภานายความ
  2. คณะกรรมการตุลาการ
  3. สำนักงานอัยการสูงสุด
  4. เนติบัณฑิตยสภา
137. คนไทยมีปรัชญาการดำเนินชีวิตที่มุ่งเน้นการมีชีวิตที่สงบสุข เพราะอิทธิพลของสิ่งใดมากที่สุด
1. มีสภาพแวดล้อมที่อุดมสมบูรณ์
  2. ความเชื่อและคำสอนของพระพุทธศาสนา
  3. การเชื่อเรื่องกฎแห่งกรรม
  4. ความเชื่อความไม่เที่ยงแท้ของสิ่งทั้งหลาย



138. ข้อใดมีลักษณะเป็นกฎหมาย

1. ประกาศห้ามสูบบุหรี่ในที่สาธารณะ ฝ่าฝืนปรับ 2000 บาท
2. ประกาศให้พนักงานบริษัททุกคนต้องแสดงบัตรประจำตัวทุกครั้งที่มาเข้า – ออกบริษัท
3. ประกาศห้ามผู้ที่ไม่เกี่ยวข้องกับการแสดงเข้าไปในห้องประชุม
4. ประกาศของอาจารย์ใหญ่ให้นักเรียนทุกคนไปเข้าแถวเคารพธงชาติมิฉะนั้นจะถูกทำโทษหน้าเสาธง

139. ข้อใดกล่าวถูกต้อง

1. บัตรประชาชนปัจจุบันมีอายุ 8 ปี
2. เด็กไม่ต้องทำบัตรประชาชน
3. นักท่องเที่ยวชาวต่างชาติที่ถือวีซ่าไทย จะได้รับสัญชาติได้ตามหลักดินแดน
4. ลิขสิทธิ์ จะได้รับความคุ้มครองต่อเมื่อจดทะเบียนกับทางราชการ

140. ข้อใดไม่ใช่โทษทางอาญา

1. กักกัน
2. ประหารชีวิต
3. ริบทรัพย์สิน
4. ปรับ

141. บุคคลกลุ่มใดที่สร้างระบบวรรณะให้เกิดขึ้นในสมัยก่อนพุทธกาล

1. ศูทร
2. แพศย์
3. กษัตริย์
4. พราหมณ์

142. การแบ่งชนชั้นทางสังคมโดยใช้ระบบวรรณะในสมัยก่อนพุทธกาล ก่อให้เกิดผลตามข้อใด

1. เป็นประโยชน์ในการปกครอง
2. ทำให้ทุกคนรู้จักหน้าที่ของตน
3. เป็นการทำลายสิทธิและเสรีภาพขั้นพื้นฐานของมนุษย์
4. ทำให้บ้านเมืองไม่เจริญก้าวหน้าเพราะมัวแต่แย่งชิงความเป็นใหญ่กัน

143. ข้อใดจัดว่าเป็นเอกลักษณ์ของพระพุทธศาสนา

1. อนัตตา
2. กรรม
3. ภาวนา
4. นรก – สวรรค์

144. คำสอนเรื่องกรรมในพุทธศาสนาสำคัญอย่างไร
1. ทำให้คนเป็นคนดี
  2. ทำให้เชื่อว่ากรรมพิสูจน์ได้
  3. ทำให้คนกลัวนรกไม่กล้าทำชั่ว
  4. ทำให้เราเข้าใจว่าเราคือผู้ลิขิตชีวิตเราเอง
145. แห้วหัวตันตะเคียนยักษ์อายุ 100 ปี ขอเลขเด็ด หวังรวยทางลัด แสดงว่าขาดพลังอะไรตามหลักพลัง 5
1. สติ
  2. สมาธิ
  3. ปัญญา
  4. ศรัทธา
146. ข้อใดคือการกระทำที่ส่งผลให้ประชาชนไว้วางใจ ศรัทธาและเชื่อมั่น
1. ความซื่อสัตย์ สุจริต
  2. ความตรงต่อเวลา
  3. ความอดทนต่อความยากลำบาก
  4. ความมีทำที่เป็นมิตร
147. ผู้ที่มีบทบาทสำคัญที่สุดต่อการพัฒนาเศรษฐกิจของชุมชน ได้แก่หน่วยงานใด
1. องค์กรระหว่างประเทศ
  2. รัฐบาล
  3. องค์กรปกครองส่วนท้องถิ่น
  4. หน่วยงานของภาคเอกชน
148. การพัฒนาเศรษฐกิจที่มีประสิทธิภาพของชุมชน ควรมีลักษณะตามข้อใด
1. เป็นไปตามนโยบายของรัฐบาล
  2. สอดคล้องกับทิศทางของเศรษฐกิจโลก
  3. สอดคล้องกับความต้องการของประชาชน
  4. เป็นไปตามความต้องการของภาคเอกชน
149. ข้อใดมีความถูกต้องน้อยที่สุดเมื่อกล่าวถึงค่านิยม
1. เป็นสิ่งที่มีค่าและถูกต้องเสมอ
  2. กำหนดทัศนคติและแนวการปฏิบัติของบุคคล
  3. เป็นที่มาที่สำคัญของบรรทัดฐานของสังคม
  4. กำหนดสิ่งที่พึงปรารถนาสำหรับทุกคน

150. ข้อใดกล่าวถึงประเภทของสถานภาพที่แตกต่างจากข้ออื่น

1. นายสมศักดิ์เป็นผู้ใหญ่ใจดี
2. นายทองพันชั่งเป็นลูกเศรษฐี
3. นางสาวทองสร้อยเป็นคนไทยเชื้อสายญี่ปุ่น
4. นายสดเป็นสามีของดาราดาราภาพยนตร์ชื่อดัง

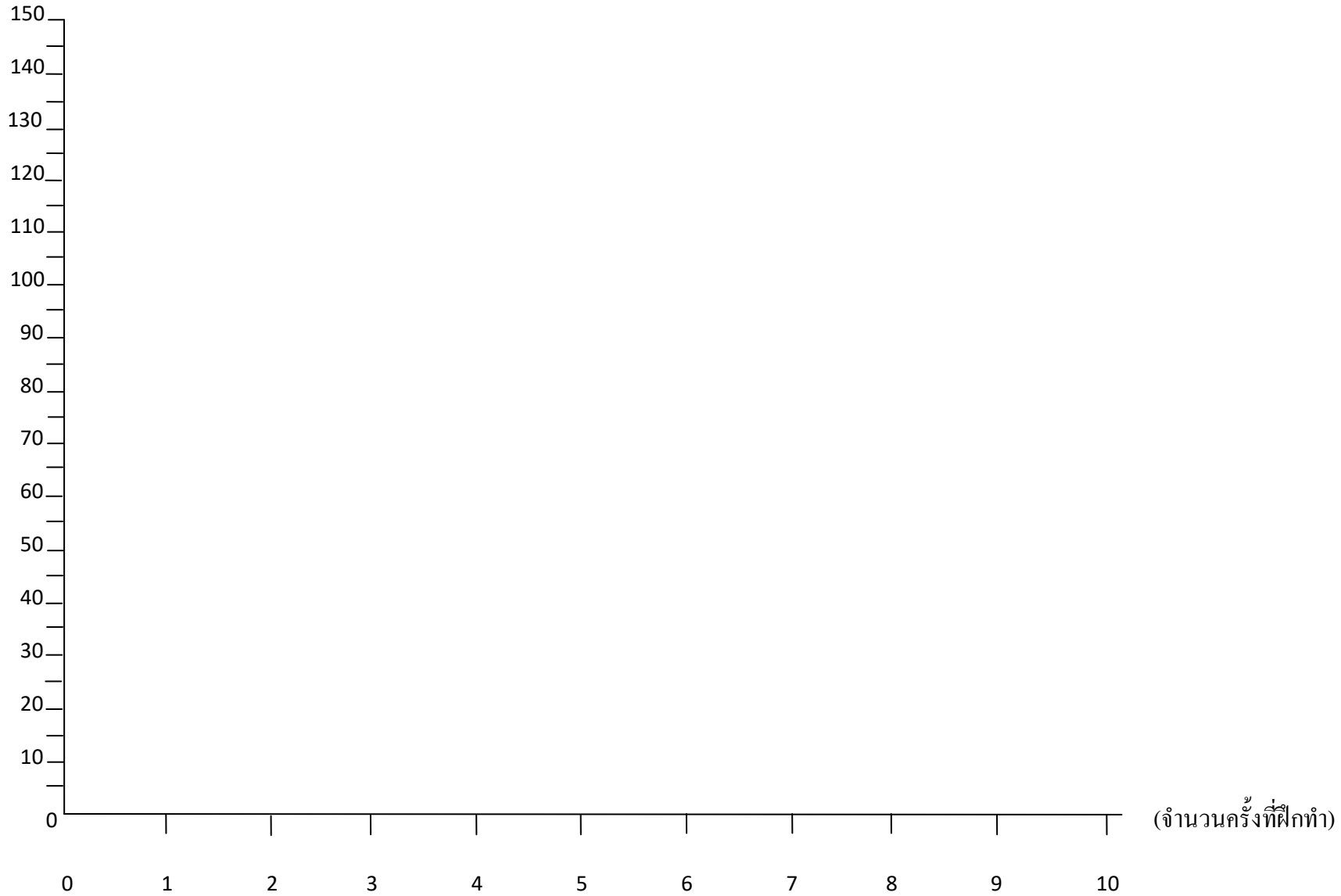
NINE100.COM

### แบบประเมินตนเอง สายปราบปราม

วิชา	ข้อ	ทำได้	คิดเป็นเปอร์เซ็นต์	หมายเหตุ
1. ความสามารถทั่วไป	40		$\frac{\quad}{40} \times 100 = \underline{\quad}$	
2. ภาษาไทย	25		$\frac{\quad}{25} \times 100 = \underline{\quad}$	
3. ภาษาต่างประเทศ (ภาษาอังกฤษ)	40		$\frac{\quad}{40} \times 100 = \underline{\quad}$	
4. เทคโนโลยีสารสนเทศ	25		$\frac{\quad}{25} \times 100 = \underline{\quad}$	
5. กฎหมายที่ประชาชนควรรู้	10		$\frac{\quad}{10} \times 100 = \underline{\quad}$	
6. สังคม วัฒนธรรม จริยธรรม	10		$\frac{\quad}{10} \times 100 = \underline{\quad}$	
รวม	150		$\frac{\quad}{150} \times 100 = \underline{\quad}$	

## แบบประเมินเชิงเส้น

(คะแนนที่ได้)



ช่องใส่คะแนน

NINE100.COM

ทดสอบความรู้ความสามารถ ด้วยวิธีสอบข้อเขียน ข้อสอบปรนัย 4 ตัวเลือก

เฉลยข้อสอบชุดที่ 7

1	3.	26	4.	51	3.	76	3.	101	2.	126	1.
2	2.	27	1.	52	3.	77	3.	102	1.	127	3.
3	4.	28	2.	53	1.	78	4.	103	3.	128	4.
4	2.	29	4.	54	3.	79	3.	104	1.	129	4.
5	1.	30	4.	55	4.	80	3.	105	3.	130	3.
6	4.	31	1.	56	2.	81	3.	106	2.	131	4.
7	1.	32	1.	57	3.	82	2.	107	2.	132	2.
8	2.	33	3.	58	4.	83	4.	108	4.	133	1.
9	3.	34	3.	59	1.	84	1.	109	2.	134	2.
10	2.	35	4.	60	3.	85	3.	110	4.	135	2.
11	4.	36	1.	61	3.	86	1.	111	2.	136	4.
12	1.	37	3.	62	4.	87	3.	112	1.	137	2.
13	2.	38	2.	63	3.	88	3.	113	4.	138	1.
14	2.	39	2.	64	2.	89	2.	114	3.	139	1.
15	3.	40	1.	65	1.	90	2.	115	4.	140	1.
16	2.	41	3.	66	2.	91	3.	116	4.	141	4.
17	1.	42	1.	67	3.	92	3.	117	3.	142	3.
18	4.	43	1.	68	1.	93	2.	118	3.	143	4.
19	2.	44	2.	69	3.	94	2.	119	2.	144	3.
20	4.	45	4.	70	1.	95	4.	120	3.	145	4.
21	2.	46	3.	71	1.	96	2.	121	1.	146	4.
22	4.	47	2.	72	4.	97	3.	122	1.	147	3.
23	2.	48	1.	73	3.	98	2.	123	1.	148	3.
24	3.	49	3.	74	2.	99	3.	124	2.	149	1.
25	4.	50	1.	75	1.	100	1.	125	1.	150	3.

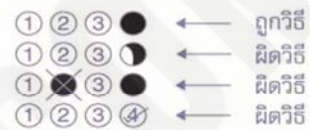
# กระดาษคำตอบ

**NINE100.COM**

## คำแนะนำ

- ใช้ดินสอดำ 2B ขึ้นไป ระบายวงกลมทุกวงที่ต้องการให้คำตอบ
- ถ้าต้องการแก้ไข ให้ใช้ยางลบลบให้สะอาดก่อน จึงระบายวงใหม่
- ห้ามขีดเขียนสิ่งอื่นใดนอกเหนือจากที่ระบุไว้

## ตัวอย่าง



1 ① ② ③ ④	26 ① ② ③ ④	51 ① ② ③ ④	76 ① ② ③ ④	101 ① ② ③ ④	126 ① ② ③ ④
2 ① ② ③ ④	27 ① ② ③ ④	52 ① ② ③ ④	77 ① ② ③ ④	102 ① ② ③ ④	127 ① ② ③ ④
3 ① ② ③ ④	28 ① ② ③ ④	53 ① ② ③ ④	78 ① ② ③ ④	103 ① ② ③ ④	128 ① ② ③ ④
4 ① ② ③ ④	29 ① ② ③ ④	54 ① ② ③ ④	79 ① ② ③ ④	104 ① ② ③ ④	129 ① ② ③ ④
5 ① ② ③ ④	30 ① ② ③ ④	55 ① ② ③ ④	80 ① ② ③ ④	105 ① ② ③ ④	130 ① ② ③ ④
6 ① ② ③ ④	31 ① ② ③ ④	56 ① ② ③ ④	81 ① ② ③ ④	106 ① ② ③ ④	131 ① ② ③ ④
7 ① ② ③ ④	32 ① ② ③ ④	57 ① ② ③ ④	82 ① ② ③ ④	107 ① ② ③ ④	132 ① ② ③ ④
8 ① ② ③ ④	33 ① ② ③ ④	58 ① ② ③ ④	83 ① ② ③ ④	108 ① ② ③ ④	133 ① ② ③ ④
9 ① ② ③ ④	34 ① ② ③ ④	59 ① ② ③ ④	84 ① ② ③ ④	109 ① ② ③ ④	134 ① ② ③ ④
10 ① ② ③ ④	35 ① ② ③ ④	60 ① ② ③ ④	85 ① ② ③ ④	110 ① ② ③ ④	135 ① ② ③ ④
11 ① ② ③ ④	36 ① ② ③ ④	61 ① ② ③ ④	86 ① ② ③ ④	111 ① ② ③ ④	136 ① ② ③ ④
12 ① ② ③ ④	37 ① ② ③ ④	62 ① ② ③ ④	87 ① ② ③ ④	112 ① ② ③ ④	137 ① ② ③ ④
13 ① ② ③ ④	38 ① ② ③ ④	63 ① ② ③ ④	88 ① ② ③ ④	113 ① ② ③ ④	138 ① ② ③ ④
14 ① ② ③ ④	39 ① ② ③ ④	64 ① ② ③ ④	89 ① ② ③ ④	114 ① ② ③ ④	139 ① ② ③ ④
15 ① ② ③ ④	40 ① ② ③ ④	65 ① ② ③ ④	90 ① ② ③ ④	115 ① ② ③ ④	140 ① ② ③ ④
16 ① ② ③ ④	41 ① ② ③ ④	66 ① ② ③ ④	91 ① ② ③ ④	116 ① ② ③ ④	141 ① ② ③ ④
17 ① ② ③ ④	42 ① ② ③ ④	67 ① ② ③ ④	92 ① ② ③ ④	117 ① ② ③ ④	142 ① ② ③ ④
18 ① ② ③ ④	43 ① ② ③ ④	68 ① ② ③ ④	93 ① ② ③ ④	118 ① ② ③ ④	143 ① ② ③ ④
19 ① ② ③ ④	44 ① ② ③ ④	69 ① ② ③ ④	94 ① ② ③ ④	119 ① ② ③ ④	144 ① ② ③ ④
20 ① ② ③ ④	45 ① ② ③ ④	70 ① ② ③ ④	95 ① ② ③ ④	120 ① ② ③ ④	145 ① ② ③ ④
21 ① ② ③ ④	46 ① ② ③ ④	71 ① ② ③ ④	96 ① ② ③ ④	121 ① ② ③ ④	146 ① ② ③ ④
22 ① ② ③ ④	47 ① ② ③ ④	72 ① ② ③ ④	97 ① ② ③ ④	122 ① ② ③ ④	147 ① ② ③ ④
23 ① ② ③ ④	48 ① ② ③ ④	73 ① ② ③ ④	98 ① ② ③ ④	123 ① ② ③ ④	148 ① ② ③ ④
24 ① ② ③ ④	49 ① ② ③ ④	74 ① ② ③ ④	99 ① ② ③ ④	124 ① ② ③ ④	149 ① ② ③ ④
25 ① ② ③ ④	50 ① ② ③ ④	75 ① ② ③ ④	100 ① ② ③ ④	125 ① ② ③ ④	150 ① ② ③ ④

## NINE100.COM

ทดสอบความรู้ความสามารถ ด้วยวิธีสอบข้อเขียน ข้อสอบปรนัย 4 ตัวเลือก

1. กิฬา : กติกา → พระ : .....

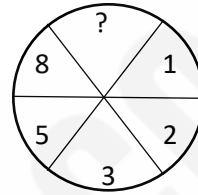
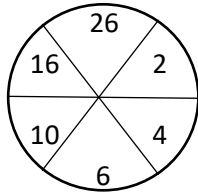
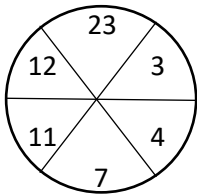
ข้อใดมีความสัมพันธ์เช่นเดียวกับความสัมพันธ์ที่กำหนดให้

1. วัด
2. ศิล
3. โบสถ์
4. ธรรมะ

2. A B E F I .?

1. N
2. M
3. K
4. J

3.



1. 3
2. 6
3. 13
4. 29

4. ถังใบหนึ่งบรรจุน้ำมันเต็มถึงวันแรกใช้น้ำมันไป  $\frac{1}{3}$  ของถัง วันที่ 2 ใช้น้ำมันไป 25 ลิตร พบว่าจะเหลือน้ำมัน

$\frac{1}{4}$  ของถัง จงหาว่าถังใบนี้บรรจุน้ำมันเต็มถังได้กี่ลิตร

1. 50
2. 55
3. 60
4. 65

5. กำหนด

1	---	▶	แถวที่ 1			
3	5	---	▶	แถวที่ 2		
7	9	11	---	▶	แถวที่ 3	
13	15	17	19	---	▶	แถวที่ 4

ผลรวมของตัวเลขแถวที่ 11 มีค่าเท่าใด

1. 950
2. 1000
3. 1251
4. 1331

6. นักเรียนจำนวน 10 คน วัดความสูงเป็นเซนติเมตรได้ข้อมูล ดังนี้

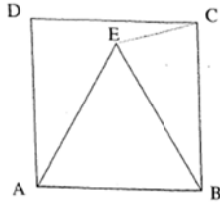
175, 173, 180, 172, 173, 176, 177, 178, 174, 173,

จงหามัธยฐานของความสูงของนักเรียนทั้ง 10 คนดังนี้

1. 172.50 เซนติเมตร
2. 173.63 เซนติเมตร
3. 174.50 เซนติเมตร
4. 175.63 เซนติเมตร



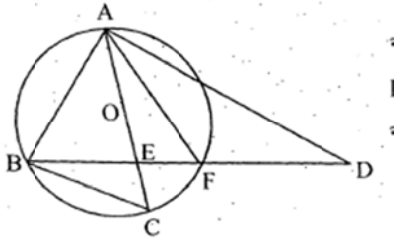
7.



ถ้า ABCD เป็นรูปสี่เหลี่ยมจัตุรัส และ ABE เป็นรูปสามเหลี่ยมด้านเท่า  
 จงหาขนาดของมุม BEC

- |               |               |
|---------------|---------------|
| 1. $60^\circ$ | 2. $75^\circ$ |
| 3. $80^\circ$ | 4. $90^\circ$ |

8. จากรูป  $\widehat{ADB} = 60^\circ$ , O เป็นจุดศูนย์กลาง



$\widehat{BAD} = 70^\circ$   
 จงหา  $\widehat{CAF}$

- |               |               |
|---------------|---------------|
| 1. $30^\circ$ | 2. $40^\circ$ |
| 3. $45^\circ$ | 4. $50^\circ$ |

9. กำหนด  $A = \{1, 3, 5, 7, 9\}$ ,  $B = \{3, 5, 9, 10\}$  จงหา  $A - B$

- |                  |                   |
|------------------|-------------------|
| 1. $\{7\}$       | 2. $\{1, 7\}$     |
| 3. $\{3, 5, 9\}$ | 4. $\{1, 7, 10\}$ |

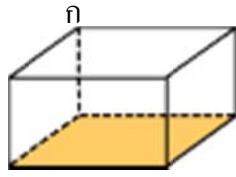
10.  $A = \{1, 2, 3, 4\}$  แล้ว A มีสับเซตทั้งหมดกี่สับเซต

- |      |       |
|------|-------|
| 1. 1 | 2. 4  |
| 3. 6 | 4. 16 |

11. เลขจำนวนใดมีค่ามากที่สุด

- |                  |                   |
|------------------|-------------------|
| 1. $\frac{2}{3}$ | 2. $\frac{4}{5}$  |
| 3. $\frac{7}{8}$ | 4. $\frac{9}{11}$ |

12. กล่องสี่เหลี่ยมมุมฉาก กว้าง 3 นิ้ว ยาว 4 นิ้ว สูง 12 นิ้ว ตามรูป อยากรทราบว่ เส้นทแยงมุม กข ยาวกี่นิ้ว



ข

1. 13

2. 17

3. 18

4. 19

13. มุมภายในของรูปสี่เหลี่ยมด้านเท่ามุมเท่า กางมุมละกี่องศา

1.  $150^\circ$

2.  $75^\circ$

3.  $30^\circ$

4.  $15^\circ$

14.  $7^{2559}$  มีเลขหลักหน่วยตรงกับข้อใด

1. 1

2. 3

3. 7

4. 9

15. จำนวนตั้งแต่ 6 ถึง 1000 ที่หารด้วย 8 เหลือเศษ 3 มีกี่จำนวน

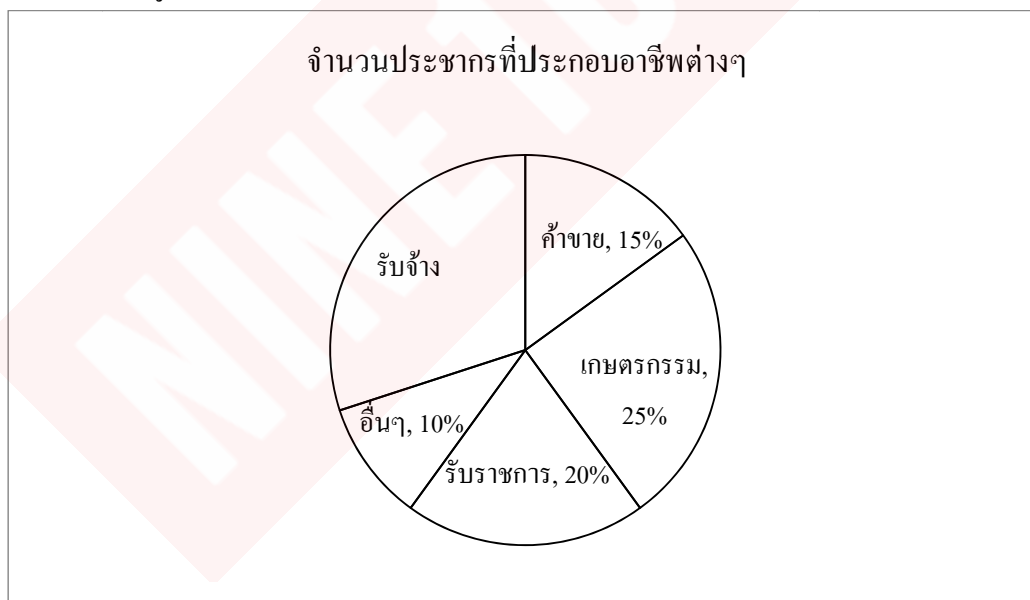
1. 122

2. 123

3. 124

4. 125

16. จากแผนภูมิแสดงจำนวนประชากรที่ประกอบอาชีพต่างๆ จงตอบคำถาม



ถ้ามีประชากรจำนวน 200 คน จะมีประชากรที่ประกอบอาชีพรับจ้างกี่คน

1. 60 คน

2. 65 คน

3. 70 คน

4. 75 คน

17. นายสุเทพมีเงิน 500 บาท นายสมชายมีเงิน 400 บาท แสดงว่า สุเทพมีเงินมากกว่าสมชายกี่ %
1. 20 %
  2. 25 %
  3. 30 %
  4. 50 %
18. จากข้อ 17 นายสมชายมีเงินน้อยกว่าสุเทพกี่ %
1. 20 %
  2. 25 %
  3. 30 %
  4. 50 %
19. ฉันมีเงิน 2000 บาท เป็นธนบัตรฉบับละ 100 บาท และ 20 บาท รวม 52 ฉบับ อยากทราบว่าฉบับละ 100 บาท มีกี่ฉบับ
1. 5
  2. 10
  3. 12
  4. 40
20. ถ้า 4 เท่าของผลบวกของเลขจำนวนหนึ่งกับ 3 มีค่ามากกว่า 8 อยู่ไม่ถึง 20 ถ้าเลขจำนวนดังกล่าวเป็นเลขจำนวนเต็มบวก แล้วผลบวกของจำนวนคำตอบทั้งหมดของอสมการดังกล่าวคือ
1. 4
  2. 5
  3. 6
  4. 7
21. นกและควาย นับขาปรากฏว่าเท่ากัน แต่ถ้านับหัวได้ทั้งหมด 27 หัว จะมีนกกี่ตัว
1. 10 ตัว
  2. 15 ตัว
  3. 18 ตัว
  4. 20 ตัว
22. ควาย 5 ตัว กินหญ้าหมดใน 14 วัน ถ้าเพิ่มควายอีก 2 ตัว จะกินหญ้าหมดภายในกี่วัน
1. 10 วัน
  2. 12 วัน
  3. 14 วัน
  4. 16 วัน
23. ผู้ต้องหาคดีปล้นชิงทรัพย์เป็นชายสูง 6 ฟุต 4 นิ้ว ผมสีดำ ผิวขาว แสดงว่าชายคนดังกล่าวมีความสูงประมาณกี่เซนติเมตร
1. 200 เซนติเมตร
  2. 190 เซนติเมตร
  3. 180 เซนติเมตร
  4. 170 เซนติเมตร

24.  $F \quad F \quad \pi \quad ?$

1)  $\pi$

2)  $F$

3)  $\pi$

4)  $\pi$

25. คนใต้ทุกคนผิวดำ สมศักดิ์ไม่ใช่คนผิวดำ ดังนั้น

1. สมศักดิ์เป็นคนเหนือ
2. สมศักดิ์เชื้อสายจีน
3. สมศักดิ์ไม่ใช่คนใต้
4. สรุปลงไม่ได้

26. ก และ ข มีเงินรวมกันเท่ากับ 15 บาท ข และ ค มีเงินรวมกัน 25 บาท ค และ ก มีเงินรวมกัน 32 บาท ดังนั้นใครมีเงินน้อยที่สุดเท่าใด

1. ก มีเงิน 4 บาท
2. ก มีเงิน 8 บาท
3. ข มีเงิน 4 บาท
4. ข มีเงิน 11 บาท

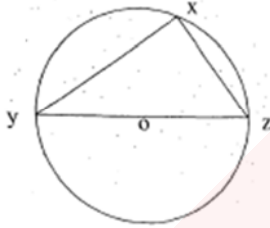
27. เวลา 15.30 น. เข็มสั้นและเข็มนยาวทำมุมกันกี่องศา

1.  $100^\circ$
2.  $90^\circ$
3.  $75^\circ$
4.  $60^\circ$

28. วงกลมวงหนึ่ง ถ้าวลากเส้นตรง 5 เส้น จะสามารถแบ่งส่วนของวงกลมวงนี้ได้มากที่สุดกี่ส่วน

1. 12 ส่วน
2. 13 ส่วน
3. 15 ส่วน
4. 16 ส่วน

29.



จากรูป

$$xy = 4 \text{ นิ้ว}$$

$$xz = 3 \text{ นิ้ว}$$

แสดงว่าวงกลมมีรัศมียาวเท่าใด

1. 1.5 นิ้ว
2. 2.5 นิ้ว
3. 3 นิ้ว
4. 5 นิ้ว

30. จากแบบรูปที่กำหนดให้ต่อไปนี้  $\frac{1}{2}, \frac{1}{6}, \frac{1}{12}, \frac{1}{20}, \frac{1}{30}, A, \frac{1}{56}, \frac{1}{72}$  แล้ว A แทนด้วย

จำนวนใด

1.  $\frac{1}{32}$
2.  $\frac{1}{36}$
3.  $\frac{1}{42}$
4.  $\frac{1}{48}$

31.  $6 + 5 - 4 \times 3 \div 2$  มีผลลัพธ์ตรงกับข้อใด

1. 5
2. 5.5
3. 10
4. 10.5

32. เป็ดมากกว่าหมู 1 ตัว หมูมากกว่าไก่ 2 ตัว ไก่มากกว่าวัว 3 ตัว และวัวมากกว่างู 4 ตัว ถ้าทั้งหมดมี 60 ตัว จะมีทั้งหมดกี่ขา

1. 150      2. 158      3. 164      4. 172

33. อีก 12 ปีข้างหน้า อัตราส่วนระหว่างอายุบุตรต่ออายุบิดาเป็น 1 : 3 ปัจจุบันบิดาอายุมากกว่าบุตร 34 ปี ปัจจุบันบิดาอายุเท่าไร

1. 34 ปี      2. 35 ปี  
3. 39 ปี      4. 40 ปี

34. กำหนดลำดับดังนี้ 9, 13, 17, 21, 25, ..., 353 ลำดับนี้มีจำนวนตัวเลขทั้งหมดกี่จำนวน

1. 86      2. 87      3. 88      4. 89

35. ในการสอบครั้งหนึ่งมีโจทย์ทั้งหมด 10 ข้อ โดยมีกฎอยู่ว่า ถ้าทำถูกต้องได้ คะแนน 1 คะแนน แต่ถ้าทำผิดหรือไม่ทำ จะถูกหักคะแนน 2 คะแนน ถ้ามงคลทำข้อสอบชุดนี้แล้วได้ คะแนน 1 คะแนน มงคลทำข้อสอบถูกทั้งหมดกี่ข้อ

1. 3      2. 4      3. 6      4. 7

36.  $\frac{1}{\frac{6}{\frac{5}{7} + \frac{6}{8}}}$  มีค่าเท่าใด

1.  $\frac{18}{41}$       2.  $\frac{9}{41}$   
3.  $\frac{4}{41}$       4.  $\frac{3}{41}$

37. จงหาค่า  $(64)^{\frac{1}{3}} + (0)^5 - (2)^0$

1. 0      2. 3  
3. 4      4. 9

38. นาย 1. พายเรือในน้ำนิ่ง ด้วยความเร็ว 20 เมตรต่อนาที ถ้ากระแสน้ำไหลด้วยความเร็ว 10 เมตรต่อนาที ถ้านาย 1. พายเรือตามน้ำเป็นระยะทาง 240 เมตร จะใช้เวลากี่นาที

1. 6 นาที      2. 7 นาที  
3. 8 นาที      4. 9 นาที

39. ลูกเสือ 3 คน เริ่มต้นโยกทรงพร้อมกันเมื่อเวลา 9.00 น. คนที่หนึ่งโยกทุก ๆ 15 นาที คนที่สองโยกทุก ๆ 20 นาที คนที่สามโยกทุก ๆ 30 นาที ลูกเสือทั้งสามคนจะ โยกทรงพร้อมกันอีกครั้งเวลาใด

1. 9.30 น.      2. 9.45 น.  
3. 10.00 น.      4. 11.00 น.

40. งานชิ้นหนึ่ง เดิมมีคนทำงาน 12 คน ต่อมามีคนงานลาออก 3 คน ทำให้งานเสร็จช้าลง 10 วัน ถ้าให้งานเสร็จเร็วขึ้น 12 วัน จะต้องเพิ่มคนงานกี่คน

- |       |       |
|-------|-------|
| 1. 6  | 2. 8  |
| 3. 10 | 4. 12 |

41. ข้อใดใช้ราชาศัพท์ที่ไม่ถูกต้อง

1. นายกรัฐมนตรีเป็นอาคันตุกะของพระบาทสมเด็จพระเจ้าอยู่หัว
2. ประธานาธิบดีเป็นพระราชอาคันตุกะของพระบาทสมเด็จพระเจ้าอยู่หัว
3. พระบาทสมเด็จพระเจ้าอยู่หัวทรงเป็นอาคันตุกะของประธานาธิบดี
4. สมเด็จพระราชาธิบดีแห่งบรูไนทรงเป็นพระราชอาคันตุกะของพระบาทสมเด็จพระเจ้าอยู่หัว

42. ข้อใดใช้คำราชาศัพท์ผิด

- |                   |                       |                      |            |
|-------------------|-----------------------|----------------------|------------|
| 1. ช้างทรงช้างนี้ | 2. พระเก้าอี้ทองคำนี้ | 3. พระสุนัขทรงเลี้ยง | 4. พระนาภี |
|-------------------|-----------------------|----------------------|------------|

43. ข้อใดมีคำที่อ่านผิดปรากฏอยู่

- |             |              |          |                   |
|-------------|--------------|----------|-------------------|
| 1. พุมเรียง | พุม-มะ-เรียง | 2. ภรรยา | พัน-ยา, พัน-ระ-ยา |
| 3. ภริยา    | พะ-ริ-ยา     | 4. มณฑป  | มน-ทป             |

44. ข้อใดมีคำที่อ่านผิดปรากฏอยู่

1. จุนลี
  2. ฉกษัตริย์
  3. ฉศก
  4. ชนมพรรษา
- |           |                       |       |              |
|-----------|-----------------------|-------|--------------|
| จุน-นะ-ลี | ฉ้อ-กะ-สัด, ฉอ-กะ-สัด | ฉะ-ศก | ชน-มะ-พัน-สา |
|-----------|-----------------------|-------|--------------|

45. ข้อใดมีคำที่อ่านผิดปรากฏอยู่

- |           |           |             |               |
|-----------|-----------|-------------|---------------|
| 1. มาติกา | มาด-ติ-กา | 2. มิกศัญญี | มิก-กะ-วัน-ยี |
| 3. เมรุ   | เมน       | 4. ยุติ     | ยุ-ติ         |

46. การกินเมล็ดแดง ไม่ต้องใช้ฟันหน้า \_\_\_\_\_ ให้เปลือกแตกก่อน

- |        |        |           |       |
|--------|--------|-----------|-------|
| 1. กัด | 2. แทะ | 3. เคี้ยว | 4. ขบ |
|--------|--------|-----------|-------|

47. ส่วนวนใดเขียนไม่ถูกต้อง

- |                              |                                  |
|------------------------------|----------------------------------|
| 1. เกรตรง เหยหน้าอัปาก       | 2. มือเป็นระวิง ไม่ถือัฐพส       |
| 3. ฝิซ้าด้าพลอย ต่อปากหลากคำ | 4. กงก่างเกวียน หัวมงกฎท้ายมังกร |

48. ข้อใดอ่านต่างจากข้ออื่น

1. บอกแล้วว่าอย่าดื่ม ๆ
2. คำพูดนี้น่าจะเกิดขึ้นจริง ๆ
3. อย่าทะเลาะกันด้วยเรื่องเล็ก ๆ น้อย ๆ เลย
4. ร้านค้ามีของต่าง ๆ มากมาย

49. ข้อใดเขียนคำทับศัพท์ภาษาอังกฤษได้ถูกต้องทุกคำ

1. เปอร์เซ็น พลาสติก คลินิก
2. ซอส เต็นท์ เบนซิน
3. กร๊าฟ ซ็อค สบริง
4. สวิตซ์ เซ็ต ดีเปรสชั่น

50. ข้อใดใช้ภาษาไม่กำกวม

1. น้ำมันเดือด
2. แม่ค้าขายส้มตำ
3. ใครไม่ไปให้บอกมานา
4. เรนอนตกหมอนจนคอแข็งหรือ

51. ข้อใดสะท้อนความรู้สึกของผู้แต่งคำประพันธ์ต่อไปนี้ได้ตรงที่สุด

- “เมื่อเมืองคนคับคับด้วยคนป่า คนดีก็ด้อยค่าเหมือนกรวดหิน  
เมื่อสัตว์ป่าสร้างป่าไว้หากิน สัตว์เมืองก็ต้องสิ้นวิสัยเมือง”
1. โกรธแค้น
  2. สมเพช
  3. ท้อแท้
  4. อนาคตใจ

52. สารข้อใดแสดงความคิดเชิงสร้างสรรค์

1. พระเสด็จโดยแดนชล ทรงเรือต้นงามเจิดฉาย
2. อันว่าความกรุณาปรานีจะมีใครบังคับก็หาไม่
3. มโหรีปี่โณจับใจแจ้ว วิเวกว้าวกลองโยนตะโพนกระหึ่ม
4. มีสองขามายืนบนผืนภพ มีตราครบคู่สมองมาส่องหน

53. ข้อใดสำนวนถูกต้อง

1. คนอะไรพูดอยู่ได้เหมือนตักน้ำรดหัวสากไม่จบสักที
2. ฐานะตนเองต่ำด้อยออกอย่างนี้ ไม่รู้จักตักน้ำใส่กะโหลกชะโงกดูเงาเสียบ้าง
3. กลุ่มนี้พอบทกันทีไรเป็นนิทานคน โน้นคนนี้อยู่เรื่อย จนใคร ๆ เขาเรียกกลุ่มปากหวานกันเปรี๊ยะ
4. เรื่องบางเรื่องมีข้อมูลนิดเดียวแต่เขาชอบพูดขยายความให้ยาวออกไปช่างปากไม่มีหูรอดเสียจริง ๆ

54. ส่วนวนในข้อใดไม่เหมาะสมที่จะเติมในข้อความต่อไปนี้

นายกฯ ขอร้องให้ทุกฝ่ายรัดเข็มขัด เพราะถ้ายังขึ้นทำทุกอย่างแบบ.....กันอยู่อย่างนี้  
บ้านเมืองคงไปไม่รอดแน่นอน

1. ฆ่าช้างเอางา
2. ตำน้าพริกละลายแม่น้ำ
3. ชี้อ้างจับตักแตน
4. ฆ่าควายเสียดายพริก

55. ข้อใดมีคำที่มาจากภาษาเขมรมากที่สุด

1. คุณครูบอกว่าห้ามนักเรียนหญิงใส่กระโปรงสั้นมาโรงเรียน
2. กลุ่มเขาทำงานสำเร็จได้ดีเพราะมีการประชุมวางแผนล่วงหน้า
3. ในหลวงเสด็จพระราชดำเนินทรงเปิดสะพานพระราม 8
4. คุณพ่อของเพื่อนฉันเป็นตำรวจออกตรวจทุกวัน

56. ข้อใดใช้คำลักษณนาม ไม่ถูกต้อง

1. ปากกาแท่งนี้ใช้งานดีมีคุณภาพ
2. บ้านนี้แมวเป็นฝูงกว่า 100 ตัว
3. แม่ค้าสั่งกับข้าวใส่กล่องจำนวน 10 กล่อง
4. 1 อำเภอ 1 โรงเรียนในพื้นที่จะมีอำเภอละ 1 แห่ง

57. ข้อใดใช้โวหารแบบสัทพจน์

1. ลิงค่างครางโครกครอกฝูงจิ้งจอกออกเห่าหอน
2. ชะนีวิเวกวอน นกหกร่อนนอนรังเรียง
3. ลูกนกยกปีกป้อง อ้าปากร้องซ้องแซ่เสียง
4. แม่นกปีกปีกเคียง เลี้ยงลูกอ่อนป้อนอาหาร

58. “ดวงตะวันพริ้มพรายทักทายโลก” ใช้โวหารภาพพจน์ชนิดใด

1. บุคคลวัต
2. อุปลักษณ์
3. สัตว์ลักษณ์
4. อธิพจน์

59. ขอขอบคุณไมตรีที่มีให้

ความหวังใยาทรแต่ก่อนมา

แม้วันนี้ไม่มีทางระหว่างเรา

ก็ไม่เศร้าเหงาหรือใจบอกรมา

ขอขอบคุณวันวานที่ผ่านล่วง

กับกลวงที่ทำให้ใจแกร่งกล้า

กับบทเรียนหนึ่งนี้มีราคา

ยากเกินกว่าซื้อหาเงินตราใด

น้ำเสียงของผู้แต่งบทประพันธ์ข้างต้นคือข้อใด

1. ชมชื่น
2. ตัดพ้อ
3. เลียดแค้น
4. ประชดประชัน



60. รุกขชาติค้ายศระคะป่า สกุนาจอแจประจำจับ  
คูเหว่าแ่วหวาดไหวฤทัยวับ จะแลกลับหลังเหลียวยังเปลี่ยวใจ  
บทประพันธ์ข้างต้นคิดค้นในแง่ใด
1. การเล่นคำ
  2. การใช้บุคลาธิษฐาน
  3. การสัมผัสสระ
  4. การสัมผัสอักษร

61. “บ้านของประยาตรมีอาชีพเลี้ยงไก่พันธุ์ไขครวละหลายร้อยตัวไก่เหล่านี้กำลังออกไปทุกวัน ประยาตรจึงตื่นแต่เช้าเก็บไข่ไก่ในเล้า ให้พ่อนำไปขายที่ตลาด” ข้อความข้างต้นเป็นโวหารชนิดใด

1. พรรณนาโวหาร
2. บรรยายโวหาร
3. สาธกโวหาร
4. อุปมาโวหาร

62. ข้อใดใช้ภาษาสมเหตุสมผลมากที่สุด

1. อนาคตของไทยจะมีมืดมิด หากเยาวชนคิดยาเสพติด
2. รักจริงคือรักแม่ รักแท้คือรักภรรยาหรือสามี
3. ที่ใดมีความเพียร การเรียนย่อมประสบผล
4. งานคือเงิน เงินงาน บันดาลสุข

63. ข้อใดเป็นสารแสดงข้อเท็จจริง

1. การอยู่ร่วมกันมากคนในครอบครัวใหญ่มีทั้งผลดีและผลเสีย โดยเฉพาะกับเด็ก
2. เด็กเล็ก ๆ ไม่ฉลาดสายตาผู้ใหญ่ น่าจะช่วยให้ผู้ใหญ่รู้สึกว่าคุณมีงานทำมีหน้าที่
3. ผู้ใหญ่มักเป็นตัวละครทำให้บ้านอบอุ่นจนร้อน เด็กไม่ใช่ตัวละครแต่เป็น โดยทางอ้อม
4. เด็กอาจเป็นต้นเหตุให้ผู้ใหญ่ผิดใจกันและในทางกลับกันก็อาจเป็นกาวใจให้ผู้ใหญ่คืนดีกัน

64. “ในการทำอะไรลงไปควรทำด้วยปัญญา อย่าทำไปด้วยอำนาจกิเลสตัณหา ถ้าเป็นคนที่ศึกษาก็ศึกษาด้วยรู้สึก ผิดชอบชั่วดี ว่ามันเป็นการสมควรอย่างยิ่งที่จะต้องศึกษา ถ้าประกอบการทำงานก็ต้องมีความรู้สึกผิดชอบชั่วดีว่าเป็นสิ่งที่ทุกคนควรกระทำและทำให้ดีที่สุดด้วยความเยือกเย็น ถ้าทำด้วยอำนาจปัญญาควบคุมอยู่จะไม่ใจร้อนเลย”

ใจความสำคัญของข้อความนี้คือข้อใด

1. ควรทำทุกสิ่งทุกอย่างด้วยปัญญา
2. ควรมีความรู้สึกผิดชอบชั่วดี
3. ควรใช้ปัญญาจะได้ใจเย็น
4. กิเลสตัณหาทำให้ใจร้อน

65. ข้อใดใช้คำเลียนเสียงธรรมชาติ หรือสัทพจน์

- |                                  |                           |
|----------------------------------|---------------------------|
| 1. ฦๅฦๅนวลก็กรวยกลอจับ           | 2. เบื้องเบื้องสำเนียงฟ้า |
| 3. กระเดื่องตำข้าวก็กราวเสียงไถล | 4. สนุกน้ำใจสมัยสายันต์   |

66. It would be ..... to wear your best clothes to a party and your jeans to a picnic.

- |             |                |
|-------------|----------------|
| 1. apparent | 2. approach    |
| 3. access   | 4. appropriate |

67. A loud noise may cause a ..... person to jump in his chair.

- |            |             |
|------------|-------------|
| 1. nervous | 2. dwelling |
| 3. genuine | 4. habitat  |

68. As we climbed up the hill, the beauty of the ..... became apparent.

- |              |              |
|--------------|--------------|
| 1. landgrave | 2. landfall  |
| 3. landlord  | 4. landscape |

69. What is the meaning of 'D.K.'

1. name of the application
2. name of the school
3. name of the director of Mulberry school
4. name of the director of Blackberry University

70. Our ..... is much concerned about the growth of the younger generation.

- |           |             |
|-----------|-------------|
| 1. effort | 2. function |
| 3. party  | 4. entrie   |

71. The official ending a marriage is \_\_\_\_\_

- |            |             |
|------------|-------------|
| 1. divorce | 2. marry    |
| 3. single  | 4. separate |

72. He wanted more and more money; he was \_\_\_\_\_

- |           |               |
|-----------|---------------|
| 1. gloomy | 2. gentle     |
| 3. greedy | 4. aggressive |

73. Whitney Houston \_\_\_\_\_ all her holiday doing jobs around the house.

- |          |           |
|----------|-----------|
| 1. spent | 2. gave   |
| 3. took  | 4. served |

74. I would like to order \_\_\_\_\_ soup.

- |          |             |
|----------|-------------|
| 1. steak | 2. medium   |
| 3. tea   | 4. mushroom |

75. A small dish for tobacco ash is a \_\_\_\_\_

- |            |           |
|------------|-----------|
| 1. ashtray | 2. sink   |
| 3. bin     | 4. bucket |

76. They \_\_\_\_\_ in Bangkok \_\_\_\_\_ they were young.

- |                      |                    |
|----------------------|--------------------|
| 1. have lived, since | 2. have lived, for |
| 3. lived, since      | 4. live, since     |

77. All of us remained ..... And became ..... when we heard his bad news.

- |                        |                          |
|------------------------|--------------------------|
| 1. quiet, frightened   | 2. quietly, frightened   |
| 3. quiet, frightenedly | 4. quietly, frightenedly |

78. The supervisor said no one was qualified for the job, \_\_\_\_\_?

- |              |              |
|--------------|--------------|
| 1. did he    | 2. was he    |
| 3. didn't he | 4. wasn't he |

79. I \_\_\_\_\_ go anywhere this weekend.

1. rather would not
2. rather not to
3. would rather not
4. wouldn't rather to

80. A : I wish you wouldn't go now.

B : I don't want to leave, but I \_\_\_\_\_.

- |            |            |
|------------|------------|
| 1. have to | 2. must to |
| 3. have    | 4. ought   |

81. Linda has never got a good grade in physics and \_\_\_\_\_.

1. so has her sister, Suda
2. so her sister, Suda, has not
3. neither her sister, Suda, has not
4. neither has her sister, Suda

82. If I \_\_\_\_\_ your advice, I would have passed the exam.

- |               |              |
|---------------|--------------|
| 1. took       | 2. take      |
| 3. would take | 4. had taken |

83. Mark and Lily studied in this school. Compared to the others, they are the \_\_\_\_\_ students.
1. bad two
  2. worse two
  3. two worst
  4. two worse
84. I live \_\_\_\_\_ a flat \_\_\_\_\_ the second floor \_\_\_\_\_ the Fifth Road.
1. in, at, at
  2. on, in, on
  3. in, on, at
  4. in, on, on
85. Some people eat so that they may live; \_\_\_\_\_ seem to live on order that they may eat.
1. the others
  2. others
  3. another
  4. the other
86. It is..... rainy in this month so tourists ..... Come to Thailand.
1. awful, hard
  2. awfully, hard
  3. awful, hardly
  4. awfully, haredly
87. All students, you walk most .....
1. quick
  2. quickly
  3. quicker
  4. quickest
88. Which is correct?
1. Dr. Boy won the shooting at the sport club easily last week.
  2. Dr. Boy won easily the shooting last week at the sport clu2.
  3. Dr. Boy won the shooting at the sport club last week easily.
  4. Dr. Boy won easily the shooting at the sport club last week.
89. Her story was so .....
1. bored
  2. bore
  3. boring
  4. bores
90. Ms. Pim has just bought .....
1. a pink Thai silk dress
  2. a Thai pink silk dress
  3. a silk Thai pink dress
  4. a Thai silk pink dress
91. I plan to tour Europe next year. By April 1978, I \_\_\_\_\_ u enough money for the trip.
1. save
  2. have saved
  3. will have saved
  4. will be saving
92. She is very \_\_\_\_\_ in this show. The show is \_\_\_\_\_.
1. interested, interest
  2. interesting, interested
  3. interested, interesting
  4. interest, interesting

93. They have \_\_\_\_\_ friends.

- |             |                |
|-------------|----------------|
| 1. a few    | 2. a little    |
| 3. very few | 4. very little |

94. Neither of those pictures \_\_\_\_\_ green color.

- |         |        |
|---------|--------|
| 1. have | 2. has |
| 3. is   | 4. are |

95. She \_\_\_\_\_ in this school \_\_\_\_\_ two years.

- |                     |                      |
|---------------------|----------------------|
| 1. studied, since   | 2. studies, since    |
| 3. has studied, for | 4. have studied, for |

96. Your friend has a headache. You say, "....."

- |                               |                                 |
|-------------------------------|---------------------------------|
| 1. See the doctor, please.    | 2. You ought to see the doctor. |
| 3. I want you to take a rest. | 4. You can take a rest.         |

97. Yesterday you and your brother were in the auditorium Dr. Anan made a speech about Thailand problems Your brother wants to know what you think about Dr. Anan's speech.

What would you reply?

- |                                   |                                     |
|-----------------------------------|-------------------------------------|
| 1. It was out of this world.      | 2. I'd rather not make any comment. |
| 3. Your guess is as good as mine. | 4. Weren't you one of the audience? |

98. She saw a recipe for cherry cake.

- |                               |                              |
|-------------------------------|------------------------------|
| 1. directions for making food | 2. a receipt for food served |
| 3. prescription               | 4. taste of food             |

99. Andy: You got a ticket yesterday, didn't you?

Tom: That's right. I drove through the one way street. It was the wrong way.

What happened to Tom ?

1. He drove through a drive-in theatre.
2. He was caught by Tom.
3. He went to the wrong direction.
4. He was not used to the route.

100. A : The weather is so col4.

B : .....

A : Oh, that's good ide1.

- |  |                               |
|--|-------------------------------|
| 1. You can't stay outside.               | 2. You may close the windows. |
| 3. You can turn off the air-conditioner. | 4. You should wear a sweater. |

### Conversation

At the shoes shop

Shop assistant : \_\_\_\_\_ 101 \_\_\_\_\_ ?

Dick : Yes, I'd like to buy a new pair of shoes.

Shop assistant : \_\_\_\_\_ 102 \_\_\_\_\_ ?

Dick : I'd like the black one on the top shelf.

101. 1. Good morning, sir. May I help you?  
2. Good morning, sir.  
3. Hello.  
4. Why are you here?
102. 1. What would you like?  
2. Do you like the black one?  
3. Which ones would you like?  
4. Could you like the black ones?

### Passage III (Items 22-24)

Does father take care of me ?

A father was talking to his young daughter, who was sitting comfortably on his lap.

Daughter : Does Mummy take care of me ?

Father : Of course she does. Your mother takes care of you when you are sick, tucks you to bed, and sings for you.

Daughter : Does Grandpa take care of me ?

Father : Of course. Your grandfather brings you gifts during the holidays.

Daughter : Does big sister take care of me ?

Father : Of course, she cooks for you and takes you to the park.

Daughter : Does Nanny take care of me ?

Father : Of course. Your nanny washes and irons your clothes and also cleans the house just for you.

Daughter : So, Mum was right – you are good for nothing Dad!

103. The word 'comfortably' can be replaced by .....
1. pleasantly
  2. awkwardly
  3. delight
  4. entertain

104. Which one is not true according to the passage ?

1. There are six members in family.
2. In the family, there are four females and two males.
3. Daddy always takes care of his little daughter.
4. Daddy has two daughters.

105. What is the main purpose of this conversation ?

1. appreciated
2. sarcastic
3. humorous
4. regret

106. ข้อใดเป็นอุปกรณ์คอมพิวเตอร์ที่ทำหน้าที่จัดเก็บข้อมูล

1. ซีพียู จอภาพ แผ่นซีดี
2. แผ่นซีดี ฮาร์ดดิสก์ แผ่นดิสก์
3. เครื่องพิมพ์ แผ่นซีดี ฮาร์ดดิสก์
4. แป้นพิมพ์ แผ่นดิสก์ เครื่องพิมพ์

107. เมื่อคอมพิวเตอร์รับข้อมูลแล้ว จะส่งข้อมูลต่อไปที่ส่วนใด

1. ซีพียู
2. ลำโพง
3. จอภาพ
4. เครื่องพิมพ์

108. เครื่องข่ายที่เชื่อมต่อกับคอมพิวเตอร์และอุปกรณ์ต่าง ๆ ด้วยสายเคเบิลยาวต่อเนื่องไปเรื่อย ๆ โดยจะมีคอนเน็กเตอร์เป็นตัวเชื่อมต่อกับคอมพิวเตอร์ และอุปกรณ์เข้ากับสายเคเบิลคือโครงสร้างแบบใด

1. โครงสร้างเครือข่ายแบบบัส
2. โครงสร้างเครือข่ายแบบดาว
3. โครงสร้างเครือข่ายแบบวงแหวน
4. โครงสร้างเครือข่ายแบบผสม

109. รายงานที่ทำทุก ๆ รายสัปดาห์ คือรายงานประเภทใด

1. Periodic Report
2. Exception Report
3. Demand Report
4. Ad hc Report

110. ยุคแรกของสารสนเทศคือยุคใด

1. TPS
2. MIS
3. EIS
4. DSS

111. สายส่งข้อมูลประเภทใดที่สามารถส่งข้อมูลได้เร็วและมีประสิทธิภาพมากที่สุด
1. Twisted Pair
  2. Coaxial Cable
  3. Fiber Optics
  4. Electric Wire
112. สายส่งข้อมูลประเภทไหนที่มีราคาถูกที่สุด
1. Twisted Pair
  2. Coaxial Cable
  3. Fiber Optics
  4. Electric Wire
113. ข้อใดคือข้อเสียของการประมวลผลแบบแบท (Batch Processing)
1. ทำได้ง่าย ประหยัดและตรงไปตรงมา
  2. ความล่าช้า เพราะต้องรอให้ข้อมูลเรียบร้อยก่อน
  3. ไม่สามารถใช้กับการประมวลผลข้อมูลที่มีขนาดใหญ่
  4. ทำงานได้รวดเร็ว
114. ข้อใดคือผู้ทำหน้าที่วิเคราะห์และออกแบบระบบ
1. Programmer
  2. System Analysis
  3. System Network
  4. System Designer
115. ในระบบเครือข่าย อุปกรณ์ใดมีความสำคัญมากที่สุด
1. สายสัญญาณ
  2. หัวเครือข่าย
  3. คิมเข้าหัวเครือข่าย
  4. เครื่องคอมพิวเตอร์เครือข่าย
116. อุปกรณ์เครือข่ายไร้สายมีหลักการทำงานอย่างไร
1. ส่งสัญญาณคลื่นไฟฟ้า
  2. ส่งสัญญาณคลื่นความถี่วิทยุ
  3. ส่งสัญญาณคลื่นแม่เหล็ก
  4. ถูกทุกข้อ
117. สายใยแก้วนำแสง (Fiber-Optic Cable) จัดอยู่ในทรัพยากรระบบสารสนเทศชนิดใด
1. ทรัพยากรฮาร์ดแวร์ (Hardware Resources)
  2. ทรัพยากรเครือข่าย (Network Resources)
  3. ทรัพยากรซอฟต์แวร์ (Software Resources)
  4. ทรัพยากรข้อมูล (Data Resources)
118. การป้อนข้อมูลแบบตัวเลข ผลลัพธ์ที่เกิดขึ้นจะเป็นอย่างไร
1. ตัวเลขจะชิดซ้ายวาอัตโนมัติ
  2. ตัวเลขจะชิดขวาอัตโนมัติ
  3. ตัวเลขจะกระจายเต็มเซลล์
  4. ตัวเลขจะชิดซ้ายอัตโนมัติ
119. ไฟล์รูปภาพชนิดใดที่ไม่นิยมนำมาสร้างเว็บเพจมากที่สุด
1. GIF
  2. JPEG
  3. JPG
  4. BMP



120. แถบเครื่องมือที่เป็นปุ่มคำสั่งที่ช่วยให้การทำงานเร็วขึ้น เราเรียกว่าอะไร

1. Mini Toolbars
2. Formula bar
3. Task pane
4. Menu bar

121. ไอพีแอดเดรสที่เครื่องคอมพิวเตอร์ได้รับเมื่อเชื่อมต่อเข้าสู่ระบบอินเทอร์เน็ตมีความหมายเดียวกับข้อใด

1. เลขที่ของเครื่องคอมพิวเตอร์
2. ความเร็วในการเชื่อมต่ออินเทอร์เน็ต
3. จำนวนเครื่องคอมพิวเตอร์ที่ออนไลน์
4. จำนวนการจราจรบนระบบเครือข่าย

122. Search Engine คืออะไร

1. บริการค้นหาข้อมูลโดยนำคำสำคัญไปเปรียบเทียบกับเว็บไซต์เพื่อหาคำนั้น
2. การโอนย้ายข้อมูลในเครื่องส่วนบุคคล
3. การโอนย้ายข้อมูลจากเครื่องส่วนบุคคลไปยังเครื่องแม่ข่าย
4. การโอนย้ายข้อมูลในเครื่องแม่ข่าย

123. ข้อใดเป็นองค์ประกอบของระบบสารสนเทศ

1. เครื่องคอมพิวเตอร์, ซอฟต์แวร์, ข้อมูลและสารสนเทศ, บุคลากร, กระบวนการทำงาน
2. ฮาร์ดแวร์, ซอฟต์แวร์, ข้อมูลและสารสนเทศ, ผู้ดูแลรักษาข้อมูล, กระบวนการทำงาน
3. ฮาร์ดแวร์, ซอฟต์แวร์, ข้อมูลและสารสนเทศ, ผู้ใช้งาน, ผู้พัฒนาระบบ
4. ฮาร์ดแวร์, ซอฟต์แวร์, ข้อมูลและสารสนเทศ, บุคลากร, กระบวนการทำงาน

124. ข้อมูล (Data) เมื่อนำไปผ่านการประมวลผล (Process) แล้วเรียกว่าอะไร

1. Computer
2. Information
3. Paper
4. Garbage

125. การจัดข้อมูลตามโครงสร้างข้อมูล ข้อใดไม่ได้ถูกจัดในโครงสร้างข้อมูล

1. หน่วยข้อมูล (Data Item)
2. เขตข้อมูล (Data Field)
3. ขยะข้อมูล (Data Garbage)
4. แฟ้มข้อมูล (Data File)

126. ชนิดของแฟ้มข้อมูลที่จัดเก็บใน Word มีสกุลต่อท้ายชื่อที่บันทึกเป็นอะไร

1. BMP
2. JPEG
3. TXT
4. DOC

127. เมื่อต้องการยกเลิกคำสั่งที่ได้สั่งไปแล้ว ใช้คำสั่งใด

- |                |           |
|----------------|-----------|
| 1. Cut         | 2. Move   |
| 3. Undo/Typing | 4. Delete |

128. หน้าแรกของเว็บเพจเรียกว่าอะไร

- |              |             |
|--------------|-------------|
| 1. Home Page | 2. Web Site |
| 3. Home Site | 4. Http     |

129. สิ่งใดต่อไปนี้มีมีความจำเป็นต้องใช้ในการต่อเชื่อมเครือข่ายแบบ BUS น้อยที่สุด

- |             |                             |
|-------------|-----------------------------|
| 1. LAN Card | 2. Network Operating System |
| 3. HUB      | 4. Topology                 |

จ. ข้อ 2. และ 4. ถูก

130. อุปกรณ์ในข้อใดทำหน้าที่แปลงสัญญาณจากสัญญาณแอนะล็อกเป็นสัญญาณดิจิทัล หรือสัญญาณดิจิทัลเป็น สัญญาณแอนะล็อก

- |                           |             |
|---------------------------|-------------|
| 1. User Card              | 2. LAN Card |
| 3. Network Interface Card | 4. Modem    |
- จ. ข้อ 2. และ 3. ถูก

131. กฎหมายใดที่ออกกรณีเร่งด่วน หรือมีเหตุพิเศษ

- |                                  |                  |
|----------------------------------|------------------|
| 1. พระราชบัญญัติประกอบรัฐธรรมนูญ | 2. พระราชกฤษฎีกา |
| 3. พระราชบัญญัติ                 | 4. พระราชกำหนด   |

132. ข้อใดคือหลักเกณฑ์การตีความกฎหมายอาญา

1. ตีความตามตัวอักษรและตามเจตนารมณ์
2. ตีความตามเจตนารมณ์
3. ตีความตามตัวอักษรโดยเคร่งครัด
4. ตีความขยายความลงโทษจำเลยได้

133. สิ่งใดไม่ถือว่าเป็นสภาพบังคับของกฎหมาย

- |                           |   |
|---------------------------|---|
| 1. การเสียสิทธิ           | 2. การรอกการลงโทษ                       |
| 3. การต้องชดใช้ค่าเสียหาย | 4. การป้องกันและปราบปรามผู้กระทำความผิด |

134. วินัยเดินเล่นในตลาดรังสิต เห็นคนวิ่งราวทรัพย์ วิจัยสามารถจับคนร้ายให้กับเจ้าหน้าที่ตำรวจได้หรือไม่

1. ไม่ได้ เพราะกฎหมายไม่ได้บัญญัติในสิทธิดังกล่าว
2. ไม่ได้ เพราะไม่มีเจ้าพนักงานนำจับ และขอความช่วยเหลือ
3. ได้ เพราะเป็นการกระทำผิดซึ่งหน้า และเป็นความผิดที่กฎหมายบัญญัติให้กระทำได้
4. ได้ เพราะเห็นว่าไม่เป็นอันตรายแก่ตนและผู้อื่น

135. พระราชบิดาแห่งกฎหมายไทยคือใคร

1. กรมพระยาดำรงราชานุภาพ
2. เจ้าพระยาสุรศักดิ์มนตรี
3. พระบาทสมเด็จพระจุลจอมเกล้าเจ้าอยู่หัว
4. กรมหลวงราชบุรีดิเรกฤทธิ์

136. ในคืนหนึ่งโจรลอบปีนขึ้นบ้านนายเอก ภริยานายเอกร้องให้คนช่วย โจรยกปีนขึ้นเตียงมาที่ภริยานายเอก กำลังจะยิง นายเอกจึงใช้ปืนยิงโจรเสียชีวิต ถูกโจรถึงแก่ความตายดังนี้

1. นายเอกกระทำด้วยความจำเป็น มีความผิดแต่ไม่ต้องรับโทษ
2. นายเอกกระทำโดยบันดาลโทสะ ศาลลงโทษน้อยลง
3. นายเอกกระทำการป้องกันโดยชอบด้วยกฎหมาย ไม่มีความผิดใด ๆ
4. ถูกทุกข้อ

137. การลงโทษทางกฎหมายแบ่งไม่รุนแรงเหมือนโทษทางอาญาเพราะอะไร

1. เมื่อกระทำความผิดแล้วไม่กระทบกระเทือนคนส่วนใหญ่
2. การกระทำความผิดเป็นเรื่องของเจตนา
3. การกระทำมีความผิดเล็กน้อย
4. การกระทำผิดแล้วไม่มีผู้เสียหาย

138. ข้อใดมิใช่นิติกรรม

1. การซื้อน้ำดื่มที่ร้านขายของ
2. การขอยืมเงินเพื่อน
3. การนำเงินดอลลาร์ไปแลกเป็นเงินบาท
4. การเล่นพนันฟุตบอล

139. ข้อใดไม่ใช่สภาพบังคับทางกฎหมายอาญา

1. อาชัณฑ์พัสลิน
2. ปรับ
3. ริบทรัพย์สิน
4. กักขังแทนค่าปรับ

140. แผนบริหารราชการ กฎหมายกำหนดให้จัดทำเป็นแผนกี่ปี

1. 1 ปี
2. 10 ปี
3. 4 ปี
4. 6 ปี

141. สำนวนว่า “กึ่งทองใบหยก” น่าจะสอดคล้องกับหลักเกณฑ์ในการเลือกคู่ครองตามหลักพระพุทธศาสนาในข้อใด

1. อิทธิบาท 4
2. สมชีวิธรรม 4
3. พรหมวิหาร 4
4. ฌราวาสธรรม 4

142. นุชทำงานได้เงินเดือน 8,000 บาทต่อเดือน อยากมีเงินเพิ่มเพราะตัวเองค่าใช้จ่ายมากจึงไปทำบัตรเครดิต 2 ใบ จากกรณีนี้นักเรียนคิดว่าภาระการทำของนุชไม่สอดคล้องกับสันโดษข้อใด

1. ขาดพลสันโดษ
2. ขาดลาภสันโดษ
3. ขาดสารูปสันโดษ
4. ทุกข้อที่กล่าวมา

143. ส่วนวนข้อใดตรงกับความหมายสัมมาทิฐิ

1. ไม่เชื่ออย่าลบหลู่
2. คนคิดกน้ำไม่ไหล
3. สถานการณ์สร้างวีรบุรุษ
4. คนรวยทำอะไรก็ไม่น่าเกลียด

144. ในทางพุทธศาสนานั้นความทุกข์มีความหมายตรงกับข้อใด

1. ร่างกายต้องเปลี่ยนแปลงเจ็บไข้อยู่เสมอ
2. จิตใจต้องพบความเศร้าและเสียใจอยู่เรื่อยๆ
3. สรรพสิ่งมีความเปลี่ยนแปลงไม่แน่นอน
4. ชีวิตมีปัญหาอยู่ตลอดเวลา

145. ธรรมะข้อใด ที่จะนำพาเราไปสู่ความสำเร็จที่ยั่งยืนถาวร

1. พรหมวิหาร 4
2. อิทธิบาท 4
3. สังคหวัตถุ 4
4. พละ 4

146. ข้อใดเป็นธรรมคุ้มครองโลก

1. ขันติ ไตรังคะ
2. หิริ โอตตัปปะ
3. สติ สัมปะชัญญะ
4. บุญกิริยาวัตถุ

147. แนวคิดในเรื่องเศรษฐกิจพอเพียงเป็นแนวคิดของบุคคลใด

1. พลเอกเปรม ติณสูลานนท์
2. พลเอกชวลิต ยงใจยุทธ
3. พันตำรวจโททักษิณ ชินวัตร
4. พระบาทสมเด็จพระเจ้าอยู่หัวภูมิพลอดุลยเดช

148. การดำเนินการตามแนวเศรษฐกิจพอเพียงบุคคลที่มีความสำคัญมากที่สุดคือใคร

1. นายกรัฐมนตรี
2. รัฐมนตรี
3. พ่อค้าคนกลาง
4. องค์กรชาวบ้าน

149. ข้อใดแสดงให้เห็นว่ามีการจัดระเบียบทางสังคมเกิดขึ้นแล้วในกลุ่มคน

1. เมื่อมีการกระทำต่อกันเป็นเวลานาน
2. เมื่อสมาชิกร่วมมือกันมากกว่าขัดแย้ง
3. เมื่อกลุ่มคนมีการกระทำระหว่างกัน
4. เมื่อความสัมพันธ์มีแบบแผน

150. วัฒนธรรมไทยมีการปรับเปลี่ยนตลอดเวลาเนื่องจากสาเหตุใดมากที่สุด

1. การเพิ่มขึ้นของประชากร
2. การติดต่อสัมพันธ์กับสังคมอื่น
3. การพัฒนาทางเทคโนโลยี
4. การเปลี่ยนแปลงทางการเมืองการปกครอง

### แบบประเมินตนเอง สายปราบปราม

วิชา	ข้อ	ทำได้	คิดเป็นเปอร์เซ็นต์	หมายเหตุ
1. ความสามารถทั่วไป	40		$\frac{\quad}{40} \times 100 = \underline{\quad}$	
2. ภาษาไทย	25		$\frac{\quad}{25} \times 100 = \underline{\quad}$	
3. ภาษาต่างประเทศ (ภาษาอังกฤษ)	40		$\frac{\quad}{40} \times 100 = \underline{\quad}$	
4. เทคโนโลยีสารสนเทศ	25		$\frac{\quad}{25} \times 100 = \underline{\quad}$	
5. กฎหมายที่ประชาชนควรรู้	10		$\frac{\quad}{10} \times 100 = \underline{\quad}$	
6. สังคม วัฒนธรรม จริยธรรม	10		$\frac{\quad}{10} \times 100 = \underline{\quad}$	
รวม	150		$\frac{\quad}{150} \times 100 = \underline{\quad}$	

### แบบประเมินเชิงเส้น

(คะแนนที่ได้)



ช่องใส่คะแนน

0	1	2	3	4	5	6	7	8	9	10
---	---	---	---	---	---	---	---	---	---	----

NINE100.COM

ทดสอบความรู้ความสามารถ ด้วยวิธีสอบข้อเขียน ข้อสอบปรนัย 4 ตัวเลือก

1	2.	26	3.	51	3.	76	1.	101	1.	126	4.
2	4.	27	3.	52	4.	77	1.	102	3.	127	3.
3	3.	28	4.	53	2.	78	3.	103	1.	128	1.
4	3.	29	2.	54	4.	79	3.	104	3.	129	4.
5	4.	30	3.	55	3.	80	1.	105	2.	130	4.
6	3.	31	1.	56	1.	81	4.	106	2.	131	4.
7	2.	32	2.	57	1.	82	4.	107	1.	132	3.
8	2.	33	3.	58	1.	83	3.	108	1.	133	4.
9	2.	34	2.	59	4.	84	4.	109	1.	134	3.
10	4.	35	4.	60	4.	85	2.	110	1.	135	4.
11	3.	36	3.	61	2.	86	4.	111	3.	136	3.
12	1.	37	2.	62	4.	87	2.	112	1.	137	1.
13	1.	38	3.	63	1.	88	4.	113	2.	138	4.
14	2.	39	3.	64	1.	89	3.	114	2.	139	1.
15	3.	40	2.	65	2.	90	1.	115	4.	140	3.
16	1.	41	1.	66	4.	91	3.	116	2.	141	2.
17	2.	42	3.	67	1.	92	3.	117	2.	142	2.
18	1.	43	4.	68	4.	93	1.	118	2.	143	2.
19	3.	44	3.	69	1.	94	2.	119	4.	144	3.
20	3.	45	4.	70	3.	95	3.	120	1.	145	2.
21	3.	46	4.	71	1.	96	2.	121	1.	146	2.
22	1.	47	4.	72	3.	97	3.	122	1.	147	4.
23	2.	48	1.	73	1.	98	1.	123	4.	148	4.
24	3.	49	4.	74	4.	99	3.	124	2.	149	4.
25	3.	50	4.	75	1.	100	4.	125	3.	150	2.

# กระดาษคำตอบ

**NINE100.COM**

## คำแนะนำ

- ใช้ดินสอดำ 2B ขึ้นไป ระบายวงกลมทุกวงที่ต้องการให้คำตอบ
- ถ้าต้องการแก้ไข ให้ใช้ยางลบลบให้สะอาดก่อน จึงระบายวงใหม่
- ห้ามขีดเขียนสิ่งอื่นใดนอกเหนือจากที่ระบุไว้

## ตัวอย่าง

- ① ② ③ ● ← ถูกวิธี  
① ② ③ ◐ ← ผิดวิธี  
① ⊗ ③ ● ← ผิดวิธี  
① ② ③ ④ ← ผิดวิธี

1 ① ② ③ ④	26 ① ② ③ ④	51 ① ② ③ ④	76 ① ② ③ ④	101 ① ② ③ ④	126 ① ② ③ ④
2 ① ② ③ ④	27 ① ② ③ ④	52 ① ② ③ ④	77 ① ② ③ ④	102 ① ② ③ ④	127 ① ② ③ ④
3 ① ② ③ ④	28 ① ② ③ ④	53 ① ② ③ ④	78 ① ② ③ ④	103 ① ② ③ ④	128 ① ② ③ ④
4 ① ② ③ ④	29 ① ② ③ ④	54 ① ② ③ ④	79 ① ② ③ ④	104 ① ② ③ ④	129 ① ② ③ ④
5 ① ② ③ ④	30 ① ② ③ ④	55 ① ② ③ ④	80 ① ② ③ ④	105 ① ② ③ ④	130 ① ② ③ ④
6 ① ② ③ ④	31 ① ② ③ ④	56 ① ② ③ ④	81 ① ② ③ ④	106 ① ② ③ ④	131 ① ② ③ ④
7 ① ② ③ ④	32 ① ② ③ ④	57 ① ② ③ ④	82 ① ② ③ ④	107 ① ② ③ ④	132 ① ② ③ ④
8 ① ② ③ ④	33 ① ② ③ ④	58 ① ② ③ ④	83 ① ② ③ ④	108 ① ② ③ ④	133 ① ② ③ ④
9 ① ② ③ ④	34 ① ② ③ ④	59 ① ② ③ ④	84 ① ② ③ ④	109 ① ② ③ ④	134 ① ② ③ ④
10 ① ② ③ ④	35 ① ② ③ ④	60 ① ② ③ ④	85 ① ② ③ ④	110 ① ② ③ ④	135 ① ② ③ ④
11 ① ② ③ ④	36 ① ② ③ ④	61 ① ② ③ ④	86 ① ② ③ ④	111 ① ② ③ ④	136 ① ② ③ ④
12 ① ② ③ ④	37 ① ② ③ ④	62 ① ② ③ ④	87 ① ② ③ ④	112 ① ② ③ ④	137 ① ② ③ ④
13 ① ② ③ ④	38 ① ② ③ ④	63 ① ② ③ ④	88 ① ② ③ ④	113 ① ② ③ ④	138 ① ② ③ ④
14 ① ② ③ ④	39 ① ② ③ ④	64 ① ② ③ ④	89 ① ② ③ ④	114 ① ② ③ ④	139 ① ② ③ ④
15 ① ② ③ ④	40 ① ② ③ ④	65 ① ② ③ ④	90 ① ② ③ ④	115 ① ② ③ ④	140 ① ② ③ ④
16 ① ② ③ ④	41 ① ② ③ ④	66 ① ② ③ ④	91 ① ② ③ ④	116 ① ② ③ ④	141 ① ② ③ ④
17 ① ② ③ ④	42 ① ② ③ ④	67 ① ② ③ ④	92 ① ② ③ ④	117 ① ② ③ ④	142 ① ② ③ ④
18 ① ② ③ ④	43 ① ② ③ ④	68 ① ② ③ ④	93 ① ② ③ ④	118 ① ② ③ ④	143 ① ② ③ ④
19 ① ② ③ ④	44 ① ② ③ ④	69 ① ② ③ ④	94 ① ② ③ ④	119 ① ② ③ ④	144 ① ② ③ ④
20 ① ② ③ ④	45 ① ② ③ ④	70 ① ② ③ ④	95 ① ② ③ ④	120 ① ② ③ ④	145 ① ② ③ ④
21 ① ② ③ ④	46 ① ② ③ ④	71 ① ② ③ ④	96 ① ② ③ ④	121 ① ② ③ ④	146 ① ② ③ ④
22 ① ② ③ ④	47 ① ② ③ ④	72 ① ② ③ ④	97 ① ② ③ ④	122 ① ② ③ ④	147 ① ② ③ ④
23 ① ② ③ ④	48 ① ② ③ ④	73 ① ② ③ ④	98 ① ② ③ ④	123 ① ② ③ ④	148 ① ② ③ ④
24 ① ② ③ ④	49 ① ② ③ ④	74 ① ② ③ ④	99 ① ② ③ ④	124 ① ② ③ ④	149 ① ② ③ ④
25 ① ② ③ ④	50 ① ② ③ ④	75 ① ② ③ ④	100 ① ② ③ ④	125 ① ② ③ ④	150 ① ② ③ ④





8. จากการสุ่มน้ำหนักกระเป๋าของนักเรียน ม.6 พบว่ามีน้ำหนักกระเป๋าดังนี้ 5 9 9 10 5 10 11 8 5 พิสัยมีค่าเท่าไร

- |      |      |
|------|------|
| 1. 4 | 2. 5 |
| 3. 6 | 4. 7 |

9. จากข้อมูล 2,2,2,3,4,4,5,4,5,9 พิสัยตรงกับข้อใด

- |      |      |
|------|------|
| 1. 2 | 2. 4 |
| 3. 5 | 4. 7 |

10. ถ้ารัศมีวงกลมลดลง 10% อยากทราบว่าพื้นที่ของวงกลมจะลดลงกี่เปอร์เซ็นต์

- |        |        |
|--------|--------|
| 1. 19% | 2. 81% |
| 3. 60% | 4. 70% |

11. รัศมีวงกลมเพิ่มขึ้น 100% พื้นที่ของวงกลมจะเพิ่มขึ้นเท่าไร

- |           |           |
|-----------|-----------|
| 1. 2 เท่า | 2. 4 เท่า |
| 3. 6 เท่า | 4. 8 เท่า |

12. แท็งก์น้ำรูปทรงสี่เหลี่ยมมุมฉาก กว้าง 2 เมตร ยาว 2.5 เมตร สูง 3 เมตร บรรจุน้ำอยู่  $\frac{2}{3}$  ของความสูง

ของแท็งก์ ถ้าต้องการเปิดน้ำออกจากแท็งก์ใส่ถังที่มีปริมาตร 2 ลูกบาศก์เมตร จะใส่น้ำได้เต็มถังถึงถัง

- |       |       |
|-------|-------|
| 1. 25 | 2. 20 |
| 3. 15 | 4. 5  |

13. ถังน้ำทรงสี่เหลี่ยมมุมฉากกว้าง 2 เมตร ยาว 3 เมตร สูง 2 เมตร ถ้าใส่น้ำครึ่งถัง จะมีน้ำเท่าไร

- |                   |                    |
|-------------------|--------------------|
| 1. 2 ลูกบาศก์เมตร | 2. 3 ลูกบาศก์เมตร  |
| 3. 6 ลูกบาศก์เมตร | 4. 12 ลูกบาศก์เมตร |

14.  $\frac{1}{3} \frac{1}{6} \frac{1}{9} \frac{1}{12} \frac{1}{15} \dots$

- |                   |                   |                   |                   |
|-------------------|-------------------|-------------------|-------------------|
| 1. $\frac{1}{17}$ | 2. $\frac{1}{18}$ | 3. $\frac{1}{20}$ | 4. $\frac{1}{21}$ |
|-------------------|-------------------|-------------------|-------------------|

15. 33 67 136 275 554 ...?

- |         |         |
|---------|---------|
| 1. 1113 | 2. 1442 |
| 3. 1667 | 4. 1699 |

16. 8 10 15 26 46 .....

1. 56  
2. 60  
3. 74  
4. 78

17. 3 12 27 48 75 ?

1. 104  
2. 106  
3. 108  
4. 110

18. ที่ทำงานแห่งหนึ่งมีพนักงาน 30 คน เมื่อถึงวันขึ้นปีใหม่ทุกคนต้องแจกการ์ดให้เพื่อนครบทุกคน ถ้านำการ์ดทั้งหมดมารวมกันจะได้ทั้งหมดกี่ใบ

1. 800 ใบ  
2. 840 ใบ  
3. 870 ใบ  
4. 890 ใบ

19. แดงฝากเงินอยู่ 2 ปี ได้ดอกเบี้ยคงต้น 400 บาท ถ้าอัตราดอกเบี้ย 8 เปอร์เซ็นต์ต่อปี เงินต้นทั้งหมดเท่าไร

1. 2,500 บาท  
2. 3,000 บาท  
3. 3,500 บาท  
4. 4,000 บาท

20. สุเทพขับรถด้วยความเร็ว 80 กิโลเมตรต่อชั่วโมง ถ้าเขาเดินทางระยะทาง 100 กิโลเมตร เขาใช้เวลานานเท่าใด

1. 1 ชั่วโมง 25 นาที  
2. 1 ชั่วโมง 15 นาที  
3. 1 ชั่วโมง 10 นาที  
4. 1 ชั่วโมง 5 นาที

21.  $\frac{2\ 4\ 6\ 8}{3\ 5\ 7\ 9} \dots$

1.  $\frac{10}{11}$   
2.  $\frac{12}{11}$   
3.  $\frac{16}{11}$   
4.  $\frac{16}{12}$

22.  $\frac{a}{25}$  เป็นกี่เท่าของ  $2a$

1. 50 เท่า  
2. 25 เท่า  
3.  $\frac{1}{25}$  เท่า  
4.  $\frac{1}{50}$  เท่า

23. เมื่อ 10 ปีก่อน อ้อมอายุ  $x$  ปี อีก  $a$  ปี อ้อมจะมีอายุเท่าไร

1.  $(x-10)+a$  ปี  
2.  $x-12-a$  ปี  
3.  $(10-x) + a$  ปี  
4.  $(x+10) + a$  ปี

24. พ่อค้าประกาศขายสินค้าโดยคิดเอากำไร 30% แต่เมื่อลูกค้ามาซื้อ พ่อค้าลดให้ 10% พ่อค้ายังได้กำไรกี่ %

1. 20%  
2. 17%  
3. 15 %  
4. 11%

25. พ่อแบ่งที่ดินให้ลูก 3 คน คนละ 144 ตารางวาที่เหลือเป็นที่ปลูกบ้านของพ่อ 72 ตารางวา พ่อมีที่ดินทั้งหมดกี่ตารางวา

1. 504 ตารางวา      2. 412 ตารางวา      3. 226 ตารางวา      4. 130 ตารางวา

26. หมูกับไก่ ถ้านับขาหมูมากกว่าขาไก่ อยู่ 8 ขา แต่ถ้านับหัวไก่มากกว่าหมูอยู่ 8 หัว อยากทราบว่าหมูกี่ตัว

1. 10 ตัว      2. 12 ตัว  
3. 18 ตัว      4. 20 ตัว


27. จากการสำรวจความนิยมเกี่ยวกับการใช้พัดลม พบว่า แม่บ้าน 60% ใช้พัดลมชนิดตั้งโต๊ะ 45% ใช้ชนิดแขวนเพดาน และ 15% ใช้ทั้งสองชนิด อยากทราบว่าแม่บ้านที่ไม่ใช้พัดลมทั้งสองชนิดมีกี่เปอร์เซ็นต์

1. 4%      2. 5%      3. 10%      4. 20%

28. กำหนดสมการ  $2x-4 = 8$  ดังนั้น  $x$  มีค่าเท่ากับเท่าใด

1. 6      2. 8  
3. 10      4. 14

29. ถ้า A, B อยู่บนเส้นตรง CD และ  $CA = BD = AB$  ดังนั้น  $AB : CD$  มีค่าเท่าไร



1. 1:3      2. 1:2  
3. 1:1      4. 2:3

30. มีเหรียญ 10 ก๊ับเหรียญ 5 รวมกัน 155 บาท ถ้ามีเหรียญทั้งหมด 20 เหรียญ จะมีเหรียญ 10 มากกว่าเหรียญ 5 กี่เหรียญ

1. 2      2. 3  
3. 4      4. 5

31. ไข่เป็ด 5 ฟอง ราคา 8 บาท ไข่เค็มครึ่งโหล 12 บาท ไข่เค็มแพงกว่าไข่เป็ดร้อยละเท่าใด

1. 20      2. 25  
3. 30      4. 40

32. ในการสอบนายสิบตำรวจวิชาความสามารถทั่วไป คะแนนเต็ม 100 คะแนน เอกชัยชนะศรีวิชัย 20 คะแนน และศรีวิชัยชนะดวงใจ 15 คะแนน ถ้าเอกชัยกับดวงใจแข่งขันกัน เอกชัยจะชนะดวงใจกี่คะแนน

1. 15 คะแนน      2. 20 คะแนน      3. 35 คะแนน      4. 40 คะแนน

33. นำน้ำตาลแดง 4 กก. ราคา กก. ละ 5 บาท ผสมกับน้ำตาลขาว 6 กก. ราคา กก. 7.50 บาท น้ำตาลผสม กก. ละกี่บาท

- |             |             |
|-------------|-------------|
| 1. 5.25 บาท | 2. 5.50 บาท |
| 3. 6.25 บาท | 4. 6.50 บาท |

34. จากเมือง ก มีถนนไปเมือง ข 7 สาย และจากเมือง ข มีถนนไปเมือง ค 5 สาย ถ้านายชนธิ์ขับรถจากเมือง ก ไปเมือง ค โดยผ่านเมือง ข จะใช้เส้นทางที่แตกต่างกันได้ทั้งหมดกี่ทาง

- |            |            |
|------------|------------|
| 1. 12 วิธี | 2. 35 วิธี |
| 3. 48 วิธี | 4. 74 วิธี |

35. รถยนต์คันหนึ่ง เมื่อเติมน้ำมัน 48 ลิตร จะวิ่งได้ระยะทาง 1,056 กิโลเมตร ถ้าวินิจฉัยคันหนึ่งวิ่งใน ระยะทาง 101 กิโลเมตร จะต้องใช้น้ำมันประมาณกี่ลิตร

- |           |           |           |           |
|-----------|-----------|-----------|-----------|
| 1. 4 ลิตร | 2. 5 ลิตร | 3. 6 ลิตร | 4. 7 ลิตร |
|-----------|-----------|-----------|-----------|

36. นักเรียนชั้นมัธยมศึกษาปีที่ 4 มีทั้งหมด 350 คน ชอบเล่นฟุตบอล 190 คนชอบเล่นบาสเกตบอล 180 คน อยากรหาว่า มีคนชอบเล่นฟุตบอลและบาสเกตบอลจำนวนกี่คน

- |          |          |
|----------|----------|
| 1. 10 คน | 2. 15 คน |
| 3. 20 คน | 4. 25 คน |

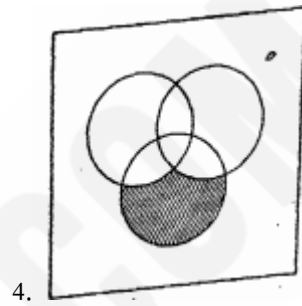
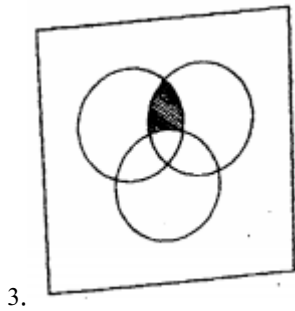
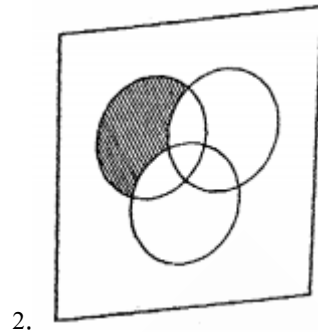
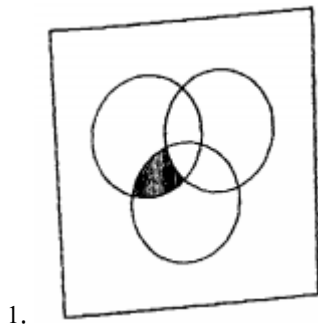
37. นักเรียนห้องหนึ่ง เลือกเรียนวิชาฟิสิกส์ 22 คน เลือกเรียนวิชาเคมี 30 คน เลือกเรียนทั้งสองวิชา 9 คน และนักเรียนทุกคนเลือกเรียนอย่างน้อย 1 วิชา อยากรหาว่านักเรียนห้องดังกล่าวมีกี่คน

- |          |          |          |          |
|----------|----------|----------|----------|
| 1. 32 คน | 2. 35 คน | 3. 42 คน | 4. 43 คน |
|----------|----------|----------|----------|

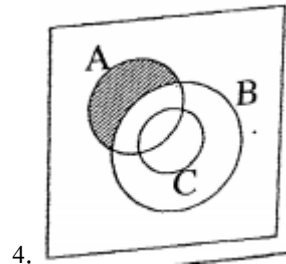
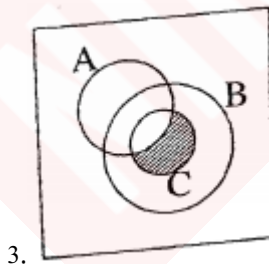
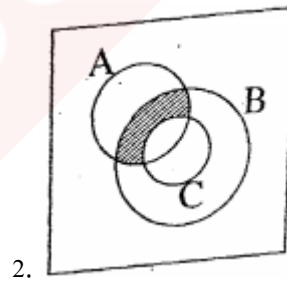
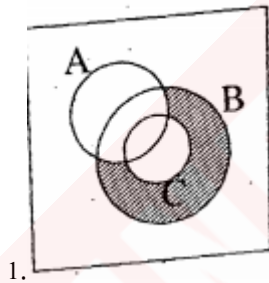
38. นักกีฬาคนหนึ่งแข่งขันมาแล้ว 60 ครั้ง ปรากฏว่าเขาชนะมาได้ทั้งหมด 45 ครั้ง โดยเขาตั้งใจจะแข่งอีก 30 ครั้ง เขาจะเลิกแข่งขัน ถ้าเขาต้องการมีสถิติชนะ 80% เขาต้องชนะอีกกี่ครั้ง

- |             |             |             |             |
|-------------|-------------|-------------|-------------|
| 1. 20 ครั้ง | 2. 24 ครั้ง | 3. 27 ครั้ง | 4. 29 ครั้ง |
|-------------|-------------|-------------|-------------|

39. ข้อใดตรงกับ  $(A - B) \cap C$



40. ข้อใดตรงกับ  $(A \cap B) - C$



41. พยางค์คืออะไร

1. หน่วยที่เล็กที่สุดของภาษาไทย
2. เสียงที่เปล่งออกมา มีความหมายหรือไม่ก็ได้
3. เสียงที่เปล่งออกมา ต้องมีความหมาย
4. หน่วยของภาษาไทย ที่สะกดตรงตามมาตรา ทุกคำ

42. ข้อใดกล่าวถูกต้องเกี่ยวกับประโยคความซ้อน

1. ประโยคที่ใจความเดียวเท่านั้น
2. ประโยคที่มีคำสันธานทำหน้าที่เชื่อมประโยค
3. ประโยคที่มีใจความสำคัญมากที่สุด
4. ประโยคที่มีประโยคหลักและประโยคย่อย

43. ข้อใดคือความหมายของคำซ้อน

1. นำคำที่ไม่มีมีความหมายมารวมกัน
2. นำคำที่มีความหมายต่างกันมารวมกัน
3. นำคำที่มีความหมายเหมือนกันมารวมกัน
4. นำคำที่มีความหมายคล้ายกัน หรือตรงกันข้ามกันมารวมกัน

44. ข้อใดมีคำซ้ำ

1. นักยิมนาสติกทำพลาดพลาดทำบังคับ
2. เมืองไทยไม่มีคนจนอดอดตาย
3. เขาได้เงินเดือนเดือนละครั้ง
4. เขาพูดแต่เรื่องเงินเงินทองทอง

45. ข้อใดเป็นประโยคความเดียว

- |                                    |  |
|------------------------------------|--|
| 1. รถเล่นมาดี ๆ ก็พลิกคว่ำ         | 2. งูตัวข้อยเกาะกิ่งไม้ที่ริมรั้ว          |
| 3. แม่น้ำสายยาวไหลเซาะตลิ่งพังทลาย | 4. คุณตานัดรามวยเงินกับเพื่อนๆ ทุกวันเสาร์ |

46. ข้อใดกวีไม่ใช่คำอุปมาอุปไมย

- |                              |                                |
|------------------------------|--------------------------------|
| 1. เย็นพระศพปูนเดือน เค้นฟ้า | 2. เกษมสุขส่องสมบุรณ์ บ้านทวีป |
| 3. คุณแม่หนาหนักเพียง พสุธา  | 4. คุณพี่ฟ้างศรียา เมรุมาศ     |

47. ข้อใดใช้สัญลักษณ์

1. กระฉิ่งนครชัยศรีร่วงทักทาย เหลืองแดงรายรับขวัญบัณฑิตโดม
2. น้ำเซาะหินรินรินหลากไหล ไม่ลับเลยชั่วฟ้าดินสลาย
3. น้อยนักวังตะไคร้แต่ไสนัก มีความรักชุกซ่อนทุกก้อนหิน
4. พระน้องเอยแต่จากเจ้า ทุกคำเข้าและยามเย็น

48. ข้อใดใช้ภาษาอย่างเป็นทางการ

1. วันนี้นักเรียนนายสิบมาสอบกันเยอะแยะมากมาย
2. เมื่อคืนนี้ฉัน ไปดูหนังเรื่องตำนานพระนเรศวรมา
3. ร้อยเวรนำตัวผู้ต้องหาเข้าไปฝากขังไว้ที่เรือนจำบางขวาง
4. ฉันเป็นนักศึกษากำลังเรียนอยู่ที่สถาบันเทคโนโลยีราชมงคล

49. ข้อใดไม่ใช่ความหมายโดยนัย

1. ชายผู้ไม่เข้าหูเกือบเกิดเรื่องทะเลาะวิวาทหลายครั้ง
2. ชิดเป็นเด็กเลี้ยงแกะอยู่ที่จังหวัดเพชรบุรี
3. ขอบเป็นเด็กที่ชุกชนเป็นลิงมากๆ
4. อาจารย์ชาติออกข้อสอบภาษาไทยฉบับนี้ได้หินจริงๆ

50. ข้อใดคืออุปมาโวหาร

1. ลมโซพัดกิ่งไม้โบกไหวนำเอากลิ่นหอมๆ ของดินตติมาด้วย
2. การละเล่นไทยมีมากมาย เช่น อีตัก ม้าก้านกล้วย ตีจับ
3. น้ำเต้าคือพีชชนิดหนึ่งมีลักษณะคล้ายฟักสามารถนำมาปรุงอาหารได้
4. เวลาที่เหมือนสายน้ำไหล ถ้าผ่านไปแล้วคงไม่มีหวังจะหวนย้อนกลับมา

51. ข้อใดใช้คำกริยาไม่ถูกต้อง

1. ถ้าเขาไม่จำกัดตัวเองจากคนกลุ่มอื่น เขาก็เป็นที่รู้จักมากกว่านี้
2. เขาทำงานหนักมาก ไม่ค่อยมีเวลาว่างให้ครอบครัว ในที่สุดก็ต้องเลิกกับภรรยา
3. นายช่างไม่ถือตัวเลย ช่วงพักกลางวันเขามักร่วมวงรับประทานอาหารกับคนงาน
4. นักท่องเที่ยวประทับใจที่เครื่องประดับของไทยราคาถูกแต่มีคุณภาพสูง



52. ข้อใดไม่มีที่มาจากภาษาเขมร

1. โปรดเอื้อเพื่อแก่เด็กและคนชรา
2. เราจะไปรับหลานสาวที่สถานีบางซื่อ
3. นวนิยายเรื่องนี้ดำเนินเรื่องได้กระชับดี
4. เขาเป็นคนเจ้าสำราญมาตั้งแต่ยังหนุ่ม

53. ข้อใดมีคำควบกล้ำไม่แท้ปนอยู่มากที่สุด

1. โธ่โธรมเสร์้าเหงาทุกข์
2. สนุกทรงรวงป่วงวิถี
3. ทร์พย์จ้างสร้างทุกข์ทวี
4. โสมศรีแสร์งทรงถ่วงใจ

54. ข้อใดมีจำนวนพยางค์เท่ากับคำว่า “อินทรีย์”

1. ลำไย บังสุกุล
2. เยาว์วัย ฆาตกร
3. เซ็นชื่อ ฉชาติ
4. ครองราชย์ กะเพรา

55. การพูดในข้อใดมีผลเสียน้อยที่สุด

1. พูดปากกล้าคารมคมเป็นกรด
2. พูดประชดหมดสนุกเพื่อนลูกหนี
3. พูดก้าวร้าวไม่หวั่นไหวว่าภัยมี
4. พูดเสียดสีปวดแสบแปลบถึงใจ

56. คำในข้อใดที่สลับตำแหน่งแล้วยังมีความหมายคงเดิม

1. ตอบโต้ ร้องเรียก เบิกบาน
2. มัวหมอง อยู่กิน เหลียวแล
3. หลับนอน หนาแน่น อดทน
4. แหนงหน้าย จัดเจน แคล้วคลาด

57. พระบาทสมเด็จพระเจ้าอยู่หัวทรงพระสำราญพระราชหฤทัย คำที่ขีดเส้นใต้มีความหมายตรงกับข้อใด

1. สดชื่น
2. สบายกาย
3. สดใส
4. สบายใจ

58. ข้อใดใช้ภาษาได้ถูกต้อง

1. สมเด็จพระบรมราชินีนาถทรงลงพระปรมาภิไธยในสมุดเยี่ยม
2. นักศึกษาพยาบาลถวายการต้อนรับสมเด็จพระบรมราชินีนาถ
3. วันที่ 5 ธันวาคม พ.ศ. 2470 เป็นวันเฉลิมพระชนมพรรษาของพระบาทสมเด็จพระเจ้าอยู่หัว
4. มีผู้ทูลเกล้าถวายเสื่อผ้าแด่พระบาทสมเด็จพระเจ้าอยู่หัวเพื่อพระราชทานแก่เด็กนักเรียนยากจน

59. “โดยส่วนตัวของผม กินได้ก็กิน กินแล้วอึด ไม่ว่าจะเนื้อสัตว์แปรรูปหรืออาหารอื่นๆ เพราะถ้าจะเอาจริงมันก็มีเชื้อโรคทุกอย่างนั่นแหละ แต่ถ้าไม่คิดอะไรก็ไม่มีอะไร”

1. ไม่วิตก
2. ไม่เชื่อถือ
3. ไม่ใส่ใจ
4. ไม่ร้อนใจ

60. “สิ่งที่ดีที่สุดในชีวิตของคนคนหนึ่ง มิได้มีความหมายว่าสิ่งนั้นจะต้องดีงามสำหรับทุกชีวิตเสมอไป จงเลือกรับเอาเฉพาะสิ่งที่ดีเหมาะสมกับชีวิตเรามากที่สุด”

ข้อใดคือ “สาร” ที่ผู้เขียนต้องการเสนอมากที่สุด

1. คนเรามีทัศนคติต่างกัน
2. คนเรามีวิถีชีวิตต่างกัน
3. คนเรามีจุดมุ่งหมายชีวิตต่างกัน
4. คนเรามีโอกาสในชีวิตต่างกัน

61. “ผู้มีอาชีพที่คนทั่วไปนับถือ คอยแนะนำสั่งสอนให้เป็นคนดี แต่กลับปฏิบัติตนเองในทางตรงข้าม” คนลักษณะนี้ตรงกับสำนวนว่าอะไร

1. หน้าเนื้อใจเสือ
2. ปากปราศรัยน้ำใจเขียดคือ
3. ปากหวานก้นเปรี้ยว
4. มือถือสาปากถือศีล

62. “อันว่าแก้วกระจกรวมอยู่กับสุวรรณ ย่อมได้แสงจับเป็นเลื่อมพรายคล้ายมรกต ผู้ที่โง่เขลาแม้ได้อยู่ใกล้นักปราชญ์ ก็อาจเป็นเป็นคนเจลียวฉลาดได้ฉันเดียวกัน”

คำประพันธ์ข้างต้นใช้โวหารประเภทใด

1. บรรยายโวหาร
2. พรรณนาโวหาร
3. สาธกโวหาร
4. อุปมาโวหาร

63. บ้านเลขที่ “90/221” อ่านว่าอย่างไร

1. เก้าสิบทับสองสองหนึ่ง
2. เก้าศูนย์ทับสองสองหนึ่ง
3. เก้าสิบทับสองร้อยยี่สิบเอ็ด
4. เก้าสิบทับสองร้อยยี่สิบหนึ่ง

64. ข้อใดใช้ภาพพจน์

- |                                   |                             |
|-----------------------------------|-----------------------------|
| 1. พระโหยหวนครวญเพลงวังเวงจิต     | ให้คนคิดถึงถิ่นถวิลหวัง     |
| 2. ว่าจากเรือนเหมือนนกกจากรัง     | อยู่ข้างหลังก็แลชะเง้อคอย   |
| 3. ถึงยามค่ำย่าม้องจะร้องไห้      | รำพึงไร้อัจฉริยะจนหวนละห้อย |
| 4. โอ้อยามดึกดาวเคลื่อนดาวก็คล้อย | น้ำค้างย้อยเย็นน้ำที่อัมพร  |

65. ถ้าท่านได้รับเชิญไปบรรยายเรื่อง “หยุดหวัด 2009” ท่านควรต้องเตรียมข้อมูลในประเด็นใด

1. สถิติผู้ป่วยในต่างประเทศและในประเทศไทย
2. นิยามความหมาย แหล่งกำเนิดโรค การแพร่ระบาด
3. อาการของโรค การติดต่อ การป้องกันและการรักษา
4. ขั้นตอนการรักษา การใช้ยา การดูแลผู้ป่วย

66. As soon as it....., those flowers turn colorful.

- |         |          |           |              |
|---------|----------|-----------|--------------|
| 1. rain | 2. rains | 3. rained | 4. will rain |
|---------|----------|-----------|--------------|

67. Either You or I ..... The best actor of this year.

- |        |       |       |          |
|--------|-------|-------|----------|
| 1. are | 2. is | 3. am | 4. to be |
|--------|-------|-------|----------|

68. .... too small.

- |                  |                   |
|------------------|-------------------|
| 1. His jean is   | 2. Her jeans are  |
| 3. This jeans is | 4. These jeans is |

69. Only ..... deserve for the leader

- |            |              |                |              |
|------------|--------------|----------------|--------------|
| 1. a brave | 2. the brave | 3. a brave man | 4. brave man |
|------------|--------------|----------------|--------------|

70. The party ..... be held next week.

- |         |          |         |          |
|---------|----------|---------|----------|
| 1. must | 2. would | 3. will | 4. shall |
|---------|----------|---------|----------|

71. Try to think of \_\_\_\_\_ people, not just yourself. That's \_\_\_\_\_ good rule in left, isn't it?

- |                    |                      |
|--------------------|----------------------|
| 1. other-another   | 2. another-the-other |
| 3. the-other-other | 4. other-other       |

72. Let me ask him to accompany you, \_\_\_\_\_?

- |             |             |
|-------------|-------------|
| 1. shall I  | 2. will you |
| 3. shall we | 4. will he  |

73. Suda always \_\_\_\_\_ to school.

- |               |           |
|---------------|-----------|
| 1. walk       | 2. walks  |
| 3. is walking | 4. walked |

74. \_\_\_\_\_ would you like to drink?

- |              |             |
|--------------|-------------|
| 1. How often | 2. What     |
| 3. How much  | 4. How many |

75. A : Is it poison?

B: Yes, you \_\_\_\_\_ drink it.

- |            |               |
|------------|---------------|
| 1. may not | 2. need to    |
| 3. must to | 4. should not |

76. Pirates used to ..... And rob ships.

- |           |               |
|-----------|---------------|
| 1. hoagy  | 2. accumulate |
| 3. attack | 4. assure     |

77. Her mother is \_\_\_\_\_.

1. a very little sweet old lady
2. a very sweet little old lady
3. a very old little sweet lady
4. a very little old sweet lady

78. Ken works at the same place with \_\_\_\_\_.

- |        |         |          |             |
|--------|---------|----------|-------------|
| 1. you | 2. your | 3. yours | 4. yourself |
|--------|---------|----------|-------------|

79. Mai is my friend. \_\_\_\_\_ is an actress.

- |        |        |         |            |
|--------|--------|---------|------------|
| 1. Her | 2. She | 3. Hers | 4. Herself |
|--------|--------|---------|------------|

80. .... are looking for the lost car.

- |                |                |
|----------------|----------------|
| 1. My relative | 2. My cousin   |
| 3. The police  | 4. The suspect |

81. There are so many ..... in the sky.

- |        |         |          |          |
|--------|---------|----------|----------|
| 1. sun | 2. moon | 3. stars | 4. cloud |
|--------|---------|----------|----------|

82. .... you have a new passport, you can not go abroad.

1. so                                      2. so that                                      3. although                                      4. unless

83. Choowy bought a new mercidez ..... he can pick his girlfriend up after work.

1. so that                                      2. although                                      3. as if                                      4. where

84. Two months ..... ideal for a trip to Europe.

1. is                                      2. are                                      3. have been                                      4. were

85. A: Oh, what a beautiful skirt!

B: \_\_\_\_\_

1. Thanks, you're so sweet.                                      2. I can't believe what you said.  
3. That sounds terrible                                      4. Are you kidding?

86. Children often get grass ..... On their clothes when they play outdoors.

1. skeleton                                      2. symptom  
3. temporary                                      4. stains

87. He ..... Ice cream and never seems to get enough of it.

1. cries                                      2. provides  
3. craves                                      4. recall

88. I \_\_\_\_\_ to the movie tonight.

1. will go                                      2. 'm going                                      3. go                                      4. must

89. The phone \_\_\_\_\_ while I was having dinner.

1. ring                                      2. rings                                      3. rang                                      4. ringing

90. .... you ever ..... To Pattaya?

1. Are, been                                      2. Are, gone  
3. Were, going                                      4. Have, been

## Passage VII

Dear Mr.Black :

Apple fund Company specializes in brokering the very best deals for businesses around the world. We make smart investments, which means we look to both large corporations and to small businesses when making decisions. I am a manager and it is my job to introduce to you some of our exciting business opportunities. This is a chance your investment portfolio.

Our staff has a lot of experience working with people from all backgrounds. We are here to explain different investment options and to help people make the most of their funds. This is why you should consider trusting us with your money. We have a stellar reputation for helping people increase their nest egg.

You can find out more information about our company. Staff, and service by visiting [www.applefund.com](http://www.applefund.com) you can also call or email us if you want to talk to one of our experienced strategists. I hope you will give us the opportunity to work with us. Thank you for your time Sincerely.

91. What is the main purpose of this letter?

1. To introduce Apple Fund Company.
2. To explain different investment options.
3. To talk about experienced strategists.
4. To cooperate with small businesses

92. What the letter is related to ?

1. brokering for businesses around the world.
2. financial investing
3. a stellar reputation of the company
4. exciting business opportunities

93. From the 2<sup>nd</sup> paragraph, what is the reason for investor or invest with Apple Fund Company?

1. The company have experiences with many kinds of people.
2. There are many investment option.
3. There is the outstanding reputation in financial investing.
4. all mentioned above.

94. What can the word 'nest egg' from the 2<sup>nd</sup> paragraph be described as ?

1. An egg left in the prevent the hen from forsaking it.
2. Money set aside in a special fund to be used for special occasions.
3. A real or artificial egg left in a nest to induce hens to lay eggs there.
4. Unspecified amounts of money.

95. If Mr.Black found out more information on the company's website which one was NOT be found on the website?

1. Director of the company
2. Investment option
3. Company's strategy
4. How to trade in Apple Fund

96. Together you will have power, But if you quarrel and separate, you will be weak.

1. collection
2. devotion
3. quality
4. unity

97. Either the movie or the play \_\_\_\_\_ goo4. I can't remember.

1. is
2. are
3. were
4. was

98. What would you rather \_\_\_\_\_ tonight?

1. will do
2. would do
3. have do
4. do

99. I was tried when I \_\_\_\_\_ the station.

1. arrive at
2. arriving at
3. arrived on
4. arrived at

100. We \_\_\_\_\_ London very early in the morning.

1. arrive at
2. arriving at
3. arrived on
4. arrived at

101. Have a court order to live separately from your spouse?

1. a writer
2. a divorcee
3. a runner
4. a player

102. Do you want to talk to my father \_\_\_\_\_ my mother?

1. or
2. between
3. after
4. but

103. You see this sign \_\_\_\_\_.

1. inside the car
2. at the zoo
3. in the circus
4. on the machine



104. Where can you see this sign?



1. oven
2. Washing machine
3. Bucket
4. Refrigerator



105. What is true according to this sign?



1. Car minimum speed limits 80 miles per hour.
2. Car maximum speed limits 80 miles per hour.
3. Truck minimum speed limits 80 miles per hour.
4. Every kind of vehicles maximum speed limits 80 miles per hour.

106. ซอฟต์แวร์หมายถึงข้อใด

1. เป็นระบบปฏิบัติการวงจรคอมพิวเตอร์ชนิดหนึ่ง
2. เป็นชุดคำสั่งหรือโปรแกรมที่เขียนขึ้นเพื่อให้คอมพิวเตอร์
3. เป็นหน่วยคำนวณประมวลผลและบันทึกคำสั่งอัตโนมัติของคอมพิวเตอร์
4. ถูกทุกข้อ

107. Output หมายถึงข้อใด

1. หน่วยรับข้อมูล
2. หน่วยส่งข้อมูล
3. หน่วยแสดงผล
4. หน่วยบันทึกผล

108. จดหมายส่งไปแล้วถูกตีกลับจะอยู่ที่ใด

1. Junk
2. Drafts
3. Inbox
4. Delete

109. ข้อใดคือประเภทของซอฟต์แวร์

1. ซอฟต์แวร์ระบบ
2. ซอฟต์แวร์ประยุกต์
3. ซอฟต์แวร์โปรแกรม
4. ข้อ 1. และ 2. ถูก

110. Full Screen Reading คืออะไร

1. ปิดหน้าจอมูมมอ
2. มูมมอแบบเครื่องจอ
3. อ่านเอกสารบนหน้าจอ
4. มูมมอแบบเต็มจอ

111. การสร้างตารางโดยกำหนดขนาดของตารางเป็น 3 x 4 Table มีความหมายตรงกับข้อใด

1. 3 Cells , 4 Rows
2. 3 Columns , 4 Lines
3. 3 Records , 4 Fields
4. 3 Columns , 4 Rows

112. การเปิดใช้พอร์ต 8080 ส่วนมากผู้ควบคุมระบบเปิดใช้ทำอะไร

- |                |                 |
|----------------|-----------------|
| 1. Web sever   | 2. Proxy Server |
| 3. Mail Server | 4. File Server  |

113. Bitt Torrent ให้บริการเรื่องใดเด่นชัดที่สุด

1. การบริการอีเมลล์
2. ขายสินค้าออนไลน์
3. บริการแชร์แฟ้มข้อมูลระหว่างเพื่อนถึงเพื่อน
4. บริการสืบค้นเว็บไซต์

114. ถ้าต้องการพิมพ์ชื่อเว็บไซต์ จะต้องพิมพ์ตำแหน่งใดในโปรแกรมเรียกดูเว็บไซต์

- |                |               |
|----------------|---------------|
| 1. address Bar | 2. Title Bar  |
| 3. Status Bar  | 4. Scroll Bar |

115. อินเทอร์เน็ตไร้สายเกี่ยวข้องกับชื่อใดมากที่สุด

- |              |         |
|--------------|---------|
| 1. Fire Wire | 2. USB  |
| 3. Wi-fi     | 4. 1394 |

116. การติดต่อสื่อสารในข้อใด ที่ไม่นิยมทำได้ในระบบเครือข่ายคอมพิวเตอร์

- |            |            |
|------------|------------|
| 1. ภาพนิ่ง | 2. ข้อความ |
| 3. เสียง   | 4. ภาษามือ |

117. โปรแกรมใดที่ใช้ในการดูเอกสารข้อความเบื้องต้น

- |           |                 |
|-----------|-----------------|
| 1. Access | 2. Media Player |
| 3. Paint  | 4. Wordpad      |

118. Internet หมายถึงอะไร

1. เครือข่ายคอมพิวเตอร์ที่ต่อเชื่อมกันในระยะใกล้ๆ
2. เครือข่ายคอมพิวเตอร์ขนาดใหญ่ที่เชื่อมต่อกันทั่วโลก
3. เครือข่ายคอมพิวเตอร์ขนาดเล็กที่เชื่อมต่อกันทั่วโลก
4. เครือข่ายคอมพิวเตอร์ขนาดใหญ่ที่เชื่อมต่อกันภายในประเทศ

119. จงเรียงระดับหน่วยของข้อมูล จากน้อยไปหามาก

1. Bit : Byte : Gigabyte : Megabyte : Terabyte
2. Kilobyte : Megabyte : Gigabyte : Terabyte
3. Kilobyte : Byte : Megabyte : Gigabyte : Terabyte
4. Kilobyte : Megabyte : Terabyte : Gigabyte

120. www ย่อมาจากอะไร

1. Worjd Wide Web
2. World Wide Web
3. Word Wide Web
4. Wold Wide Web

121. ข้อใดไม่ใช่ลักษณะบริการของ e-Banking

1. อาศัยเช็ค
2. บริการสินเชื่อส่วนบุคคล
3. นำเงินสดฝากเข้าบัญชีตนเองผ่านอินเทอร์เน็ต
4. สอบถามยอดคงเหลือในบัญชี

122. ข้อใดเป็นอุปกรณ์ที่ใช้เชื่อมต่อเครือข่ายสองระบบเข้าหากัน

1. HUB
2. Connector
3. Router
4. Switch

123. ข้อใดคือการใช้อักษรมาแทนตัวเลขไอพีแอดเดรสเพื่อให้เกิดการจดจำที่ง่ายขึ้น

1. DNA
2. DNS
3. DINA
4. DDT

124. [s15550036@student.rit.ac.th](mailto:s15550036@student.rit.ac.th) ข้อความ s1555036 หมายถึงข้อใด

1. Domain Name
2. Password
3. Sub Domain
4. Username

125. ไฟล์ที่ถูกบีบอัดด้วยโปรแกรม WinZip จะมีส่วนขยายหรือนามสกุลไฟล์ตามข้อใด

1. .doc
2. .zip
3. .com
4. txt

126. หากปรากฏอักขระพิเศษ ##### ในช่องเซลล์ มีความหมายว่าอย่างไร

1. สูตรที่ป้อนนั้นไม่ถูกต้อง
2. สูตรที่ป้อนนั้นอ้างอิงตำแหน่งเซลล์ผิดที่
3. ขนาดความกว้างของคอลัมน์นั้นน้อยเกินไปทำให้ข้อมูลในเซลล์แสดงไม่ครบ
4. เซลล์ที่ใช้ในการคำนวณมิได้ประกอบด้วยตัวเลข

127. อุปกรณ์ที่ไม่จำเป็นที่นำมาใช้ร่วมกับคอมพิวเตอร์สำหรับการเชื่อมต่ออินเทอร์เน็ตแบบส่วนบุคคล คือ  
ข้อใด

1. สแกนเนอร์
2. การเปิดบัญชีใช้งานอินเทอร์เน็ตกับ ISP
3. โมเด็ม
4. คู่สายโทรศัพท์

128. จุดบกพร่องของโปรแกรมเรียกว่าอะไร

1. Bug
2. Debug
3. Compile
4. Run

129. คำว่า PC ย่อมาจากอะไร

1. Piority Computer
2. Pocker Computer
3. Personal Computer
4. Protocal Computer

130. จงเรียงลำดับหน่วยของข้อมูล จากน้อยไปหามาก

1. Bit : Byte : Gigabyte : Megabyte : Terabyte
2. Kilobyte : Megabyte : Gigabyte : Terabyte
3. Kilobyte : Byte : Megabyte : Gigabyte : Terabyte
4. Kilobyte : Megabyte : Terabyte : Gigabyte

131. ถ้าไม่มีเงินเสียค่าปรับ ต้องทำเช่นไร

1. กักขัง โดยกำหนดอัตรา 200 บาทต่อวัน
2. ให้ทำงานบำเพ็ญประโยชน์ ตามกฎหมายกำหนด
3. กักขัง โดยกำหนดอัตรา 200 บาทต่อวัน
4. ผ่อนชำระเป็นงวดตามแต่ตกลงกับเจ้าหน้าที่

132. การพิจารณาร่างพระราชบัญญัติของสภาผู้แทนราษฎรมีทั้งหมดกี่วาระ

1. 2 วาระ
2. 3 วาระ
3. 4 วาระ
4. 5 วาระ

133. ข้อใดเป็นโทษที่ผู้กระทำผิดทางแพ่งพึงได้รับ

1. กักขัง
2. ริบทรัพย์สิน
3. จำคุก
4. ชดใช้ค่าเสียหาย

134. สาเหตุที่ทำให้นิติกรรมเป็นโมฆะ ได้แก่

1. ไม่เป็นไปตามแบบที่กฎหมายกำหนด
2. เกิดจากการข่มขู่
3. เกิดจากการสำคัญผิดคุณสมบัติของบุคคล
4. ถูกทุกข้อ

135. ข้อใดไม่ใช่ทรัพย์สินมรดก

1. เงินประกันชีวิตเนื่องจากเสียชีวิต
2. บ้านของผู้เสียชีวิต
3. เงินปันผลจากบัญชีนายแดง ซึ่งได้ก่อนเสียชีวิต
4. ไม่มีข้อใดถูก

136. ในคดีความผิดอันยอมความได้ ผู้เสียหายต้องร้องทุกข์ภายในเวลาเท่าใด

1. ภายในกำหนด 3 เดือนนับแต่วันรู้เรื่องกระทำความผิด
2. ภายในกำหนด 3 เดือนนับแต่วันที่รู้ตัวผู้กระทำความผิด
3. ภายในกำหนด 3 เดือนนับแต่วันรู้เรื่องกระทำความผิดและรู้ตัวผู้กระทำความผิด
4. ภายในกำหนด 1 ปีนับแต่กระทำความผิด

137. ข้อใดคือดอกผลนิติินัย

1. ผลมะม่วง
2. เงินปันผล
3. เงินฝากธนาคาร
4. เงินค่าขายบ้าน

138. บงกชเป็นเจ้าหน้าที่การเงินโรงแรมแห่งหนึ่งได้นำเงินของ โรงแรมไปใช้ส่วนตัวบงกชผิดฐานใด

1. ลักทรัพย์
2. นื้อ โกง
3. ยักยอกทรัพย์
4. เบียดบังทรัพย์

139. ข้อใดทำให้สังคมไม่เป็นระเบียบ

1. สังคมไม่ทันสมัย
2. สังคมที่เจริญแล้ว
3. การคุมกำเนิดไม่ได้ผล
4. การควบคุมสมาชิกของสังคมไม่ได้

140. อะไรไม่ใช่สาเหตุการแบ่งชนชั้นในสังคมไทย

1. อาชีพ
2. ความร่ำรวย
3. สีผิว
4. ระดับการศึกษา

141. ข้อใดไม่ใช่ลักษณะสำคัญของสถาบันทางสังคม

1. สถาบันสังคมเป็นนามธรรม สถาบันสังคมไม่ใช่ตัวบุคคลหรือกลุ่มคน ไม่ใช่สิ่งของ แต่เป็นแบบแผนพฤติกรรมซึ่งกำหนดขึ้นเพื่อเป็นแบบแผนในการปฏิบัติร่วมกันของสมาชิกทุกคน
2. สถาบันสังคมจำนวนสมาชิกที่ชัดเจน การเข้าออกต้องได้รับความยินยอมจากสมาชิก
3. สถาบันสังคมเกิดขึ้นเพื่อสนองความต้องการในด้านต่างๆ ร่วมกันของสมาชิกในสังคม และเพื่อการคงอยู่ของสังคม
4. สถาบันสังคมเกิดการยอมรับร่วมกันของสมาชิกในสังคม สถาบันสังคมจึงเป็นระเบียบแบบแผนพฤติกรรมที่ชัดเจน และเปลี่ยนแปลงได้ยาก เนื่องจากเกิดขึ้นโดยการยอมรับร่วมกันของสมาชิกในสังคม

142. การสร้างความสมดุลของแนวคิดเศรษฐกิจพอเพียงเน้นให้เกิดกับสิ่งใดมากที่สุด

1. ความสมดุลระหว่างมนุษย์กับสิ่งแวดล้อม
2. ความสมดุลระหว่างสินค้าต่างประเทศกับสินค้าไทย
3. ความสมดุลระหว่างอุตสาหกรรมกับเกษตรกรรม
4. ความสมดุลของความเจริญทางเทคโนโลยีกับภูมิปัญญาไทย

143. ปัญหาการทำลายทรัพยากรและสิ่งแวดล้อมในประเทศไทย มีสาเหตุสำคัญมาจากสิ่งใด

1. การเร่งรัดในการพัฒนาเศรษฐกิจ
2. ความทันสมัยของเทคโนโลยี
3. การพัฒนาทางการศึกษาอย่างรวดเร็ว
4. เกิดภัยพิบัติจากธรรมชาติอยู่เป็นประจำ

144. ข้อใดคือเป็นการควบคุมทางสังคม

1. นาย 1. ถูกไล่ออกจากหมู่บ้าน เนื่องจากมักจะเป็นชู้กับคนที่มีครอบครัวแล้ว
2. นาย 2. เป็นคนขับแท็กซี่ที่ได้รับการเชิดชู เนื่องจากเก็บเงินแล้วคืนเจ้าของ
3. นาย ขาว มักถูกชาวบ้านนินทาให้ร้าย เนื่องจากชอบเล่นการพนันในงานเทศกาลทางศาสนา
4. ถูกทุกข้อ

145. ความจริง หรือความเสื่อมของสังคม วัดได้จากอะไร

1. ค่านิยม
2. วัฒนธรรม
3. ความสามัคคี
4. กฎหมายระเบียบข้อบังคับ

146. ข้อใดไม่ใช่สังคม ตามความหมายสังคมศาสตร์

1. หมู่บ้านพฤษภา ประกอบด้วยบ้าน 100 หลังคาเรือน
2. จำนวนประชาชน จำนวน 50 คน ยืนรอรถเมล์สายเดียวกัน
3. ผู้ชุมนุมทางการเมือง 20 คน
4. นักเรียนโรงเรียนนายสิบตำรวจ ซึ่งมาจากต่างพื้นที่

147. ข้อใดเป็นเป้าหมายหลักเศรษฐกิจพอเพียงที่สำคัญที่สุด

1. ชาตிர่ำรวยทัดเทียมประเทศมหาอำนาจ
2. ประชาชนมีฐานะทางเศรษฐกิจดีร่ำรวยเท่าเทียมกันทุกคน
3. ประเทศชาติสามารถพึ่งตนเองได้ในระยะยาว
4. ประชาชนหลุดพ้นจากความทุกข์

148. ข้อใดไม่ใช่วิธีการตัดระเบียบทางสังคม

1. บรรทัดฐาน
2. สถานภาพ บทบาท และการจัดชั้นยศ
3. คำนิยาม
4. การลงทะเบียนสมาชิกของสังคม

149. พิธีกรรมทางศาสนาคริสต์ที่สำคัญที่สุด

1. พิธีเรียกขวัญ
2. พิธียอมรับพระเยซูเป็นที่พึ่งสูงสุด
3. พิธีรับพรจากรักบวชในศาสนา
4. พิธีศีลล้างบาป

150. ประเพณีบายศรีสู่ขวัญมักพบอยู่ทุกจังหวัดทั้งภาคเหนือและอีสาน คำว่า “บายศรี” หมายถึงสิ่งใด

1. ดอกไม้
2. พาน
3. ข้าว
4. ค้ายขาว

### แบบประเมินตนเอง สายปราบปราม

วิชา	ข้อ	ทำได้	คิดเป็นเปอร์เซ็นต์	หมายเหตุ
1. ความสามารถทั่วไป	40		$\frac{\quad}{40} \times 100 = \underline{\quad}$	
2. ภาษาไทย	25		$\frac{\quad}{25} \times 100 = \underline{\quad}$	
3. ภาษาต่างประเทศ (ภาษาอังกฤษ)	40		$\frac{\quad}{40} \times 100 = \underline{\quad}$	
4. เทคโนโลยีสารสนเทศ	25		$\frac{\quad}{25} \times 100 = \underline{\quad}$	
5. กฎหมายที่ประชาชนควรรู้	10		$\frac{\quad}{10} \times 100 = \underline{\quad}$	
6. สังคม วัฒนธรรม จริยธรรม	10		$\frac{\quad}{10} \times 100 = \underline{\quad}$	
รวม	150		$\frac{\quad}{150} \times 100 = \underline{\quad}$	



### แบบประเมินเชิงเส้น

(คะแนนที่ได้)



ช่องใส่คะแนน

0	1	2	3	4	5	6	7	8	9	10
---	---	---	---	---	---	---	---	---	---	----

NINE100.COM

ทดสอบความรู้ความสามารถ ด้วยวิธีสอบข้อเขียน ข้อสอบปรนัย 4 ตัวเลือก

เฉลยข้อสอบชุดที่ 8

1	3.	26	2.	51	1.	76	3.	101	2.	126	3.
2	3.	27	3.	52	2.	77	2.	102	1.	127	1.
3	4.	28	1.	53	4.	78	1.	103	4.	128	1.
4	2.	29	1.	54	3.	79	2.	104	1.	129	3.
5	2.	30	1.	55	1.	80	3.	105	4.	130	2.
6	3.	31	2.	56	4.	81	3.	106	2.	131	3.
7	2.	32	3.	57	4.	82	4.	107	3.	132	2.
8	3.	33	4.	58	4.	83	1.	108	2.	133	4.
9	4.	34	2.	59	1.	84	1.	109	4.	134	1.
10	1.	35	2.	60	3.	85	1.	110	4.	135	1.
11	2.	36	3.	61	4.	86	4.	111	4.	136	3.
12	4.	37	4.	62	4.	87	3.	112	2.	137	2.
13	3.	38	3.	63	1.	88	2.	113	3.	138	3.
14	2.	39	1.	64	2.	89	3.	114	1.	139	4.
15	1.	40	2.	65	3.	90	4.	115	3.	140	3.
16	4.	41	2.	66	2.	91	1.	116	4.	141	2.
17	3.	42	4.	67	3.	92	2.	117	4.	142	4.
18	3.	43	4.	68	2.	93	4.	118	2.	143	3.
19	1.	44	4.	69	2.	94	2.	119	2.	144	4.
20	2.	45	2.	70	1.	95	4.	120	.	145	2.
21	1.	46	2.	71	1.	96	4.	121	3.	146	2.
22	4.	47	1.	72	3.	97	4.	122	3.	147	3.
23	4.	48	3.	73	2.	98	4.	123	2.	148	4.
24	2.	49	2.	74	2.	99	1.	124	1.	149	4.
25	1.	50	4.	75	3.	100	1.	125	2.	150	3.

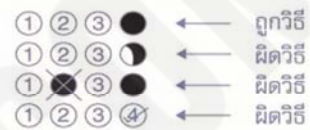
# กระดาษคำตอบ

**NINE100.COM**

## คำแนะนำ

- ใช้ดินสอดำ 2B ขึ้นไป ระบายวงกลมทุกวงที่ต้องการให้ดำเต็มวง
- ถ้าต้องการแก้ไข ให้ใช้ยางลบลบให้สะอาดก่อน จึงระบายวงใหม่
- ห้ามขีดเขียนสิ่งอื่นใดนอกเหนือจากที่ระบุไว้

## ตัวอย่าง



1 ① ② ③ ④	26 ① ② ③ ④	51 ① ② ③ ④	76 ① ② ③ ④	101 ① ② ③ ④	126 ① ② ③ ④
2 ① ② ③ ④	27 ① ② ③ ④	52 ① ② ③ ④	77 ① ② ③ ④	102 ① ② ③ ④	127 ① ② ③ ④
3 ① ② ③ ④	28 ① ② ③ ④	53 ① ② ③ ④	78 ① ② ③ ④	103 ① ② ③ ④	128 ① ② ③ ④
4 ① ② ③ ④	29 ① ② ③ ④	54 ① ② ③ ④	79 ① ② ③ ④	104 ① ② ③ ④	129 ① ② ③ ④
5 ① ② ③ ④	30 ① ② ③ ④	55 ① ② ③ ④	80 ① ② ③ ④	105 ① ② ③ ④	130 ① ② ③ ④
6 ① ② ③ ④	31 ① ② ③ ④	56 ① ② ③ ④	81 ① ② ③ ④	106 ① ② ③ ④	131 ① ② ③ ④
7 ① ② ③ ④	32 ① ② ③ ④	57 ① ② ③ ④	82 ① ② ③ ④	107 ① ② ③ ④	132 ① ② ③ ④
8 ① ② ③ ④	33 ① ② ③ ④	58 ① ② ③ ④	83 ① ② ③ ④	108 ① ② ③ ④	133 ① ② ③ ④
9 ① ② ③ ④	34 ① ② ③ ④	59 ① ② ③ ④	84 ① ② ③ ④	109 ① ② ③ ④	134 ① ② ③ ④
10 ① ② ③ ④	35 ① ② ③ ④	60 ① ② ③ ④	85 ① ② ③ ④	110 ① ② ③ ④	135 ① ② ③ ④
11 ① ② ③ ④	36 ① ② ③ ④	61 ① ② ③ ④	86 ① ② ③ ④	111 ① ② ③ ④	136 ① ② ③ ④
12 ① ② ③ ④	37 ① ② ③ ④	62 ① ② ③ ④	87 ① ② ③ ④	112 ① ② ③ ④	137 ① ② ③ ④
13 ① ② ③ ④	38 ① ② ③ ④	63 ① ② ③ ④	88 ① ② ③ ④	113 ① ② ③ ④	138 ① ② ③ ④
14 ① ② ③ ④	39 ① ② ③ ④	64 ① ② ③ ④	89 ① ② ③ ④	114 ① ② ③ ④	139 ① ② ③ ④
15 ① ② ③ ④	40 ① ② ③ ④	65 ① ② ③ ④	90 ① ② ③ ④	115 ① ② ③ ④	140 ① ② ③ ④
16 ① ② ③ ④	41 ① ② ③ ④	66 ① ② ③ ④	91 ① ② ③ ④	116 ① ② ③ ④	141 ① ② ③ ④
17 ① ② ③ ④	42 ① ② ③ ④	67 ① ② ③ ④	92 ① ② ③ ④	117 ① ② ③ ④	142 ① ② ③ ④
18 ① ② ③ ④	43 ① ② ③ ④	68 ① ② ③ ④	93 ① ② ③ ④	118 ① ② ③ ④	143 ① ② ③ ④
19 ① ② ③ ④	44 ① ② ③ ④	69 ① ② ③ ④	94 ① ② ③ ④	119 ① ② ③ ④	144 ① ② ③ ④
20 ① ② ③ ④	45 ① ② ③ ④	70 ① ② ③ ④	95 ① ② ③ ④	120 ① ② ③ ④	145 ① ② ③ ④
21 ① ② ③ ④	46 ① ② ③ ④	71 ① ② ③ ④	96 ① ② ③ ④	121 ① ② ③ ④	146 ① ② ③ ④
22 ① ② ③ ④	47 ① ② ③ ④	72 ① ② ③ ④	97 ① ② ③ ④	122 ① ② ③ ④	147 ① ② ③ ④
23 ① ② ③ ④	48 ① ② ③ ④	73 ① ② ③ ④	98 ① ② ③ ④	123 ① ② ③ ④	148 ① ② ③ ④
24 ① ② ③ ④	49 ① ② ③ ④	74 ① ② ③ ④	99 ① ② ③ ④	124 ① ② ③ ④	149 ① ② ③ ④
25 ① ② ③ ④	50 ① ② ③ ④	75 ① ② ③ ④	100 ① ② ③ ④	125 ① ② ③ ④	150 ① ② ③ ④

## NINE100.COM

### ทดสอบความรู้ความสามารถ ด้วยวิธีสอบข้อเขียน ข้อสอบปรนัย 4 ตัวเลือก

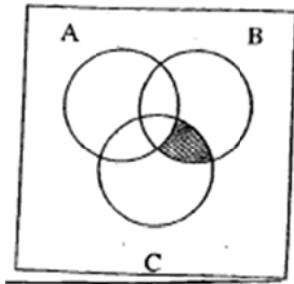
1. รถยนต์คันหนึ่งแล่นออกจากจุดเริ่มต้น เวลา 08.00 น. และวิ่งด้วยอัตราเร็ว 60 กิโลเมตรต่อชั่วโมง ต่อมา รถยนต์อีกคันหนึ่งแล่นออกจากจุดเริ่มต้น เวลา 09.00 น. และวิ่งด้วยอัตราเร็ว 75 กิโลเมตรต่อชั่วโมง ถ้า รถยนต์แต่ละคันวิ่งด้วยอัตราเร็วคงที่เสมอ เวลาเท่าใดที่รถยนต์คันที่สองจะวิ่งทันคันแรก

1. 13.00 น.      2. 13.30 น.      3. 14.00 น.      4. 14.30 น.

2. ให้  $p, q, r$  และ  $s$  เป็นพจน์ โดยที่  $p \rightarrow q$  มีค่าเป็น  $F$   $r \rightarrow s$  มีค่าเป็น  $F$  ประพจน์ใดมีค่าเป็น  $F$

1.  $(p \leftrightarrow r) \rightarrow (q \rightarrow s)$                       2.  $(p \vee q) \rightarrow (r \rightarrow \sim p)$   
3.  $[(p \wedge s) \vee (\sim r)] \rightarrow (r \wedge q)$                       4.  $[(p \rightarrow s) \wedge (r)] \leftrightarrow (r \wedge s)$

3. วงกลมในภาพแทนด้วย เซต  $A, B$  และ  $C$  แล้วส่วนที่แรเงาในภาพคือเซตใด



1.  $A \cap B \cap C$   
2.  $A' \cap (B \cap C)$   
3.  $A' \cap (B \cup C)$   
4.  $(A \cap B) \cup (B \cap C)$

4.  $(A - B) \cup (B - A) \cup (A \cap B)$  เท่ากับเซตใด

1.  $(A' \cap B')$                       2.  $(A \cup B)'$                       3.  $(A - B)'$   
4.  $(A' \cap B)'$

5. ลูกขยันเลี้ยงไก่และหมูไว้ขาย เขานับจำนวนไก่และจำนวนหมูได้ทั้งหมด 120 ตัว แต่เมื่อนับขาของไก่ และหมูรวมกันได้ 440 ขา สัตว์ทั้งสองชนิดมีจำนวนต่างกันเท่าไร

1. 20 ตัว                      2. 60 ตัว                      3. 80 ตัว                      4. 100 ตัว

6. ถ้า  $x^3 = 2$  แล้ว  $8x$  เท่ากับข้อใดต่อไปนี้

1.  $x^5$                                       2.  $x^7$   
3.  $x^{10}$                                       4.  $x^{11}$

7. ค่าของ  $32 - 16 \div 2 \times 4$  มีค่าเท่าใด

1. 0                                      2. 2  
3. 16                                      4. 64

8. ให้  $A = \{1, 3, \{1, 3\}, 4\}$  และ  $P(A)$  แทนเพาเวอร์เซตของ  $A$  ข้อใดต่อไปนี้ผิด

1.  $\{1, 3\} \in A$       2.  $\{\{1, 3\}\} \in A$       3.  $\{1, 3\} \in P(A)$       4.  $\{\{1, 3\}\} \in P(A)$

9. ผลบวกของจำนวนที่อยู่ระหว่าง 100 กับ 280 ที่หารด้วย 9 ลงตัวมีค่าเท่ากับข้อใดต่อไปนี้

1. 3670      2. 3770      3. 3870      4. 3970

10. ถ้านำตัวอักษรทั้งหมดจากคำว่า “AVATAR” มาจัดเรียงเป็นคำต่างๆ โดยไม่จำเป็นต้องมีความหมาย จะจัดเป็นคำที่แตกต่างกันได้กี่วิธี

1. 720      2. 360      3. 240      4. 120

11. ข้อใดต่อไปนี้ไม่มีค่าเฉลี่ยเลขคณิต มัธยฐาน และฐานนิยมเท่ากัน

1. 1, 1, 3, 5, 10      2. 1, 1, 2, 5, 6      3. 1, 3, 3, 3, 5      4. 1, 1, 1, 2, 5

12. ข้อมูลชุดหนึ่งมี  $n$  จำนวน และมีค่าเฉลี่ยเลขคณิตเป็น 11 ถ้ามีข้อมูลค่า 29 เพิ่มอีกหนึ่งจำนวน จะทำให้ค่าเฉลี่ยเลขคณิตกลายเป็น 13 ค่าของ  $n$  คือข้อใดต่อไปนี้

1. 8      2. 9      3. 10      4. 11

13. กำหนดรูปต่อไปนี้



รูปที่ 100 มีจุดมากกว่ารูปที่ 50 กี่จุด

1. 1275      2. 2500      3. 3775      4. 5050

14. พ่อ แม่ และลูก 4 คน รวมทั้งหมด 6 คน นั่งเป็นวงกลม จำนวนวิธีที่พ่อกับแม่จะนั่งไม่ติดกันมีค่าเท่ากับข้อใด

1. 36      2. 48      3. 72      4. 120

15. ลูกบาศก์หนึ่งมีบอลสีขาว 6 ลูก สีดำ 5 ลูก จะมีวิธีหยิบลูกบอลออกจากลูก 4 ลูก โดยมีสีขาว 2 ลูก สีดำ 2 ลูก จะได้กี่วิธี

1. 50 วิธี      2. 100 วิธี      3. 150 วิธี      4. 200 วิธี

16. ถ้าร้านค้าซื้อรถจักรยานมาคันละ 10,000 บาท ได้ตั้งราคาไว้สูงกว่าทุน 10% แต่ในช่วงเทศกาลปีใหม่ ร้านค้าประกาศลดราคาลง 10% ในช่วงเทศกาลปีใหม่ร้านค้าขายรถจักรยานราคาคันละเท่าไร

1. 8,900      2. 9,900      3. 10,000      4. 11,000

17. คนงาน 15 คน ทำงานอย่างหนึ่งเสร็จในเวลา 20 วัน ถ้าคนงานงาออกไป 5 คน จะต้องเพิ่มเวลาที่ % จึงจะเสร็จ

1. 20 %                      2. 30%                      3. 40%                      4. 50%

18. ถ้ารัศมีของวงกลม เพิ่มขึ้น 5% เส้นรอบวงจะมีความยาวเพิ่มขึ้นกี่ %

1. 3 %                                      2. 4%  
3. 5%                                      4. 10%

19. สิบตำรวจตรี กร ตั้งใจจะออมเงินไว้เพื่อซื้อเครื่องกีฬา โดยวันแรกจะออมไว้ 20 บาท วันที่สอง 40 บาท วันที่สาม 80 บาท เป็นเช่นนี้เรื่อยไปจนครบ 10 วัน เขจะมีเงินเก็บที่ได้จากการออมกี่บาท

1. 10,460 บาท                                      2. 18,040 บาท  
3. 20,460 บาท                                      4. 22,440 บาท

20. ถ้ากำหนดลำดับเลขคณิต คือ 21, 18, 15, 12, ... จงหาพจน์ที่ 41

1. -93    2. -96  
3. -99    4. -102

21.  $1 + 2 + 3 + 4 + \dots + 40 = ?$

1. 800    2. 820  
3. 840    4. 860

22. เวลา 16.00 น. เข็มยาวและเข็มสั้น ทำมุมกันกี่องศา

1.  $120^\circ$     2.  $90^\circ$   
3.  $75^\circ$     4.  $60^\circ$

23. ระหว่าง 100 – 300 มีเลขกี่ตัวที่ขึ้นต้นด้วย 2 และลงท้ายด้วย 2

1. 100    2. 40  
3. 20    4. 10

24. ถ้าผลบวกของจำนวนสองจำนวนเท่ากับ 20 และผลคูณของสองจำนวนนั้นเท่ากับ 64 แล้ว ผลหารของสองจำนวนนั้นที่เป็นจำนวนเต็มเป็นเท่าไร

1. 1    2. 2    3. 4    4. 64

25. ถ้าอายุของพ่อต่ออายุของปู่เป็น 3 : 5 และปีนี้พ่ออายุ 75 ปี พ่ออายุน้อยกว่าปู่กี่ปี

1. 20    2. 27  
3. 29    4. 30

26. เหล้า กับน้ำผสมกันในอัตราส่วน 2 : 8 ทั้งหมด 20 ลิตร ถ้าจะให้เป็นเหล้า 50% คือให้มึเหล้ากับน้ำผสมกันอัตราส่วน 5 : 5 จึงต้องเติมเหล้าอีกกี่ลิตร

1. 10 ลิตร

2. 12 ลิตร

3. 14 ลิตร

4. 16 ลิตร

27. ถังใบหนึ่งมีท่อน้ำเข้า 1 ท่อ และท่อน้ำไหลออกมา 1 ท่อ ถ้าใช้เวลา  $a$  ชั่วโมง เปิดท่อน้ำเข้าท่อเดียวจะได้น้ำเต็มถึงพอดี และถ้ามีน้ำอยู่เต็มถึง เปิดท่อน้ำออกท่อเดียวน้ำจะไหลออกมาในเวลา  $b$  ชั่วโมง ถ้าเปิดทั้ง 2 ท่อพร้อมกัน น้ำจะเต็มในเวลาเท่าใด

1.  $\frac{ab}{a-b}$

2.  $\frac{ab}{b-a}$

3.  $\frac{ab}{a+b}$

4.  $\frac{a+b}{2}$

28. กำหนดเวลาเดินทางของรถโดยสาร 3 สาย ในสถานีแห่งหนึ่งระบุว่าเที่ยวแรกของแต่ละสายออกพร้อมกันเวลา 5.00 น. สายที่ 1 จะออกทุก ๆ 20 นาที สายที่ 2 จะออกต่อไปทุก ๆ 45 นาที และสายที่ 3 จะออกไปทุก ๆ 60 นาที อยากรทราบว่า รถทั้ง 3 สาย กำหนดออกพร้อมกันอีกครั้งในเวลาใด

1. 9.00 น.

2. 8.30 น.

3. 8.00 น.

4. 7.30 น.

29. สำนักงานตำรวจทำการจับกุมไม้ซุงเถื่อน มาจำนวนหนึ่ง ซึ่งทำการแปรรูปเป็นท่อนเรียบร้อยแล้ว นำมาวางกองเป็นรูปสามเหลี่ยม โดยที่แถวล่างสุดมีจำนวน 28 ท่อน แถวถัดมามี 27 ท่อน ถัดจากนั้นมี 26 ท่อน เป็นเช่นนี้เรื่อยไปจนถึงยอดสูงสุดมี 1 ท่อน แสดงว่า จับไม้ซุงแปรรูปมาครั้งนี้จำนวนกี่ท่อน

1. 402 ท่อน

2. 406 ท่อน

3. 408 ท่อน

4. 412 ท่อน

30. สองเท่าของจำนวนนักเรียนกลุ่มหนึ่งมากกว่า 10 คนอยู่ไม่เกิน 6 คน จำนวนนักเรียนกลุ่มนี้จะไม่เท่ากับจำนวนใดต่อไปนี้

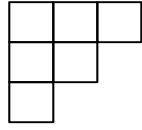
1. 8

2. 7

3. 6

4. 5

31. หากนำรูปสี่เหลี่ยมจัตุรัสขนาด  $1 \times 1$  เรียงต่อกันดังรูป จะเกิดรูปสี่เหลี่ยมมุมฉากขนาดต่างๆ ได้ทั้งหมดกี่รูป



- |       |       |
|-------|-------|
| 1. 13 | 2. 14 |
| 3. 15 | 4. 16 |

32.  $A \oplus B = 2A - 3B + 1$  ดังนั้น  $4 \oplus 2 = ?$

- |      |      |
|------|------|
| 1. 2 | 2. 3 |
| 3. 4 | 4. 5 |

33. ถ้าร้านค้าคิดราคาแก้อื้อไว้ ราคาตัวละ 4,800 บาท จะได้กำไร 20% แต่ถ้าร้านค้าต้องการกำไร 75% ต้องคิดราคาแก้อื้อไว้ตัวละเท่าไร

- |          |          |
|----------|----------|
| 1. 7,000 | 2. 6,500 |
| 3. 6,000 | 4. 5,500 |

34. แก้วอ่านหนังสือเล่มหนึ่ง วันแรกอ่านได้  $\frac{2}{5}$  ของเล่ม วันต่อมาอ่านได้อีก 25 หน้า รวมสองวันอ่านได้

มากกว่าครึ่งเล่ม หนังสือเล่มนี้มีจำนวนหน้าอย่างมากกี่หน้า

- |        |        |
|--------|--------|
| 1. 250 | 2. 249 |
| 3. 248 | 4. 247 |



35. นำจำนวนเต็มบวกไปเขียนเรียงกันเป็นแถว

แถวที่ 1	1				
แถวที่ 2	2	3			
แถวที่ 3	4	5	6		
...	...	...	...	...	...
แถวที่ 10	...	□	...	...	...

จำนวนที่ 2 ของแถวที่ 10 เป็นจำนวนในข้อใด

- |       |       |
|-------|-------|
| 1. 57 | 2. 56 |
| 3. 47 | 4. 46 |

36.  $(102)^2 - (98)^2 = ?$

- |         |         |
|---------|---------|
| 1. 9989 | 2. 9996 |
| 3. 800  | 4. 1004 |

37. จำนวนเลขสามหลักซึ่งหารด้วย 5 ลงตัว และตัวเลขหลักสิบต่างจากเลขหลักร้อย มีจำนวนทั้งหมดกี่จำนวน

- |       |        |        |        |
|-------|--------|--------|--------|
| 1. 81 | 2. 121 | 3. 162 | 4. 242 |
|-------|--------|--------|--------|

38.  $A \# B = \frac{A+B}{2}$  ดังนั้น  $5 \# 1 = ?$

- |      |      |
|------|------|
| 1. 2 | 2. 3 |
| 3. 4 | 4. 5 |

39.  $A \Delta B = 3A + B + 2$  ดังนั้น  $2 \Delta 3 = ?$

- |       |       |
|-------|-------|
| 1. 10 | 2. 11 |
| 3. 12 | 4. 14 |

40. ฤดูมรสุมทำให้ฝนตกหนัก ฝนตกหนักทำให้น้ำท่วม วันนี้ น้ำไม่ท่วม ดังนั้น

1. ไม่มีฝน
2. ไม่ใช่ฤดูมรสุม
3. หน่วยราชการแก้ปัญหา น้ำท่วมไว้แล้ว
4. สรุบไม่ได้

41. ข้อใดถูกต้องยคำถูกต้องตามหลักภาษาไทย

1. พอดตก้าถนหนทางก็จ้าด้วยแสงไฟ
2. สำหรับฉันคิดว่าทองคำที่พบมีค่ามากมายมหาศาล
3. เขาทำงานเป็นมัคคุเทศก์ที่ปรึภยานำเที่ยวแห่งหนึ่ง
4. ทางมหาวิทยาลัยเปิดสอนวิชาเอกใหม่ ๆ หลายวิชา

42. ข้อใดไม่ใช่ลักษณะคำไทยแท้

1. มีการใช้วรรณยุกต์
2. มีการใช้ลักษณนาม
3. เป็นคำพยางค์เดียว
4. ใช้ตัวสะกดตรงตามมาตรา

43. จำนวนข้อใดมีความหมายใกล้เคียงกันมากที่สุด

1. หน้าเนื้อใจเสือ ปากว่าดาขยับ
2. จิงก็ราข่าก็แรง ขนผสมน้ำยา
3. เกี้ยวแฝกมุงป่า ตำนน้ำพริกละลายแม่น้ำ
4. เอาไม้ซีกไปปักไม้ซุง เอาเนื้อหนูไปปะเนื้อช้าง

44. พยัญชนะต้นข้อใดคืออักษรคำคู่ของ “ฐ”

1. ถาม
2. เธอ
3. ฟือ
4. แผน

45. ข้อใดไม่ใช่คำสนธิ

1. มหรรณพ
2. มโหฬาร
3. นเรศวร
4. ธรรมศาสตร์

46. ประโยคในข้อใดมีความหมายกำกวม

1. ใครเดินตามตำรวจมา
2. ใก่อย่างสุกแล้ว
3. ทำไมเธอไม่แต่งงาน
4. คนถือเชือกต้องเป็นคนสาวนะ

47. ประโยคในข้อใดใช้ภาพพจน์อดีพจน์

1. เธอร้องไห้หนักมาก จนน้ำตาท่วมบ้าน
2. โปรดรอสักอึดใจเดียวใกล้จะสำเร็จแล้ว
3. หยาดน้ำตาค้างคลอเคลียกัยต้นหญ้าก่อนลาหายไป
4. แผ่นดินไทยอย่าให้ใครมาคิดแยกแทรกแผ่นดิน

48. ผู้มีอาชีพที่คนทั่วไปนับถือ คอยแนะนำสั่งสอนคนให้เป็นคนดี แต่กลับปฏิบัติตนเองในทางตรงข้าม คนลักษณะนี้ตรงกับสำนวนใด

1. หน้าเนื้อใจเสือ
2. มือถือสาก ปากถือศีล
3. ปากหวานกันเปรี้ยว
4. ปากปราศรัยน้ำใจเชือดคอ

49. ข้อความต่อไปนี้ตรงกับสำนวนใด

“ข่าวความเคลื่อนไหวเกี่ยวกับการปรับเปลี่ยนตัวบุคคลที่จะมาดำรงตำแหน่งรัฐมนตรีแทนนายเชียงใหม่ น่าจะเป็นการปล่อยข่าวเพื่อต้องการทราบว่าจะมีปฏิกริยาอย่างไร”

1. กวนน้ำให้ขุ่น
2. โยนหินถามทาง
3. หว่านพืชหวังผล
4. ปากคนยาวกว่าปากกา

50. คำซ้ำในข้อใดที่มีความหมายไม่เจาะจง

1. ผู้หญิงที่ใส่เสื้อสีขาว ๆ มองคุณอยู่
2. เขาทำได้ดีพอ ๆ กับเพื่อน
3. เขาให้ฉันแต่ของพื้น ๆ
4. กิน ๆ เข้าไปเถอะมันไม่ตายหรอก

51. ประโยคในข้อใดใช้ภาพพจน์บุคลวัต (บุคลาธิษฐาน)

1. เธอร้องไห้หนักมาก จนน้ำตาท่วมบ้าน
2. โปรรอสักอึดใจเดียวก็สำเร็จแล้ว
3. หยาดน้ำค้างกลอเคลียกับต้นหญ้าก่อนลาหายไป
4. แผ่นดินไทยอย่าให้ใครมาคิดแยกแทรกแผ่นดิน

52. ข้อใดใช้คำลักษณนามไม่ถูกต้อง

1. เข็มทุกเล่มต้องใช้อย่างระมัดระวัง
2. จินตหรา พูนลาภ ออกอัลบั้มมากกว่า 50 อัลบั้ม
3. ปี่พาทย์มอญกลุ่มนี้เล่นเพลงมอญร้องไห้ได้ไพเราะจับใจ
4. เจ้าประคุณสมเด็จพระพุทธโฆษาจารย์รูปนี้มีวัตรปฏิบัติที่น่าเลื่อมใส

53. นายตำรวจฝีมือดีท่านนี้ถูกคาดหมายว่าจะมาทำหน้าที่ \_\_\_\_\_ คดีลอบยิงนักการเมืองชื่อดัง

1. แก้วใจ
2. ชำระ
3. พัฒนา
4. สะสาง

54. ยักษ์นั้นทุกเก็บความรู้สึก \_\_\_\_\_ ที่ถูกเหล่าเทวดาอ้อนผมตนเองทุกวัน ๆ ก่อนขึ้นไปยังเขาไกรลาสและหมายมั่นว่าจะหาทางเอาคืนให้สาสมเมื่อมีโอกาส

1. โมโห
2. รวดร้าว
3. ขุ่นเคือง
4. ขุ่นแค้น

55. “เราแสนสุข \_\_\_\_\_ ในบ้านจัด \_\_\_\_\_ สี \_\_\_\_\_ สวยสด หอมคจดงาม \_\_\_\_\_”

ควรเติมคำพ้องเสียงตามข้อใด

- |                          |                            |
|--------------------------|----------------------------|
| 1. สันต์-สรร-สรร-สรรค์   | 2. สันต์-สรร-สัน-สรรพ์     |
| 3. สันต์-สรรค์-สัน-สรรพ์ | 4. สันต์-สรรค์-สรรพ์-สรรค์ |

56. คำในข้อใดสร้างแบบ “เก้าอี้”

- |          |            |           |             |
|----------|------------|-----------|-------------|
| 1. นมแมว | 2. น้ำร้อน | 3. กระดาษ | 4. โทรศัพท์ |
|----------|------------|-----------|-------------|

57. ข้อใดไม่ใช่ลักษณะการย่อความ

- |                                 |                                       |
|---------------------------------|---------------------------------------|
| 1. บอกประเภทของข้อความที่ย่อ    | 2. บอกชื่อเรื่อง                      |
| 3. ใช้คำราชาศัพท์ตามข้อความเดิม | 4. เปลี่ยนคำประพันธ์ตามชนิดของข้อความ |

58. ข้อใดมีคำที่อ่านผิดปรากฏอยู่

- |            |            |             |              |
|------------|------------|-------------|--------------|
| 1. พลียา   | พลี-ยา     | 2. พิชฐาน   | พิค-สะ-ถาน   |
| 3. พิษคณิต | พิช-คะ-นิต | 4. พุมเรียง | พุม-มะ-เรียง |

59. ข้อใดต่อไปนี้เป็นข้อควรระวังกับข้อความต่อไปนี้

“กินแต่ผักสวย ๆ พวกนี้ คนกินสะสมพิษ คนปลูกสะสมหนี้”

1. ผักสวย ๆ พวกนี้อาจใช้ยาฆ่าแมลง
2. ผู้ปลูกผักสวย ๆ พวกนี้ต้องใช้เงินทุนมาก
3. ผักสวย ๆ พวกนี้ไม่มีศัตรูพืชรบกวน
4. ผู้บริโภคผักสวย ๆ พวกนี้ต้องจ่ายเงินมากขึ้น

60.                   เพียงหงส์ทรงพรหมินทร์                   ลินลาศเลื่อนเดือนตาชม

                          อึ่งเล่าเข้าที่ศรีไสยาสน์                   อย่าประมาทคำนับลงกับหมอน

เป็นนิรันดร์สรรเสริญเจริญพร                   คุณบิดรมารดาครูอาจารย์

บทประพันธ์ข้างต้นสะท้อนคุณธรรมในด้านใด

- |               |              |
|---------------|--------------|
| 1. ความประมาณ | 2. ความเจริญ |
| 3. ความกตัญญู | 4. ความดีงาม |

61. ข้อใดมีความหมายชัดเจนมากที่สุด

1. ร้านนี้รับซ่อมนาฬิกาเสีย
2. หมอรักษาตามป่า
3. ของแพงมากขึ้นทุกวัน
4. การประหยัดเป็นนโยบายของรัฐบาล

62. ในข้อความต่อไปนี้ “หัวใจของธุรกิจนี้” มีความหมายตามข้อใด

“หัวใจของธุรกิจนี้แตกต่างจากที่อื่น ซึ่งอาจจะสนใจพัฒนาผลิตภัณฑ์ที่ดีเลิศบ้างขยายเครือข่ายอย่างกว้างขวางบ้าง ส่วนเราต้องยื่นหยัดให้ได้ท่ามกลางความเปลี่ยนแปลงของสภาพแวดล้อม”

1. ความมั่นคงขององค์กร
2. คุณภาพของสินค้า
3. ความมีสัมพันธภาพที่ดี
4. การเติบโตของธุรกิจ

63. “อันสยามเป็นบ้านเกิด เมืองนอน

ดูบิดามารดร เปรียบได้

ยามสุขสโมสร ทุกเมื่อ

ยามศึกทุกซ่ยกไร ปลาตเรน่ถาวร”

ข้อความนี้แสดงสารในลักษณะใด

1. เชิญชวน
2. แนะนำ
3. ตักเตือน
4. โน้มน้าวใจ

64. “โอกาสที่เด็ก ๆ จะได้เล่าเรียนชั้นสูง ๆ นั้น (1) ย่อมไม่มีประตูเปิดไว้สำหรับต้อนรับเด็กผู้ยากจน/ ประตูนั้นจะเปิดออกก็ต่อ (2) เมื่อถูกไขด้วยกุญแจเงินกุญแจทอง”

ข้อใดเป็นแนวคิดสำคัญของข้อความข้างต้น

1. ความสำเร็จในชีวิตกับการศึกษา
2. ความล่มสลายของระบบการศึกษา
3. ความไม่เสมอภาคกันทางการศึกษา
4. การฉ้อราษฎร์บังหลวงในราชการศึกษา

65. ข้อความข้างต้นมีโครงสร้างของการแสดงเหตุผลอย่างไร

1. ข้อความที่ 1 เป็นข้อสนับสนุน ข้อความที่ 2 เป็นข้อสรุป
2. ข้อความที่ 1 เป็นข้อสรุป ข้อความที่ 2 เป็นข้อสนับสนุน
3. ข้อความที่ 1 และ 2 เป็นข้อสนับสนุน ไม่มีข้อสรุป
4. ข้อความที่ 1 และ 2 เป็นข้อสรุป ไม่มีข้อสนับสนุน

“ฝ่ายกองทัพมาซึ่งตั้งมั่นอยู่กับกองทัพมอญนั้น เสบียงก็ขาดสนเบาบางลงด้วยรู้พลมากนัก ทหารทั้งปวงอด  
ข้าวปลาอาหารอดโรยถอยกำลังลง”

66. Sirens always \_\_\_\_\_ me.

- |             |            |
|-------------|------------|
| 1. transfer | 2. vague   |
| 3. startle  | 4. obscure |

67. After you shave your \_\_\_\_\_ you look so young.

- |             |             |
|-------------|-------------|
| 1. mustache | 2. elbow    |
| 3. hair     | 4. eyebrows |

68. He sprained his \_\_\_\_\_ when he fell down the stairs.

- |          |          |
|----------|----------|
| 1. tooth | 2. ankle |
| 3. head  | 4. nose  |

69. Joe was feeling \_\_\_\_\_ after failing his driving test.

- |               |              |
|---------------|--------------|
| 1. pleased    | 2. miserable |
| 3. mysterious | 4. excited   |

70. The heart \_\_\_\_\_ like a pump. It pushes blood to all part of the body.

- |               |              |
|---------------|--------------|
| 1. performs   | 2. functions |
| 3. circulates | 4. moves     |

71. I \_\_\_\_\_ the dish I had broken.

- |             |              |
|-------------|--------------|
| 1. remained | 2. patrolled |
| 3. replaced | 4. untidied  |

72. Darkness \_\_\_\_\_ the forest.

- |             |                |
|-------------|----------------|
| 1. embarked | 2. encouraged  |
| 3. enamaled | 4. encompassed |

73. He was \_\_\_\_\_ by his boomboing laughter.

- |            |                |
|------------|----------------|
| 1. invalid | 2. conspicuous |
| 3. agony   | 4. ponder      |

74. The soup didn't have much flavor: it was too \_\_\_\_\_

- |           |            |
|-----------|------------|
| 1. watery | 2. water   |
| 3. light  | 4. lightly |

75. I can't \_\_\_\_\_ the long separation from my father.

- |            |         |
|------------|---------|
| 1. analyze | 2. bear |
| 3. collide | 4. beat |

76. The Niles River is \_\_\_\_\_ longest of all rivers in Middle East.

- |         |        |         |       |
|---------|--------|---------|-------|
| 1. most | 2. the | 3. than | 4. as |
|---------|--------|---------|-------|

77. Neither of the girls \_\_\_\_\_ accepted his invitation to his birthday party.

- |         |        |
|---------|--------|
| 1. have | 2. has |
| 3. is   | 4. are |

78. Tom \_\_\_\_\_ at 8 o'clock yesterday.

- |                |               |
|----------------|---------------|
| a, was reading | 2. read       |
| 3. reads       | 4. is reading |

79. Suthep \_\_\_\_\_ dinner already.

- |             |            |
|-------------|------------|
| 1. have had | 2. has had |
| 3. has      | 4. had     |

80. Look, the car \_\_\_\_\_ .

- |               |              |
|---------------|--------------|
| 1. comes      | 2. came      |
| 3. was coming | 4. is coming |

81. We \_\_\_\_\_ at the result of Super Bowl game.

- |             |                  |                   |              |
|-------------|------------------|-------------------|--------------|
| 1. surprise | 2. are surprised | 3. are surprising | 4. surprised |
|-------------|------------------|-------------------|--------------|

82. He con me on ..... good grade for exam.

- |        |            |           |        |
|--------|------------|-----------|--------|
| 1. gel | 2. getting | 3. to get | 4. got |
|--------|------------|-----------|--------|

83. Mr. Pasan always comes \_\_\_\_\_ to our party.

- |          |           |
|----------|-----------|
| 1. late  | 2. lately |
| 3. lates | 4. lating |





93. Most of the examinees expect the entrance examination not to be \_\_\_\_\_ hard \_\_\_\_\_ be done successfully.

1. so...that

2. as...as

3. too...to

4. so...as

94. The director had interviewed the two applicants for a scholarship and \_\_\_\_\_ of them was qualified.

1. both

2. either

3. none

4. neither

95. 'The story he told us is a most terrifying one.'

By this we mean that when the story was told \_\_\_\_\_

1. we were terrified.

2. he was terrified by us.

3. we were terrifying.

4. they were terrified.

96. Two friends meet after school.

Steve: I'm going to the movies

Jobs : \_\_\_\_\_

Steve: Thank you.

1. Have fun

2. You're lucky.

3. Would you like to come along?

4. May I try?

97. Your friend is going to study in US. You come to see him at the airport. You say. "\_\_\_\_\_"

1. So long.

2. See you soon.

3. Have fun.

4. Please come again.

98. A: Welcome back from England! \_\_\_\_\_ ?

B: Very cold

A: Too bad! It's been very warm here.

Where is the conversation taking place?

1. At the airport

2. At church

3. At home

4. At the police station

In the classroom

Teacher: This is Maria Gomez She's an exchange student from Brazil

Students: \_\_\_\_\_ 99 \_\_\_\_\_.

Maria: Hello, everybody. : \_\_\_\_\_ 100 \_\_\_\_\_.

99. 1. Can you speak, Maria?

2. Do you know Maria?

3. Goodbye, Mari1.

4. Hello, Maria

100 1. Nice to meet you.

2. Have a nice day.

3. See you tomorrow.

4. Goodbye.

101. You: I have never been here.

Your friend: Oh, this place is great. What do you like?

You: Well, what would you recommend?

Your friend: You should try spicy soup with prawn. You will love it.

what does this situation take place?

1. At church.

2. At a pub

3. At a stationery store

4. At a restaurant

102. You've found the following advertisement in a newspaper. You want to have more information about the price of it. What would you say on the telephone?

Excellent condition, low mileage, new paint, air, radio, tape. Tel. 456-7412 Room 321
---

1. Have you got the price?

2. What do you think of the price?

3. What is the price of the car?

4. Could you please tell me about it?

Dear Whom it may concern :

I am writing a letter of interest in regards to the second grade elementary teaching position at Muberry School. with my educational background and strong curriculum development skills, I will deliver confidence, passion and knowledge to enable each student to reach his or her full potential. Currently, I have completed my Bachelor of Arts in Elementary Education from Blackberry University. While earning my bachelor's degree. I had the opportunity to student teach fourth Grade students at Berry School. During this experience. I created and initiated a wax museum where each student dressed up as a significant character from the Civil War. Collaborating with other teachers, the wax museum resulted in a month-long project where parents and staff came to see the students' final production.

While working with my fourth grade students, I took the time to recognize their various differences and organized lesson plans that accommodated their dynamic learning styles. also became increasingly aware of my individual strengths such as being to motivate students and generate instructional activities My strong rapport with students, parents and coworkers not only benefitted my class but the school at large.

Please consider my resume and completed application as a sincere intent of interest, would greatly appreciate the opportunity to meet with you and further discuss the available position. Thank you for your consideration. and I look forward to speaking with you in the near future.

Sincerely.

C.K.

103. Why was this letter written ?

1. To apply for a job
2. To show educational background.
3. To show experiences with fourth grade students.
4. To discuss the available position in the school.

104. Who could possibly be the writer of this article?

1. a physiologist
2. a teacher
3. an artist
4. an astrophysicist

105. What kind of Mulberry school that indicated in the letter ?

1. elementary school
2. public school
3. secondary school
4. private school

106. ฮาร์ดแวร์คอมพิวเตอร์คืออะไร

1. อุปกรณ์ที่ประกอบขึ้นเป็นเครื่องคอมพิวเตอร์
2. การคำนวณ
3. เครื่องจักรอิเล็กทรอนิกส์ที่ทำงานตามขั้นตอนของโปรแกรม
4. ระบบโปรแกรมการทำงาน

107. ข้อใดเป็นอุปกรณ์รับข้อมูลเบื้องต้น

- |                 |              |
|-----------------|--------------|
| 1. จอภาพ        | 2. คีย์บอร์ด |
| 3. เครื่องพิมพ์ | 4. เคนส์     |

108. ตำแหน่งที่แถวและสดมภ์ตัดกัน เรียกว่าอะไร

- |             |                            |
|-------------|----------------------------|
| 1. Sheet    | 2. Call                    |
| 3. Name Box | 4. Worksheet or Chart Name |

109. การเปลี่ยนชื่อ Sheet 1 ทำได้โดยวิธีใด

1. ดับเบิลคลิกที่ Worksheet แล้วพิมพ์ชื่อใหม่
2. ดับเบิลคลิกที่ Worksheet tab เปลี่ยนชื่อแล้วพิมพ์ชื่อใหม่
3. ดับเบิลคลิกที่ Formatting toolbar แล้วพิมพ์ชื่อใหม่
4. ดับเบิลคลิกที่ Chart Name แล้วพิมพ์ชื่อใหม่

110. ถ้าเปรียบเทียบโครงสร้างข้อมูลกับ EXCEL จำนวนข้อมูลในแนวตั้ง (Column) ของ EXCEL ก็คือจำนวนของอะไรในโครงสร้างข้อมูล

1. หน่วยข้อมูล (Data Item)
2. เขตข้อมูล (Data Field)
3. ระเบียบข้อมูล (Data record)
4. แฟ้มข้อมูล (Data File)

111. ถ้าเปรียบเทียบโครงสร้างข้อมูลกับ EXCEL จำนวนข้อมูลในแนวนอน (Row) ของ EXCEL ก็คือจำนวนของอะไรในโครงสร้างข้อมูล

1. หน่วยข้อมูล (Data Item)
2. เขตข้อมูล (Data Field)
3. ระเบียบข้อมูล (Data record)
4. แฟ้มข้อมูล (Data File)

112. ชุดคำสั่งในระบบคอมพิวเตอร์เรียกว่าอะไร

1. Computer
2. Electronics
3. Instruction
4. Program

113. โปรแกรมที่ใช้ในการวาดรูปภาพ แก้ไขรูปภาพ และตกแต่งภาพให้สวยงามได้ คือข้อใด

1. โปรแกรม Dos
2. โปรแกรม Paint
3. โปรแกรม Note Pad
4. โปรแกรม Scandisk

114. ข้อใดให้ความหมายของคอมพิวเตอร์ได้ถูกต้องที่สุด

1. อุปกรณ์ที่มีหน่วยความจำ จอภาพ คีย์บอร์ดและอื่น ๆ
2. อุปกรณ์ทางอิเล็กทรอนิกส์ ปฏิบัติงานภายใต้การควบคุมของชุดคำสั่ง
3. 2. อุปกรณ์อิเล็กทรอนิกส์ที่มีการทำแบบอัตโนมัติ สามารถแก้ปัญหาต่าง ๆ ได้
4. เครื่องคำนวณอิเล็กทรอนิกส์ที่มีการทำแบบอัตโนมัติทำหน้าที่เหมือนสมองกลสามารถแก้ปัญหาต่าง ๆ ได้ตามคำสั่งของโปรแกรม

115. รูปแบบการเชื่อมโยงเครือข่าย เรียกว่าอะไร

1. เทคโนโลยี
2. อิเล็กทรอนิกส์
3. โทโปโลยี
4. ไคลเอนต์

116. รูปแบบการเชื่อมโยงเครือข่ายที่นิยมใช้กันมากที่สุด คือแบบใด

1. แบบมัส
2. แบบดาว
3. แบบวงแหวน
4. แบบตาข่าย

117. ระบบสารสนเทศมีความสำคัญอย่างไรต่อองค์กร มากที่สุด

1. เป็นระบบที่สนับสนุนการบริหารและการดำเนินงานขององค์กร
  2. เป็นระบบที่ช่วยเพิ่มความเชื่อถือให้กับองค์กร
  3. เป็นระบบที่ช่วยเพิ่มความมั่นคงให้แก่องค์กร
  4. เป็นระบบที่ช่วยเพิ่มกำไร
- จ. ไม่มีข้อใดถูก

118. การป้อนข้อมูลประเภทข้อความ ผลลัพธ์ที่เกิดขึ้นจะเป็นอย่างไร

1. ข้อความจะขีดขวาอัตโนมัติ
2. ข้อความจะขีดกั้นอัตโนมัติ
3. ข้อความจะขีดซ้ายขวาอัตโนมัติ
4. ข้อความจะขีดซ้ายอัตโนมัติ

119. เซลล์ที่กำลังถูกใช้งานเรียกว่าอะไร

1. Formula cell
2. Working cell
3. Active cell
4. Cell

120. ข้อใด ไม่ใช่ ประโยชน์ของ Templates

1. รวดเร็วในการจัดทำเอกสาร
2. ใช้งานง่าย
3. การออกแบบเอกสารจะใช้เวลา นานมากกว่าเอกสารปกติ
4. มีให้เลือกหลายรูปแบบตามความต้องการของผู้ใช้

121. องค์ประกอบของคอมพิวเตอร์มีอะไรบ้าง

1. ฮาร์ดแวร์ (Hardware)
2. ซอฟต์แวร์ (Software)
3. บุคลากร (Peopleware) และข้อมูล (Data)
4. ถูกทุกข้อ

122. เทคโนโลยีสารสนเทศ คือ อะไร

1. การนำเอาความรู้ทางวิทยาศาสตร์มาพัฒนาเป็นองค์ความรู้
2. การประยุกต์เอาความความรู้ทางวิทยาศาสตร์มาจัดการสารสนเทศที่ต้องการ
3. การแสวงหาความความรู้ทางวิทยาศาสตร์มาจัดการสารสนเทศที่ต้องการ
4. การวิเคราะห์และการนำวิธีการจัดการข้อมูลทางวิทยาศาสตร์มาจัดการสารสนเทศที่ต้องการ

123. การ์ดเครือข่ายทำหน้าที่อย่างไร

1. ส่งสัญญาณ
2. รับสัญญาณ
3. แปลงสัญญาณ
4. รับและส่งสัญญาณ

124. การเชื่อมสัญญาณเครือข่ายหลายจุดหลายกลุ่มเครือข่าย ใช้อุปกรณ์ในข้อใด

1. สายเครือข่าย
2. การ์ดเครือข่าย
3. สวิตชิงฮับ
4. เครื่องคอมพิวเตอร์

125. ข้อใดคือสื่อเก็บข้อมูลที่ผู้ใช้สามารถเขียนข้อมูลลงไปได้ แต่ไม่สามารถเขียนซ้ำได้

1. DVD-ROM
2. DVD-RAM
3. DVD-R
4. DVD-RW

126. ส่วนใดในระบบคอมพิวเตอร์ที่ทำหน้าที่คำนวณและเปรียบเทียบ

1. CPU
2. BUS
3. CD
4. RAM


127. ไบส์สินค้าจากลูกค้าคืออะไรในมุมมองของบริษัท

1. ข้อเท็จจริง
2. ข้อมูล
3. สารสนเทศ
4. ถูกทุกข้อ

128. สัญลักษณ์แสดงว่าเป็นการตอบกลับจดหมาย (Reply)

1. 
2. 
3. !
4. 

129. สัญลักษณ์แสดงว่าเป็นการส่งต่อจดหมาย (forward Mail)

1. 
2. 
3. !
4. 

130. ข้อใดคืออีเมลที่ผู้รับไม่ต้องการ

- |               |              |
|---------------|--------------|
| 1. Junk Mail  | 2. Spy Mail  |
| 3. Chain Mail | 4. Free Mail |

131. ต่อไปนี้ข้อใดไม่ใช่ความหมายของ คำสั่งทางปกครอง

- |                             |               |
|-----------------------------|---------------|
| 1. การอนุญาต                | 2. การอนุมัติ |
| 3. การรับรองและการจดทะเบียน | 4. การออกกฎ   |

132. ศาลปกครองมีอำนาจหน้าที่พิจารณาคดีตามข้อใด

1. คดีความขัดแย้งระหว่างประชาชนกับเจ้าหน้าที่ของรัฐ
2. คดีความขัดแย้งระหว่างประชาชนกับหน่วยงานของรัฐ
3. คดีความขัดแย้งระหว่างประชาชนกับรัฐวิสาหกิจหรือเอกชนด้วยกัน
4. คดีความขัดแย้งระหว่างประชาชนกับเจ้าหน้าที่ของรัฐ หรือหน่วยงานของรัฐ

133. อำนาจหน้าที่อัยการตรงกับข้อใด

1. ทนายแผ่นดิน
2. พิจารณาสำนวนการสอบสวนของเจ้าพนักงานสอบสวน
3. พ้องคดีความผิดอาญาแผ่นดิน
4. ถูกทุกข้อ

134. ผู้ใดกระทำการต้องการข่มขืนใจผู้อื่นโดยใช้กำลังประทุษร้ายหรือขู่เข็ญว่าจะทำร้าย และเป็นการกระทำเพื่อประสงค์ให้ผู้อื่นให้หรือยอมมอบให้ในลักษณะทรัพย์สิน ถือเป็นความผิดใด

- |                 |              |
|-----------------|--------------|
| 1. กรรโชกทรัพย์ | 2. ชิงทรัพย์ |
| 3. ปล้นทรัพย์   | 4. ฉ้อโกง    |

135. ปัญหาหมลภาวะในข้อใดที่สำคัญที่สุดในชีวิตประจำวันของมนุษย์

- |                         |                         |
|-------------------------|-------------------------|
| 1. ปัญหาหมลภาวะในน้ำ    | 3. ปัญหาหมลภาวะทางเสียง |
| 2. ปัญหาหมลภาวะทางอากาศ | 4. ปัญหาหมลภาวะในดิน    |

136. ผู้ดูแลผู้ไร้ความสามารถคือ

- |               |                 |
|---------------|-----------------|
| 1. ผู้พิทักษ์ | 2. บิดา มารดา   |
| 3. ผู้อนุบาล  | 4. ตามคำสั่งศาล |



137. ข้อใดไม่ใช่ทรัพย์สินนอกพาณิชย์

1. ที่สาธารณะ
2. กระแสไฟฟ้า
3. ควดคา
4. ปิ่นเถื่อน

138. บุคคลใดเป็นผู้มีสิทธิและอำนาจในการฟ้องคดีอาญาได้

1. ผู้เสียหาย
2. พนักงานสอบสวน
3. พนักงานอัยการ
4. พนักงานอัยการและผู้เสียหาย

139. ใครที่ไม่เข้ากฎเกณฑ์การขอให้ผู้เสมือนไร้ความสามารถ

1. นายแดงดื่มเหล้าเป็นอาจิม
2. นายขาววิกลจริต
3. นายดำหลง ๆ ลืม ๆ ความจำเสื่อม
4. นายฟ้าพิการตาบอดทั้ง 2 ข้าง

140. บุคคลจะสิ้นสภาพไปเมื่อใด

1. นายแดงเสียชีวิต
2. นายขาวไร้ความสามารถอย่างสิ้นเชิง
3. ศาลสั่งเป็นผู้เสมือนไร้ความสามารถ
4. ถูกทุกข้อ

141. ข้อใดมีหน้าที่เกี่ยวข้องกับทุกสถาบัน

1. สถาบันการปกครอง
2. สถาบันเศรษฐกิจ
3. สถาบันการศึกษา
4. สถาบันศาสนา

142. ข้อใดที่สถาบันครอบครัวทำได้ดี

1. การให้ความรักความอบอุ่นแก่สมาชิก
2. การให้วัฒนธรรมแก่สมาชิก
3. การให้ความเชื่อถือแก่สมาชิก
4. การอบรมสมาชิก

143. สิ่งใดถือเป็นการแบ่งชนชั้นในปัจจุบันมากที่สุด

1. ศาสนา
2. เศรษฐกิจ
3. สังคม
4. การศึกษา

144. คำกล่าวข้อใดเหมาะสมกับระบบเศรษฐกิจแบบพอเพียง

1. น้ำขึ้นให้รีบตัก
2. ตนเป็นที่พึ่งแห่งตน
3. มือใครยาวสาวได้สาวเอา
4. เข้าเมืองตาหลิ่ว ต้องหลิ่วตาตาม

145. ข้อใดคือความหมายของเศรษฐกิจแบบพอเพียง

1. การดำรงชีวิตอย่างไม่เดือดร้อน
2. ดำเนินชีวิตแบบหรุพุ่มเฟือย
3. การดำรงชีวิตอย่างสัน โดย ประหยัด อดออม
4. การดำรงชีวิตแบบพึ่งพาตนเอง

146. ตามหลักศาสนาพราหมณ์-ฮินดู สิ่งที่เป็นเป้าหมายสูงสุดของชีวิตคืออะไร

- |           |              |
|-----------|--------------|
| 1. โมกษะ  | 2. สันยาสี   |
| 3. อาตมัน | 4. ปริมาตมัน |

147. สิบตำรวจเอก แดง ยอดเยี่ยม ต้องทำหน้าที่ผู้พิทักษ์สันติราษฎร์เนื่องจากเหตุใด

- |                          |                      |
|--------------------------|----------------------|
| 1. เป็นบรรทัดฐานของสังคม | 2. เป็นสภาพทางสังคม  |
| 3. เป็นความหวังของสังคม  | 4. เป็นบทบาททางสังคม |

148. ข้อใดไม่ใช่หน้าที่ของสถานภาพ

- |                                      |   |
|--------------------------------------|---|
| 1. กำหนดบทบาท                        | 2. ใช้ในการติดต่อร่วมกันสังคมขนาดใหญ่ ๆ |
| 3. ใช้เปรียบเทียบฐานะสูง ต่ำทางสังคม | 4. สร้างความภาคภูมิใจต่อตนเอง           |

149. ข้อใดไม่ใช่ลักษณะของสังคมไทยในปัจจุบัน

- |                       |                                   |
|-----------------------|-----------------------------------|
| 1. สังคมเกษตรกรรม     | 2. สังคมพหุวัฒนธรรม               |
| 3. สังคมเจ้าขุนมูลนาย | 4. สังคมที่รวมอำนาจไว้ที่ส่วนกลาง |

150. หน้าที่ใดของสถาบันครอบครัวไทยได้เปลี่ยนแปลงไปอย่างมาก

- |                                    |                                    |
|------------------------------------|------------------------------------|
| 1. หน้าที่ในการผลิตเชิงเศรษฐกิจ    | 2. หน้าที่ในการให้ความรักแก่สมาชิก |
| 3. หน้าที่ในการกำหนดสถานภาพของบุตร | 4. หน้าที่ในการเลี้ยงดูบุตร        |

### แบบประเมินตนเอง สายปราบปราม

วิชา	ข้อ	ทำได้	คิดเป็นเปอร์เซ็นต์	หมายเหตุ
1. ความสามารถทั่วไป	40		$\frac{\quad}{40} \times 100 = \underline{\quad}$	
2. ภาษาไทย	25		$\frac{\quad}{25} \times 100 = \underline{\quad}$	
3. ภาษาต่างประเทศ (ภาษาอังกฤษ)	40		$\frac{\quad}{40} \times 100 = \underline{\quad}$	
4. เทคโนโลยีสารสนเทศ	25		$\frac{\quad}{25} \times 100 = \underline{\quad}$	
5. กฎหมายที่ประชาชนควรรู้	10		$\frac{\quad}{10} \times 100 = \underline{\quad}$	
6. สังคม วัฒนธรรม จริยธรรม	10		$\frac{\quad}{10} \times 100 = \underline{\quad}$	
รวม	150		$\frac{\quad}{150} \times 100 = \underline{\quad}$	

### แบบประเมินเชิงเส้น

(คะแนนที่ได้)



ช่องใส่คะแนน

0	1	2	3	4	5	6	7	8	9	10
---	---	---	---	---	---	---	---	---	---	----

## NINE100.COM

ทดสอบความรู้ความสามารถ ด้วยวิธีสอบข้อเขียน ข้อสอบปรนัย 4 ตัวเลือก

เฉลยข้อสอบชุดที่ 10

1	1.	26	2.	51	3.	76	2.	101	4.	126	1.
2	2.	27	2.	52	3.	77	2.	102	3.	127	2.
3	2.	28	3.	53	4.	78	1.	103	1.	128	1.
4	1.	29	2.	54	4.	79	2.	104	2.	129	2.
5	3.	30	4.	55	2.	80	4.	105	1.	130	1.
6	3.	31	3.	56	3.	81	2.	106	1.	131	4.
7	1.	32	2.	57	4.	82	2.	107	2.	132	4
8	2.	33	1.	58	3.	83	1.	108	2.	133	4.
9	3.	34	2.	59	4.	84	4.	109	2.	134	1.
10	4.	35	3.	60	3.	85	2	110	2.	135	3.
11	3.	36	3.	61	4.	86	3.	111	3.	136	3.
12	1.	37	3.	62	1.	87	1.	112	4.	137	2.
13	3.	38	2.	63	4.	88	2.	113	2.	138	4.
14	3.	39	2.	64	3.	89	1.	114	4.	139	2.
15	3.	40	2.	65	2.	90	3.	115	3.	140	1.
16	2.	41	3.	66	3.	91	4.	116	2.	141	3.
17	4.	42	3.	67	1.	92	4.	117	1.	142	1.
18	3.	43	2.	68	2.	93	3.	118	4.	143	2.
19	3.	44	2.	69	2.	94	4.	119	3.	144	2.
20	3.	45	4.	70	2.	95	1.	120	3.	145	4.
21	2.	46	4.	71	3.	96	1.	121	4.	146	1.
22	1.	47	1.	72	4.	97	1.	122	4.	147	4.
23	4.	48	2.	73	2.	98	1.	123	4.	148	4.
24	3.	49	2.	74	1.	99	4.	124	3.	149	3.
25	4.	50	1.	75	2.	100	1.	125	3.	150	1.